

考号

考场

姓名

班级

学校

2021 年秋瑞金市小学一年级数学综合练习题

题号	一	二	三	四	五	六	书写 (5分)	总分
得分								



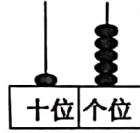
亲爱的小朋友，仔细审题，相信你是最棒的！

一、知识百花园（每空1分，第9题每空2分。共28分）

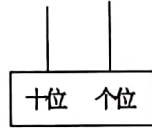
1. 填一填，画一画。



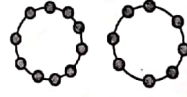
()



()



11



()

2. 1个十和7个一组成的数是(), 读作:()

3. 19的前面一个数是(), 后面一个数是()。

4. 一个数, 个位上是4, 十位上是1, 这个数是()。

5.		19	18		16	15
----	--	----	----	--	----	----

6. 一个加数是7, 另一个加数是2, 和是()。


7. 16中的“1”在十位上, 表示()个十, “6”在()位上, 表示()个()。

8. 排一排: $2+6$ $18-5$ $7+9$ $9-3$

_____ < _____ < _____ < _____

9. 小明今天看一本故事书, 从第12页看到第17页, 他今天看了()页。

10.

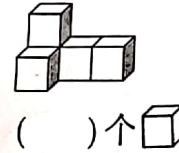


①上面一共有()只小动物。

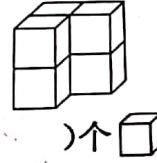
②从左边数起, 大象排第(), 小马排第()。

③请把右边4只动物圈起来。

11.



()个



()个

二、我是神算手（每空1分，第2小题14分。共29分）

1. $6+10=$ $17-4=$ $0+14=$ $6-6=$

$19-2=$ $6+7=$ $5+8=$ $=3+8$

2. $9-()=3$ $7+()=17$ $()-6=4$ $()+()=11$

$18-2-10=$ $2+7+6=$ $9+8-7=$

3. 在○里填上“+”或“-”

$5 \bigcirc 8 = 13$ $7 \bigcirc 7 = 0$ $19 \bigcirc 10 = 9$ $8 \bigcirc 7 = 15$

4. 在○里填上“>”、“<”或“=”

$12-2 \bigcirc 11$ $9 \bigcirc 8+2$ $18 \text{ 个一 } \bigcirc 4 \text{ 个一和 } 1 \text{ 个十}$

三、我是巧巧手 (2分+4分, 共6分)


1. 画○比△少2个。 △△△△△△△

2. 用你喜欢的方式表示下面算式的意思。

$3+5=(\quad)$



$7-4=(\quad)$



四、我会认钟表 (5分)

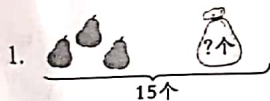






过1小时是

五、我会看图列式 (第4小题3分, 共11分)



$\square \bigcirc \square = \square (\text{个})$




$\square \bigcirc \square = \square (\text{条})$



$\square \bigcirc \square = \square$

$\square \bigcirc \square = \square$



$\square \bigcirc \square \bigcirc \square = \square$

六、走近生活 (每题4分, 共16分)

1.



兰兰

我有13朵花, 送给了乐乐10朵,

兰兰还剩下多少朵花?

$\square \bigcirc \square = \square (\text{朵})$

答: 兰兰还剩下 () 朵花。

2.



树上原来有多少个桃子?

$\square \bigcirc \square = \square (\text{个})$


答: 树上原来有 () 个桃子。

3. 房子里原来有12只小兔子, 来了3只, 又走了2只, 房子里现在有多少只小兔子?

$\square \bigcirc \square \bigcirc \square = \square (\text{只})$

答: 房子里现在有 () 只小兔子。

4.



一共有多少只天鹅?

$\square \bigcirc \square = \square (\text{只})$

答: 一共有 () 只天鹅。