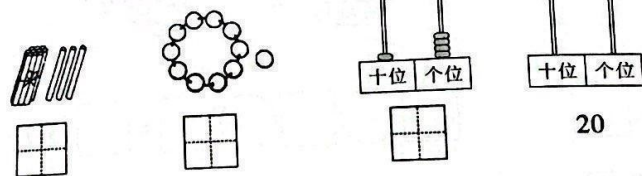


# 一年级数学(A)

(时间:60 分钟 满分:100 分) 命题人:王玉清

题号	一	二	三	四	五	六	七	总分
得分								

一、数一数,写一写,画一画。(共4分)



二、用心想一想,仔细填一填。(每空1分,共21分)

- 1个十和8个一合成的数是( ),读作:( )。
- 16的“1”在( )位上,表示1个( ),“6”在( )位上,表示6个( )。
- 被减数是11,差是5,减数是( );一个加数是5,另一个加数是8,它们的和是( )。
- 从17数起,第3个数是( )。
- 看下图回答问题。

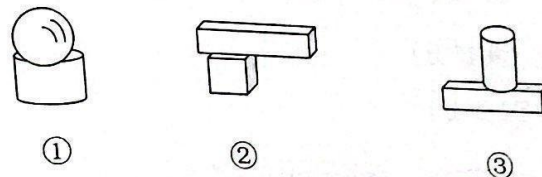


- (1)一共有( )位小朋友,从前往后数,小明排在第( )位,从后往前数小红排在第( )位。
- (2)从前往后数,第1位小朋友和小明之间有( )人,小红前面的第2个小朋友是欢欢,请你把她圈出来。


6. 左图中一共有( )个 ,至少再添上( )个 ,就可以拼成一个大正方体了。

7. 今天是星期四,爸爸3天前去外地出差了,爸爸出差那天是星期( )。

8. 下面( )号图形搭得最稳。





9. 东东和红红看相同页数的故事书,东东看了8页,红红看了12页,( )剩下的页数多。



10.

2小时前是( ) 1小时是( )

三、小动物应该上哪一节车厢,用线连一连。(10分)



四、算一算。(共18分)

1. 看谁算得又快又对。(共9分)

$6+8=( )$	$13-10=( )$	$3+9=( )$
$18-3=( )$	$8+5-4=( )$	$7-3+4=( )$
$16-( )=6$	$2+( )=10$	$( )-9=1$



2. 我会比大小。(共9分)

$3+2 \bigcirc 6$

$11+4 \bigcirc 15$

$14-1 \bigcirc 13+1$

$7 \bigcirc 3+5$

$11 \bigcirc 15-6$

$9-9 \bigcirc 19-19$

$12-5 \bigcirc 2+5$

$13-6 \bigcirc 9$

$7+8 \bigcirc 6+8$

五、轻松动动脑,开心练练手。(共15分)

1. 帮它们找到家。(填序号)(5分)


①	②
羊村长	③
④	⑤

我住在海绵宝宝家右边。  
我住在喜羊羊家楼下。  
我住在派大星家左边。  
我住在羊村长家右边。  
我住在羊村长家楼上。

住在( ), 住在( ), 住在( ),


住在( ), 住在( )。

2. 根据规律画出最后一个钟面上的时针和分针,并表示出每个钟面的时间。(6分)



\_\_\_\_时 \_\_\_\_时 \_\_\_\_时 \_\_\_\_时

3. 数一数,填一填。(4分)



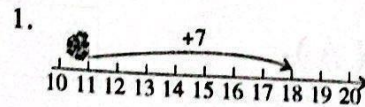
正方体有( )个

长方体有( )个

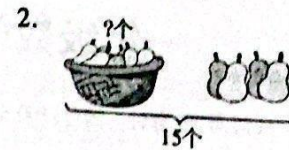
球有( )个

圆柱有( )个

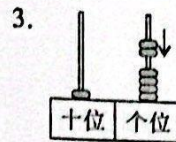
六、看图列式计算。(每题3分,共12分)




$\square \bigcirc \square = \square$



$\square \bigcirc \square = \square (\text{个})$



$\square \bigcirc \square = \square$



$\square \bigcirc \square \bigcirc \square = \square (\text{只})$

七、生活大课堂。(共20分)

1. 小红家有12盆花,送给新邻居3盆,现在小红家还有多少盆花?(4分)

$\square \bigcirc \square = \square (\text{盆})$

2. 书架上有一些书,借走了5本,现在书架上还有9本,原来书架上有多少本书?(4分)

$\square \bigcirc \square = \square (\text{本})$

3. 一共有多少只鸭子?(8分)

$\square \bigcirc \square = \square (\text{只})$

还可以列式为:  $\square \bigcirc \square = \square (\text{只})$



4. 某水果店有15箱水果,卖出6箱后,又购进3箱,现在水果店有多少箱水果?(4分)

$\square \bigcirc \square \bigcirc \square = \square (\text{箱})$