

# 2021 学年第一学期小学学科综合评价

## 三年级数学

### 一、我会填空。（每空 1 分，共 19 分）

1. 要使  $\square\square7\times 9$  的积是三位数，百位上只能填（ ），十位上只能填（ ）。

2. 用 18 根小棒刚好围成一个长方形，如果这个长方形的长是 6 根小棒，那么宽是（ ）根小棒。

3. 小数 8.23 读作（ ），十点零四写作（ ）。

4. 2022 年 2 月冬奥会将在中国北京、延庆和张家口举办。2022 年 2 月份有（ ）天，全年有（ ）天。

5. 在  $\bigcirc$  里填上  $>$ 、 $<$  或  $=$ 。

$$197\times 4 \bigcirc 800$$

$$50+0 \bigcirc 60\times 0$$

$$3.2 \text{ 元 } \bigcirc 3 \text{ 元 } 4 \text{ 分}$$

6. 3 天 = （ ）小时

9 元 5 分 = （ ）元

2 米 9 厘米 = （ ）米

5 米 4 厘米 = （ ）厘米

7. 填上合适的数。

$$200 + ( ) \times 7 = 410$$

$$15 - 5 \times ( ) = 15$$

8. 亮亮 10 岁生日到了，妈妈给他买了 3 件上衣和 2 件裤子，搭配成 1 套衣服，亮亮有（ ）种不同的搭配方法。

9. 一袋糖果平均分给 5 个小朋友，如果再添上 2 块，每个小朋友能分到 4 块，这袋糖果原来有（ ）块。

10. 用一根绳子围成一个正方形，正方形的边长是 5 厘米；用同样长的一根绳子，围一个长方形，长方形的长是 7cm，宽是（ ）厘米。

### 二、我会选择。（每题 2 分，共 14 分）

1. 妈妈的工作时间是上午 7:00—11:30，下午从 1:30—5:30，妈妈一天工作了（ ），很辛苦。

A. 8 小时 30 分

B. 8 小时

C. 9 小时

学 校
班 级
姓 名
准考证号
注意： 密封线内不要答题，密封线外不准写姓名、准考证号等。

密

封

线

2. 下面（ ）组中两个钱数的和是 0.25 元。

A. 0.23 元和 0.2 元      B. 0.2 元和 0.5 元      C. 0.05 元和 0.2 元

3. 品尚超市一共运进 293 袋大米，第一天卖出 127 袋，第二天又卖出 98 袋，还剩多少袋大米？不正确的是（ ）。

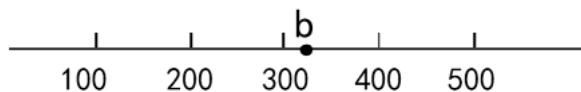
A.  $293 - 127 + 98$       B.  $298 - (127 + 98)$       C.  $298 - 127 - 98$

4. 下图中，点 b 表示的数是算式（ ）的积。

A.  $48 \times 6$

B.  $54 \times 6$

C.  $61 \times 6$



5. 淘气的爸爸每个月寄给奶奶和淘气 2000 元生活费，每个月支出 1400 元，奶奶想用节余的钱买一台 1900 元的洗衣机，需要（ ）个月才能付清。

A. 3      B. 4      C. 5

6. 算式  $16 \times 20$  的结果比  $21 \times 16$  少了（ ）。

A. 1      B. 16      C. 21

7. 问题（ ）不能用算式  $(50 - 2) \div 8$  来解决。

A. 一块橡皮 2 元，一支笔 8 元，淘气拿 50 元买了一块橡皮，剩下的钱可以买几支笔？

B. 体育老师买来 50 米塑料绳做集体跳的长绳，剪出了 8 根长绳，还余下 2 米，平均每根长绳多少米？

C. 奇思买了 8 本级习本，每本 2 元，付给售货员阿姨 50 元，应找回多少元？

### 三、我会计算。（共 28 分）

1. 直接写出得数。（共 8 分）

$34 \times 2 =$        $69 \div 3 =$        $627 + 273 =$        $6.9 \text{ 元} + 2.4 \text{ 元} =$

$600 - 199 =$        $540 \div 6 =$        $500 \times 4 =$        $40 + 16 \div 8 =$

2. 用竖式计算。（共 8 分）

$900 - 379 =$

$145 \times 8 =$

$308 \times 5 =$

$19.7 \text{ 元} - 3.9 \text{ 元} =$

3. 用递等式计算。（共 12 分）

$664 + 231 + 136$

$9 + 18 \div 3$

$793 - 93 \times 3$

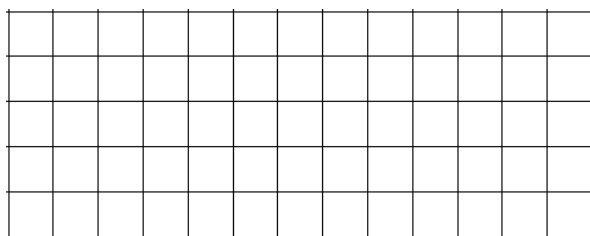
$(155 + 25) \times 6$

#### 四、我会看图和操作。（共 13 分）

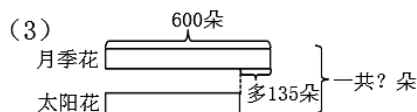
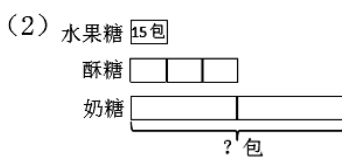
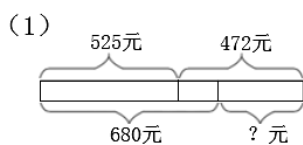
1. 他们三人分别看到了哪幅图？连一连。（3 分）



2. 画出周长是 12 厘米的长方形和正方形各 1 个。（4 分）



3. 看图列式，不计算。（每题 2 分，共 6 分）



五、我会解决问题。（第 5 题 6 分，其余每题 4 分，共 26 分）

1. 淘气有 100 元，买了 4 本故事书，每本 18 元，还剩多少元？
2. 笑笑是学校三年级有 4 个班，平均每个班有 35 名学生，学校准备给三年级的每个学生发放 2 个口罩，三年级需要多少个口罩？
3. 运动会上，三年级共有 48 名同学参加短跑赛，其中有 24 名同学参加 100 米短跑，每组 6 人，100 米短跑的同学可以分成几组？

4. 把一张边长是 12 厘米的正方形纸平均分成 4 张长方形纸。

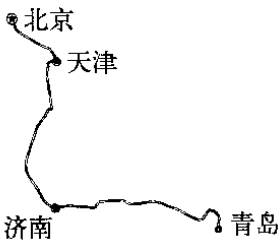
（1）在图上描出 1 张长方形纸的周长。

（2）1 张长方形纸的长 = （            ），宽 = （            ）。

1 张长方形纸周长 = （            ）



5. 张叔叔家住北京，春节乘火车回青岛，途径天津、济南，最后到达青岛。



北京—天津	122 千米
北京—济南	426 千米
济南—青岛	393 千米

- （1）天津到青岛的里程是多少千米？（3 分）
- （2）火车从北京出发到青岛，一共要行驶多少千米？如果火车平均每时行驶 200 千米，3 时大约行驶到什么位置？在图中用 “•” 标出来。（3 分）

6. 你知道△、○分别等于几？

$$\bigcirc + \bigcirc + \bigcirc + \triangle + \triangle + \triangle + \triangle = 52$$

$$\bigcirc + \triangle = 15$$

$\triangle =$  \_\_\_\_\_       $\bigcirc =$  \_\_\_\_\_