

## 三年级数学试卷

说明: 1. 90 分钟完成; 2. 全卷 100 分, 其中卷面整洁、书写工整 3 分。

题号	一	二	三	四	五	六	七	总分
得分								

## 一、我会填。(每空 1 分, 共 18 分)

- 计算  $32+40\div 8$ , 要先算 ( ) 法, 再算 ( ) 法。
- 103 的 8 倍是 ( ); 360 是 4 的 ( ) 倍。
- 文具店 9:00 开门, 20:00 关门, 全天营业 ( ) 小时。
- 有一个边长是 25 米的正方形花坛在小区里, 陈奶奶每天晚上绕这个花坛散步 8 圈, 一共走了 ( ) 米。
- ( )  $\div 3 = 12$  ( )  $\times 4 = 84$
- $80 \times 5$  的积是 ( ) 位数, 积末尾有 ( ) 个 0。
- 在  $\bigcirc$  里填上 “>”、“<” 或 “=”。

1.60 米  $\bigcirc$  6.01 米

18.89 元  $\bigcirc$  20.00 元

$57-0 \bigcirc 57 \times 0$

23.00 元  $\bigcirc$  23 元

3 元 3 角  $\bigcirc$  3.09 元

$33 \times 2 \bigcirc 2 \times 111$

- 明明的生日在元旦的前一天, 是 ( ) 月 ( ) 日。

## 二、我会算。(20 分)

## 1. 口算。(8 分)

$800 \times 5 =$

$450 \div 9 =$

$98 \times 0 =$

$96 \div 3 =$

$30 \div 2 =$

$14 \times 5 =$

$23 \times 4 =$

$16.4 - 8.3 =$

## 2. 脱式计算。(6 分)

$5 \times (700 - 684)$

$280 \div 7 + 186$

$24 \times 3 \div 2$




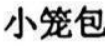


## 3. 笔算。(6 分)

$9.9 + 3.4 =$




$203 \times 9 =$

$623 + 327 - 246 =$


### 三、选择题，选择正确的序号填在（ ）里。（10分）

- 把  $203 - 195 = 8$ ,  $640 \div 8 = 80$  改写成综合算式是（ ）。  
 A.  $640 \div 203 - 195$       B.  $640 \div (203 - 195)$       C.  $(203 - 195) \div 640$
- 以下早餐中饮料和主食各选一样，一共有（ ）种选法。  
 饮料： 豆浆       牛奶      主食：  
 面包       小笼包       蛋糕       饺子  
 A. 8      B. 6      C. 7
- 下面各题中，结果最接近 300 的是（ ）。  
 A.  $2 \times 190$       B.  $5 \times 62$       C.  $3 \times 101$
- 一个正方形的周长是 84 分米，它的边长是（ ）分米。  
 A. 21      B. 24      C. 42
- 要使  $\square 13 \times 2$  的积是四位数， $\square$  里最小填（ ）。  
 A. 5      B. 6      C. 4

### 四、填写表格。（6分）

商品名称	价格	读 作	表 示
橡皮 	0.65 元		___元___角___分
卷笔刀 	12.30 元		___元___角___分
书包 	58.99 元		___元___角___分

### 五、下面四幅照片分别是谁看到的？在（ ）里填写名字。（4分）




( )



( )

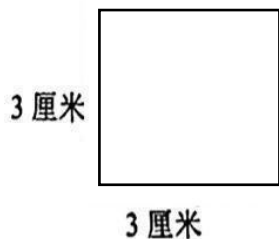


( )

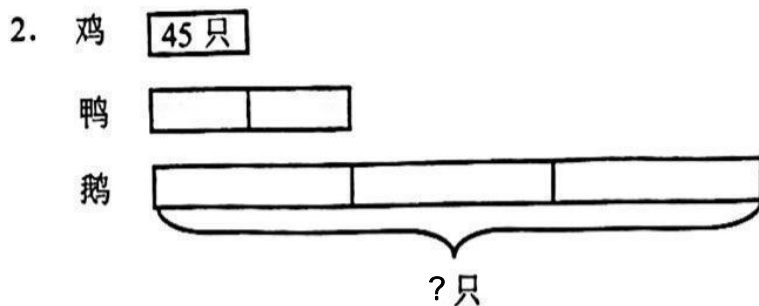
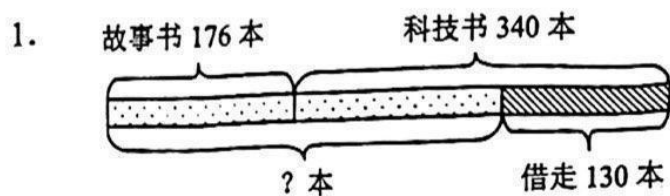


( )

六、先把下面图形的周长用彩色笔描出来，再计算它们的周长。（6分）



七、看图列式计算。（6分）



八、解决问题。（共 27 分）

1. 张老师要给全班 42 位同学每人买 1 包饼干，再买 1 罐杂锦糖，带 200 元钱够吗？（5分）



4.00 元



26.00 元

2. 一根包装带正好围成一个长 8 米, 宽 4 米的长方形。这根包装带有多长? (5 分)

3. 星光电影院有 5 个影厅, 每个影厅有 9 排座位, 每排 36 个座位。星光电影院最多能同时安排多少人观影? (5 分)

4. 湛江博物馆开放日。上午比下午多多少人参观? 全天一共有多少人参观?

(6 分)



今天上午来参观的学生有 362 人。

下午来参观的学生分 2 批, 每批 115 人。



5. 下图是湛江到广州的公路路线图。(6 分)

	路程
湛江—阳江	212 千米
阳江—开平	115 千米
开平—广州	153 千米



(1) 湛江到广州有多远?

(2) 一辆汽车每小时行驶 60 千米, 从湛江出发, 7 小时能到达广州吗?