

2021 年南安市小学数学三年级上学期期末试卷

(考试时间: 80 分钟)

等级_____

一、认真审题, 细心计算。(21 分)

1. 直接写得数。

$298 - 89 =$

$50 \times 3 =$

$480 \div 6 =$

$158 + 232 =$

$42 \div 2 =$

$17 \times 4 =$

2. 用竖式计算。

$152 \times 6 =$

$280 \times 7 =$

$8 \text{ 元} + 6.9 \text{ 元} =$

元 角

3. 用递等式计算。

$1000 - 124 - 479$

$(175 - 66) \times 8$

$560 \div 7 + 126$

二、用心思考, 正确填空。(23 分)

1. 右图每个文具盒的价格用小数表示为 () 元,

读作 ()。

18 元 4 角 5 分

(第 1 题)

2. $6.02 \text{ 米} = () \text{ 米} () \text{ 厘米}$

$3 \text{ 年} = () \text{ 个月}$

3. 根据电视节目单填空。

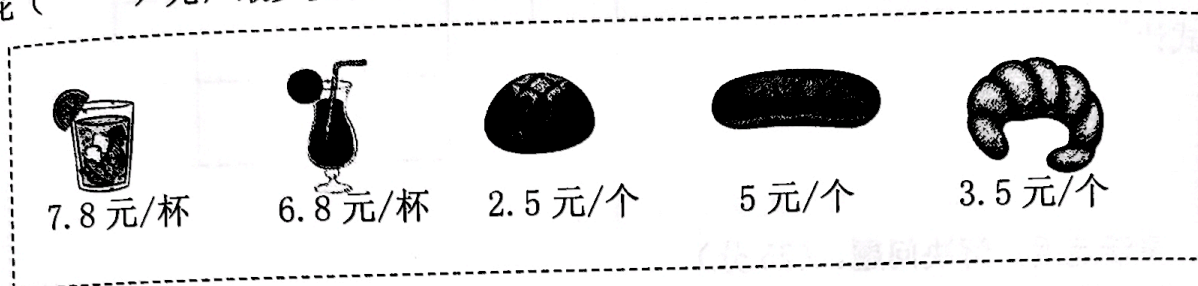
节目早知道	
动画城:	16:30~17:10
法制天地:	17:20~17:50
新闻:	18:00~18:30
科学探索:	18:45~()

(1) 《动画城》播放了 () 分。

(2) 从左图节目表可知 17:30 在播放 ()。

(3) 《科学探索》的节目时长 45 分, 应该播到 (:) 结束。

4. 8个1角就是8个()元,是()元。
5. 今年国庆假期,贝贝和爸爸、妈妈、爷爷、奶奶一起去电影院观看《长津湖》,一张电影票48元,估一估,贝贝一家大约需要花()元购买电影票。
6. 淘气想买一杯饮料和一个面包(如下图),共有()种买法,淘气最多要花()元,最少要花()元。



7. 东京奥运会因疫情影响延期至2021年举行,2021年是() [填写“平年”或“闰年”];奥运会于2021年7月23日开幕,至8月8日闭幕,共历时()天。

8. 奇思家的电表读数如右图。(单位:千瓦时)

3月底	4月底	5月底	6月底
440	582	733	988


- (1) 奇思家4月份用电()千瓦时。

- (2) 奇思说:“我家5月份用电733千瓦时。”

你认为这句话对吗?请说明理由:_____。

9. 《数学世界》这本书,乐乐已经看了6天,每天看15页,乐乐第7天应该从()页开始看起。

10. 右图是妙想家小区的花坛形状,妙想每天傍晚从花坛的A点出发沿着边线走一圈,一共走了()米。



(第10题)

三、认真审题,准确选择。(将正确答案的序号填在括号里)(20分)

1. 2021年6月17日,“神舟十二号”载人航天飞船成功发射升空,三位宇航员乘坐这班飞船飞往中国空间站。下列月份与6月天数相同的是()。


A. 12月

B. 11月

C. 7月

D. 2月

2. 下面是四位同学在计算 12×4 时的思考过程, 其中不正确的是 ()。 ② 42

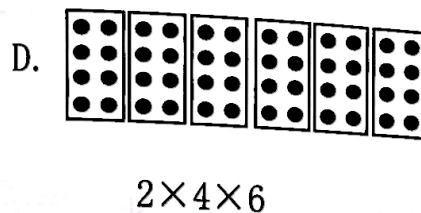


B. $12 + 12 + 12 + 12$

C.


\times	10	4
2	20	8

 $20 + 8$




3. 美术课需要准备一盒彩色铅笔, 下面是四个文具店同一款彩色铅笔的售价, 奇思想要买到最便宜的彩色铅笔, 应该选择的文具店是 ()。

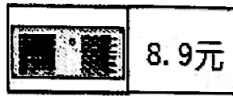
乐乐文具店



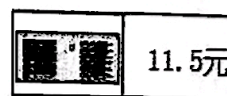
美美文具店



曲曲文具店



可可文具店




- A. 乐乐文具店 B. 美美文具店 C. 曲曲文具店 D. 可可文具店

4. 右图的 一共有多少个? 小明和小丽写出了四个算式, 其中列式正确的有 ()。

$12 \times 6 - 1$
 $11 \times 6 + 5$

$5 + 12 \times 5$
 $12 \times 5 + 11$

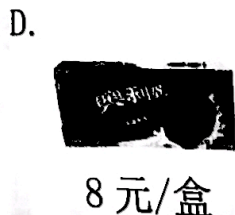
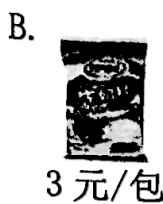



- A. 4个 B. 3个 C. 2个 D. 1个

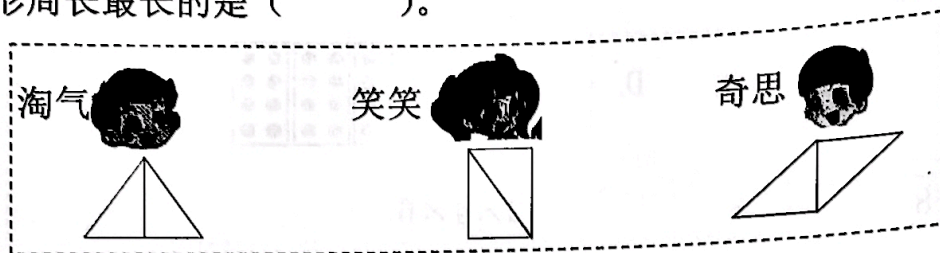
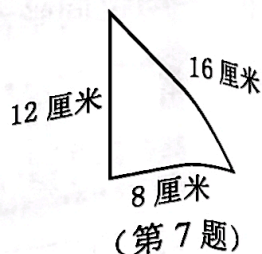
5. 想一想, 李霖看到的是图 ()。



6. 妈妈带 100 元, 买了同一种零食若干份, 还剩 37 元, 她买的零食是 ()。




7. 数学课上，王老师要求同学们用两个完全相同的三角形（如右图），拼成一个更大的图形。下面三位同学所拼的图形周长最长的是（ ）。



- A. 淘气 B. 笑笑 C. 奇思 D. 一样长

8. 右图是妈妈微信钱包里原有的钱数。近期她有两笔交易记录：转账支出 219 元，收到红包 168 元。现在妈妈微信钱包里的钱数与原来相比较，（ ）。



- A. 少 51 元 B. 多 51 元 C. 多 168 元 D. 少 219 元

9. 为奖励优秀学生，李老师用 100 元买了相同的笔记本（如右图），还剩下 20 元，李老师买了几本这种笔记本？列式正确的是（ ）。




4 元/本

- A. $100 - 20 \div 4$ B. $100 + 20 \div 4$
C. $(100 - 20) \div 4$ D. $(100 + 20) \div 4$

(第 9 题)

10. 将一个正方形沿着同一个方向连续对折两次后，最后的形状如右图，原来的正方形周长是（ ）。



(第 10 题)

- A. 40 厘米 B. 48 厘米 C. 54 厘米 D. 64 厘米


四、动手动脑，操作实践。(11 分)

1. 圈一圈，算一算。

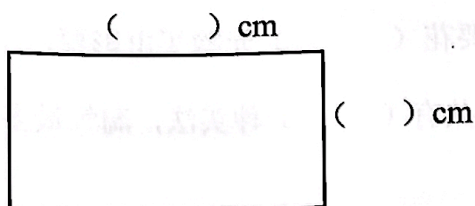
$$48 \div 4 = (\quad)$$



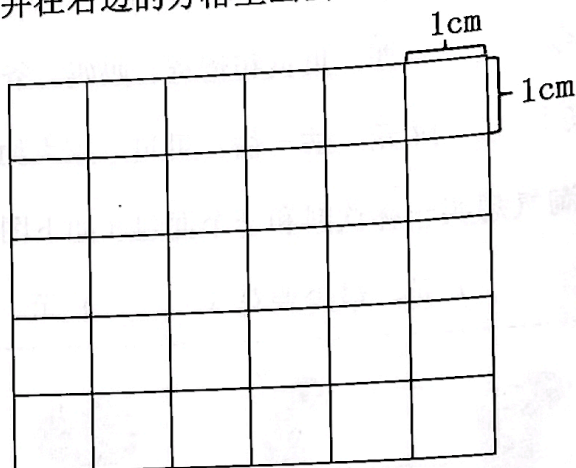
2. 连一连。



3. 量一量，再算出下面长方形的周长，并在右边的方格里画出一个与它周长相等的正方形。

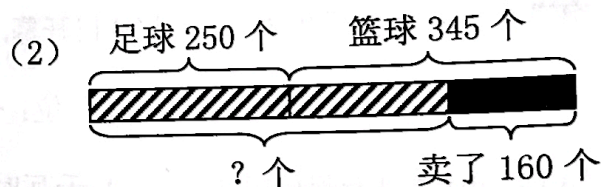



列式计算：



五、灵活运用，解决问题。(25 分)

1. 看图列式，不计算。



列式：_____

列式：_____

2. 这些小树苗一共可以栽多少行？



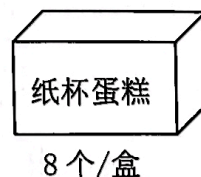
我们准备了 66 棵小树苗。

如果每行栽 3 棵。



3. “六一”儿童节这一天，童星幼儿园打算送每个小朋友一个纸杯蛋糕。

每个 5 元，9 盒一共需要多少元？



4. 双“十一”当天，淘宝网优惠“大减价”：每满 300 元减 50 元，每满 500 元减 110 元。妈妈在淘宝网为笑笑选择几件衣服，如下图所示：



199 元/件

①



315 元/件

②



188 元/件

③



215 元/件

④

(1) 妈妈想给笑笑购买一套衣服，她可能会选 () 和 ()。(填序号)

(2) 妈妈选购的这套衣服实际应付多少钱？

5. 下图是动车 D685 从厦门北到深圳北沿路主要车站的部分线路图。



	里程/千米
漳州-厦门北	42
漳州-饶平	126
漳州-潮汕	167
漳州-深圳北	468

(1) 张叔叔乘坐动车要从厦门北到深圳北，需要行驶多少千米？

(2) 如果动车平均每小时可行驶 180 千米，张叔叔早上 10:30 从厦门北出发，下午 1:30 能到达深圳北吗？