

2021 年秋期末质量检测三年级数学试题及答题卡

(满分 100 分，考试时间 60 分钟)

请在各题目的答题区域内作答，超出黑色矩形边框限定区域的答案无效

请在各题目的答题区域内作答，超出黑色矩形边框限定区域的答案无效

学校:_____

姓名:_____ 班级:_____

准考证号:

| | | | | | | | | | |
|--|--|--|--|--|--|--|--|--|--|
| | | | | | | | | | |
|--|--|--|--|--|--|--|--|--|--|

贴 条 形 码 区

6.0cm×3.0cm

(正面朝上，切勿贴出方框)

缺考标记，考生禁填！由监考员填涂 ☐

填涂
涂
样
例

正确填涂

错误填涂
√ × ○
0 ● ○

注
意
事
项

- 答题前，先将自己的姓名、准考证号填写清楚，并认真核对条形码上的姓名、准考证号、座位号及科类名称。
- 选择题部分必须使用 2B 铅笔填涂；综合题部分必须使用 0.5 毫米的黑色签字笔书写，字体工整、笔迹清楚。
- 请按照题号顺序在各题目的答题区域内作答，超出答题区域书写的答案无效；在草稿纸、试题卷上答题无效。
- 保持答题卡面清洁，不要折叠、弄破、弄皱，禁用涂改液、涂改胶条。

| | | | | | | | | | | |
|------------------|----------------------|----------------------|----------------------|----------------------|----------------------|----------------------|----------------------|----------------------|----------------------|----------------------|
| 准 考 证 号 | <input type="text"/> | <input type="text"/> | <input type="text"/> | <input type="text"/> | <input type="text"/> | <input type="text"/> | <input type="text"/> | <input type="text"/> | <input type="text"/> | <input type="text"/> |
| | <input type="text"/> | <input type="text"/> | <input type="text"/> | <input type="text"/> | <input type="text"/> | <input type="text"/> | <input type="text"/> | <input type="text"/> | <input type="text"/> | <input type="text"/> |
| | <input type="text"/> | <input type="text"/> | <input type="text"/> | <input type="text"/> | <input type="text"/> | <input type="text"/> | <input type="text"/> | <input type="text"/> | <input type="text"/> | <input type="text"/> |
| | <input type="text"/> | <input type="text"/> | <input type="text"/> | <input type="text"/> | <input type="text"/> | <input type="text"/> | <input type="text"/> | <input type="text"/> | <input type="text"/> | <input type="text"/> |
| | <input type="text"/> | <input type="text"/> | <input type="text"/> | <input type="text"/> | <input type="text"/> | <input type="text"/> | <input type="text"/> | <input type="text"/> | <input type="text"/> | <input type="text"/> |
| | <input type="text"/> | <input type="text"/> | <input type="text"/> | <input type="text"/> | <input type="text"/> | <input type="text"/> | <input type="text"/> | <input type="text"/> | <input type="text"/> | <input type="text"/> |
| | <input type="text"/> | <input type="text"/> | <input type="text"/> | <input type="text"/> | <input type="text"/> | <input type="text"/> | <input type="text"/> | <input type="text"/> | <input type="text"/> | <input type="text"/> |
| | <input type="text"/> | <input type="text"/> | <input type="text"/> | <input type="text"/> | <input type="text"/> | <input type="text"/> | <input type="text"/> | <input type="text"/> | <input type="text"/> | <input type="text"/> |
| | <input type="text"/> | <input type="text"/> | <input type="text"/> | <input type="text"/> | <input type="text"/> | <input type="text"/> | <input type="text"/> | <input type="text"/> | <input type="text"/> | <input type="text"/> |
| | <input type="text"/> | <input type="text"/> | <input type="text"/> | <input type="text"/> | <input type="text"/> | <input type="text"/> | <input type="text"/> | <input type="text"/> | <input type="text"/> | <input type="text"/> |

判断题答题区（正确的将“A”方框涂黑，错误的将“B”方框涂黑。每题 1 分，共 5 分）

- | | | |
|---|---|---|
| 1 <input type="checkbox"/> A <input type="checkbox"/> B | 3 <input type="checkbox"/> A <input type="checkbox"/> B | 5 <input type="checkbox"/> A <input type="checkbox"/> B |
| 2 <input type="checkbox"/> A <input type="checkbox"/> B | 4 <input type="checkbox"/> A <input type="checkbox"/> B | |

选择题答题区（请将正确答案的番号所对应的方框涂黑。每题 1 分，共 5 分）

- | | | |
|--|--|---|
| 6 <input type="checkbox"/> A <input type="checkbox"/> B <input type="checkbox"/> C | 8 <input type="checkbox"/> A <input type="checkbox"/> B <input type="checkbox"/> C | 10 <input type="checkbox"/> A <input type="checkbox"/> B <input type="checkbox"/> C |
| 7 <input type="checkbox"/> A <input type="checkbox"/> B <input type="checkbox"/> C | 9 <input type="checkbox"/> A <input type="checkbox"/> B <input type="checkbox"/> C | |

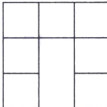
一、判断。（在答题区答题。每题 1 分，共 5 分）

- 在计算 $(300-250) \div 5$ 时，要先算减法。
- 把一张长方形纸分成 5 份，其中 2 份用 $\frac{2}{5}$ 表示。
- 面对太阳落山方向，你的右边是北方。
- 一个因数的中间有 0，积的中间也一定有 0。
- $\frac{5}{6}$ 里面有 6 个五分之一。

请在各题目的答题区域内作答，超出黑色矩形边框限定区域的答案无效

二、选择。（在答题区答题。每题 1 分，共 5 分）

- 一个长方形的周长是 20 cm，把它剪开，分成两个同样的小长方形，每个小长方形的周长（ ）。
A. 大于 10cm B. 等于 10cm C. 小于 10cm
- 从 1 月 15 日到 2 月 13 日，一共放假（ ）天。
A. 28 B. 29 C. 30
- 正方形的周长是它边长的（ ）倍。
A. 2 B. 3 C. 4
- 根据生活经验判断，下面说法错误的是（ ）。
A. 一串香蕉约 1 千克 B. 一袋橘子约 1 克 C. 一串葡萄约 980 克
- 用边长是 1cm 的小正方形拼成右面的图形，它的周长是（ ）。
A. 12cm B. 14cm C. 16cm



三、填空。（每空 1 分，共 31 分）

- 计量物品轻重的单位有（ ）、（ ）、（ ）。
- 1 年有（ ）个月，平年 2 月有（ ）天，闰年一年有（ ）天。
- 在 $\square 5 \div 6$ 中，要使商是一位数， \square 里最大填（ ）；要使商是两位数， \square 里最小填（ ）。
- 下午 1 时用 24 时记时法表示是（ ）时，晚上 12 时用 24 记时法表示是（ ）时，也就是第二天的（ ）时。
- （ ）kg=3 吨 2000g=（ ）kg
8 年=（ ）月 5 日=（ ）时

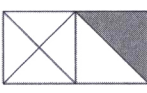
16. 用分数表示下面图形的涂色部分。



()



()



()

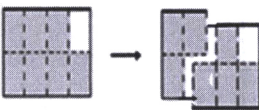
17. 有 62 颗纽扣，每件衣服钉 5 颗，最多能钉（ ）件衣服。

18. 按规律填一填：96，48，24，（ ），6。

19. $\triangle \square \star \bigcirc \triangle \square \star \bigcirc \dots$ 这样依次排列，第 33 个图形是（ ）。

20. 如图，利用分数知识填空：

(_____ - _____ = _____)



三年级数学 第 1 面 (共 2 面)

21. 妈妈上午 10 时上班，下午 6 时下班。妈妈工作了（ ）时。

22. 在 \bigcirc 里填上“>”、“<”或“=”。

$4 \times 25 \bigcirc 5 \times 24$

$1 \text{ kg} \bigcirc 999 \text{ g}$

$\frac{2}{7} \bigcirc \frac{4}{7}$

23. 一菜地收土豆 396 千克，如果每千克卖 3 元，估算一下，这些土豆一共能卖（ ）元。

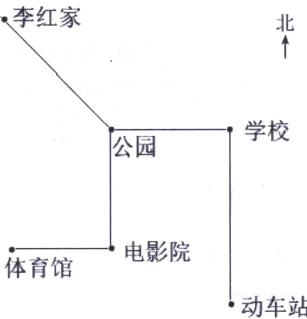
24. 观察右图，李红从家出发，先向

() 方走到公园，再向

() 方走到学校；动车

站在学校的 () 方，李

红家在公园的 () 方。



四、计算。（共 36 分）

25. 直接写出得数。（8 分）

- | | | | |
|--------------------|--------------------|---------------------------------|---------------------------------|
| ① $30 \times 8 =$ | ② $5 \times 400 =$ | ③ $56 \div 7 =$ | ④ $80 \div 4 =$ |
| ⑤ $0 \times 210 =$ | ⑥ $25 \times 8 =$ | ⑦ $\frac{1}{5} + \frac{2}{5} =$ | ⑧ $\frac{5}{6} - \frac{1}{6} =$ |

26. 用竖式计算。(12 分)

- | | |
|--------------------|-----------------|
| ① $680 \times 5 =$ | ② $90 \div 5 =$ |
|--------------------|-----------------|

- | | |
|--------------------|-----------------|
| ③ $6 \times 204 =$ | ④ $98 \div 8 =$ |
|--------------------|-----------------|

27. 计算。(12 分)

- | | |
|--------------------|------------------------|
| ① $80 - 60 \div 4$ | ② $78 \div 3 \times 2$ |
|--------------------|------------------------|

请在各题目的答题区域内作答，超出黑色矩形边框限定区域的答案无效

③ $(36+72) \times 7$

④ $72 \div (200-192)$

28. 小医生。正确的在括号里画“√”，错误的画“×”，并改正。(4分)

307
× 8
——
296
()

改正:

12
4 $\overline{)58}$
4
——
8
8
——
0 ()


改正:

五、图形与操作。(共7分)

29. 涂色表示右面分数。(1分)



30. 算出每个图形的周长。(6分)



六、问题解决。(共16分)

31. 张兵读一本故事书，第一周读了总页数的 $\frac{3}{7}$ ，第二周读了总页数的 $\frac{2}{7}$ ，两周一共读了总页数的几分之几？(3分)

32. 一件童装 32 元，批发购买 3 件只需 87 元，批发比零售平均每件便宜多少元？(3分)

33. 李老师家到学校的路程是 520 米，她每天从家到学校往返两次。李老师从家到学校每天要走多少米？(3分)

34. 三年级举行运动会，家长们来参观。运动场的看台上，每排有 47 个座位，家长们坐满了 8 排后，还有 15 个家长坐在第 9 排。一共有多少个家长来参观？(3分)

35. 在一张长 18cm，宽 15cm 的长方形纸上，剪下一个最大的正方形。这个正方形的周长是多少厘米？(4分)

