

2021 – 2022 学年度第一学期教学质量监测

九年级历史试题卷

温馨提示:1. 本试卷包括试题卷和答题卡,所有答案必须填涂或书写在答题卡上规定的位置,否则无效。考试结束后,请将答题卡交回,试卷自己带走。

2. 答题前,请认真阅读答题卡上的“注意事项”。

3. 本试卷共 6 页,满分 100 分,考试时长 90 分钟。

一、单项选择题(共 20 题,每小题 2 分,共 40 分。每小题只有一个选项符合题目要求。)

1. 人类最早的文明诞生于亚非地区的大河流域。古希腊历史学家希罗多德形象的把古埃及文明称为“尼罗河的赠礼”,这主要是由于尼罗河流域
- A. 适合农业耕作
- B. 商品经济比较活跃
- C. 民主政治起源较早
- D. 有利于建造金字塔
2. 下列关于楔形文字的叙述不正确的是
- A. 产生于古代两河流域
- B. 刻在龟甲和兽骨之上
- C. 是在未干的软泥版上压刻出的符号
- D. 由苏美尔人最早创造和使用
3. 丹霞山护国寺,历史悠久。寺内供奉着雕刻精美的玉佛和具有上千年历史的《贝叶经》,与此相关的宗教的创始人是
- A. 李耳 B. 乔达摩·悉达多 C. 耶稣 D. 穆罕默德
4. 雅典的某个家庭有一名男主人、一名女主人、一名小女孩、一名从罗马来的男性亲戚、一名男奴隶、一名女奴隶,在公民大会上,这个家庭可以投几票
- A. 1 B. 2 C. 3 D. 6
5. 元老院授予他“奥古斯都”和“大元帅”的尊号,象征罗马已由共和国转变为帝国。“他”是
- A. 伯里克利 B. 斯巴达 C. 凯撒 D. 屋大维
6. 查理曼的三个孙子在 843 年缔结了《凡尔登和约》,将查理曼帝国一分为三,形成了欧洲哪三个国家的雏形?
- ①德意志 ②英吉利 ③法兰西 ④意大利
- A. ①②③ B. ②③④ C. ①③④ D. ①②④

7. 下列关于西欧庄园的叙述,不正确的是
- A. 庄园的居民均为领主的佃户
- B. 领主不能向佃户征收其它捐税
- C. 庄园的“共用地”,全体佃户可以放牧、共同使用
- D. 佃户的基本义务是为领主提供劳役
8. “城市的空气使人自由”,中世纪的西欧城市居民为争取城市的自由和自治,采取各种方式反抗,常用的手段包括
- ①兴建新城市 ②金钱赎买 ③得到领主的支持 ④武力斗争
- A. ①② B. ①③ C. ②④ D. ③④
9. 下列选项中,与西欧中世纪大学的产生无关的是
- A. 选拔官吏的需要 B. 城市的自由和自治
- C. 国王与教皇的支持 D. 教师和学生行会的出现
10. 东罗马帝国(拜占庭帝国)开始于 395 年,直至 1453 年灭亡。最终摧毁这一帝国的国家是
- A. 亚历山大帝国 B. 西罗马帝国 C. 阿拉伯帝国 D. 奥斯曼帝国
11. “继续承认奴隶制,但是规定教、俗各界释放奴隶,改善奴隶地位,承认奴隶具有人的地位”是对《罗马民法大全》的评价,这个评价主要强调其具有
- A. 保守性 B. 进步性 C. 残酷性 D. 滞后性
12. 公元 646 年日本孝德天皇颁布改新诏书,大化改新正式开始。对此解读正确的是
- A. 加速日本封建化进程 B. 阻碍日本封建化进程
- C. 严重削弱了天皇的权力 D. 加强了世袭贵族的地位
13. 文艺复兴时期,名家辈出,以下作者和作品搭配正确的是
- A. 但丁——《罗密欧与朱丽叶》 B. 莎士比亚——《最后的晚餐》
- C. 彼特拉克——《神曲》 D. 达芬奇——《蒙娜丽莎》
14. 中世纪晚期,欧洲社会处于转型时期,生产组织逐渐资本主义化,出现雇佣与被雇佣的生产关系。这一现象主要表现在
- A. 租地农场和工厂制的形成 B. 庄园经济和工厂制的形成
- C. 租地农场和手工工场的形成 D. 庄园经济和手工工场的形成
15. 《归来没有统帅》记述了欧洲一位航海家的事迹,这名“统帅”的航海证明地球表面大部分地区不是陆地,而是海洋,世界各地的海洋不是相互隔离的,而是一个统一的完整水域。这名“统帅”是
- A. 迪亚士 B. 达·伽马 C. 哥伦布 D. 麦哲伦


16. 在 1588 年的加莱海战中,英国海军击败了西班牙的无敌舰队,英国逐渐成为海上霸主。这一年处于

- A. 15 世纪初期 B. 15 世纪末期 C. 16 世纪初期 D. 16 世纪末期

17. 乾隆帝(1711 - 1799)和华盛顿(1732 - 1799)生活在同一时代,下列说法错误的是

- A. 乾隆帝是中国的皇帝,华盛顿是美国的总统
B. 乾隆帝大兴文字狱,华盛顿主张自由平等
C. 乾隆帝和华盛顿都独揽大权
D. 乾隆帝时中国处于封建社会,华盛顿时美国进入资本主义社会

18. 在年代尺上,是某位历史人物的生平轨迹,判断这位历史人物是



- A. Cromwell B. George Washington C. Napoleon Bonaparte D. Thomas Jefferson

19. 三线建设时期,川黔铁路、贵昆铁路、湘黔铁路相继建成通车,改善了贵州交通落后的状态,也促进了铁路沿线工矿企业的发展。请问开启铁路时代的发明家是

- A. 瓦特 B. 斯蒂芬森 C. 亚当斯密 D. 凯伊

20. 历史事实指的是历史的真实情况,历史观点是分析历史事实的看法和状态。下列属于历史观点的是

- A. 830 年,哈里发在巴格达设立“智慧宫”
B. 英国资产阶级革命期间处死国王查理一世
C. 新航路开辟使世界开始连为一个整体
D. 1775 年美国独立战争爆发

二、填空题(共 5 题,每小题 2 分,共 10 分。)

21. 【法制传统·源远流长】《_____》是迄今已知世界上第一部较为完整的成文法典。

22. 【建筑艺术·凝固历史】希腊建筑艺术的典型代表是雅典的_____。

23. 【光辉成就·文化遗产】被并称为文艺复兴“美术三杰”的是达芬奇、_____、拉斐尔。

24. 【殖民扩张·血腥残酷】殖民掠夺客观上有助于欧洲殖民国家的资本原始积累,也有助于_____逐渐形成,但也给殖民地人民带来深重的灾难。

25. 【社会主义·雏形初现】1870 年 3 月 28 日,世界上第一个无产阶级政权_____正式建立。

三、材料解析题(每题 15 分,共 30 分)

26. 文化是民族的,更是世界的。根据要求,回答下面相关问题。(15 分)

【追本溯源】

材料一:在世界历史的长廊里,东西方人民用自己的勤劳和智慧创造了许多辉煌的成就,留给后世许多宝贵的文化遗产。



图 1



图 2




图 3



图 4

【交汇融合】

材料二:“……经过十年的征伐,他的统治区域扩展到了印度河流域、尼罗河流域,亚历山大建立了一个空前庞大的帝国……他的远征是非正义的,让东方人民饱受战争之苦……远征在客观上是希腊文明与埃及、巴比伦和印度的文明得以接触、交流、融汇,扩大了各民族已知世界的范围,图 5 受希腊文化影响的叙利亚巴力庙遗址……”



——摘自《世界史·古代史编上卷》

【地区差异】

材料三:宗教是一种文化现象,不同地区产生了不同的宗教。

名称	基督教	名称	②
诞生时间	1 世纪	诞生时间	7 世纪初
诞生地点	①	诞生地点	阿拉伯半岛
发展	4 世纪末被定为罗马国教	创始人	③

(1)从材料一中的文化遗产中任选两例,简述其承载的历史价值。(4 分)

(2)根据材料二的图片及文字材料,结合所学知识概括亚历山大东征的影响。(4 分)

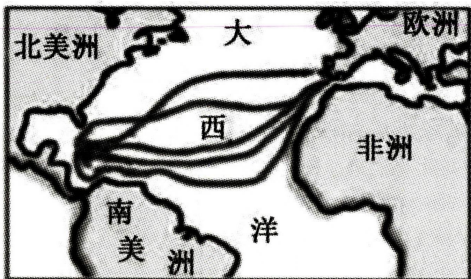
(3)根据材料三表格提示信息,写出表格中序号所指的内容。(3 分)

(4)结合材料及所学知识我们应该怎样对待这些文明成果?(4 分)

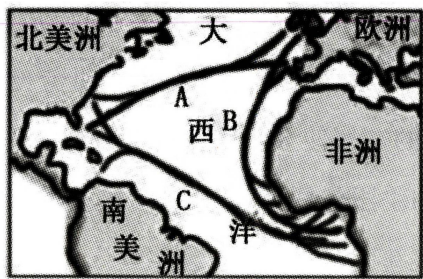
27. 公元 1500 年前后,空间认识的扩大带来无数可能。根据要求,回答下面相关问题。(15 分)

【发现·征服】

材料一:



图一



图二

【发明·革新】

材料二:到 17 世纪,一个新的手工工场部门,即棉纺织业也已迅速发展起来。……棉纺织品的价格比毛纺织品便宜,市场需要量大,为满足市场不断增长的需求,需要扩大生产规模以增加产量,所以对技术革新的要求比较迫切。

——摘自《世界史·近代史编下卷》

【发展·罪恶】

材料三:工业革命中心曼彻斯特浓烟滚滚,污水横流,方圆几英里草木不生。纺织厂女工每天干活 12—16 小时,平均寿命 17 岁……工人居住在肮脏的棚户区和墙上流着水的地下室里,热病蔓延,贫困和缺乏教育使他们变得自暴自弃,愚昧粗野,酗酒成了唯一的精神安慰。在不到 100 万人口的伦敦,有小偷 1 万人,白天乞丐成群,晚上则明火执仗抢劫。

——董正华《世界现代化进程十五讲》

【发表·首创】

材料四:“让统治者在共产主义革命面前发抖吧。无产者在这个革命中失去的只是锁链。他们获得将是整个世界。”

——《共产党宣言》

(1)阅读材料一,在新航路的开辟过程中,图一所示是哪位航海家的路线?(2 分)他的航行又有何重大成果?(2 分)写出图二所示的活动名称。(2 分)请用图二中的字母写出该活动航行的先后顺序。(2 分)

(2)阅读材料二,概括说明工业革命发生的直接原因是什么?(2 分)并请说出工业革命开始的标志是什么?(1 分)

(3)阅读材料三,概括工业革命带来了哪些负面影响?(2 分)

(4)材料四所示文献的发表有何历史意义?(2 分)

四、综合问答题(共 20 分)

28. 英、法、美三国通过资产阶级革命确立了资本主义制度,走上了资本主义的道路。阅读材料,回答下列问题。

【光荣革命】

材料一:导致英国迅速崛起的一个重要因素,便是在(1688 年)宫廷政变之后,英国建立起了一个适合国情和生产力发展需要的政治体制。这个体制保证了英国社会有一个相对宽松与和平的环境,从而为社会经济的发展创造了有利的条件。

——王加丰《强国之鉴》

【法律至上】

材料二:法律是公共意志的表现。全国公民都有权亲身或经由其代表去参与法律的制定。法律对于所有的人,无论是施行保护或处罚都是一样的。在法律面前,所有的公民都是平等的,故他们都能平等的按其能力担任一切官职、公共职位和职务,除德行和才能上的差别外,不得有其他差别。

——人教版《世界历史》九年级上册

【自由平等】

材料三:人人生而平等,他们都从他们的“造物主”那边被赋予了某些不可转让的权利,其中包括生命权、自由权和追求幸福的权利。为了保障这些权利,所以才在人们中间成立政府。而政府的正当权力,系得自被统治者的同意。如果遇有任何一种形式的政府变成是损害这些目的的,那么,人民就有权利来改变它或废除它,以建立新的政府。

——人教版《世界历史》九年级上册

【创新政体】

材料四:从世界史的观点看,美国革命之所以重要,并不是因为它创造了一个独立的国家,而是因为它创造了一个新的、不同类型的国家。

——斯塔夫里阿诺斯《全球通史》

(1)请写出材料一中建立的政治体制的名称。(2 分)这一体制的建立与 1689 年英国颁布的哪一部法律文件密切相关?(2 分)

(2)材料二出自于哪一部法律文献?(2 分)该文件保护了哪一阶级的利益?(2 分)有何历史进步性?(2 分)

(3)材料三出自于哪一部法律文献?(2 分)体现了北美民众的哪些诉求?(2 分)

(4)根据材料四并结合所学知识,指出美国革命后颁布的世界上第一部资产阶级成文宪法是什么?(2 分)用史实说明美国“创造了一个新型的国家”。(2 分)

(5)结合上述材料及所学知识,简单概括世界近代政治文明演进的趋势。(2 分)