

九年级历史

注意事项:

1. 本试卷共 4 页, 满分 100 分, 时间 90 分钟;
2. 学生将答案填在答题卡上;
3. 考试结束后, 监考员将试题、答题卡一并收回。

一、选择题(本大题共 15 小题, 每小题 2 分, 总计 30 分。每小题只有一个选项是符合题意的)

1. 这是一块刻有古巴比伦国王汉谟拉比像的黑色石柱, 它被称为“一件历史和文学作品……也是目前世界上最古老的司法典籍”。这个“作品”代表的古代文明是
A. 古代埃及文明 B. 古代两河流域文明
C. 古代印度文明 D. 古代罗马帝国文明
2. “源于印度教, 它以神的名义把人按照严格的等级加以区分, 等级越高就被认为越纯净, 离神越近。”材料中反映的制度是
A. 农奴制度 B. 种姓制度 C. 城邦制度 D. 封君封臣制度
3. 公元前 5 世纪中后期伯里克利主政时期, 雅典达到全盛, 奴隶制民主政治发展到高峰。为了保证贫穷公民参政议政, 伯里克利建立了
A. 公民大会 B. 四百人议事会
C. 陶片放逐法 D. 津贴制度
4. 随亚历山大东征, 许多希腊商人、学者和移民来到西亚、埃及等地, 其生活方式、风俗、语言和文字由此传入东方, 同时也从东方汲取了不少文化养分。据此可知, 亚历山大东征
A. 加速了地中海地区统一 B. 促进了东西方文化交汇
C. 打通了亚欧的商贸通道 D. 给被征服地区带来灾难
5. 西欧庄园以农业为主, 奶酪、火腿、蔬菜等食物均可自给, 鞋帽、衣服也自己制作, 很多庄园还有铁匠、金银匠等。这主要反映了西欧庄园在经济方面
A. 自给自足 B. 技术先进 C. 效率低下 D. 完全自治
6. 中世纪, 西欧城市的兴起一举改变了城市的传统角色。城市开始由依附于乡村转变为支配乡村, 开始由依附于国家权力转变为逐步独立于国家权力, 进而支配国家权力。促进欧洲中世纪城市角色转变的根本原因是
A. 市民阶层的壮大 B. 手艺人进入城市
C. 商品经济的发展 D. 王权对城市的干预
7. 在相当长的时间里, 拜占庭皇帝们始终缅怀罗马大帝国的光荣, 特别是在拜占庭帝国早期, 皇帝们无不以恢复和重振罗马帝国昔日辉煌为己任。下列符合这一表述的是
A. 编纂《罗马民法大全》 B. 变地中海为“内湖”
C. 完善法律, 制定万民法 D. 完善城邦民主政治
8. 646 年, 孝德天皇颁布改新诏书, 废除贵族私有的屯仓、田庄和部民, 把土地和部民一律收归国家所有; 中央设二官八省一台, 地方设国、郡、里; 实行征兵制。从材料中可以看出
A. 大化改新比较彻底 B. 完全照搬了唐朝的经济制度
C. 推翻了幕府的统治 D. 大化改新加强了中央的权力

9. 7 世纪,“重大的宗教改革是一种新宗教的产生,该宗教产生后不久,便冲出阿拉伯半岛,影响遍及欧亚大陆和非洲的广大地区”。这一“新宗教”是指

- A. 伊斯兰教 B. 佛教 C. 基督教 D. 犹太教

10. 近代早期,英国部分乡绅为了追逐利润,把分散的土地集中起来进行经营,他们雇用少地或无地的农民,依照市场价格的涨落及时调节生产。材料反映了这一时期

- A. 城市社会结构发生改变 B. 垦殖运动的蓬勃兴起
C. 新生产经营方式的出现 D. 资本主义制度的建立

11. “严格意义上的世界历史直到欧洲的航海家进行远航探险时才开始。在这以前,只有各民族的相对平行的历史,而没有一部统一的人类历史。”这说明新航路的开辟

- A. 使世界开始连为一个整体 B. 使东方世界从属于西方
C. 使东西方的贸易日益频繁 D. 使地圆说在世界上流行


12. “现代的文明的美国历史,是从美国人民反对英国强盗们的战争开始的。”关于美国独立战争的表述正确的有

- ①来克星顿的枪声拉开了独立战争的序幕
②华盛顿被任命为大陆军总司令
③约克镇战役是美国独立战争的转折点
④既是一次民族解放战争,也是一场资产阶级革命

- A. ①②③ B. ②③④ C. ①③④ D. ①②④

13. 法国大革命是在英美资产阶级革命取得胜利的形势下,进行的一次更大规模的革命。右下图是发生在法国大革命中的重大历史事件。对该图解读正确的是

- A. 把法国大革命推向高潮
B. 确立了“王权有限”的基本原则
C. 摧毁了法国的君主统治
D. 废除了欧洲各地的封建君主特权



国王路易十六被处死

14. “作为皇帝,他确实是一个独裁者,他不仅镇压了王党的复辟活动,而且对雅各宾和工人组织进行了残酷迫害。但他更大的贡献在于:捍卫了法国资产阶级的利益,颁布了《民法典》。材料中的“他”是

- A. 克伦威尔 B. 麦哲伦 C. 拿破仑 D. 罗伯斯庇尔

15. 恩格斯曾说:“它无疑是全部社会主义文献中传播最广和最带国际性的著作,是从西伯利亚起直到加利福尼亚止的世界各国千百万工人共同的纲领。”这部“著作”是

- A. 《人权宣言》 B. 《共产党宣言》 C. 《大宪章》 D. 《资本论》

二、填空题(本大题共 5 小题,每小题 4 分,总计 20 分)

16. 古埃及文明的象征是_____,它反映了古埃及社会经济发展的较高水平,是古埃及人智慧的结晶;希腊的人物雕刻艺术达到了一种完美境界,奥林匹亚神庙中的_____是古代世界七大奇迹之一。

17. 公元前 27 年,屋大维首创“_____”这一政治形式,掌握了最高统治实权,罗马共和国演变为罗马帝国;法兰克王国的建立者_____,是很有远见和才干的国王,在他的推动下,整个法兰克王国都信仰了基督教。

18. 12 世纪,西欧的教育与学术出现了新的气象,_____的兴起被认为是欧洲中世纪教育“最美好的花朵”;阿拉伯帝国繁荣时期,哈里发重视知识,认为“人最美的装饰是知识”,830 年,哈里发在巴格达设立“_____”,集科学院、图书馆、翻译馆于一体。

19. 英国早期贩卖黑奴的活动涉及欧洲、美洲、非洲,整个航程的路线呈三角形,故这个以贩卖黑奴为中心的贸易被称为“三角贸易”;荷兰一度控制着波罗的海、印度及美洲的全部贸易,有“海上马车夫”之称。

20. 1789年7月14日,巴黎民众攻占了象征国王统治的巴士底狱,由此引发了全国城乡的暴动,法国大革命开始了;1871年3月18日,巴黎的无产阶级和人民群众举行武装起义,推翻了资产阶级反动统治,建立了世界上第一个无产阶级政权——巴黎公社。

三、问答题(本大题共1小题,总计12分)

21. (12分)文艺复兴运动首先在意大利兴起的经济根源是什么?列举三位文艺复兴运动的代表人物及其作品。简述这场运动的影响。

四、材料解析题(本大题共3小题,总计38分)

22. (12分)阅读下列材料,回答问题。

材料一:共和时期使用习惯法,司法权又操纵于贵族,任其解释,进行司法专横,引起平民不满。罗马元老院被迫承认公民大会制定法典的决议。于公元前451年制定法律十表公布于罗马广场,次年又制定法律两表,作为对前者的补充。这是古代罗马的第一部成文法典。

——摘编自(美)斯塔夫里阿诺斯《全球通史》

材料二:



签署《独立宣言》时的场景

最高行政权属于总统,总统兼武装部队总司令,由选举产生,每届任期四年;最高立法机构是国会,由参议院和众议院组成。司法权属于各级法院,最高法院大法官由总统任命,参议院批准,终身任职,他们拥有最高司法权。

——摘编自王斯德《世界历史》

(1)根据材料一并结合所学知识,指出“古代罗马的第一部成文法典”的名称及制定的原因,并指出这一时期掌握罗马国家统治的决策权的机构。(6分)

(2)简述《独立宣言》的历史地位。材料二文字反映的是哪部法律文件?指出这部法律文件在国家权力结构方面体现的主要原则。(6分)

23. (12分)阅读下列材料,回答问题。

材料一:



哥伦布

15世纪中叶,素有“航海家”之称的亨利王子在葡萄牙设立航海学校,培养航海人才,奖励航海事业,积极筹划开辟绕过非洲到东方的新航路。“他企图攫取香料贸易”。由于“欧洲市场对香料的需求日益增加,而埃及对于转口的东方货物征税很高,这种情况自然使发现一条直接通往东方的航路具有新的价值”。

——摘编自黄顺利《地理大发现与中国海洋观的演变》

材料二：处于欧洲上升时期的人们，对黄金和财富的渴望近乎到了癫狂……仅 1545-1560 年间，西班牙每年从新大陆就运回黄金 5 500 公斤，白银 246 000 公斤……在这次世界范围内的财富大迁移的过程中，西班牙和葡萄牙成为了无可争辩的运输队，新崛起的荷兰、英国成为这次财富大迁移的最终受益者。

——摘编自《从海洋开始人生的冒险家们》


- (1) 简述哥伦布发现的新航路。根据材料一文字，概括新航路开辟的主要原因。(6 分)
- (2) 根据材料二并结合所学知识，分析“财富大迁移”产生的影响。(6 分)

24. (14 分) 阅读下列材料，回答问题。


材料一：英国议会颁布的《权利法案》，是对 1215 年《自由大宪章》以后有关民主宪政法案的重申，是对权利的重新保障。它以宪法的形式限制了王权，明确规定了议会和王权的界限，使双方避免因权限模糊而发生冲突。《权利法案》是建立君主立宪制的宪法性文件，它为现代英国政治制度的形成打下了一个基础。

——摘编自蓝金金《光荣革命对英国宪政制度的影响》

材料二：



图A改良蒸汽机



图B斯蒂芬森实验蒸汽机车

材料三：18 世纪 60 年代，以蒸汽机动力的使用为标志的工业革命引起了生产工具的变革，生产工具的变革必然导致生产的经营和管理上的变化。因此，纺织、冶炼、机器制造、造纸、玻璃等行业建立了一系列工厂，工厂制度开始形成。……工厂制度的确立，促使劳动生产率提高，加速了工业化和资本主义化。

——摘编自邹冠秀《英国工业革命时期生产模式的转换及影响》

- (1) 材料一的《权利法案》颁布于哪一年？并结合所学知识，指出英国资产阶级革命的影响。(4 分)
- (2) 材料二图 A 成就与哪一历史人物相关？图 B 斯蒂芬森实验蒸汽机车标志着铁路时代的开始，结合所学知识，指出铁路时代的到来对社会产生的影响。(4 分)
- (3) 根据材料三并结合所学知识，指出英国工厂制度建立的原因，并分析其产生的影响。(6 分)

阎良区 2021 ~ 2022 学年度第一学期期末质量检测

九年级历史参考答案及评分标准

一、选择题(本大题共 15 小题,每小题 2 分,总计 30 分)

1. B 2. B 3. D 4. B 5. A 6. C 7. A 8. D 9. A 10. C
11. A 12. D 13. C 14. C 15. B

二、填空题(本大题共 5 小题,每小题 4 分,总计 20 分)

16. 金字塔;(2 分)宙斯像。(2 分)
17. 元首制;(2 分)克洛维。(2 分)
18. 大学;(2 分)智慧宫。(2 分)
19. 三角贸易;(2 分)海上马车夫。(2 分)
20. 1789;(2 分)1871。(2 分)

三、问答题(本大题共 1 小题,总计 12 分)

21. (12 分)根源:意大利工商业有了一定的发展,一些城市出现了资本主义萌芽。(2 分)人物及作品:但丁的《神曲》;达·芬奇的《蒙娜丽莎》(或《最后的晚餐》);莎士比亚的《哈姆雷特》(或《罗密欧与朱丽叶》)等等。(每点 2 分,答出符合题意的任意三点得 6 分)影响:促进了人们思想的大解放;推动了欧洲文化思想领域的繁荣;为欧洲资本主义社会的产生和发展奠定了思想文化基础。(每点 2 分,答对任意两点得 4 分)

四、材料解析题(本大题共 3 小题,总计 38 分)

22. (12 分)(1)名称:《十二铜表法》。(2 分)原因:贵族垄断法律的解释权,平民与贵族的矛盾尖锐。(2 分)机构:元老院。(2 分)
(2)地位:是第一个以国家名义明确表述资产阶级政治要求的纲领性文献,被称为“第一个人权宣言”。(2 分)文件:1787 年美国宪法。(2 分)原则:三权分立(或分权制衡)。(2 分)
23. (12 分)(1)新航路:从西班牙出发,横渡大西洋,到达美洲大陆。(2 分)原因:封建王权的重视;航海技术的进步;欧洲对东方香料的需求;传统东西方航路的阻隔。(每点 2 分,答对任意两点得 4 分)
(2)影响:有助于欧洲殖民国家资本原始积累;促进了欧洲资本主义的发展;促成了荷兰、英国的崛起;有助于世界市场的逐渐形成;加速了西欧封建主义的衰落;加剧了被掠夺地区的灾难和落后,给殖民地人民带来了深重的灾难;欧洲文化传到殖民地,对殖民地社会的发展产生了深远的影响。(每点 2 分,答对任意三点得 6 分)
24. (14 分)(1)年份:1689 年。(2 分)影响:推翻了封建君主专制,为英国的资本主义发展开辟了道路;对世界近代历史的发展产生了重要的影响。(答对任意一点即可得 2 分)
(2)人物:瓦特。(2 分)影响:为社会提供了更为快捷、廉价、便利的交通;使生产和市场之间的联系变得更加密切。(答对任意一点即可得 2 分)
(3)原因:工业革命的进行;生产力的迅速发展;生产关系的变革;工厂的广泛建立。(每点 2 分,答对任意两点得 4 分)影响:提高了劳动生产率,加速了工业化和资本主义化。(2 分)