

道德与法治(闭卷)

(满分 70 分 时间 60 分钟)

一、选择题(17 小题,每题 2 分,共 34 分。下列每小题的四个选项中,只有一项是最符合题意的)

1. 2022 年 11 月 28 日,执行_____载人飞行任务的航天员乘组 费俊龙、邓清明、张陆在酒泉卫星发射中心问天阁与中外媒体记者集体见面,并回答记者提问。

- A. 神舟十三号 B. 神舟十四号 C. 神舟十五号 D. 神舟十六号

2. 2021 年 12 月 10 日,据国家医保局消息,跨省异地就医住院费用直接结算服务已覆盖全国所有省份、所有统筹地区、各类参保人员和主要外出人员,接入联网定点医疗机构 5.29 万家,基本实现定点医院的全覆盖以及每个县至少有一家联网定点医院的目标。2021 年 1 至 11 月,全国住院费用跨省直接结算 397.62 万人次,人均减少垫付 1.41 万元。这主要表明

- A. 改革创新是当代中国最鲜明的特色,改革一直在路上
B. 我国坚持以人民为中心的发展思想,解决民生难题
C. 党团结和带领人民突破利益固化藩篱,保障人人平等
D. 现阶段我国发展的根本目的就是解决看病难、看病贵的问题

3. “缺芯少魂”是我国科技创新领域要解决的核心问题,目前全国十八所高校已设立集成电路博士授权点,为国家培养高等芯片人才。从教育和创新关系的角度看,下列说法中正确的有

- ①发展教育有利于提高国民素质、培养创新型人才
②改革开放以来,我国的教育事业获得了巨大发展
③实施科教兴国战略有助于提升我国科技创新能力
④科技创新能力已成为综合国力竞争的决定性因素

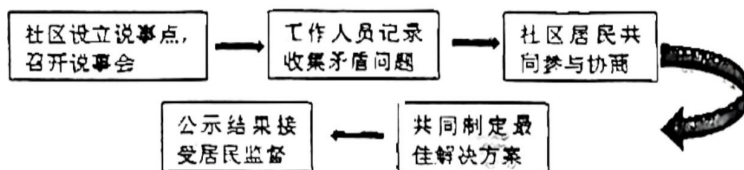
- A. ①③ B. ①② C. ②④ D. ③④

4. 2022 年 10 月 23 日,世界政党政要纷纷致电致函,热烈祝贺习近平当选中国共产党第二十届中央委员会总书记。中共二十大及习近平当选为二十届中央委员会总书记,之所以如此为世界瞩目是因为

- ①中国综合国力显著增强,国际地位日益提高
②中国在国际舞台上发挥着决定性作用
③中国共产党是我国社会主义现代化事业的领导核心
④中国是世界上影响力最大的发展中国家

- A. ①③ B. ①② C. ②③ D. ①④

5. 某社区创新“居民说事”制度,畅通民意诉求渠道,以下是“居民说事”的主要流程。这表明



- A. 人民能够直接参与管理国家事务 B. 有事好商量,众人的事情众人商量
C. 人民通过民主选举参与民主生活 D. 基层民主是社会主义民主的唯一形式

6. “仓宝”是 2022 年联合国中文日暨中央广播电视台第二届海外影像节的数字虚拟形象。“仓宝”名字来源传说中的中华文字始祖仓颉的“仓”字。它身背甲骨文小书包,头戴中国传统斗笠,携带一支“神笔”,记录美好。“仓宝”这一形象

- ①体现中华文化源远流长
②有助于让世界更好了解中华文化
③意在学习和借鉴优秀外来文化
④表明传统文化和数字技术结合才能得以传承

- A. ①② B. ①④ C. ②③ D. ③④



7. 中宣部等部门向全社会公开发布了张弥曼等 10 位“最美科技工作者”的先进事迹。这 10 位先进典型,有的矢志不移自主创新,将核心技术牢牢掌握在自己手里;有的“板凳甘坐十年冷”,用科研成果赢得世界同行尊重;有的投入社会公益,几十年如一日开展科普宣传……他们用实际行动

- ①诠释了中华民族伟大创造精神的真谛
- ②展现了新时代中国科技工作者的良好精神风貌
- ③印证了每个人都可以是创业者,都可以在创新中实现自我价值
- ④展示了舍我其谁的责任担当和造福人类的济世情怀

A. ①②③ B. ①③④ C. ②③④ D. ①②③④

8. 中华优秀传统文化是社会主义核心价值观的固有根本,是涵养社会主义核心价值观的重要源泉。下列名言哲语与社会主义核心价值观公民层面价值准则搭配不正确的是

- A. 天下兴亡,匹夫有责——爱国
- B. 敬人者,人恒敬之——敬业
- C. 言必行,行必果——诚信
- D. 出入相友,守望相助——友善

9. 2022 年 8 月 21 日,重庆北碚区歇马镇虎头村突发山火,山火逼近防火隔离带,来自四面八方的志愿者自发走上街头,用各种特殊方式运送救援物资,众志成城守护自己的美好家园。这体现了

- A. 中国人民是有伟大创造精神的人民
- B. 中国人民是有伟大团结精神的人民
- C. 中国人民是有伟大奋斗精神的人民
- D. 中国人民是有伟大梦想精神的人民

10. 中华民族精神具有与时俱进的品格,它在不同的历史时期有着不同的表现。在中国特色社会主义新时代形成的民族精神有

- ①北京冬奥精神 ②伟大抗疫精神 ③抗震救灾精神 ④载人航天精神

A. ①② B. ①③ C. ②③ D. ②④

11. 1964 年 10 月 16 日,中国第一颗原子弹爆炸成功;2003 年 10 月 16 日我国首次载人航天飞行圆满成功;2022 年 10 月 31 日梦天实验舱成功发射,中国空间站“T”字构型建成。同一天,同一个梦想。

下列能体现中国人民不懈逐梦的有

- ①且乐生前一杯酒,何须身后千载名
- ②可上九天揽月,可下五洋捉鳖
- ③长太息以掩涕兮,哀民生之多艰
- ④志之所向,无坚不入,锐兵精甲,不能御也


A. ①② B. ①③ C. ②④ D. ③④



跨越时空的问鼎

12. 生态环境部、自然资源部发布“生态保护红线”标识,标识图案取自书法和象形文字“山”的意向形,寓意“绿水青山就是金山银山”,鲜红的底线传达生态保护红线就是生态安全底线的本质。国家发布“生态保护红线”标识是为了

- A. 彻底解决社会主要矛盾,更好满足人民需求
- B. 积极宣传人与自然和谐共生,禁止开发资源
- C. 促进绿色协调发展,全面传承中华优秀传统文化
- D. 增强全社会“底线”意识,走绿色发展道路



13. 近年来,我国加速推行垃圾分类制度。46 个城市已先行实施生活垃圾强制分类,到 2020 年底,基本建立垃圾分类相关法律法规和标准体系;2025 年前,全国地级及以上城市要基本建成垃圾分类处理系统。垃圾分类

- A. 是解决我国资源和环境问题的治本之策
- B. 遏制了城乡治理和社会文明水平的提升
- C. 有利于促进能源、资源节约和环境保护
- D. 是坚持和完善基层群众自治的有益探索



14.《中共中央国务院关于优化生育政策促进人口长期均衡发展的决定》明确规定,实施一对夫妻可以生育三个子女的政策。以下内容按逻辑顺序排列正确的是

- ①人口老龄化和生育率的下降 ②促进社会经济发展,维护国家安全稳定
③我国及时放开“三孩生育政策” ④改善人口年龄结构,扩大新增劳动力供给
- A. ①→③→②→④ B. ①→③→④→②
C. ③→①→④→② D. ④→①→③→②

15. 2022年5月20日,国务院总理李克强在北京主持召开国务院第七次全体会议,决定任命李家超为香港特别行政区第六任行政长官。对此,下列认识正确的有

- ①国务院依法独立行使监察权 ②我国贯彻“一国两制”的方针
③我国坚持民族团结的基本民族政策 ④香港特别行政区接受中央统一领导
- A. ①② B. ①③ C. ②④ D. ③④

16. 中国共产党二十大报告指出:十八大召开至今已经十年了。十年来,我们经历了对党和人民事业具有重大现实意义和深远历史意义的三件大事,即

- ①迎来中国共产党成立100周年 ②中国特色社会主义进入新时代
③基本实现社会主义现代化 ④完成了全面建成小康社会的历史任务
- A. ①②③ B. ②③④ C. ①③④ D. ①②④

17. 在新冠肺炎疫情防控期间,习近平总书记先后同十多位外国领导人通电话表示,中国有能力、有信心、有底气战胜疫情,也完全有信心变压力为动力、化危为机,实现经济社会发展目标任务。稳定发展的中国经济,必能继续为全球增长注入信心和动力。今年我国要实现经济社会发展目标,需要

- ①贯彻创新、协调、绿色、开放、共享的发展理念
②发挥政府在资源配置中的决定性作用
③坚持走中国特色社会主义道路
④弘扬以爱国主义为核心的民族精神和以改革创新为核心的时代精神
- A. ①③④ B. ②③④ C. ①②④ D. ①②③

二、非选择题(4小题,共36分)

18. (8分)习近平总书记在党的历史上首次召开的中央全面依法治国工作会议上指出,全面依法治国是一个系统工程,要整体谋划,更加注重系统性、整体性、协同性。党的领导是推进全面依法治国的根本保证。法治政府建设是重点任务和主体工程,要率先突破。有同学认为,只要加强法治政府建设,就能全面依法治国。请你运用所学知识对这种观点进行辨析。

19. (8分)[参与民主生活,感受民主力量]

在学习《追求民主价值》这一课后,道德与法治老师设计了以下几个基础性和探究性作业,请你完成。

材料一:小明准备出一期关于“民主”的手抄报,同桌给他提供了很多漫画素材。(见下图)

(1)小明可以直接使用的有_____。(写出序号即可)(2分)



①



②



③



④



材料二：人民民主是社会主义的生命，是中国共产党始终高举的旗帜。人民民主是一种全过程的民主，其精髓关键就在一个“全”字。

主体“全”。从106岁老人的第18次投票，到刚满18周岁的大学生第一次行使选举权。全过程人民民主不是空头支票，而是真实让人民群众感受到自己是国家的主人。

领域“全”。从人大代表坚持问需于民、问计于民，到政协委员参与基层协商解决急难愁盼问题。完整的制度程序和完整的参与实践，使全过程人民民主扎根在中国大地。

流程“全”。从选举到立法，从治理到监督，人民的声音有地方说，说了有人听，听了有反馈。全过程人民民主使得人民利益要求既能畅通表达，也能有效实现。

(2)结合以上材料，运用所学知识，谈谈我国全过程人民民主“好”在哪里？（至少三方面，共6分）

20. (10分)某校结合《道德与法治》课程，策划了一期校园版《航拍中国》，如表是这期航拍镜头的解说词片段。请你阅读解说词，回答以下问题。




第一站，首先进入镜头的是安徽省的小岗村。1978年，这里的18位村民在土地承包责任书上签下名字按下手印，由此拉开了中国①_____的序幕。
第二站，我们来到了南国深圳。从昔日小渔村蜕变为今日的大都市，40多年来，深圳一直是“中国奇迹”的“试验田”。随着我国经济由高速增长阶段转向②_____阶段，深圳将继续深化改革、扩大开放、推进以③_____为核心的全面创新，向着建设中国特色社会主义先行示范区和国际化创新型全球标杆城市的目标，奋勇前进！
第三站，是位于祖国西南的贵州省。2020年11月23日，贵州省宣布，晴隆、望谟等9个县退出贫困县序列。至此，我国所有贫困县全部“摘帽”，④_____取得全面胜利，近1亿人消除贫困，中国人创造了又一彪炳史册的人间奇迹。
最后一站，我们来到上海，这里是中国共产党的出生地。回顾党的百年历程，只有不忘来时路，才能走好前行路，⑤_____是中国共产党矢志不渝的初心使命！

(1)请你结合情境，完成解说词内容。（每空1分，共5分）

(2)根据航拍第一站所提供的信息，我们能从中感悟到什么道理？（3分）

(3)祖国山河美如画，中国梦终将在一代代中国人的接力奋斗中变为现实。中国自信的根本所在是什么？（2分）

21. (10分)“复移小凳扶窗立，教识中天北斗星。”某校学习兴趣小组以“北斗”为主题开展探究性学习活动，同学们从不同途径搜集到以下信息，请你参与其中。

<p>材料一：北斗七星</p>  <p>“斗柄东指，天下皆春……”早在2000多年前，古人就发现了北斗七星，并赋予它定方向、计时辰、观四季的标尺地位。</p>	<p>材料二：“北斗”明灯</p>  <p>百年前，正是中华民族“跌入谷底”的至暗时刻。在那个暗夜，华路蓝缕为中华民族指引光明方向的，正是亮如北斗的中国共产党。</p>	<p>材料三：北斗导航</p>  <p>今天，北斗三号成功组网，中国成为世界上第三个独立拥有全球卫星导航系统的国家。北斗精神也将鼓舞一代代中国人接续走好长征路。</p>
--	---	---

(1)阅读上述材料，请说一说三者文化内涵上的联系。（4分）

(2)中国为什么要自主开发北斗卫星导航系统？（3分）

(3)面对百年未有之大变局，为更好地迎接挑战，我们必须坚守心中的“北斗”。结合材料，请谈谈青少年如何用心中的“北斗”为人生导航？（3分）

