

# 2022—2023 学年度第一学期期末调研考试

## 九年级历史试题

考前提示：

1. 本试卷为开卷试题，分卷 I 卷 II 两部分；卷 I 为选择题，卷 II 为非选择题；
2. 本试卷满分 100 分，考试时间为 90 分钟。

### 卷 I（选择，共 50 分）

每小题只有一个正确答案，请将答案的字母填入下表中相应位置，每题 2 分，共 50 分。

1. 小明同学参加历史手抄报比赛，手抄报内容包括“租地农场”“手工工场”“富裕农民”“市民阶层”，该手抄报比赛的主题应为（ ）

A. 西欧经济和社会发展 B. 庄园经济的衰落 C. 雇佣关系的出现 D. 垦殖运动的兴起

2. 14 世纪中期黑死病蔓延整个欧洲。从 1347-1353 年，这种疾病夺走了 2500 万条人命，约占当时欧洲总人口的三分之一。黑死病的杀伤力让人们发现，万能的上帝不能保护虔诚的信徒，信上帝不如信自己。不久之后，文艺复兴运动兴起了。以上材料陈述的是文艺复兴运动的（ ）

A. 背景 B. 经过 C. 结果 D. 影响

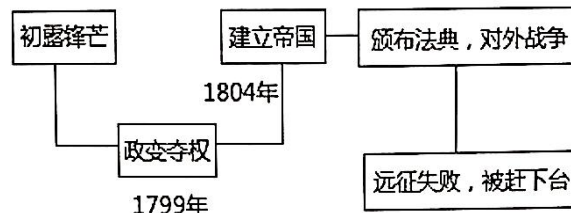
3. 有人认为哥伦布是个幸运儿，别人迷路空手而回，他迷路竟然发现了美洲。但是任何事情的发生都没有“幸运”二字这么简单，哥伦布发现美洲大陆的原因是多方面的。其中根本原因是（ ）

A. 商品经济的发展，资本主义萌芽 B. “地圆学说”、航海技术的发展  
C. 欧洲人丰富的海外探险经验 D. 葡萄牙、西班牙王室的支持

4. 学会区分历史事实和历史结论是初中历史学习要求之一。下列属于历史结论的是（ ）

A. 16 世纪，西班牙拥有一支强大的海军舰队  
B. 1588 年英国海军以少胜多，打败了无敌舰队  
C. 17 世纪，荷兰加入了殖民掠夺的行列  
D. 殖民掠夺给殖民地人民带来深重灾难

5. 下图是某同学笔记本上的知识结构图，根据所示内容判断他笔记中设计的历史人物是哪国的（ ）



A. 法国 B. 英国 C. 美国 D. 俄国

6. 英国资产阶级革命以“光荣革命”这种没有流血牺牲的方法结束。之后在议会制度的框架之内，颁布和不断完善法律法规，一步一步地进行了制度的变革。由此可见英国资产阶级革命和政治体制的发展（ ）



13. 他将一个守旧的国家推上了改革的道路，使俄国一跃成为欧洲军事强国，并开启了俄国近代化的进程。他就是（ ）

- A. 伊凡四世      B. 彼得一世      C. 亚历山大二世      D. 尼古拉一世

14. 下面漫画创作于 1865 年，画中右侧手拿木棒的人物是林肯，画上英文意为“联邦将被修复”。漫画表明在南北战争中，林肯政府的目的是（ ）

- A. 在西部地区建立自由州      B. 废除黑人奴隶制度  
C. 维护国家的统一      D. 从根本上消除南北矛盾



项

15. 历史学习需要对历史事件进行对应关系的分析。下列选关联不正确的是（ ）

- A. 文艺复兴——莎士比亚      B. 启蒙运动——伏尔泰  
C. 十月革命——列宁      D. 新经济政策——斯大林

16. 2022 年 11 月 23 日，代号为“利剑”的美日联合军演落下帷幕。回首 1853 年的美日关系，美国的培里舰队打开了日本的国门，次年日本被迫签订了《神奈川条约》。从此（ ）

- A. 日美走上了互利合作道路      B. 日美结成同盟遏制中国  
C. 日本面临严重的民族危机      D. 日本摆脱了沦为半殖民地的危机

17. 19 世纪六七十年代，资本主义世界开始了第二次工业革命。以下属于第二次工业革命的影响的是（ ）

- A. 人类进入蒸汽时代      B. 人类进入铁路时代      C. 人类进入电气时代      D. 人类进入原子时代

18. 请为以下两幅图片命名一个主题（ ）



- A. 贫富分化的加剧      B. 工业比重增加      C. 人口迅速增长      D. 工业化国家的社会变化

19. 2019 年 4 月 6 日，萨拉热窝市市长斯卡拉在电影《瓦尔特保卫萨拉热窝》博物馆开馆致辞中表示：在这个日子开馆具有特别的意义，彰显了萨拉热窝市的反法西斯价值观。关于萨拉热窝，以下表述正确的是（ ）

- A. 萨拉热窝事件是一战的导火索      B. 萨拉热窝事件是一战开始的标志  
C. 萨拉热窝事件是一战爆发的根本原因      D. 萨拉热窝事件是一战全面爆发的标志

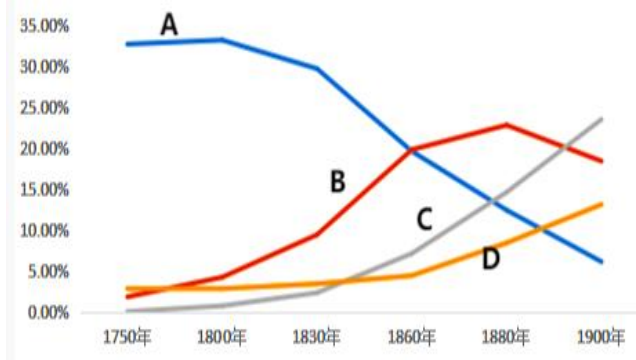
20. 1917 年 4 月，列宁提出：“不可避免的帝国主义战争使帝国主义陷于分裂并造成某些国家严重的政治经济危机，从而使得无产阶级在最薄弱的环节冲破帝国主义链条取得社会主义革命的胜利成为可能。”此观点（ ）

- A. 为二月革命的爆发奠定了理论基础      B. 为十月革命的爆发奠定了阶级基础  
C. 为二月革命提供了理论指导      D. 为十月革命提供了理论指导

21. 有人说巴黎和会中参会的各国代表大多只是“道具”，无论他们是否出席会议，都不能影响会议的决定。因为许多事情，美国的威尔逊、英国的劳合·乔治、法国的克里蒙梭、意大利的奥兰多四个人已经决定了。这说明巴黎和会（ ）

- A. 很多战胜国没有参加会议
- B. 被大国强权操纵
- C. 是一次帝国主义分赃会议
- D. 激化了战胜国之间的矛盾

22. 下面是 1750-1900 年英、美、德 中四个国家在世界制造业产值中所占比重示意图。下列对图表解读正确的是（ ）



- A. 曲线 A 为英国，在第一次工业革命期间占比最大
- B. 曲线 B 为中国，在第一次工业革命期间占比最大
- C. 曲线 C 为美国，在第二次工业革命期间占比最大
- D. 曲线 D 为德国，在第二次工业革命期间占比最大

23. 斯大林说：我们不得不鞭策我们的国家，因为它落后了一百年，并因为落后而面临灭亡的危险……否则我们会在用新技术武装起来的资本主义包围中处于手无寸铁的状况。为此，斯大林采取的措施是（ ）

- A. 实行“战时共产主义”政策
- B. 实行农业集体化
- C. 制定并完成两个五年计划
- D. 颁布新宪法

24. 第一次世界大战后，亚非拉民族民主运动高涨。下列不符合该历史趋势的是（ ）

- A. 拉美独立运动
- B. 埃及的华夫脱运动
- C. 墨西哥的科德纳斯改革
- D. 印度的非暴力不合作运动

25. 下列有关世界近代的科学、文化成就，叙述正确的是（ ）

选项	人物	作品	评价
A	牛顿	《物种起源》	打破了“上帝创造万物”的神创论”
B	巴尔扎克	《复活》	给后人留下了一部法国社会的变迁史
C	托尔斯泰	《人间喜剧》	反映了在社会转型时期俄国工人既想反抗
D	贝多芬	《英雄交响曲》	表达了作者对自由、平等、博爱的渴望

卷 II（非选择题，共 50 分）

26.（10 分）阅读材料，回答问题。

材料一 11 世纪后，随着经济的复苏与发展、城市的兴起与生活水平的提高，人们逐渐改变了以往对现实生活的悲观绝望态度，开始追求世俗人生的乐趣，而这些倾向是与天主教的主张相违背的。……当时意大利的市民和世俗知识分子，一方面极度厌恶天主教的神权地位及其虚伪的禁欲主义，另一方面由于没有成熟的文化体系取代天主教文化……

——李伯年《西方经济史》

材料二 新航路开辟后，西欧国家的殖民扩张和掠夺，给殖民地人民带来了深重的灾难。在美洲，土著居民印第安人因殖民者的屠杀，以及欧洲传染病的侵袭，种族几乎灭绝。土著居民劳动力的锐减，又引起罪恶的黑奴贸易，时间长达三四百年。

——据李其荣主编《世界通史》等

材料三 人人生而平等，他们都从他们的“造物主”那边被赋予了某些不可转让的权利，其中包括生命权、自由权和追求幸福的权利。

——人民教育出版社《世界历史九年级上册》

（1）依据材料一，概括文艺复兴兴起的原因有哪些？（3 分）“由于没有成熟的文化体系取代天主教文化”，这场运动采用了什么方式进行？（2 分）

（2）据材料二，概括美洲当地劳动力锐减的主要原因。（2 分）

（3）结合所学知识，写出材料三是哪一文献？（1 分）

（4）根据以上三则材料，概括近代欧美价值观中的两大追求。（2 分）

27. (16 分) 阅读下列材料:

材料一



图一

图二

材料二 工业化逐渐且不可挽回地改变了大自然，造成环境污染、资源枯竭和生态危机，最突出的是全球气候变暖、臭氧层空洞和公共卫生安全。人类社会面临经济增长与环境保护相矛盾的两难局面。

——张跃发《近代文明史》

(1) 材料一中，图一揭示了工业革命与世界历史之间的关系。根据图一中的结构图，写出工业革命发生的背景有哪些？(4 分)

(2) 根据材料一中图二，概括第二次工业革命的特点。(4 分)

(3) 结合所学知识，写出两次工业革命在交通运输方面的发明有哪些？(4 分)

(4) 根据材料四，概括工业革命对人类社会产生的影响。(2 分) 对我们现在的经济发展有什么启示？(2 分)

28. (13分) 阅读材料, 完成下列要求。

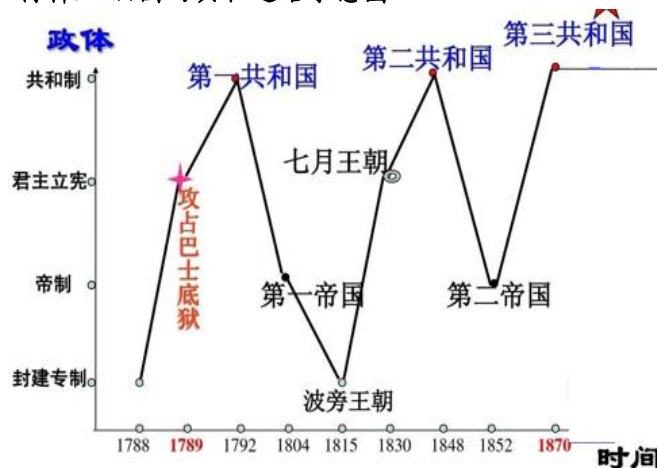
材料一 英国用“光荣革命”的非暴力手段建立了一种新的政治制度, 新制度营造出一种宽松、自由和开放的环境, 使英国第一个敲开了通向现代世界的大门, 开始了从农业向工业社会的转变。

——钱乘旦《世界现代化历程总论卷》

材料二 新华社华盛顿1月13日电(记者徐剑梅 邓仙来) 美国国会众议院13日表决通过针对总统特朗普的弹劾条款, 指控他“煽动叛乱”。特朗普成为美国历史上首位两度遭到弹劾的总统。

——新华网

材料三 法国的共和之路示意图



(1) 结合所学知识, 写出“新的政治制度”的具体名称。根据材料一, 概括该制度对英国历史发展产生的影响。(3分)

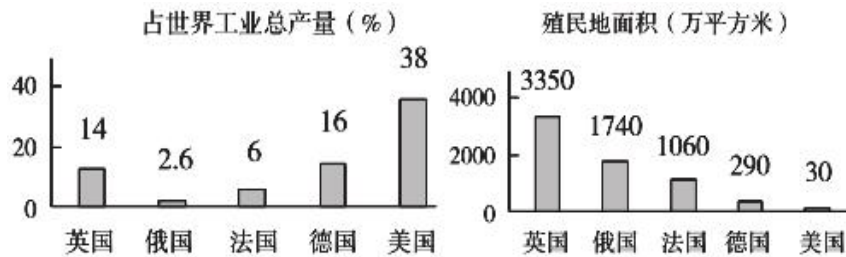
(2) 根据材料二和所学知识, 写出特朗普作为总统被弹劾是因为美国的政治体制是按照什么原则设计的? 这种设计体现了哪位思想家的观点?(2分)

(3) 根据材料三, 概括法国政治的基本特点。(6分)

(4) 根据以上三则材料, 概括人类历史发展的趋势。(2分)

29. (11 分) 阅读材料，回答问题。

材料一 1913——1914 年列强的经济实力及其占有殖民地的情况



材料二 关于一战的起因，无论是史学，国际关系学，还是政治学，都进行了深入的分析，但大致有这样几种心态：一、藐视敌人，认为本国统帅英明，士兵英勇，而敌国则统帅愚蠢，士兵懦弱，因此本国必胜无疑；二、战争正义，认为人类已经堕落，只有战争才能扫荡腐朽，净化风气；三、认为可以速战速决，只需要承受短暂的痛苦，不会持续很长时间。四、放大敌国的恶意，认为它们要毁灭本国，双方是不死不休的关系，唯有战争才是唯一的解决手段；五、窗口理论，认为随着时间的推移，敌人会越来越强大，因此晚打不如早打。在这些心态的驱使下，世界最终不可避免地滑向了战争的深渊。

——知乎网友杯中望月

材料三 一位战地记者写道：“整个树林被削平得像割去谷穗的田地，所有覆盖物弹痕累累……到处都是残骸、击破的战车、碎成一块一块的尸体……”

——岳麓书社《世界历史》(九上)

材料四 美国获得百年难逢的发财良机。大战结束时，全世界进出口总额减少了 40%，而美国的进出口贸易却猛烈扩大……到 1919 年，协约国欠美国债务约 100 亿美元。世界黄金储备的 40%在美国手中。

——基尔生《变化世界中美国的困境》

(1) 据材料一，概括第一次世界大战爆发的主要原因。(2 分)

(2) 据材料二，归纳一战前人们对战争的态度。(5 分)

(3) 根据材料三和材料四，分别概括战争带来的影响。(2 分)

(4) 根据以上材料并结合所学知识，写出一战给我们带来哪些启示？(2 分)