

2022 ~ 2023 学年度第一学期期末调研测试

初三历史试题

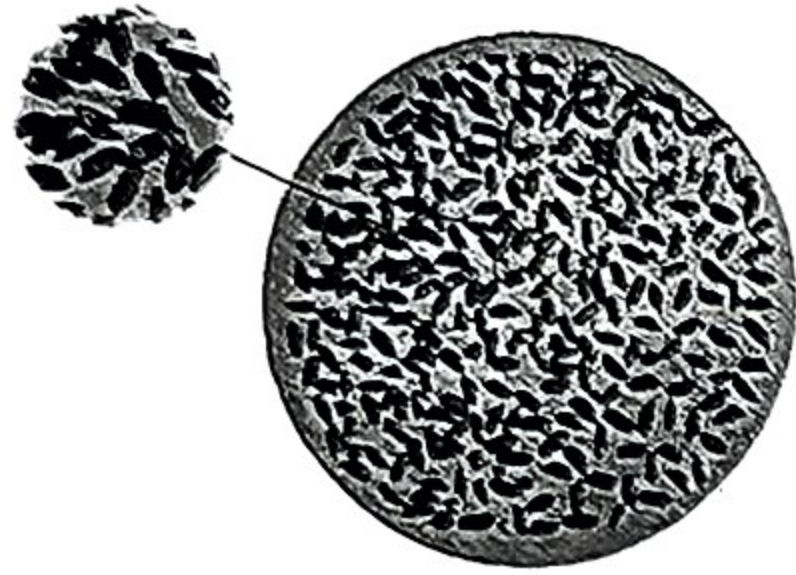
(考试时间: 60 分钟; 满分: 50 分)

请注意: 1. 本试卷分选择题和非选择题两个部分。

2. 所有试题的答案均填写在答题纸上, 答案写在试卷上无效。

第一部分 选择题 (共 24 分)

24. 考古发现是了解原始社会的重要依据。下图所示文物见证了我国史前时代哪一时期的历史



河姆渡遗址出土的稻谷



河姆渡遗址出土的猪纹陶体



人面鱼纹彩陶盆

A. 旧石器时代

B. 新石器时代


C. 青铜时代

D. 铁器时代

25. 从下面三幅图中我们可以得到的重要启示是



桀驾人车



炮烙之刑



烽火戏诸侯

A. 爱惜百姓, 广施仁政

C. 暴虐无道, 统治腐败

B. 防民之口, 胜于防川

D. 废除贵族的世袭特权

26. “尽管这一时期社会动荡, 给人民带来深重灾难, 但也促进了中原各地与周边族群的交流与融合, 为秦汉统一的多民族中央集权封建国家奠定了基础。诸子心系天下, 百家新说迭出。”材料中这一时期的阶段特征是

A. 统一多民族国家建立

C. 政权分立与民族交融

B. 社会变革与动荡

D. 早期国家的产生

27. 柳宗元说: “周之事迹, 断可见矣: ……失在于制, 不在于政, 周事然也。秦之事迹, 亦断可见矣: ……失在于政, 不在于制, 秦事然也。”材料中提到了哪两个制度

A. 禅让制 分封制

C. 分封制 郡县制

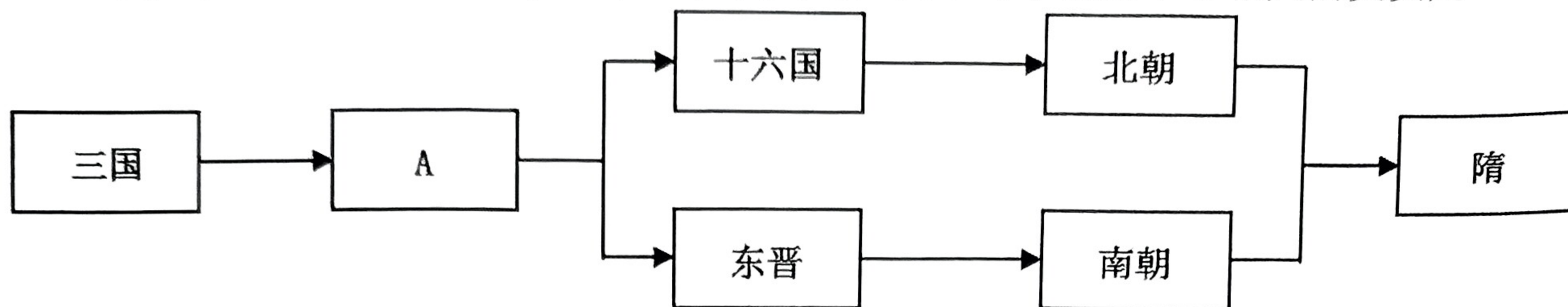
B. 世袭制 郡县制

D. 分封制 行省制

28. 当代史学研究者评价汉代开辟的丝绸之路时称: “在长达 1000 多年的时间里, 它把黄河文明、恒河文明和希腊文明等诸多人类文明起源地串联在了一起, 被誉为世界历史展开的主轴。”材料体现了丝绸之路

- A. 使世界连成了一个整体
- B. 促进了区域文明的交流
- C. 促进了资本主义的发展
- D. 促进亚非拉地区的交流

29. 下图反映了三国两晋南北朝时期的政权更迭，其中与示意图中 A 相关的史实是



- A. 定都洛阳，短暂统一
- B. 北魏改革，民族交融
- C. 定都建康，开发江南
- D. 兼并六国，中央集权

30. “北魏流行舞蹈‘方舞’，舞者佩戴两件头饰，与汉族传统舞蹈‘清商乐’相同；下装为白裤、乌皮靴，与西域‘龟兹乐’‘安国乐’相似。‘方舞’音乐安徐、闲雅，近于汉族传统，而脚下动作繁杂丰富，具有西域风格。”这一现象表明南北朝时期

- A. 政权分立加剧
- B. 民族交融加强
- C. 文学艺术繁荣
- D. 北方经济发达

31. 下列有关中国古代农业发展的表述，正确的是

- ①半坡人从事农业生产，主要种植水稻
- ②战国后期，铁制农具和牛耕出现，促进了农业的深耕细作
- ③汉初，汉高祖采取轻徭薄赋的政策，鼓励发展农业生产
- ④东晋南朝时期，江南地区普遍实行麦稻兼作

- A. ①②
- B. ①③
- C. ②④
- D. ③④

32. 《全球通史》中提及“中东、印度、中国和欧洲这四块地区的肥沃的大河流域和平原，孕育了历史上最伟大的文明。”下列对古代文明描述正确的是

- A. 古代埃及人发明了楔形文字
- B. 启建立中国历史上第一个奴隶制王朝夏朝
- C. 古代印度人创立了伊斯兰教
- D. 《汉谟拉比法典》维护了奴隶主阶级的利益

33. 《荷马史诗》是充满神话色彩的文学作品，但是，19 世纪 70 年代，德国考古学家谢里曼对照《伊利亚特》中的细致描述，发现了特洛伊古城。由此可见，《荷马史诗》

- A. 是严谨的史学巨著
- B. 有很高的史料价值
- C. 是可靠的原始史料
- D. 是希腊的唯一史料

34. 领主们在庄园里有手工作坊、磨坊和烤面包坊等，可以生产各种生活和生产所需的物品，除非万不得已，庄园很少出去采购。材料体现了西欧庄园的特点是

- A. 自给自足
- B. 等级森严
- C. 军事独裁
- D. 小国寡民

35. “这一运动使人从传统的封建神学的束缚中慢慢解放，人们开始从宗教外衣之下慢慢探索人的价值，打破了宗教神秘主义一统天下的局面，成为人们冲破中世纪层层纱幕的有力号召。”下列名言能够体现该运动精神内核的是

- A. 我的附庸的附庸不是我的附庸
- B. 人类是宇宙的精华
- C. 全世界的无产阶级要联合起来
- D. 上帝面前人人平等

36. 斯塔夫里阿诺斯认为，“文艺复兴不再被认为是与漆黑一团的中世纪相对立的时期，也不是一个断代时期或转折点，而是从中世纪转向近代文明的一个过渡时期。”他意在强调文艺复兴

- A. 否定了中世纪的文化
- B. 推翻了封建专制制度
- C. 推动欧洲的社会转型
- D. 阻碍了近代经济发展

37. 下面是欧洲某航海家探险过程大事记（部分）。据此可知，这位航海家是

第一年：8 月 10 日，他率领船队从塞维利亚港出发；11 月 29 日，到达巴西海岸。
第二年：3 月 31 日，船队驶入圣胡利安港准备过冬；8 月底，船队驶出圣胡利安港，寻找通往“南海”的海峡；10 月 21 日，船队找到了通往“南海”的峡道；11 月 28 日，船队在“南海”一直没有遭遇到狂风大浪，他就给“南海”起了个吉祥的名字，叫“太平洋”。

- A. 迪亚士
- B. 达·伽马
- C. 哥伦布
- D. 麦哲伦

38. “这场革命的效果就是摧毁若干世纪以来绝对统治欧洲大部分人民的、通常被称为封建制的那些政治制度，代之以更一致、更简单、以人人平等为基础的社会政治秩序。”“这场革命”发生在

- A. 英国
- B. 法国
- C. 印度
- D. 美国

39. 它的诞生是人类思想史上的伟大革命。它第一次确立科学的世界观和方法论，不仅为全世界无产阶级和全人类的解放指明正确的道路，而且为各门科学的发展提供了锐利的武器。由此可知，这一“武器”是

- A. 牛顿力学体系
- B. 文艺复兴
- C. 马克思主义
- D. 启蒙运动

40. “现代的文明的美国历史，是从美国人民反对英国强盗们的战争开始的。”关于美国独立战争的表述正确的有

- ①来克星顿的枪声拉开了独立战争的序幕
- ②华盛顿被任命为大陆军总司令
- ③约克镇战役是美国独立战争的转折点
- ④既是一次民族解放战争，也是一场资产阶级革命

- A. ①②③
- B. ②③④
- C. ①③④
- D. ①②④

41. 如表所示史实反映的共同主题是

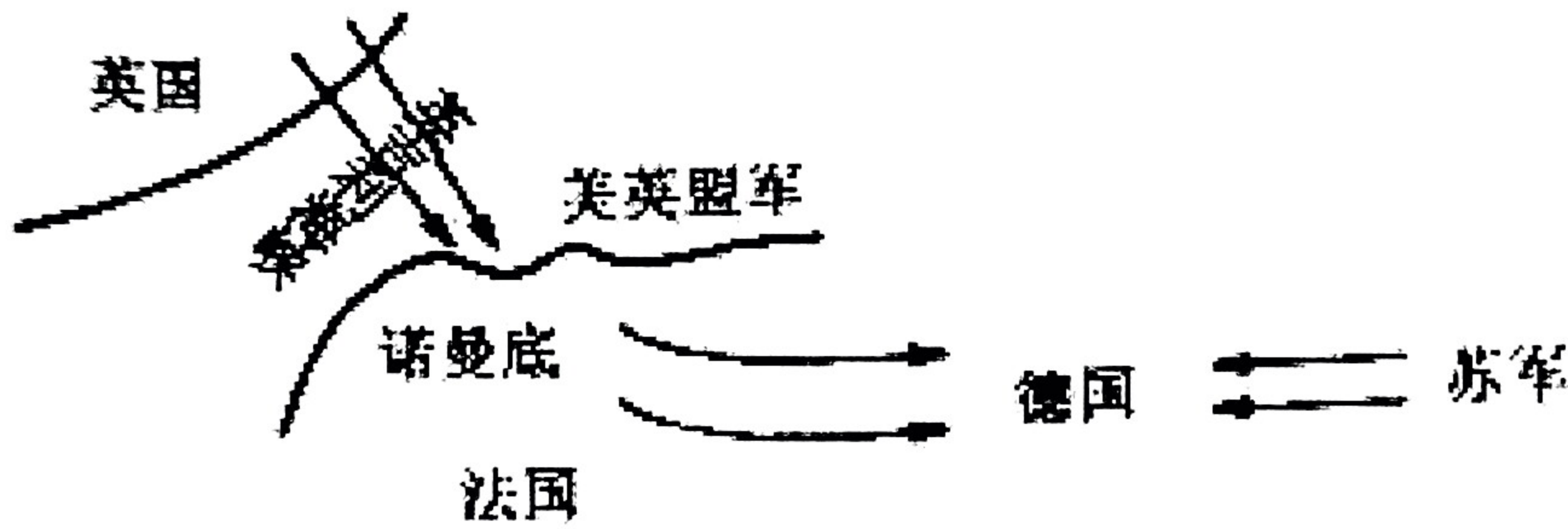
国家	史 实
俄国	废除农奴制，农奴可以获得人身自由
美国	《解放黑人奴隶宣言》
日本	废藩置县，加强中央集权；殖产兴业

- A. 资本主义制度初步确立
- B. 资本主义制度的扩展
- C. 殖民地人民的反抗斗争
- D. 资产阶级性质的改革

42. 某西方史学家描述：在西方的经济确实是一团糟的时候，苏联正在继续进行经济发展方面的独特实验。该实验中对农业采取的措施是
- A. 推行余粮收集制 B. 征收粮食税 C. 农业集体化运动 D. 粮食收购制
43. 一战后到二战前，亚非拉某国民众采用合法的、和平的手段争取自由和平等的权利，实现民族自治和民族独立。这种抗争方式是在其独特的历史文化背景下形成的，该运动领导人是
- A. 圣马丁 B. 卡德纳斯 C. 卡斯特罗 D. 甘地
44. 1935 年到 1942 年，美国政府花费 130 多亿美元大规模修建了众多公共工程。下表体现的罗斯福新政的措施是

公共建筑	新道路	新桥梁	新机场	地下水道
12.2 万幢	66.4 万英里	7.7 万座	285 个	2.4 万英里

- A. 大力整顿金融体系 B. 全面调整农业政策
- C. 推行“以工代赈” D. 建立社会保障制度
45. 示意图有助于历史的学习。对下图所示战役示意图解读正确的是









- A. 粉碎德军不可战胜的神话 B. 开辟了欧洲第二战场
- C. 第二次世界大战的转折点 D. 使二战达到最大规模
46. “19 世纪中叶以前，欧美各国的城市建筑一般都在 6 层以下，主要原因在于垂直交通的限制。1852 年，美国的奥蒂斯兄弟公司发明蒸汽动力升降机。1889 年纽约的迪马列斯特大楼安装了主要用于运货的电动升降机，从此名副其实的“电梯”出现。”材料中高层建筑出现的原因不包括
- A. 工业革命开展 B. 互联网技术应用
- C. 城市化的推动 D. 垂直交通的突破
47. 1980 - 2010 年，全球贸易额从 1.8 万亿美元增至 15 万亿美元；1988 年全球跨国公司 2 万家，2006 年达到 7.7 万家。这反映了 20 世纪八九十年代以来
- A. 世界贫富分化的加剧 B. 多极化趋势不断发展
- C. 经济全球化趋势加强 D. 发展中国家地位提高

第二部分 非选择题（共 26 分）

48. 坚持和发展马克思主义，必须同中华优秀传统文化相结合。中华优秀传统文化源远流长、博大精深，是中华文明的智慧结晶。阅读下列材料，回答问题。（9 分）

材料一

汉字“中国”演变的历程

	金文	小篆	隶书	楷书
				

（1）请将材料一中空缺处补充完整，并根据材料一概括汉字演变的特点。（2 分）

材料二 在“百家争鸣”的过程中，不同思想间的融合不可避免地发生了。例如荀子，他批评庄子“蔽于天而不知人”，但却吸收庄子和道家的天论，而发展出“天人之分”的学说。另如杂家，“兼儒墨，合名法”，用拼凑式的做法把各家思想综合起来……战国中后期思想领域的这些趋势，为汉初的思想融合以及意识形态的最终确立奠定了重要的基础。

——摘编自王博《奠基与经典：先秦的精神文明》

（2）根据材料二，概括战国中后期思想领域发展的趋势。材料二中“意识形态的最终确立”与汉武帝推行的哪项措施有关？带来了怎样的影响？（3 分）

材料三

小唐同学学习中国古代史后，想编写一本《魏晋南北朝的科技与文化》，以下是他的部分目录，请你帮他完成：

【魏晋南北朝的科技与文化】

第一章 农学成就

《齐民要术》 贾思勰

第二章 书法成就

A.....

第三章 B.....

(3) 请参照示例并结合所学知识，将第二章 A 处的内容补充完整。按照第一、二章的样式续写第三章 B 处目录。(3 分)

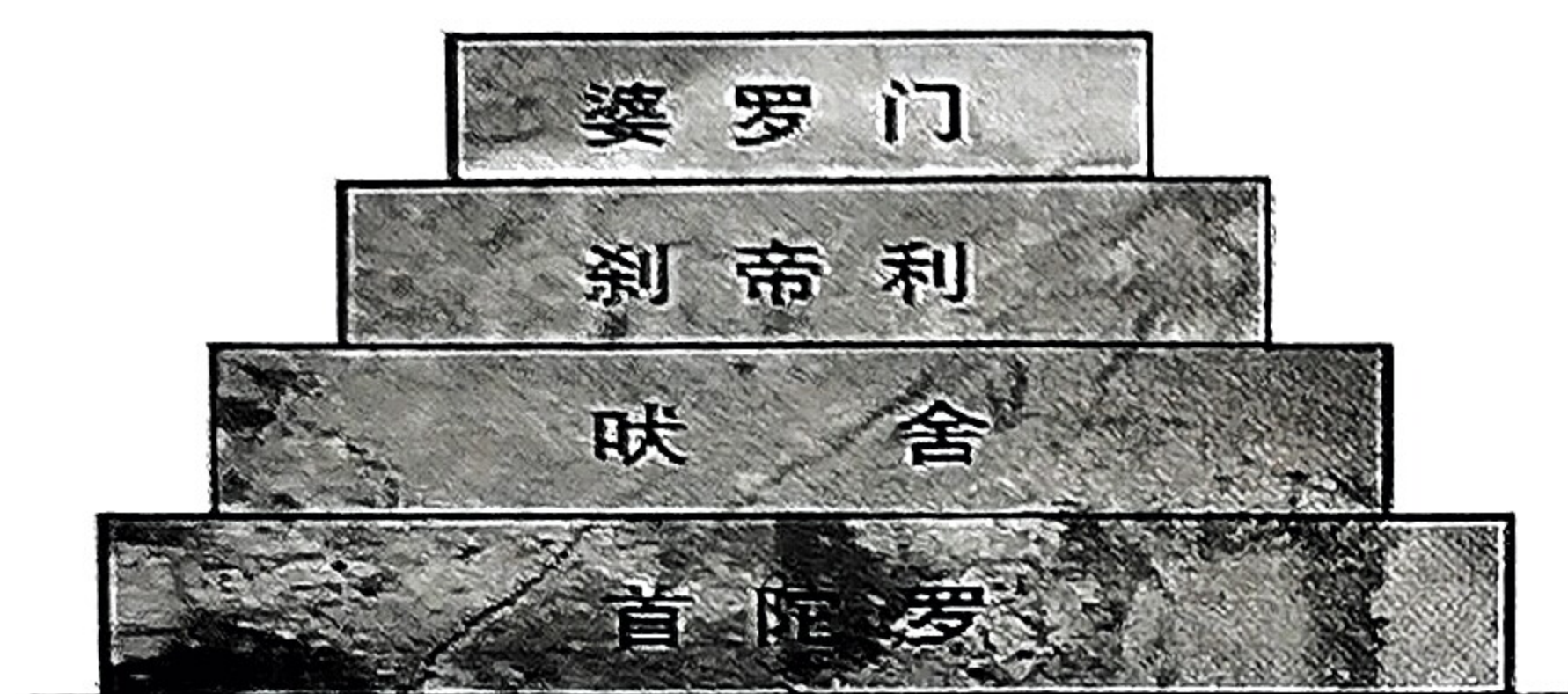
材料四 中华优秀传统文化源远流长、博大精深，是中华文明的智慧结晶，其中蕴含的天下为公、民为邦本、为政以德、革故鼎新、任人唯贤、天人合一、自强不息、厚德载物、讲信修睦、亲仁善邻等，是中国人民在长期生产生活中积累的宇宙观、天下观、社会观、道德观的重要体现，同科学社会主义价值观主张具有高度契合性。

——习近平《中国共产党第二十次全国代表大会报告》

(4) 根据材料四并结合所学知识回答，材料中“民为邦本、为政以德”对我们当今社会有何借鉴意义？(1 分)

49. 民主政治是人类重要文明成果之一。法制建设是社会进步的重要体现，也是社会发展的必然要求。阅读材料，回答下列问题。(9 分)

材料一



图一



图二 《汉谟拉比法典》

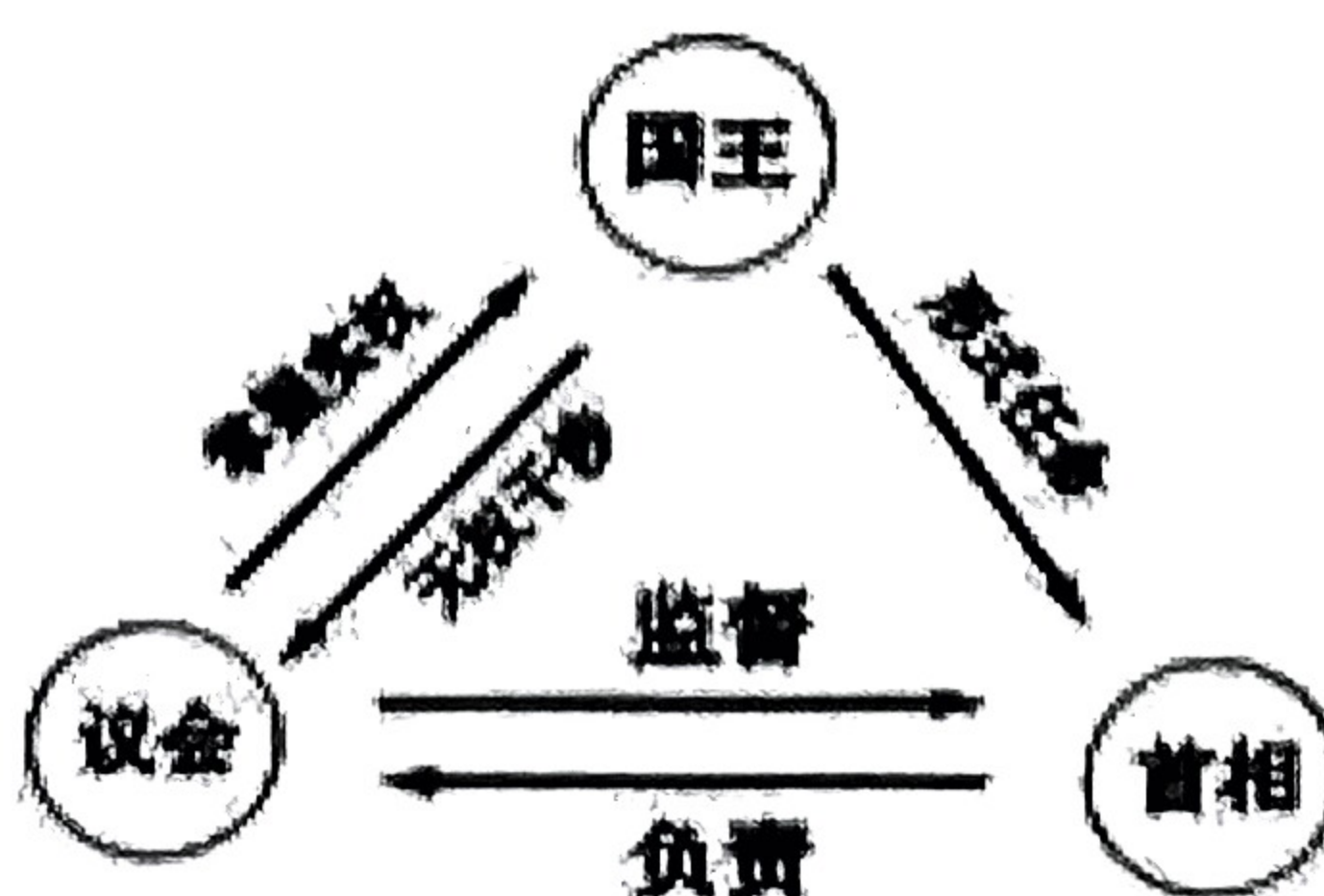
(1) 图一反映了哪一文明古国实行的哪一制度？图一制度和图二法典颁布的共同本质是什么？(2 分)

材料二 雅典民主开世界民主之先河，雅典的繁荣离不开三次民主改革第一次梭伦改革，奠定了雅典的基础……第二次克里斯提尼改革，使雅典跨上一个新台阶……第三次使雅典经济、海上霸权、古典文化臻于极盛。他们控制着国家的权力，创造了一种集体管理的新形式，还取消了财产和等级的限制，使政府官职向全民开放，并且创建公民大会作为城邦的权力核心。

——摘自郝海瑛《论古希腊雅典的三次民主改革及其影响》

(2) 材料二中“第三次改革”是谁主政时期？据材料指出，这次改革的影响是什么？(2 分)

材料三



(3) 材料三中所示的政治体制有何特点？结合所学知识，指出该政治体制确立的法律依据。
(2分)

材料四 1789 年 8 月 26 日，宣言获得通过……它试图构建未来，并为未来制定规则。这是它一直在从事的工作，也是大革命永恒的遗产。正是通过这些原则，一个新时代展露在人类面前。

——（英）阿克顿《法国大革命讲稿》

(4) 材料四中的“宣言”是哪一法律文献？结合所学知识，谈谈你对材料四中“正是通过这些原则，一个新时代展露在人类面前”的理解。(3分)

50. 20 世纪以来，世界格局发生了很大的变化。阅读材料，回答问题。(8 分)

材料一 1870-1913 年，英、美、德、法四国工业占世界比重

国家	英国	法国	美国	德国
1870 年	31.8%	23%	13.2%	13%
1890 年	20%	10%	30%	16%
1913 年	14%	6%	36%	17%

(1) 依据材料一，分析 1870--1913 年英、美、德、法四国工业占世界比重的变化。结合所学知识回答，这一变化导致了哪一新的世界格局的形成？(2分)

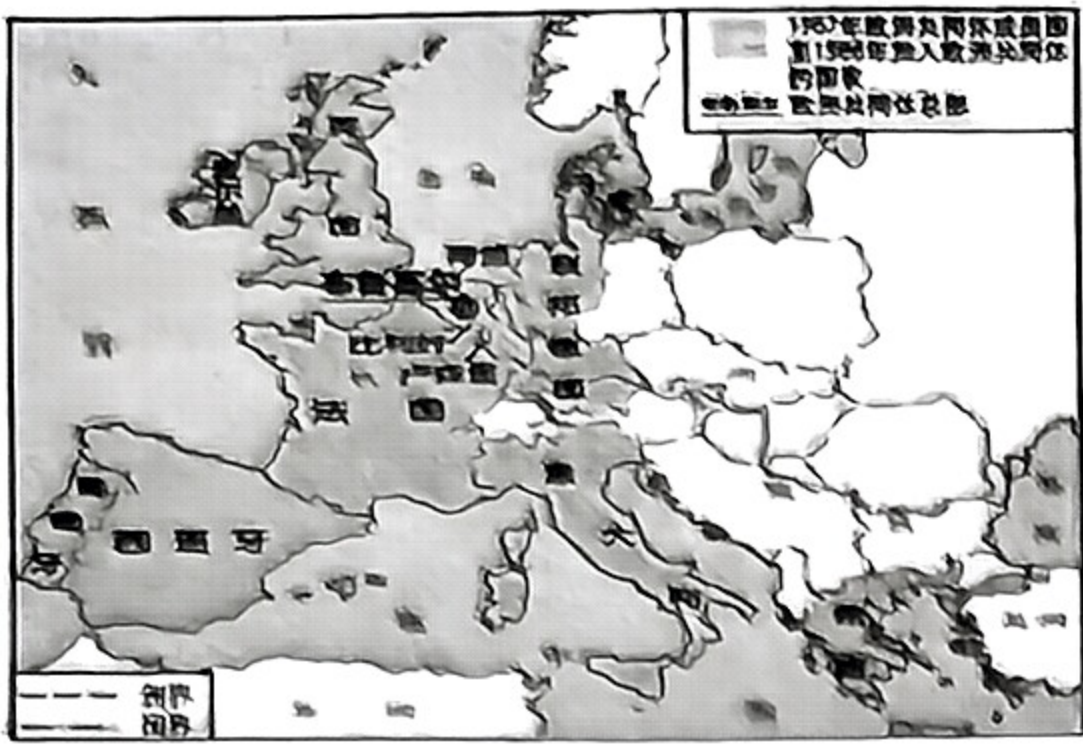
材料二 取消红军名义及番号，改编为国民革命军，受国民政府军事委员会之统辖，并待命出动，担任抗日前线之职责。 ——《中共中央为公布国共合作宣言》	材料三 每一政府各自保证对与各该政府作战的三国同盟成员国及其附从者使用其全部资源，不论军事的或经济的。 ——《联合国宣言》
--	--

(2) 根据材料二，概括两则“宣言”反映的时代诉求及其产生的共同影响。材料三中“三国同盟成员国”指的是哪些国家？(3分)

材料四 通过直接或间接侵犯而强加于各国自由人民的极权政体，削弱着国际和平的基础，因而也危害着美国的安全……世界各国的自由人民都在期待我们的支持，以维护他们的自由。
——1947 年 3 月 12 日杜鲁门在国会讲话咨文

(3) 材料四中的“极权政体”主要指哪个国家？根据材料并结合所学知识，回答这篇咨文的影响。(2 分)

材料五



欧共体成员国示意图



不结盟国家和政府首脑会议会场

(4) 材料五反映的史实对世界格局有何共同影响？(1 分)