

# 2022 年秋学期期末学情调查

## 九年级历史试题


(考试时间: 60 分钟 满分: 50 分)

- 请注意: 1. 本试卷分选择题和非选择题两个部分。  
2. 所有试题的答案均填写在答题卡上, 答案写在试卷上无效。

### 第一部分 选择题 (共24分)

请注意: 在下列各题的四个选项中, 只有一项是最符合题意的。(每小题 1 分, 共 24 分)


24. 榫卯, 是利用凹凸结构相互咬合实现连接的木构件工艺(见下图)。中国迄今为止发现的最早榫卯木构件出土于浙江河姆渡遗址。河姆渡人可能利用这项技术



榫卯结构示例图

- A. 制作精美玉器
- B. 制作青铜农具
- C. 建造干栏式房屋
- D. 建造半地穴式房屋

25. 下面是某同学制作的年代标尺, 下列说法正确的是



- A. ①是夏朝, 建立者是启, 是我国第一个奴隶制王朝
- B. ②是商朝, 司母戊鼎是该王朝时期青铜器的代表作
- C. ③是周朝, 周天子通过郡县制来加强对地方的管理
- D. ④是东周, 先后分为战国和春秋两个时期, 出现了民族的交融

26. 《华阳国志》记载: “水旱从人, 不知饥谨, 时无荒年, 天下谓之‘天府’也。”成都平原变为“天府”之国直接得益于

- A. 铁犁牛耕的推广
- B. 商鞅变法的实施
- C. 秦朝统一的完成
- D. 都江堰的修建

27. 中华优秀传统文化博大精深。以下材料体现的共同思想是

- 以百姓心为心——《道德经》
- 政之所兴, 在顺民心; 政之所废, 在逆民心——《管子·牧民》
- 民为贵, 社稷次之, 君为轻——《孟子·尽心下》
- 为君之道, 必须先存百姓——吴兢《贞观政要》卷1《君道》

- A. 以民为本
- B. 重视人才
- C. 天人合一
- D. 兼爱非攻

28. 有学者认为, 古代丝绸之路不仅使中国的丝绸远销以罗马为中心的地中海世界, 更大的贡献还在于沟通了东西方经济文化交流。能佐证这一观点的是

- ①中国指南针传入朝鲜                      ②罗马的玻璃器皿等传入中国  
③中国茶叶、瓷器等远销美洲              ④中国活字印刷等技术传入欧洲

A. ①②                      B. ①④                      C. ②④                      D. ③④

29. 时序性是历史学科的基本属性之一。下列战争是我国历史上以少胜多的著名战役, 按照时序排列正确的是

- ①巨鹿之战      ②官渡之战      ③淝水之战      ④赤壁之战

A. ①②③④                      B. ①②④③                      C. ②③①④                      D. ③①④②

30. 在抗击新冠肺炎疫情的过程中, 中医中药发挥了重要作用。下列关于中国古代医学成就说法正确的是

- A. 华佗编写了《伤寒杂病论》                      B. 张仲景发明“麻沸散”, 创编“五禽戏”  
C. 扁鹊编写了《齐民要术》                      D. 李时珍编写药物学著作《本草纲目》

31. 隋朝开通的大运河, 成为连接富庶经济地区与国都的纽带; 唐代继承并发展了隋朝的建设成果, 使这一主干交通构成了“奉长安文化为中心, 仰东南财赋以存立”的唐王朝生命线。材料反映了隋唐时期

- A. 人工运河修建技术领先世界                      B. 水路运输成为主要交通形式  
C. 经济重心南移产生重大影响                      D. 交通建设促进国家统一稳定

32. “发迹的阶梯是对任何人都开放的, 无论其家庭、出身和宗教信仰如何。事实上, 在不同社会集团之间存在着相当大的流动性: 权势之家或名门望族可能会因子孙不肖而败落, 而出身低微者则会通过这种制度发达。”材料表明科举制

- A. 提高了政府的行政效率                      B. 有利于社会各阶层流动  
C. 根据血缘关系选拔人才                      D. 会使名门望族败坏名声

33. “限于当时的国力, 节度使很少得到中央政府的津贴, 必须由自己在防区内自给自足地筹措招兵买马、屯粮制械的费用。这种做法的负面效应是明显的, 节度使对中央政府的离心力日渐增大。”这直接导致了

- A. 八王之乱                      B. 安史之乱                      C. 官吏冗余                      D. 宦官专权

34. 宋太祖曾说: “朕选儒臣干事者百余人, 分治大藩(节度使辖区), 即使他们都贪浊, 也不及武臣一人为害之大。”下列措施中最符合这一治国理念的是

- A. 派文臣担任地方知州                      B. 在边境重地设立藩镇节度使  
C. 分化相权, 强化君权                      D. 设转运使, 将财权收归中央

35. 公元10世纪到13世纪, 中华大地呈现出民族政权并立的局面。这些政权虽由不同民族建立, 但都为中华民族的发展做出了贡献。以下属于这个时期的少数民族政权有

- ①辽      ②北宋      ③金      ④南宋      ⑤西夏

A. ①②③④⑤                      B. ①③⑤                      C. ①②③⑤                      D. ①②③④

36. 元代“四等人制”下的汉人、南人中绝大部分都是汉族，“先灭金所得者为汉人；后灭宋所得之江南人为南人”。蒙古统治者将汉人、南人进行区分的目的是

- A. 加强民族团结交融
- B. 促进民族的平等发展
- C. 分化管理加强统治
- D. 中央与地方互相牵制

37. 清朝前期，江宁（今南京）著名的机户李扁担、李东阳等，都各自拥有织机五六百张；广州府佛山镇经营棉织业的手工工场达 2500 家，织工超过 50000 人，每一家工场平均有 20 人。这充分表明

- A. 清代已经出现相对成熟的手工业工场
- B. 清代新兴资产阶级已经取代地主阶级
- C. 清政府曾暂时放宽对民间设厂的限制
- D. 这种工场有效抵制了西方的经济侵略

38. 中国古代出现过“文景之治”“光武中兴”“贞观之治”“开元盛世”“康乾盛世”等治世、盛世局面，它们具备的共同历史条件是

- A. 罢黜百家，独尊儒术
- B. 民族交往密切，海外贸易发达
- C. 国家统一，社会稳定
- D. 君主专制加强，科举制度完善

39. 每一个历史时期都有着鲜明的时代特征。下表④处的时代特征是

夏商周	秦汉	三国两晋南北朝	隋唐	宋元	明清
早期国家与社会变革	①	②	繁荣与开放的时代	③	④

- A. 统一多民族国家的建立和巩固
- B. 民族关系发展和社会变化
- C. 统一多民族国家的巩固与发展
- D. 政权分立与民族交融

40. 我国历代王朝都重视对边疆地区的管辖。清朝为加强对西北地区的管辖，设置了

- A. 西域都护
- B. 伊犁将军
- C. 北庭都元帅府
- D. 驻藏大臣

41. 漫画具有一定的时代意义。右面漫画反映的历史事件

- A. 标志着中国近代史的开端
- B. 学习了西方的政治制度
- C. 是中国第一次近代化运动
- D. 使中国走上了富强之路



42. 中国近代民族工业在帝国主义、封建主义的双重压迫下艰难生存。西方列强在华取得的下列权益中，对中国近代民族工业发展影响最大的是

- A. 《南京条约》割香港岛给英国
- B. 《马关条约》允许日本在通商口岸开设工厂
- C. 《北京条约》的赔款额度大幅增加
- D. 《辛丑条约》清政府保证严禁人民参加各种形式的反帝活动

43. 史实是历史事实，史论是对历史事件和历史人物的评论。下列选项中属于史论的是

- A. 1905 年 8 月，中国同盟会在日本东京成立
- B. 1912 年 1 月 1 日，中华民国临时政府成立
- C. 1912 年 2 月 12 日，宣统帝下诏退位，清朝统治结束
- D. 辛亥革命开创了完全意义上的近代民族民主革命

44. 电视剧《觉醒年代》展现了从新文化运动、五四运动到中国共产党建立这段波澜壮阔的历史画卷，下列口号与“文明其思想，野蛮其体魄”这句经典台词相似的是



- A. 批判封建文化病灶，探索社会改革良方
- B. 打倒列强，除军阀
- C. 共争青岛归还，同看国贼罢黜
- D. 北斗领航，百年九域千秋旺；南湖扬帆，五岳三川一片红

45. 欧洲文明长期以来吸引着世界的眼球。欧洲人强烈的反省精神打造了哲学的深度，不断追寻的精神开创了民主的先河，在与蒙昧和野蛮的交战中，逐渐形成了复杂而独特的“欧洲模式”。上述材料中提及的“欧洲文明”的源头是

- A. 古希腊文明
- B. 古巴比伦文明
- C. 古代埃及文明
- D. 古代印度文明

46. “13 世纪的西欧庄园法庭曾留下这样的记录：佃户因为没有认真耕种领主的田地，被罚款 6 便士；佃户的家畜误入领主的园子，被罚款 6 便士。”分析材料，无法从中得出的结论是

- A. 庄园法庭维护封建领主的利益
- B. 庄园法庭具有司法权
- C. 庄园法庭以罚金的形式惩罚违法行为
- D. 出席法庭是佃户的义务

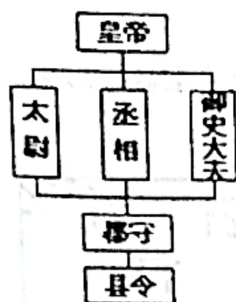
47. 1920 年 8 月，《共产党宣言》中文全译本出版，译者陈望道在翻译此书时，曾把墨汁当红糖水蘸粽子吃，留下了“真理的味道真甜”的佳话。下列选项与译著中“真理味道”无关的是

- A. “城市的空气使人自由”
- B. 号召无产阶级建立自己的政党
- C. 工人阶级创造了巨大的社会财富
- D. 号召工人阶级进行无产阶级革命

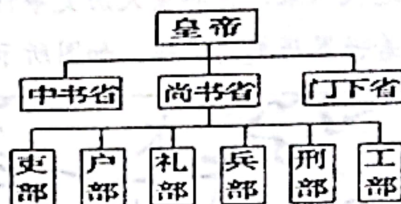
## 第二部分 非选择题（共 26 分）

48.（8 分）古今中外的许多国家都注重对官吏的管理，加强对权力的制约、监督，防止权力的滥用误用，遏制腐败现象的出现。阅读材料，回答问题。

材料一



图一 秦朝行政系统简表



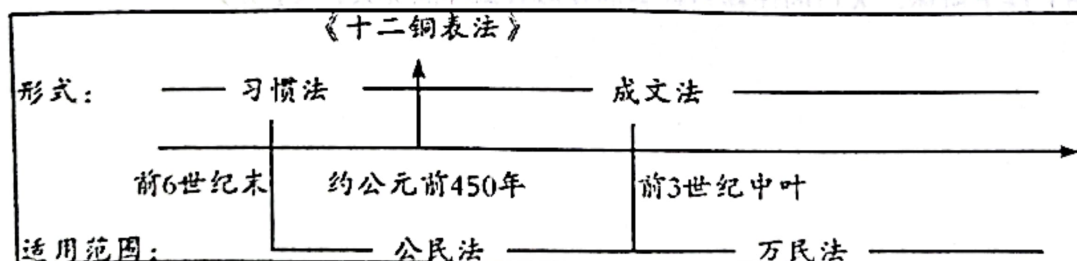
图二 唐朝行政系统简表

（1）根据行政系统简表，结合所学知识，说出图一中负责监察百官的官职以及图二制度的特点。（2 分）

材料二 南宋诗人陈亮称赞：“自古中兴之盛，无过于光武。”——《龙川文集》

（2）结合所学知识，说明汉光武帝是如何加强对官吏的管理。（1 分）

材料三



（3）根据材料三和所学知识，概括《十二铜表法》的重要意义，并指出罗马法经历了怎样的发展变化。（3 分）

材料四 从逻辑上说，权力监督中的权力，是一种外在的权力；从功能上说，它最多只能起到事后的作用。同时，由于监督权本身也是一种权力，它也必须受到监督。于是就会产生一种监督权由谁来监督的问题。而权力制衡中的权力则不同，它是一种内在的权力。在权力制衡中，每一个权力的行使者都具有权力的行使者和权力的制约者的双重身份。权力

的行使者不仅受到其他权力的约束，而且也同时约束着其他权力。

——蒋德海《为什么说权力制衡比权力监督更重要》

(4) 根据材料并结合近代英美的历史，举例说明英美是如何“有效地制约权力”。(2分)

49. (9分) 海洋对人类文明的发展进步有着巨大的影响，人类社会的历史进程一直与海洋息息相关。阅读材料，回答下列问题。

材料一 十一至十三世纪，印度洋已成了大宋商船的天下。……宋朝从海上贸易中抽税近二百万贯，以百分之十的税率计算，可以推算出，宋代每年的进出口总额约为二千万贯。……一位宋朝诗人写过一首描述泉州港贸易的诗：“苍官影里三洲路，涨海声中万国商！”

——吴钩《宋代：中国的大航海时代》

(1) 由材料一及所学知识，写出宋朝管理海外贸易的机构名称，以及促使宋朝“大航海时代”来临的技术原因。(2分)

材料二 乾隆二十二年(1757年)，清高宗下令关闭江海关、浙海关、闽海关，指定外国商船只能在……并对丝绸、茶叶等传统商品的出口量严加限制；对中国商船的出洋贸易，也规定了许多禁令。

——樊树志《国史概要》

(2) 材料二反映了清朝对外实行什么政策？结合所学知识，分析该政策产生的后果。(2分)

材料三 御外之道，莫切于海防；海防之要，莫重于水师。

——1874年《江苏巡抚吴元炳奏议》

(3) 据材料三，指出“御外之道”的关键是什么？为此，洋务派是怎样做的？(2分)

材料四 17世纪以后，英国走上了殖民争夺的道路。它相继打败竞争对手西班牙、荷兰法国。到18世纪后半期，英国已经成为世界上最强大的殖民国家……英国开始进行工业革命。

——人教版《世界历史》九年级上册

(4) 据材料四及所学知识，归纳英国开始进行工业革命的原因。(2分)

材料五 海纳百川是中国文化传统的精华之一，体现了包容并蓄的美德，……构建“和谐海洋”，保护海洋生态环境，坚持和平走向海洋、建设“强而不霸”的新型海洋强国，已成为中华民族走向海洋文明进而实现伟大复兴的重要步骤。

——人民网

(5) 综合以上探究，请你就如何构建和谐海洋提一条建议。(1分)

50. (9分) 人口的迁移对社会的发展有着重要的影响。阅读材料，回答问题。

材料一 历史上著名的“民族大迁徙”，主要是指日耳曼人从公元4世纪末到6世纪末，持续200年之久向着罗马帝国境内的大规模迁徙。……民族大迁徙结束后，在西罗马帝国的废墟上出现了十几个“蛮族”国家，其中最为强大的是481年建立的法兰克王国。……民族大迁徙使古典的奴隶制社会形态一去不复返，人类历史由此进入一个更成熟的发展阶段封建社会。

——摘编自张五钢《日耳曼民族的大迁徙》

(1) 依据材料一概括“民族大迁徙”的影响。结合所学知识，指出法兰克王国实行什么制度来规范上下级关系？(2分)

材料二 西晋永嘉年间（繁华京师成战场）黄河流域广大人民……被迫大规模迁徙到江淮流域。这次南迁使秦汉以来人口分布显著的北多南少格局开始发生变化。……这是中国人口分布中心向长江流域转移的标志性事件。安史之乱使大批北方居民南下逃避战乱，从根本上改变了中国人口分布以黄河流域为重的格局，我国南北人口分布第一次达到均衡。

——摘编自纪录片《菱角观潮史》

(2) 材料二中的两次人口迁徙的共同原因是什么？产生了什么影响？(2分)

材料三 中国之南洋……明初，遣太监郑和等航海招致之，来者益众。……而闽广之民，造舟涉海，趋之如鹜，或竟有买田娶妇，留而不归者，殆不下数十万人。

——清·徐继畲

(3) 据材料三结合所学回答，明初南洋人口的增加与哪一历史事件有关？人口的移居对南

洋地区产生怎样的影响？（2分）

材料四 近代以来，世界重大历史事件都会对人口的流迁和变化产生显著影响，这种现象深刻影响着世界历史的进程。如图所示：



(4) 根据材料四，指出 1500 年后促使世界人口迁移的事件及人口迁移的主要方向。（2分）

(5) 综上所述，人口的迁移与社会的发展有怎样的关系？（1分）

1500年前	1500-1800年	1800-1900年	1900年后
人口迁移	人口迁移	人口迁移	人口迁移
人口迁移	人口迁移	人口迁移	人口迁移
人口迁移	人口迁移	人口迁移	人口迁移