

2022-2023 长春市二道区英俊中学九年级上学期 1 月期末线上测试

历史

命题人：李洋 审题人：李想

全卷满分 60 分，考试时间为 50 分钟。考试结束后，将本试卷和答题卡一并交回。

注意事项：

1. 答题前，考生务必将自己的姓名、准考证号填写在答题卡上，并将条形码准确粘贴在条形码区域内。
2. 答题时，考生务必按照考试要求在答题卡上的指定区域内作答，在草稿纸、试卷上答题无效。

一、九上单选题（每题 1 分）

1. 有这样一位历史人物，他出生于德国，他的一生是胸怀理想、为人类解放奋斗的一生。他的著作有《共产党宣言》、《资本论》……据此判断这位历史人物是（ ）

- A. 伏尔泰 B. 马克思 C. 恩格斯 D. 孟德斯鸠

2. “但丁、彼特拉克、薄伽丘三位大师的才华第一次照亮了夜空，他们尝试着摆脱神学的虚伪，将世间的幸福和情感融入文学作品，成为文艺复兴开创时期的三颗巨星。”这些文学作品充分体现当时流行的社会思潮是（ ）

- A. 人文主义 B. 专制主义 C. 理性主义 D. 社会主义

3. 但丁被称为文艺复兴的先驱，他的代表作品是（ ）

- A. 《巨人传》 B. 《神曲》
C. 《最后的晚餐》 D. 《哈姆雷特》

4. 14 世纪，意大利建筑师设计的建筑所体现的主题开始变得凸显人性，画家和雕塑家也对每个个体格外重视。同样，人们开始尝试了解人类自身的生理和心理结构。这些变化体现出欧洲（ ）

- A. 人文主义的兴起 B. 启蒙思想的传播
C. 科学教育的进步 D. 艺术创作的辉煌

5. 自由女神像是法国为纪念美国独立战争期间的美法联盟赠送给美国的礼物，女神右手高举象征自由的火炬，左手捧着刻有 1776 年 7 月 4 日的《独立宣言》，脚下是打碎的手铐、脚镣和锁链。“1776 年 7 月 4 日”跟下列哪一标志性事件有关（ ）

- A. 来克星顿的枪声 B. 美国的诞生
C. 萨拉托加大捷 D. 英国承认美国的独立

6. 阿拉伯帝国繁荣时期，哈里发重视知识，认为“人最美的装饰是知识”。下列关于阿拉伯文化的叙述，正确的是（ ）

- ①大量的希腊、波斯、印度典籍被译为阿拉伯文
②创造了从 0 到 9 的计数法，形成我们现在常用的“阿拉伯数字”
③《医学集成》和《医典》两部书被欧洲医学界奉为经典
④《天方夜谭》是阿拉伯文学的瑰宝

- A. ①②③ B. ①③④ C. ②③④ D. ①②④

7. 由以下示意图可知，阿拉伯人对世界文化发展的贡献是（ ）



- A. 创造了阿拉伯数字 B. 担当了沟通东西方文化的角色
C. 发明造纸术指南针 D. 曾建立世界上疆域最大的帝国

8. 德国法学家耶林格说：“罗马曾三次征服世界，第一次是以武力，第二次是以宗教，第三次则以法律，而第三次的征服也许是其中最为平和、最为持久的征服。”对此解释正确的是（ ）

- A. 罗马法对罗马持久统治的维系起到了积极作用
B. 罗马人一度用武力征服了整个欧洲
C. 罗马法对古代世界各国的立法和司法产生了深远影响
D. 罗马帝国时期实行宗教信仰自由

9. 马克思主义诞生后，国际工人运动进入一个新历史时期。其表现不包括（ ）

- A. 建立第一国际 B. 各国工人运动走向联合
C. 巴黎公社建立 D. 英国宪章运动兴起

10. 《汉谟拉比法典》石柱、殷墟出土的刻有文字的甲骨被历史学家认定为研究古巴比伦历史和中国商朝历史的极其重要的文物。这是因为（ ）

- A. 文献资料更接近史实
B. 史学研究更依赖原始资料
C. 文物资料最具有权威性
D. 文物兼有实物史料和文献史料的价值

11. 创新是一个民族生存与发展的动力。在历史上，曾经以保存古典文化著称，最终因为封闭保守，缺乏创新而导致衰亡的是（ ）

- A. 秦帝国 B. 拜占庭帝国
C. 亚历山大帝国 D. 西罗马帝国

12. 中古时期亦称中世纪，泛指世界范围内 5 - 15 世纪末的历史，由西罗马帝国灭亡开始计算，直到东罗马帝国的灭亡。关于这一时期的说法，不正确的是（ ）

- A. 罗马教廷拥有至高无上的权力
B. 西欧城市是在教会或世俗封建主的领地上产生的
C. 查理曼帝国分裂成的三个王国之间不存在隶属关系

D. 法兰克王国的君主是西欧封建制度的精神支柱

13. 在研究历史的过程中，由于立场角度不同，对历史事件的解释往往会产生差异。如果将哥伦布“发现”新大陆的评价置于美洲土著居民的立场进行考察，那么哥伦布“发现”新大陆致使（ ）

A. 不同文明得到了交流与发展

B. 美洲财富被掠夺。是强盗行为

C. 西欧各国开始争夺殖民地

D. 欧洲文明得到传播，是英雄壮举

14. 领导北美人民取得独立战争的胜利，又开创了民主共和制的是（ ）

A. 华盛顿 B. 林肯 C. 克伦威尔 D. 拿破仑

15. 下列历史文献中，内容包括了《查士丁尼法典》、历代罗马法学家有关法律问题的论文和著作等法律文献，为欧洲民法奠定了基础的是（ ）

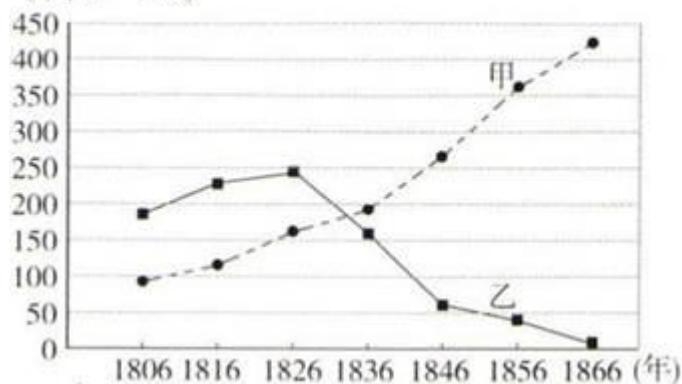
A. 《荷马史诗》 B. 《汉谟拉比法典》

C. 《权利法案》 D. 《罗马民法大全》

16. 对下图中甲、乙线及导致甲、乙线数据变化原因的判断，都正确的是（ ）

英国棉手织工场工人和棉纺织厂工人人数统计图

(单位：千人)



A. 甲线是对棉手织工场工人人数的统计；甲、乙线数据变化的原因是工业革命

B. 乙线是对棉手织工场工人人数的统计；甲乙线数据变化的原因是第二次工业革命

C. 甲线是对棉纺织厂工人人数的统计；甲乙线数据变化的原因是工业革命

D. 乙线是对棉纺织厂工人人数的统计；甲、乙线数据变化的原因是第二次工业革命

17. 促使雅各宾派用真正革命手段摧毁过时的封建制度的主要原因是()

A. 雅各宾派代表广大人民的利益

B. 法国革命面临国内外敌人猖狂进攻的严重危机

C. 为了推翻吉伦特派统治和防止其重新掌权

D. 为彻底扫除资本主义发展道路上的障碍

18. 下列不属于佛教产生的背景是()

A. 种姓制度日益引起人们的不满 B. 社会 矛盾尖锐

C. 统治者大力扶植D. 人们反对婆罗门的特权

19. 下图是“劳动中的农奴”，其中的“劳动”主要是()



劳动中的农奴

A. 义务耕种领主的直领地 B. 耕种自己的份地

C. 有偿耕种领主的直领地 D. 义务耕种庄园的共用地

20. 历史学家使用“原始积累”“君主立宪”“人文主义”等词汇来描述()

A. 西欧社会的演变 B. 早期资产阶级革命的爆发

C. 工业社会的来临D. 资本主义世界体系的形成

21. “任何一级政府都是不可信任的，但是级别越高、距人民越远、权力越集中和强大的政府，越需要特别的限制。”因此，1787 年的美国宪法规定()

A. 实行“邦联”体制，美国中央政府对各主权州只进行松散的统治

B. 总统、议员均由人民直接选举产生，真正体现“主权在民”理念

C. 在中央政府权力结构中遵循“制约与平衡”原则，避免绝对权力出现


D. 总统只是名义上的最高统治者，实际行政权属于国务卿

22. 如果把“新航路开辟”、“文艺复兴”、和“英国资产阶级革命”确定为一个学习单元则这个单元的主题是()

A. 跨入近代社会的门槛 B. 揭开殖民帷幕

C. 开启民主进程 D. 构建文化殿堂

23. 如图是达·芬奇根据公元前 1 世纪的建筑大师维特鲁的观点和描述，同时参照自己的实验和经验，绘制的“体型优美的人”——《维特鲁威人》。这幅图蕴含了怎样的思想？()



A. 关注人自身，肯定人的价值 B. 资产阶级自私自利的思想

C. 藐视宗教作用的思想D. 提倡追求物质生活幸福的思想

24. 世界遗产委员会评价说：“15-19 世纪，（戈雷岛）相继被葡萄牙、荷兰、英国和法国占领，……岛上简陋的奴隶居住区和装饰华丽的奴隶贸易场所形成鲜明的对比。材料揭示了（ ）

A. 亚历山大东征的过程 B. 奴隶主民主政治局限性

C. 罗马帝国的扩张范围D. 资本主义发展的野蛮性

25. 2019 年 11 月 10 日,国家主席习近平在访问希腊时引用希腊文学家卡赞扎基斯的话说:"苏格拉底和孔子是人类的张面具,面具之下是同一张人类理性的面孔。"苏格拉底和孔子共同追求的理性是()

A. 知识与道德 B. 伦理与规范 C. 民主与人权 D. 救世与责任

二、九下单选题（每题 1 分）

1. 罗斯福“新政”中既减少庞大的失业队伍，又刺激消费和生产的新政措施是（ ）

A. 对银行的整顿 B. 对农民的补偿

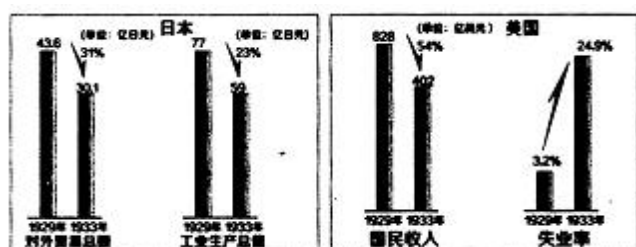
C. 国会通过国家工业复兴法D. 新建许多公共工程

2. 联合秘书长古特雷斯联合国大会第 11 届紧急特别会议上说：“我还对这场危机对区域和全球和平与安全，以及正在努力从新冠疫情中恢复的世界所造成的潜在后果深感关切。今天的决议反映了一个核心真理：世界希望结束乌克兰境内巨大的人类痛苦。”这说明联合国的宗旨是（ ）

A. 维护人类的健康安全 B. 推动区域经济政治一体化

C. 维护人类的可持续发展 D. 维持国际和平与安全

3. 对两幅图的解读正确的是（ ）



A. 图中现象出现的原因是一战的爆发

B. 两国采取相同的方式改变图中现象

C. 两国各方面都呈下降的态势

D. 两国都遭受到了严重的破坏

4. 第一次世界大战 中最残酷的战役爆发于（ ）

A. 伦敦 B. 凡尔登 C. 萨拉热窝 D. 柏林

5. “十月革命所以被称之为伟大的革命，完全是因为它开辟了人类发展进程中的新时期,不仅在俄国，而且在世

界范围内，是帝王将相的历史第一次被工农群众的政权所替代。”“新时期”新在（ ）

- A. 革命进行的方式
- B. 人民群众的参与
- C. 专制统治的结束
- D. 建立的社会制度

6. 二战后，西方资本主义国家在发展中出现了新变化，下面符合其“新变化”的表现是（ ）

- A. 美国成为战后整个世界的霸主
- B. 由欧共体到欧盟，加速欧洲一体化进程
- C. 日本战后发展成为政治大国
- D. 社会保障制解决了资本主义的基本矛盾

7. 小明同学制作了有关二战的知识卡片，其中内容违背史实的是（ ）

- A. 东方主战场：中国战场
- B. 携手联盟：26个国家签署《联合国宣言》
- C. 关键性战役：斯大林格勒战役
- D. 二战结束：德国投降

8. 当今世界，联合国在处理国际事务的过程中发挥着越来越重要的作用。下列有关联合国的叙述，正确的是（ ）

- ①成立于1945年，总部在纽约
- ②中国是联合国安理会五大常任理事国之一
- ③最高行政首长是联合国秘书长
- ④其宗旨是维护国际和平及安全，促进国际合作与发展
- ⑤联合国采取了多次“维和行动”，维和部队被称为“蓝盔部队”

- A. ①④⑤
- B. ②③④
- C. ②③④⑤
- D. ①②③④⑤

9. 19世纪中后期，在日本出现了“公历取代了农历……天皇带头吃起了牛肉，官员们穿上了燕尾服；理发馆的生意开始忙碌起来，男人们剪掉发辫，修剪成西式短发”等现象。这些现象的出现是由于明治政府（ ）

- A. 提倡“文明开化”
- B. 建立新式军队
- C. 号召“殖产兴业”
- D. 废藩置县

10. 第三次科技革命中，美国农业人口从占人口总数的5%下降到3%；同一时期，从事制造业的人口从占人口总数的30%下降到13%；而从事服务业和信息行业的人口从占人口总数的15%上升到72%。这种现象说明第三次科技革命（ ）

- A. 促进了社会产业结构的变化
- B. 使大量的工人失业

- C. 使科学技术各领域相互渗透
- D. 科学技术转化为生产力的速度加快

11. 下表为 1928—1937 年苏联工业总产值在欧洲和世界所占的位次表。其中，苏联所占位次发生显著变化的主要原因是（ ）

项目	1928 年	1 932 年	1937 年
在欧洲所占住次	4	2	
在世界所占位次	5	3	2

- A. 新经济政策的实施 B. 第一，第二个五年计划的实施
- C. 没有受到经济危机的冲击D. 1936 年苏联新宪法的颁布

12. 第二次世界大战最终以反法西斯国家的胜利而告终。这次战争胜利的最主要原因是（ ）

- A. 英国有效地抵御了德国的空袭，进行了不列颠战役
- B. 国际反法西斯联盟的建立，世界人民团结作战
- C. 苏联红军对德、日的打击
- D. 美国向日本的广岛、长崎投掷原子弹

13. 对下面两幅图片中的措施所体现的共同作用理解正确的是（ ）



图 1:五年计划,四年完成



图 2:工作付酬的美国

- A. 体现了政府对经济的干预
- B. 处于相似的国内外经济环境
- C. 暴露了发展重工业的弊端
- D. 迅速推进了本国工业化的完成

14. 在下列科技发明中，产生于第二次工业革命时期的是（ ）

- ①蒸汽轮船 ②早期汽车 ③电灯 ④火车机车
- A. ①② B. ②③ C. ③④ D. ①④

15. 九年级二班的同学准备出一期历史板报，摘录了有关“跨国公司”、“国际资本流动”等的文字，还搜集了以下三幅图片。这些材料的共同主题是（ ）



- A. 不结盟运动 B. 世界性金融机构发展
C. 经济全球化 D. 亚洲走向联合

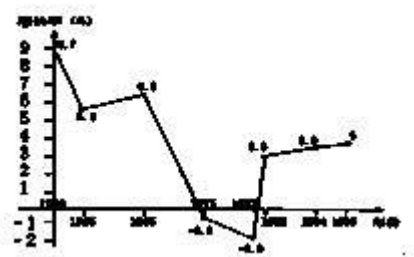
16. 罗斯福说：“在早先的日子里，安全保障也是通过家庭成员之间的相互依靠和小居民点内各个家庭之间的互相依靠取得的。大规模社会和有组织行业的复杂情况，使得这种简单的安全保障方法不再适用。因此，我们被迫通过政府来运用整个民族的积极关心来增进每个人的安全保障。”基于这一认知，美国（ ）

- A. 加入协约国集团 B. 实施了罗斯福新政
C. 倡导合作对抗法西斯 D. 发动冷战遏制苏联

17. 法国某将军回忆一战时的一场战役时说：“德国试图造成一个任何部队都无法坚守的死亡区，钢铁碎片、散弹片和毒气向我们所在的树林、堑壕和掩蔽部铺天盖地袭来，简直在消灭一切……”这场战役（ ）

- A. 宣告了德军“闪电战”的破产
B. 是一战中具有标志性意义的战役
C. 是一战欧洲东线战场的战役
D. 揭开了协约国反攻的序幕

18. 观察图，第二次世界大战后经济发展呈现这一特点的国家是（ ）



- A. 美国 B. 英国 C. 日本 D. 苏联

19. “在世界历史上，还没有任何一个国家如此全面细致地规划自己的发展进程，这是苏联人的一个创造，……在列宁格勒生产的一粒纽扣售价 1 卢布，那么 700 公里外莫斯科的价格也是 1 卢布，而万里之外的海参崴仍然是 1 卢布。”材料中的“苏联人的一个创造”是指（ ）

- A. 制定新经济政策，利用市场和商品货币关系发展俄国经济
B. 建立高度集中的计划经济体制
C. 建立社会主义市场经济体制

D. 采取资本主义的经济管理模式

20. 在 20 世纪二三十年代，欧洲和美国的经济千疮百孔。人们在寻找西方文明的缺陷。……普遍认为问题出在“制度”上，资本主义行不通，马克思的预言即将成为现实。而相信民主和资本主义的人却认为制度可以从内部进行改革，判断准确的干预不会引发通货膨胀，只会刺激经济发展。罗斯福采取了这一方案，美国经济逐步好转。材料反映出（ ）

- A. 改革可以消除资本主义制度的缺陷
- B. 资本主义制度阻碍经济的发展
- C. 罗斯福和马克思在思想上是根本对立的
- D. 发展经济要采用正确灵活的方式

21. 家国情怀源自对自己国家、民族的认同与热爱，他曾经说过：“我比任何人更愿看到美洲形成世界上最伟大的国家，其所以最伟大，不仅由于它的面积和财富，而更由于它的自由与光荣。”这里的“他”指的是（ ）

- A. 章西女王
- B. 玻利瓦尔
- C. 马克思
- D. 哥伦布

22. 分析下表，可以得出的结论是（ ）

二战后西欧经济的发展	二战后日本经济的发展
二战后，西欧国家凭借原有的工业基础和美国的援助，采用最先进的科学技术成果，制定恰当的经济政策，促进了经济的发展	冷战开始后，美国积极扶植日本。朝鲜战争中日本获得了大量军需订单。日本政府利用当时有利的外部环境，制定适当的经济政策，大力引进先进技术，促进了经济的发展

- A. 西欧和日本经济的发展完全得益于美国的帮助
- B. 日本凭借原有的工业基础迅速恢复和发展经济
- C. 西欧国家借助工业革命实现战后经济的腾飞
- D. 适时调整经济政策有利于经济的恢复和发展

23. 从下表中可以看出，三次科技革命的核心是（ ）

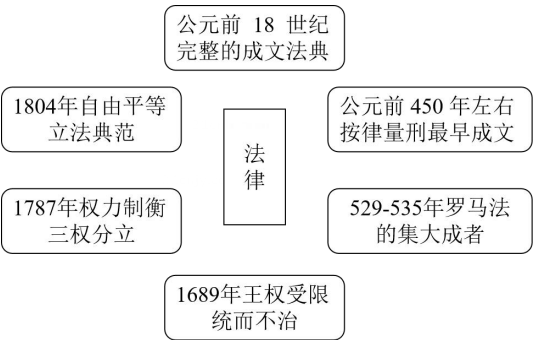
三次科技革命	重要发明成果	主要发明国
第一次	手摇纺纱机、水力纺纱机、联动式蒸汽机、汽船、蒸汽机车	英国、美国
第二次	发电机、内燃机、电灯、汽车、飞机、电报、电话	德国、美国

第三次	火箭、导弹、海底光缆、深海探测器、激光武器、卫星、飞行器、空间实验室、高铁、新能源汽车、电子计算机、光量子计算机、互联网、人工智能、手机智能终端	美国、欧洲国家、中国、日本、韩国、印度等
-----	--	----------------------

- A. 后起国家对老牌强国的超越
- B. 交通工具的发明和应用
- C. 能源利用及动力、应用技术的革新
- D. 科技转化为生产力的速度加快
24. “近 500 年来发生过三次结构性的权力转变……第一次是西方世界（欧洲）的崛起，此转变始于 15 世纪，在 19 世纪急剧加速；第二次转变发生在 19 世纪末美国的崛起……20 世纪的全球经济、科技、文化和理念，大半时间由美国主导；我们目前正在经历的则是现代时尚的第三次权力转变，或可称为“群雄竞起”的时代。”导致三次权力转变的因素分别是（ ）
- A. 新航路开辟——第二次科技革命——苏联解体
- B. 两次工业革命——南北战争——美日欧三足鼎立
- C. 殖民扩张——南北战争——苏联解体
- D. 民主制度的确立——第一次世界大战——第二次世界大战
25. 1997 年亚洲金融危机留给广大发展中国家的主要启示是（ ）
- A. 挖掘劳动力低成本优势 B. 注重防范国际经济风险
- C. 积极引进外资和跨国公司 D. 主动参与国际分工合作

三、论述题（10 分）

26. 观察下面图示，撰写历史短文。



要求

- 1) 题目自拟。
- 2) 文中需包含图示所反映的四部法律文件及其影响，并谈谈从这些法律文件中你获得哪些启示？
- 3) 史实准确，表述成文，字数 260 字左右。