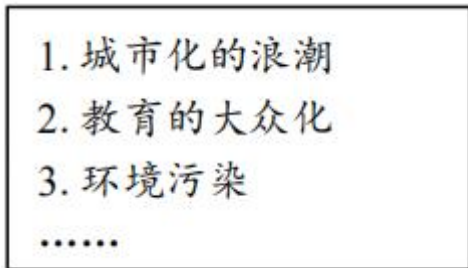


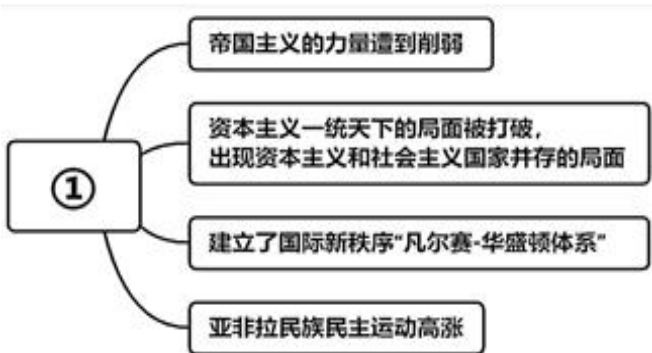
## 2022-2023 学年度九年级历史期末考试卷

### 一、选择题（选择题每道 2 分，25 题，共计 50 分）

- 比较异同点是历史学习的重要方法，下列关于彼得一世改革和俄国 1861 年改革相同点的说法，正确的是（ ）  
A. 都颁布了废除农奴制法令  
B. 都是资产阶级性质的改革  
C. 都促进了社会经济的发展  
D. 都走上了资本主义的道路
- 印度的章西女王和被誉为南美“解放者”的玻利瓦尔，两人的相同之处是（ ）  
A. 都为自己的国家赢得了民族独立  
B. 都是反抗殖民统治的英雄  
C. 都是殖民扩张和掠夺的代表  
D. 都为民族独立而英勇牺牲
- 美国名将谢尔曼曾说：“（这场战争）就是要让南方人和他们的子孙后代得到刻骨铭心的教训，永远不敢再想要独立！永远不敢诉诸战争！”这场战争（ ）  
A. 实现了国家的独立  
B. 推动君主立宪制确立  
C. 推翻了英国殖民统治  
D. 维护了国家的统一
- 19 世纪末的日本人都以穿西装、打领带、吃西餐作为时尚，这是明治维新哪项改革的结果？（ ）  
A. 废藩置县  
B. 文明开化  
C. 发展教育  
D. 殖产兴业
- 德国在第二次工业革命中发展相当迅速，其所诞生的某项发明直接将前一个时代规模不大的石油产业带入了高速发展的时代。这项发明是（ ）  
A. 内燃机  
B. 发电机  
C. 飞机  
D. 电灯
- 如图是某同学的部分研究笔记。他研究的内容可能是（ ）



- A. 人文主义思潮的兴起 B. 近代科学技术的发展 C. 互联网技术的推广应用 D. 工业化国家的社会变化
- 下列人物与其成就搭配正确的是（ ）  
A. 巴尔扎克—《复活》 B. 贝多芬—《蒙娜丽莎》 C. 牛顿—《自然哲学的数学原理》 D. 梵高—《物种起源》
  - 分析下面思维导图，①处内容主题应是（ ）



- A. 一战后初期世界局势的变化  
B. 资本主义制度的进一步加强  
C. 资本主义进入帝国主义阶段  
D. 两极冷战对峙格局下的世界
- 1917 年，俄国布尔什维克党通过一场暴力革命改造社会，建立了第一个无产阶级专政的国家。这场革命是（ ）  
A. 巴黎公社  
B. 十月革命  
C. 二月革命  
D. 辛亥革命
  - 巴黎和会操纵者之一的英国首相劳合乔治说：“……夺走德国的殖民地，把它的军队减到只够建立一支警察部队的力量……这一切终究毫无意义，德国将会找到对战胜国进行报复的手段。”对此理解正确的是（ ）  
A. 战后的凡尔赛体系形同虚设  
B. 巴黎和会维持了欧洲长久和平  
C. 德国受严惩成为二战的导火线  
D. 欧洲列强间矛盾未根本解决
  - 1928-1937 年，苏联从落后的农业国一跃成为强大的工业国。这主要得益于（ ）  
A. 社会主义工业化  
B. 新经济政策

C. 战时共产主义政策

D. 农业集体化

12. 美国前国务卿马歇尔评价甘地说：“全人类良心的代言人，是他，使谦虚与真理的力量超过了强权的力量。”甘地领导了（ ）

A. 墨西哥的卡德纳斯改革 B. 埃及的华夫脱运动 C. 印度的非暴力不合作运动

D. 苏联的两个五年计划

13. 2021年3月，美国总统拜登在匹兹堡宣布了总计预算2.3万亿美元的基础设施计划，旨在重建美国的公共基础设施，并承诺这项计划将取得与罗斯福新政同样的成就，拜登基础设施建设计划与罗斯福新政相似的措施是（ ）

A. 加强对工业的计划指导

B. 颁布《国家工业复兴法》

C. 发展社会福利

D. 推行“以工代赈”

14. 在1929年--1933年经济大危机的打击之下，走上法西斯道路的国家有（ ）

A. 德国、日本

B. 美国、意大利

C. 德国、意大利

D. 德国、奥匈帝国

15. 在第二次世界大战中，开辟了欧洲第二战场的军事行动是（ ）

A. 突袭波兰

B. 登陆诺曼底

C. 出兵中国东北

D. 偷袭珍珠港

16. 如图是一副20世纪50年代的题为《骑士及其旅伴》的苏联政治漫画。画中，一位美国骑士骑着身上写着“马歇尔计划”的瘦马正赶往西欧，他的旅伴——一位身着黑衣的魔鬼正如影相随地跟着他。这幅漫画（ ）



①体现作者对马歇尔计划的敌对态度②寓意马歇尔计划会给西欧带来灾难

③揭示美国实行马歇尔计划的根本目的④创作于美苏冷战的国际关系背景之下

A. ①②③

B. ②③④

C. ①②④

D. ①③④

17. 二战后日本成为美国在远东阵地的主要堡垒……由于美国在朝鲜战争和越南战争期间需要各种商品……日本取得了十分惊人的经济进步，到1970年，日本已成为仅次于美国的资本主义工业强国。材料旨在说明（ ）

A. 日本崛起的背景 B. 二战后资本主义的新变化 C. 国际格局的演变 D. 亚非拉国家的新发展

18. 帕尔默指出：“在1991年，一场几乎是不流血的革命在世界共产主义的心脏发生了，毁灭了1917年十月革命的成果。”这里“不流血的革命”是指（ ）

A. 不结盟运动

B. 苏联解体

C. 东欧剧变

D. 柏林危机

19. 在非洲民族独立运动历史上，“非洲年”距今（2020年）已有（ ）

A. 59周年

B. 60周年

C. 61周年

D. 58周年

20. 下图是联合国旗帜，正中是一个白色的良好个徽记。徽记是一张以北极为中心的世界地图等距离方位投影，由橄榄枝组成的花环相托，象征世界和平。由此下列关于联合国的说法错误的是（ ）



A. 是世界上最大的国际组织 B. 1945年7月，在波茨坦会议中决定战后成立联合国

C. 中国是联合国安全理事会常任理事国，拥有否决权 D. 1971年，中华人民共和国恢复在联合国的合法席位

21. 21世纪的今天，人口总量占世界3/4的广大发展中国家总体实力不断增强。由此，对世界格局产生的重大影响是（ ）

A. 建立了国际政治经济新秩序

B. 推动了多极化趋势的发展

C. 导致了生态与人口问题恶化

D. 构建了人类命运共同体

22. 《寂静的春天》一书中，作者用生态学原理分析化学杀虫剂对人类的危害，指出人类用自己制造的毒药来提高农业产量，无异于饮鸩止渴。作者呼吁大家重视的是（ ）

A. 化学武器危害

B. 生态环境恶化

C. 全球气候变暖

D. 自然资源浪费

23. 世界贸易组织成立后，其成员的关税水平普遍降低，贸易壁垒进一步减少。在世界贸易组织成立后的10年里，世界贸易总额增加了3倍。材料可以说明世界贸易组织的成立（ ）

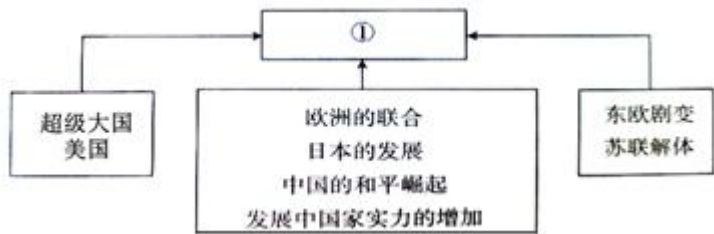
A. 顺应了世界经济全球化的趋势

B. 推动了科学技术的发展

C. 为维护世界的和平作出了贡献

D. 加速了世界一体化进程

24. 世界格局，风云变幻。如图①处应填的是（ ）



- A. 两极格局                      B. 欧盟崛起与社会主义挫折  
C. 华盛顿体系                  D. 多极化趋势

25. “重工业的发展特别迅速，使资本主义国家的工业结构发生了重大变化。19 世纪末，美、德等国成为以重工业为主导的工业国。”这种情形出现在（ ）

- A. 第一次工业革命期间    B. 殖民地人民的抗争运动期间    C. 第一次世界大战期间    D. 第二次工业革命期间

二. 主观题

26. 世界历史发展进程中，曾出现一些以“新”命名的事件，下列材料涉及到其中的两例：

材料一：注重实际的列宁认识到让步是不可避免的，因而于 1921 年采取了“新经济政策”（NEP），这一政策允许局部地恢复资本主义。农民们被准许在公开市场上出售他们的农产品。私人可以经营小商店和小工厂。农民和新商人都能雇佣劳动力，并能保留他们在经营中获得的利润……对列宁来说，新经济政策并不意味着社会主义在俄国的结束，而是暂时的退却，“后退一步，为的是前进两步”。

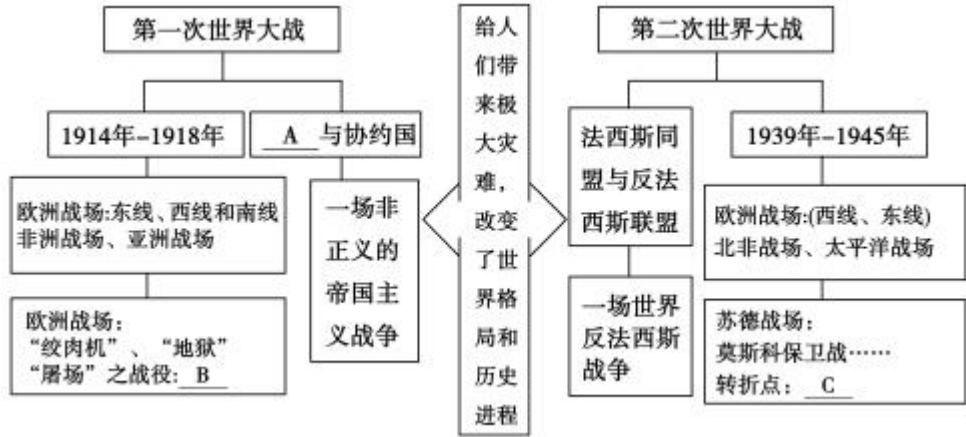
材料二到 1935 年初，新政成为公众激烈抨击或热情支持的焦点。保守势力和大商业领袖抨击新政是“敲富人竹杠”、“社会主义”，批评罗斯福抛弃了自由政策。不过，广大中下层民众热情讴歌了“新政”，甚至把罗斯福视为“救星”。

——据[美]布林克利《美国史》等

- （1）根据材料一指出，“新经济政策”到底“新”在哪里？（2 分）你认为列宁所说的“后退一步，为的是前进两步”的含义是什么？（2 分）  
（2）根据材料二并结合所学知识，分析罗斯福新政的前提是什么？（2 分）新政哪些措施使“广大中下层民众”视罗斯福为“救星”？（8 分）  
（3）综上所述，你认为苏俄（联）、美国的经济发展对我国经济建设有何启示？（6 分，答出三点即可）

27. 20 世纪以来的世界格局不断变化，人类面对的问题前所未有。阅读材料，完成问题。

材料一：



材料二：1945 年 5 月 9 日晚，在莫斯科欢庆胜利激情犹酣之时，美国驻苏联参赞乔治·凯南发出一段惊人的论调：“人们在欢呼跳跃……他们以为战争结束了，而战争刚刚开始”。

材料三： 当今世界，人类面临严峻挑战，国际环境日趋复杂，仍热存在着诸多影响世界和平稳定的因素，为了构建稳定公平稳定的国际新秩序，广大发展中国家贡献着自己的努力，习近平总书记提出了全新而科学的人类命运共同体全球治理理念。

- （1）20 世纪爆发了两次世界大战。填写材料一中 A、B、C 处对应内容。（6 分）  
（2）结合所学知识回答，材料二中“战争刚刚开始”的“战争”指的是什么？（2 分）这场“战争”对世界局势产生的重大影响是什么？（2 分）  
（3）结合所学知识回答，威胁当今世界和平有哪些不良因素？（4 分，写出两点即可）并写出中国政府为了践行人类命

运共同体的一项重大举措。（2分）

28 亚非拉国家逐步摆脱殖民统治，作为独立政治力量在国际舞台上发挥着越来越重要的作用。阅读材料，完成下列要求。

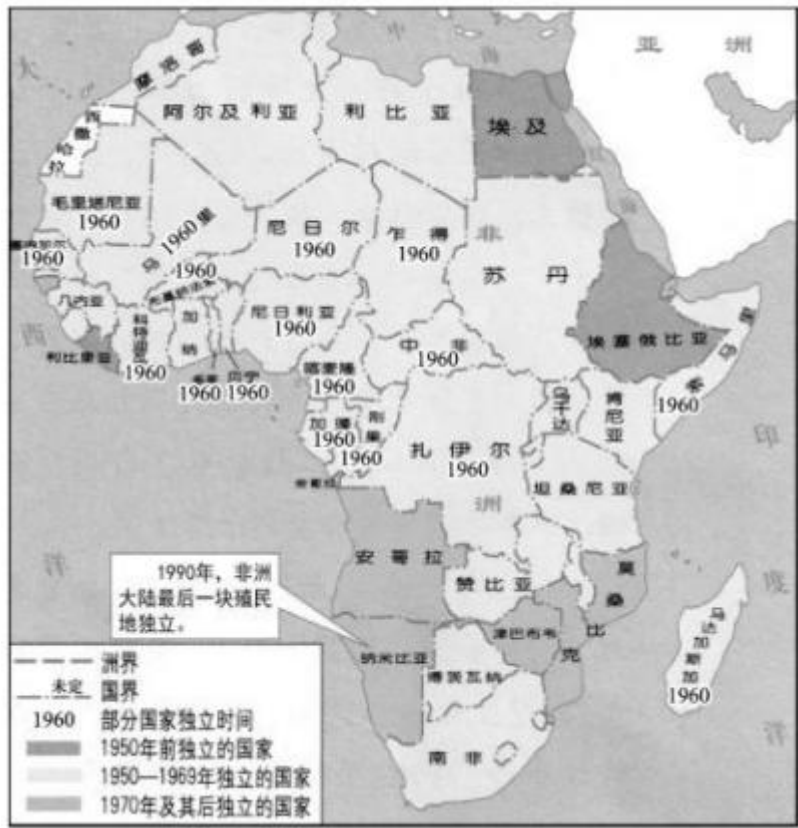
材料一：随着经济的发展，殖民地在经济上摆脱宗主国束缚的要求越来越强烈。西班牙、葡萄牙对殖民地的掠夺和剥削，引起殖民地的普遍不满。宗主国统治力量的削弱，为殖民地民族独立运动的开展提供了有利的条件。

——摘编自刘祚昌、王觉非《世界史》

材料二：1920 年，国大党通过甘地起草的新党章，其中第一条规定“印度国大党的目标是印度人民用一切合法的、和平的手段，以争取实现自治”。

——齐世荣主编《世界通史资料选辑》

材料三：《非洲独立进程图（截至 1990 年）》。



材料四：在万隆会议 60 周年纪念活动上，亚非国家领导人一起重温“万隆精神”，倡议亚非国家继续团结合作，友好相处。反对霸权主义，巩固民族独立，保卫世界和平，开启亚非国家合作共赢的新篇章。

——摘编自 2015 年万隆会议纪念活动讲话

(1) 概括材料一中 19 世纪拉丁美洲独立运动爆发的背景。（4 分）

(2) 据材料二和所学知识，说明甘地领导印度人民进行了什么活动，以及活动的目的？（4 分）

(3) 识读材料三，1990 年非洲有哪个国家独立（2 分）

(4) 根据材料四并结合所学知识，简析当今“万隆精神”仍然得到亚非国家高度认可的原因。（4 分）

