

2021—2022 学年度下期九年级二调考试

历史试题

(时间与政治合堂 90 分钟, 满分 50 分)

一、选择题: 本大题共 15 小题, 每题 1 分。在备选答案中只有一项符合题目要求。请按答题卡的要求作答。

1. 四川广汉三星堆商代遗址成功入选 2021 年中国考古新发现。考古专家王巍说: “古蜀文明是中国商代青铜文明当中非常有特色的一支, 保持着自己独特的文化面貌, 共同构成了青铜时代的中华文明。”材料意在说明中华文明的

A. 封闭性 B. 开放性 C. 多样性 D. 连续性

2. 右图所示为唐彩绘打马球女陶俑。据记载唐代女子广泛参与体育运动, 当时宫廷和一般家庭的女性甚至是社会底层妇女都会参加体育锻炼, 这在中国历史上是及其罕见的。这反映出唐代



A. 男女地位趋于平等
B. 社会风气比较开放
C. 竞技水平领先世界
D. 文学创作繁荣多样

3. 鸦片战争是中国近代史的开端。得出此结论的依据是

A. 中国开始遭受外国入侵 B. 中国被迫开放通商口岸
C. 鸦片战争中清王朝战败 D. 中国社会性质发生改变

4. 下列表格中史实和结论搭配正确的是

	史实	结论
A	义和团运动提出“扶清灭洋”的口号	反映义和团对清政府的本质有清醒的认识
B	洋务派开办了轮船招商局等一些近代民用企业	说明中国实现了“求富”的目的
C	光绪帝发布一系列变法诏令, 涉及政治、军事、文化、教育等举措	表明戊戌变法实施了彻底的资产阶级改革方案
D	孙中山在《民报》发刊词中, 将同盟会的政治纲领阐发为“民族”“民权”“民生”三大主义	反映了资产阶级革命派的政治主张


5. 以下是某历史研究小组整理的一组图片, 他们研究的主题应该是



洋务派创办的汉阳铁厂



张謇创办的大生纱厂



新中国制造的首批汽车

A. 近代中国厂址变迁的历史 B. 中国工业化的发展历程
C. 中国军事工业的前世今生 D. 民族资产阶级的强国路

6. 《续刊上海竹枝词》中描述清末近代上海：“举头铁索路行空，电气能收夺化工。从此不愁鱼雁少，音书万里一时通。”这反映了
- 中国民族资本主义得到充分发展
 - 辛亥革命后新闻出版事业的发展
 - 资产阶级民主共和观念深入人心
 - 科学技术进步对民众生活的影响
7. 他的形象可谓“几十年如一日”的“农民本色”。他用他的双手，养活了十几亿人口他是下列图片所示人物中的



A



B



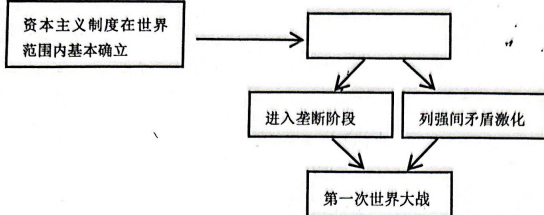
C



D

8. 时空建构是历史学习的方法之一。百年党的征程经历了若干时期，以下历史时期按时间顺序排列正确的是
- ①新民主主义革命时期
 - ②社会主义革命和建设时期
 - ③改革开放和社会主义现代化建设新时期
 - ④中国特色社会主义新时代
- A. ①②③④ B. ①③②④ C. ②①③④ D. ①②④③
9. 20 世纪八十年代以来，我们的生活中逐渐出现了 Kentucky Fried Chicken (KFC)、Inter-net、High-Speed-Railway (高速铁路) 等新词汇，这些词汇出现的背景是
- 国际地位逐步提高
 - 体制改革走向深入
 - 改革开放融入世界
 - 多极化局面的形成
10. 1953 年底，周恩来在接见印度代表团时提出了处理两国关系的原则，后来被世界上越来越多的国家接受，成为处理国与国之间关系的基本准则。这一基本准则是
- 和平共处五项原则
 - 独立自主的外交政策
 - “求同存异”方针
 - 人类命运共同体理念
11. 罗斯福新政通过《全国工业复兴法》，制定公平竞争法规，协调各工业部门的企业活动；通过《农业调整法》对全国农业生产和销售进行调节。这些措施的共同点是
- 促进工农业产量大幅度提升
 - 加强政府的宏观调控作用
 - 巩固工农联盟缓解了危机
 - 保障了工农业之间的比例均衡
12. 一位作家经历了 1917 年俄国十月革命后，写成了《震撼世界的十天》一书。十月革命带给当时世界最大的震撼是
- 推翻了沙皇专制统治
 - 建立了资产阶级临时政府
 - 诞生了第一个无产阶级专政的国家
 - 粉碎外国的武装干涉和国内反革命叛乱

13. 如图是一位同学绘制的思维导图，图中空缺部分应该填入的是



- A. 第二次工业革命 B. 萨拉热窝事件
C. 三国同盟的形成 D. 三国协约的形成

14. 右图所示照片反映的是 1945 年美苏两国士兵在德国易北河胜利会师握手言欢的景象。该照片可以说明

- A. 苏联开始扭转苏德战场形势
B. 同盟国开辟欧洲第二战场
C. 反法西斯同盟国协同作战
D. 第二次世界大战胜利结束



15. “健康码”“通信大数据行程卡”等作为出入通行的电子凭证让疫情时代的现代生活更加精准、科学和有序。“这种电子凭证”得益于
- A. 计算机网络技术的发展 B. 人口的过快增长
C. 生态环境的不断恶化 D. 经济全球化推动

二、非选择题：本大题共 4 小题，第 16 题 5 分，第 17 题 10 分，第 18 题 10 分，第 19 题 10 分，共 35 分。请按答题卡要求作答。

16. (5 分) 阅读下列材料：

每次大的国际战争之后，战胜国都要根据自身的利益和实力对比状况召开国际会议，缔结国际协议，重新划分各国边界与势力范围，安排战后国际秩序，从而确定一种新的国际关系格局。例如第一次世界大战之后的凡尔赛体系更多体现了英法主宰世界，华盛顿体系更多体现了美日争夺亚太霸权的格局。第二次世界大战也不例外。所不同的是这次国际会议的召开和协议的缔结不是在战争结束之后，而是在战争后期就开始进行了。1943 年 9 月，意大利投降后，盟国将战后世界的安排问题提上议事日程，与以往不同，盟国不是只举行一次会议，而是举行了一系列会议，签订了一系列协议。其中，以雅尔塔会议及其通过的公报、协定和密约最为重要。因此，二战后的国际体系被称为雅尔塔体系，其主要体现了美苏两大国对世界的划分。

——摘编自齐世荣总主编《世界史》

以下表述是从以上材料中得出的，请在答题卷对应题号后涂“A”；违背了以上材料所表达的意思，请在答题卷对应题号后涂“B”；是以上材料没有涉及的，请在答题卷对应题号后涂“C”。

- (1) 两次世界大战都深刻改变了国际关系格局。 ()
(2) 战胜国的国际会议都是在世界大战结束后召开的。 ()
(3) 雅尔塔体系的确立体现了美苏两大国对世界的划分。 ()
(4) 两次大战后确立的国际体系都使中国的利益受到侵害。 ()
(5) 国家利益和实力的变化，决定新的国际关系格局的形成。 ()

17. (10分) 阅读下列材料:

材料一 据统计,明成祖在位 22 年,与郑和下西洋有关的亚非国家使节来华共 318 次,盛况空前。中国的茶叶、瓷器、造纸、纺织等物产与科技发明,四书五经、书画等为代表的中华书籍,成为物质文化交流重要的产品。郑和同各国商民交换货物,平等贸易,购回当地的特产象牙、宝石、珍珠、珊瑚、香料等,促进和刺激了民间贸易。

——摘编自《从郑和下西洋话海上丝绸之路的崛起》

材料二 鸦片战争后签订的条约,打破了以往清帝国的“天朝”体制,开始形成不对等的外交关系,中国逐渐进入条约时代。这些条约为西方在中国的掠夺,披上了“合法外衣”。……在条约体制下,中国主权不再完整、独立,这给中国带来诸多严重的灾难。

——摘编自朱英《中国近代史十五讲》

材料三 (20 世纪) 70 年代上半期是中国外交突破性大发展的时期。这一突破性大发展的出现与国际形势的变动有关,但更重要的原因是毛泽东、周恩来等党和国家领导人因势利导,对外交政策进行了重大调整。这个时期,中国外交取得的成就具有深远的历史意义,不仅极大地改善了中国的安全环境,拓展了中国外交活动的舞台,而且为中国的改革开放和更加积极地参与国际事务创造了前提,打下了基础。


——摘自中共中央党史研究室《中国共产党历史》第二卷

- (1) 根据材料一,概括明成祖时期对外交往的特点。(2分)
- (2) 结合史实说明材料二中作者认为“中国主权不再完整,独立”的观点。(要求:用两个史实加以说明,叙述准确,紧扣观点。4分)
- (3) 根据材料三,归纳 70 年代上半期中国外交出现“突破性大发展”的原因,并指出取得这些外交成就的历史意义。(4分)

18. (10分) 阅读材料,回答问题。

材料一

俄国(1913年)和苏联(1937年)工业总产值占世界工业总产值的比重



——《世界历史地图册》中国地图出版社

材料二 新中国建立了一个集中统一、比较高效的中央政府，并得到人民的衷心拥护和支持，具有很强的组织动员能力；有苏联对我国的“一五”计划建设提供全面的技术援助，这在中国历史上是没有过的。“一五”期间工业生产所取得的成就，远远超过旧中国的100年。随着经济的发展，人民生活水平也逐步有所提高。

——摘编自中共中央党史研究室《中国共产党历史》第二卷

材料三


项目	1978年	2018年
国内生产总值	3654亿元	91298.1亿元
人均国民收入	190美元	4073.43美元
经济总量世界排位	第10名	第2名
人均寿命	67.77岁	77岁
普通高等学校数	598所	2663所

——数据来源于国家统计局（部分）

- (1) 根据材料一指出俄国（1913年）到苏联（1937年）时期工业总产值发生了怎样的变化？结合所学说明这一变化产生的影响。（3分）
- (2) 根据材料二，归纳“一五”计划取得重大成就的原因和表现。（3分）
- (3) 根据材料三，概括改革开放以来我国社会主义建设取得的巨大成就。（3分）
- (4) 综上所述，谈谈你对社会主义制度的认识。（1分）

19. （10分）学习历史的渠道很多，掌握一定的历史学习方法可以提升学习的效率。请完成以下学习任务。

学习任务一：文物证史



图一：半坡人面鱼纹彩陶盆



图二：河姆渡猪纹陶钵

(1) 从图片所示的两件文物中任选一件，结合所学知识合理推断文物中蕴含的历史信息。(2分)

学习任务二：地图说史


(2) 观察地图及图例，结合所学判断下图反映的是哪一时期的海外贸易情况？说明判断的理由。并据图描述这一时期海外贸易的情况。(5分)



某一时期海外贸易图

学习任务三：绘画析史

右图所示是清朝人焦秉贞所绘《耕织图》册页中的一页。《耕织图》是一组反映清代农业生产状况的图画。康熙看见后大为赞赏，下令官府工匠镂版印刷，广布天下。



(3) 请写出图中农夫手持耕地工具的名称。结合所学，简要说明康熙赞赏并下令印刷，广布天下的原因。(3分)