

佳木斯前进区19级初三二模考试

历史试卷

考试时间：60 分钟；满分：100 分

一、选择题（每题 2 分，共 40 分）

1. 中华民族同根同源同祖，被尊崇为中华民族人文初祖的是 ()
A. 炎帝和蚩尤 B. 炎帝和黄帝 C. 尧和舜 D. 黄帝和尧
2. 《史记》《资治通鉴》是我国古代两部著名的史学著作，下列史实在这两部书中都能查阅到的是 ()

- A. 赤壁之战 B. 齐桓公称霸 C. 安史之乱 D. 秦灭六国

3. 某同学梳理北京历史沿革(如下表)，与这三个朝代相应的制度是： ()

西周	秦	元
属于燕国	分属广阳郡，渔阳郡	隶属中书省

- A. 分封制．行省制度．郡县制 B. 郡县制．行省制度．分封制
C. 行省制度．分封制．郡县制 D. 分封制．郡县制．行省制度
4. 史书记载：“水激轮转，众筒兜下，次第下倾于岸上……以灌稻田。日夜不息，绝胜人力。”此记载描述的中国古代生产工具是： ()



A. 翻车



B. 曲辕犁



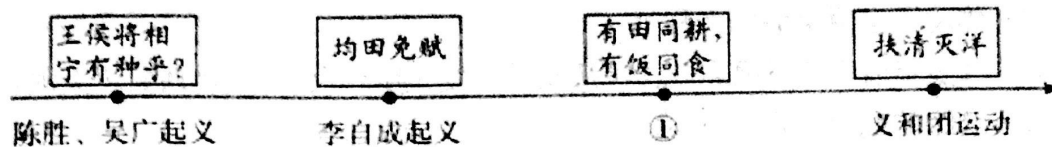
C. 筒车



D. 秧马

5. 假如你穿越时空来到北宋，下列情景有可能遇到的是： ()
A. 在餐桌上吃到马铃薯，玉米 B. 辛弃疾的词作传唱大江南北
C. 锦衣卫在开封府办案 D. 四川地区开始使用交子
6. 北京王麻子剪刀是享誉海内外的中华老字号，其生产技术曾在“中国十七世纪的工艺百科全书”中详细介绍，请问该书是：
A. 《齐民要术》 B. 《农政全书》 C. 《天工开物》 D. 《伤寒杂病论》
7. 元朝和清朝对西藏进行有效管理的措施分别是 ()
A. 设枢密院，宣慰使司都元帅府 B. 设置驿站制度，伊犁将军
C. 设置宣政院，驻藏大臣 D. 设置西域都护，册封制度


8. 下面示意图从某个角度反映了中国几次大规模农民起义, 其中与①对应的: ()



- A. 是中国历史上第一次农民大起义 B. 推翻了长达 276 年的明王朝的统治
C. 沉重打击帝国主义瓜分中国的野心 D. 是中国历史上规模最宏大的农民起义
9. 20 世纪, 张謇兴办大生纱厂急需棉花原料自给, 1917 年筹备成立大丰盐垦公司作为原棉生产基地, 大生纱厂这阶段迅速发展的主要原因是: ()
- A. 洋务运动刺激民族资本主义发展 B. 张謇提出“实业救国”口号刺激
C. 中华民国临时政府奖励发展实业 D. 一战中列强暂时放松对华经济侵略
10. “他既是新文化运动的主将, 又是中国共产党的创始人之一, 曾当选为第一任党的中央局书记”这里的“他”是指 ()
- A. 陈独秀 B. 李大钊 C. 李达 D. 董必武
11. 中国共产党第一次提出了彻底的反帝反封建的民主革命纲领的会议是: ()
- A. 国民党一大 B. 中共一大 C. 中共二大 D. 八七会议
12. 毛泽东在一次谈话中说: “(1945 年) 这一次我们去的好, 击破了国民党说共产党不要和平, 不要团结的谣言”。毛泽东谈论的是: ()
- A. 井冈山会师 B. 西安事变 C. 百团大战 D. 重庆谈判
13. 犹如一把钢刀, 插入敌人心脏, 严重威胁了国民党统治中心南京和武汉, 同时又能吸引国民党大量军队来减轻对华北解放区的压力。材料描述的军事行动是? ()
- A. 渡江战役 B. 挺进大别山 C. 平型关大捷 D. 平津战役
14. 在我国改革开放的创业路上, 有两座城市注定大名鼎鼎, 一座作为“试验田”, 在 1980 年率先拥抱世界; 另一座虽为“旧窗户”, 却在 1990 年焕发出了新活力, 这两座城市分别是: ()
- A. 宁波, 汕头 B. 深圳, 海口 C. 深圳, 上海 D. 厦门, 珠海
15. 公元前 27 年, 结束共和制, 成为罗马帝国第一位皇帝的人物是 ()
- A. 屋大维 B. 恺撒 C. 罗慕洛斯 D. 亚历山大
16. 下列三幅图片传达的信息正确的是: ()



甲骨文



金字塔



《汉谟拉比法典》

- A. 甲骨文的出土, 有力的证明了我国有文字可考的历史从夏朝开始
B. 金字塔, 是古希腊文明的象征, 是古希腊人智慧的结晶。

- C. 《汉谟拉比法典》的出现, 说明印度河流域很早就进入文明时代
D. 体现了世界文明的多样性
- 17、一百多年前“泰坦尼克”首航从欧洲出发, 穿越大西洋, 计划到达美洲, 最早开辟这条航路的航海家是 ()
A. 迪亚士 B. 哥伦布 C. 达·伽马 D. 麦哲伦
18. 下列重大事件, 按出现时间的先后顺序排列正确的是:
①. 莫斯科保卫战 ②. 希特勒上台 ③. 日本签署投降书 ④. 凡尔登战役
A. ②③④① B. ④①②③ C. ④②①③ D. ①②③④
19. 下列属于为捍卫民族尊严, 维护国家主权而进行抗争的历史事件是: ()
①. 章西女王抗英斗争 ②. 左宗棠收复新疆
③. 俄国十月革命 ④. 巴拿马政府收回巴拿马运河主权
A. ②④ B. ①②③ C. ①②④ D. ①②③④
20. 它以明确的规则, 相互的承诺为各国的经济交往搭建了一个共同的平台, 并与联合国成为支撑, 协调世界经济和政治的两大支柱, 该组织是 ()
A. 欧洲联盟 B. 北美自由贸易区 C. 世界贸易组织 D. 亚太经合组织

二、组合列举题 (每题 1 分, 共 7 分)

21、根据提示写出相关历史内容:

- (1) 中共十四大明确提出我国经济体制改革的目标是: _____
(2) 中国人民解放军的第一支海军部队是: _____
(3) 人类历史上第一次获得胜利的社会主义革命是: _____

22、根据相关提示写出相应历史人物:

- (1) 洋务运动在中央的代表人物是: _____
(2) 被称为“杂交水稻之父”, 培育出“籼型杂交水稻”的农学家是: _____
(3) 19 世纪著名的生物学家, 他提出了“进化论”他是: _____
(4) 被列宁称为“俄国革命的镜子”的人是: _____

三、判断改错题 (每题 2 分, 共 8 分)

23、(1) 冷战开始的标志是马歇尔计划的提出。

错误: _____ 改正: _____

(2) 我国进入社会主义初级阶段的标志是西藏和平解放。

错误: _____ 改正: _____

(3) 中国第一个统一的全国规模的资产阶级革命政党是兴中会。

错误: _____ 改正: _____

(4) 世界上第一个无产阶级政权是第一国际。

错误: _____ 改正: _____

四、材料分析题（24题5分，25题6分，26题8分，27题6分，共25分）

24. 阅读材料回答问题：（5分）

材料一：及秦孝公用商君，坏井田，开阡陌，急耕战之赏，虽非古道，犹以务本之故，
倾邻国而雄诸侯。 ————《汉书·食货志》

材料二：人民为自由而战，寻求真正的解放，女王的荣光，查理的断首，都镌刻着“王
在议会，法为习惯”的字样。

材料三：革命的烈焰将国王推上了断头台，巍峨的凯旋门见证了拿破仑创造的奇迹……
这个民族从不畏惧硝烟和战火的洗礼，因为他们更爱自由和真理。
————出自《图说天下》

材料四：法令规定：农奴获得人身自由，可以改变身份，自由转换职业；农奴在获得解放的同时，可
以获得一份土地，但是必须出钱赎买，所出的价格高出当时的地价。

请回答：

（1）材料一反映的是中国古代哪一改革？（1分）

（2）材料二中“王在议会，法为习惯”体现了该国确立怎样的资产阶级统治？（1分）

（3）材料三中什么事件点燃了“革命的烈焰”，从而揭开了这个国家革命的序幕？
拿破仑为巩固资产阶级统治颁布的法律文件是什么？（2分）

（4）材料四中反映的是什么历史事件？（1分）

25. “世界上最大的幸福莫过于为人民幸福而奋斗！”（6分）

材料一：

人物	(1)	(2)	(3)
言论	主张无为而治，人们与 世无争，天下就能太平了。	民为贵，社稷次 之，君为轻。	强调以法治国，树立君主权 威，建立中央集权专制统治

材料二：我们最重大的首要任务，是使人民有工作可做，如果我们聪明而勇敢地予以对
待，就没有解决不了的问题，有政府本身直接募工，可以部分地完成这一任务，
政府对待这项任务就像对待战争的紧急状态一样。 ————1933年罗斯福演说

材料三：废除地主阶级封建剥削的土地所有制，实行农民的土地所有制。到1952年底，
3亿多无地或少地的农民分到了大约7亿亩土地和一定的生产资料。

材料四：所谓小康社会，就是虽不富裕，但日子好过，就是到20世纪末在中国建立一
个小康社会，这个小康社会，叫做中国式的现代化。 ————摘自《邓小平年谱》

材料五：习近平在参观《复兴之路》展览时提出：“实现中华民族伟大复兴梦”，强调中国
梦就是要实现国家富强，民族振兴，人民幸福；

请回答:

- (1) 指出材料一中哪则言论体现了民本思想(填写序号对应的人物)? (1分)
- (2) 根据材料二并结合所学知识,说出罗斯福新政中哪项措施解决了“最重大的首要任务”? 新政的特点是什么? (2分)
- (3) 根据材料三并结合所学回答农民获得“属于自己的土地”的法律依据是什么? (1分)
- (4) 材料四为使广大农民“日子好过”,党和政府在农村实行了怎样的措施? (1分)
- (5) “不忘初心,牢记使命”,为实现中国梦,把习近平新时代中国特色社会主义思想确立为中国共产党必须长期坚持的指导思想是在哪次会议上? (1分)

26. 前事不忘,后事之师,反思战争,对于维护世界和平有深远的历史意义: (8分)

材料一: “凡尔赛—华盛顿体系”不过是帝国主义上一轮争夺的总结,下一轮争夺的开始。

材料二: 苏德战争和太平洋战争爆发,把世界上最强大的两个国家苏联和美国拖入了战争,把东,西方反法西斯战场连成一片,……一场联合打击日本法西斯和德国法西斯的血战在东,西方战场同时展开。 ————《世界史》

材料三: 中国共产党主要采取统一战线,被毛泽东誉为战胜敌人的基本武器。抗战时期,抗日民族统一战线与反法西斯国际统一战线犹如鸟之两翼,相互配合,缺一不可。

请回答:

- (1) 材料一中的导致帝国主义国家“上一轮争夺”爆发的导火线是什么? (1分)
- (2) 材料二中把美国拖入战争的事件是? 用史实说明世界人民联合打击法西斯侵略的行动一例? (2分)
- (3) 第二次世界大战的转折点是什么? (1分)
- (4) 材料三中·抗日民族统一战线初步形成的标志? 共产党的敌后战场配合着正面战场展开活动,请说出共产党在敌后战场展开的一场战役? (2分)
- (5) 20世纪50年代以后,国际格局的变化促使欧洲开始走向联合,欧盟的成立大大加快了欧洲一体化的进程,欧盟的出现促进国际格局朝哪一方向发展? (1分)

(6)结合所学知识,就“怎样建立更加公正合理的国际秩序”谈谈你的想法。(1分)

27. 阅读相关材料,回答问题:(6分)

材料一:中国割让香港岛给英国;赔款 2100 万银元,开放广州……等五处为通商口岸。

材料二:“外争主权,内争国权”

材料三:新中国的成立,结束了旧中国屈辱外交的历史,奉行……的外交政策,新中国外交充满艰辛,也闪耀着光辉,赢得了世界各国的尊重。

请回答:

(1)材料一中的条约与哪次战争有关?(1分)

(2)1860年,华美的圆明园变成一片废墟,造成了这次浩劫的主凶是谁?(1分)

(3)从《南京条约》到《马关条约》,列强侵华由商品输出到资本输出为主,《马关条约》中最能体现这一特征的内容是什么?(1分)

(4)五四运动的导火线是什么?(1分)



(5)指出新中国实行怎样的外交政策?(1分)

(6)1971年在第26届联合国大会上,中国取得的重大外交胜利是什么?(1分)

五 活动探究题:(28题9分,29题11分,共20分)

28. 2022年是中国共产党成立101周年,在这100多年的历程中,历史点滴记录着党的发展历程,让我们回顾一下党的历程。

【桥梁·印记历史,反映时代进步】

		
图一 长征途中	图二 卢沟桥	图三武汉长江大桥

(1)图1反映了红军长征途中的什么事件?(1分)

(2)图2发生在85年前的卢沟桥事变这一事件产生了什么影响?(1分)

(3)图3武汉长江大桥属于新中国成立后哪一时期的建设成就?(1分)

【油画·印记历史，记录时代烙印】



图四 _____ ?



图五：井冈山



图六 开国大典

(4) 图4 请为图四填个名字，它打响了武装反抗国民党反动派的第一枪，它是指？(1分)

(5) 图5 描绘的历史事件是在井冈山，井冈山革命根据地的建立开辟了一条怎样的革命道路？(1分)

(5) 图6 开国大典宣告新中国的成立,请说出中华人民共和国成立的时间?(精确到年月日)(1分)

【中国方案·印记历史，反映时代进步】

(7) 中共十一届三中全会做出哪一历史性的决策？(1分)

(8) 在祖国统一大业上，邓小平提出的“有中国特色”的方案是什么？(1分)

(9) 回顾百年党的奋斗历程，你有什么感悟？(1分)

29. 人类在历史文明进程的长河里，不断探索前进，某历史学习小组以“探索之路”为主，设计了下面学习任务单，请你一起参与完成相关学习任务：(11分)

任务一 【释读图片——了解文明交往之路】



图一

丝绸之路



图二

郑和下西洋

请回答：

(1) 图一丝绸之路是东西方重要商路，更是文明交流之路，为开辟丝绸之路做出重要贡献的人物是谁？请列举唐朝时一位僧人沿着这条路把“域外文化带入唐土”的史实？（2分）

(2) 图二明朝郑和下西洋堪称世界航海史的空前壮举，它最远到达哪里？（1分）

任务二 【解读史料——认识革命救国之路】



材料一：在那个距今二百多年前的时代里，殖民地联合起来挑战宗主国是破天荒的大事，……与大英帝国的战争一直艰苦地打了八年，最终赢得了独立。	材料二：我们革命的目的，是为中国谋幸福，因不愿少数满洲人专制，故要民族革命；不愿君主一人专制，故要政治革命；不愿少数富人专制，故要社会革命。 ——孙中山
---	---

(3) 材料一这段话反映的重大历史事件是什么？（1分）

(4) 材料二中的孙中山被誉为民主革命的先行者，他领导辛亥革命的指导思想是什么？写出这次革命的历史功绩？（2分）

任务三 【阐述史实——传承科学探索之路】

科技改变世界面貌：

 <p>图三·瓦特改良蒸汽机</p>	 <p>图四·东方红一号</p>
---	--

(5) 中国古代四大发明中哪一项为新航路的开辟提供了重要条件？（1分）

(6) 图三·蒸汽机的广泛使用将人类带入什么时代？（1分）

(7) 结合所学知识，请说一下第二次工业革命与第一次相比取得哪些重大突破？举一例（1分）

(8) 图四 反映了1970年我国在航空航天领域取得的成就是什么？2008年哪位航天员乘坐神舟七号成功完成出舱任务？（2分）

历史答案

一。选择题：

1,B 2,D 3,D 4,C 5,D 6,C 7,C 8,D 9,D 10.A
11,C 12,D 13,B 14,C 15 A 16,D 17,B 18,C 19,C 20,C

二，列举：

21 (1) 社会主义市场经济体制 (2) 华东军区海军 (3) 十月革命

22 (1) 奕訢 (2) 袁隆平 (3) 达尔文 (4) 列夫·托尔斯泰

三。23. (1) 错：马歇尔计划 改：杜鲁门主义 (2) 错：西藏和平解放 改：三大改造的基本完成

(3) 错：兴中会 改：中国同盟会 (4) 错：第一国际 改：巴黎公社

四。24. (1) 商鞅变法 (2) 确立了君主立宪制 (3) 巴黎人民攻占巴士底狱 《拿破仑法典》

(4) 1861 年农奴制改革或亚历山大二世改革

25. (1) 孟子 (2) 以工代赈 国家干预经济 (3) 《中华人民共和国土地改革法》

(4) 家庭联产承包责任制 (5) 中共十九大

26. (1) 萨拉热窝事件 (2) 日本偷袭珍珠港 诺曼底登陆或雅尔塔会议等

(3) 斯大林格勒保卫战 (4) 西安事变和平解决 百团大战

(5) 政治多极化趋势 (6) 合理即可

27. (1) 鸦片战争 (2) 英法联军 (3) 允许日本在中国通商口岸开设工厂

(4) 巴黎和会中国外交的失败 (5) 独立自主的和平外交政策

(6) 中国恢复在联合国的合法席位。

五。28. (1) 飞夺泸定桥 (2) 全民族抗战的开始 (3) 第一个五年计划期间

(4) 南昌起义 (5) 农村包围城市，武装夺取政权 (6) 1949.10.1

(7) 改革开放 (8) 一国两制 (9) 合理即可

29. (1) 张骞 玄奘西行天竺取经 (2) 非洲东海岸和红海沿岸

(3) 美国独立战争 (4) 三民主义 推翻清王朝统治，终结了君主专制制度

(5) 指南针 (6) 蒸汽时代 (7) 汽车，飞机，内燃机，塑料等等二工即可

(8) 第一颗人造地球卫星发射成功 翟志刚