

九年级历史样题

2023 年 1 月

温馨提示：

1. 对于每一道题目，请同学们务必完整、仔细、耐心阅读，然后再作答，这非常有助于提高你的成绩。

2. 请把答案按要求答在答题卡上。

一、选择题（本大题共 20 小题，每小题 1 分，共 20 分。每小题给出的四个选项中，只有一项是正确的，请在答题卡上按要求把正确的答案涂黑）

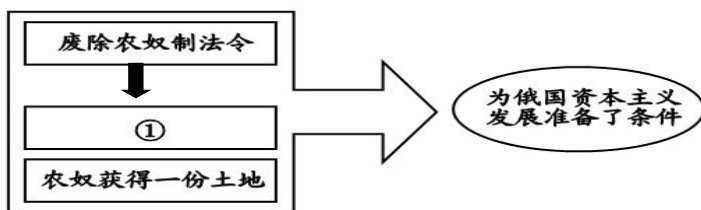
1. 《玻利瓦尔》是一部年度最佳传记，作者玛丽·阿拉纳利用大量的原始文献，描绘了玻利瓦尔辉煌而戏剧化的一生。在文中她将玻利瓦尔称为“南美洲的乔治·华盛顿”。作者旨在强调玻利瓦尔

- A. 反抗英国压迫
- B. 完成美洲统一
- C. 推动民族独立
- D. 协助章西女王

2. 图示法是历史学习的基本方法。某学生在进行俄国专题历史复习中使用了图示法，如下图。

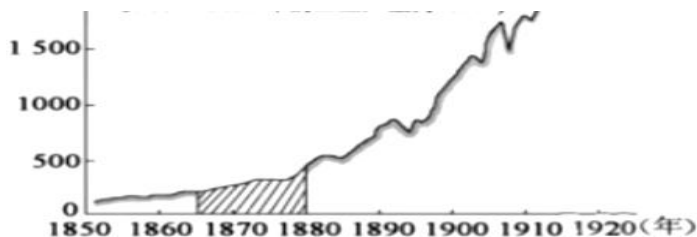
其中①处应是

- A. 农奴获得人身自由
- B. 农奴生活方式西化
- C. 农奴自下而上解放
- D. 农奴制残余被消除



3. 下图是美国工业产量变化曲线图（见下图）。其中直接引发 1865 年—1880 年美国工业产量变化的政治因素是

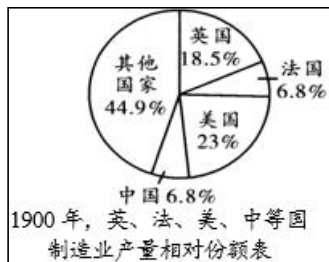
- A. 一次世界大战
- B. 二次工业革命
- C. 美国独立战争
- D. 美国南北战争



4. 斯塔夫里阿诺斯（美）认为：“由于日本具有向伟大的中国文化世界借用某些东西的悠久传统，因而，19 世纪在同样地借用西方世界的东西时，发生的冲突较少、痛苦较小。”这着重分析的是日本明治维新的

- A. 发展过程
- B. 有利因素
- C. 具体内容
- D. 重要地位

5. 下图为 1860 年和 1900 年英、法、美、中等国制造业占世界份额情况。1900 年美国的数
据明显高于英国的主要原因是



- A. 在科技技术领域领先英国
B. 占有的殖民地比英国更多
C. 英国制造业产量不断下降
D. 城市化进程时间早于英国
6. 在 19 世纪中后期的英国，既能看见小孩子们在城市的垃圾堆上玩耍，也能看见英国的有
钱人在污浊不堪的泰晤士河上乘坐汽船游览。以上材料可用于研究
- A. 殖民扩张的进程
B. 光荣革命的发生
C. 工业革命的影响
D. 经济危机的爆发
7. 在 19 世纪晚期，英国哲学家斯宾塞用“适者生存”来解释社会历史；法国哲学家孔德提出
了社会有机体论；英国生物学家赫胥黎发表了《进化与伦理》；中国近代启蒙思想家用“物
竞天择，优胜劣汰”去激励中国人变法图存。这说明进化论
- A. 打破了“上帝创造万物”的神创论
B. 在社会各领域产生了广泛的影响
C. 成为全世界自然科学的绝对权威
D. 继承了希腊罗马古典文化的成就
8. 下表是四国建造新军舰的费用统计表（单位：万英镑），该统计数据可用于研究

- A. 一战爆发的背景
B. 法西斯势力崛起
C. 冷战格局的形成
D. 工业革命的性质

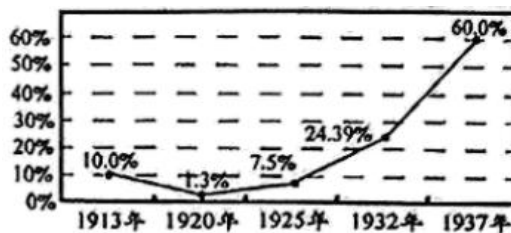
时间/国别	英国	法国	俄国	德国
1909	1108	452	176	1018
1914	1888	1177	1310	2032

9. 《大国崛起》解说词中提到：“1917 年 11 月 7 日，震撼世界的十月革命爆发。以此为起
点，这个占世界陆地面积近五分之一的国家，开始了一次对 20 世纪的历史产生深刻影响的
伟大实践。”这里的“伟大实践”是指
- A. 苏联社会主义工业化的实现
B. 马克思主义的诞生
C. 第一个社会主义国家的建立
D. 巴黎公社正式成立

10. 一战结束后，主要战胜国的第一反应就是竭力把战争爆发的罪责完全推给德国。到了 20 世纪 20 年代中期，越来越多的人接受了这样的认识：**缺陷丛生的国际关系体系导致了一战**。与“这样的认识”相匹配的是

A. 外交关系影响无足轻重
B. 经济发展缓和彼此矛盾
C. 军备竞赛完全可以避免
D. 恶劣的国际体系导致战争

11. 某同学搜集到一幅 1913~1937 年苏联（俄）工业产值增长变化曲线图（如下图），导致 1925~1937 年工业产值数据发生变化的主要原因是

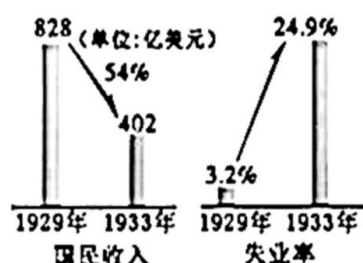


A. 经济大危机冲击
B. 新经济政策实施
C. 农业集体化运动
D. 推行国家工业化

12. “世界厌倦了流血，它在寻找解脱苦难的方法。我为印度独特的方式而骄傲，它教会世人如何摆脱暴力引起的混乱。”材料中“独特的方式”是指

A. 暴力革命
B. 非暴力不合作
C. 改革创新
D. 农民起义

13. 右图是美国国民收入与失业率发展变化趋势图（1929—1933 年部分），这反映了美国



A. 经济危机空前严重
B. 以工代赈措施受挫
C. 整顿金融体系失败
D. 建立社会保障制度

14. 某历史展厅搜集到一组老照片，该展厅的主题应该是




1942 《联合国宣言》签署 1944 诺曼底登陆 1945 苏军攻克柏林 1945 中国军队反攻日军

A. 第二次世界大战达最大规模
B. 法西斯国家的侵略扩张
C. 世界反法西斯战争走向胜利
D. 盟军开辟欧洲第二战场

15. 苏联认为，马歇尔计划中包含这样一种企图，即干涉欧洲国家内部事务，使这些国家的经济从属于美国的利益。为抗衡马歇尔计划，苏联加强对东欧各国的经济援助。这表明

- A. “欧共体”建立
- B. 美苏矛盾不断升级
- C. 两极格局结束
- D. 反法西斯战争胜利

16. 从下列一组图片反映了二战后



欧盟旗帜



日本新干线



社会保障制度（漫画）

- A. 资本主义新变化
- B. 第三次科技革命
- C. 国际新秩序形成
- D. 和平发展的世界

17. 下表是 1951~1980 年苏联国民收入年平均增长率统计，导致增长率逐年下降出现的根本原因是

- A. 美苏争霸的制约
- B. 高度集中的体制
- B. 多次改革的完败
- D. 华约组织的瓦解

时间	增长率
1951--1960	10.25%
1961--1970	6.45%
1971--1980	4.95%

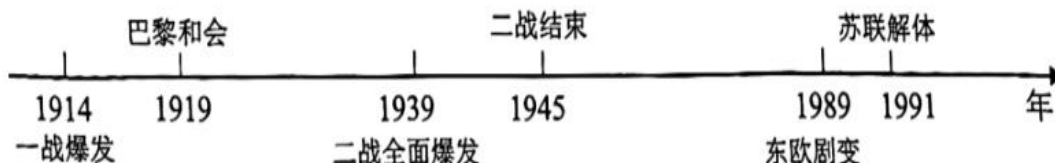
18. 1995 年到 2005 年的十年间，全球贸易总额增加了 3 倍。这主要得益于

- A. 不结盟运动兴起
- B. 联合国安理会的设立
- C. 欧洲联盟的成立
- D. 世界贸易组织的成立

19. 在 2022 年 3 月，印度气温飙升至 1901 年有记录以来最高的一个月，导致印度小麦作物在关键的生长期枯萎，这不仅使得该国小麦产量下降，也破坏了其出口预期。近年来，此类问题频发。这表明人类在发展中面临着

- A. 恐怖主义问题
- B. 贫富分化问题
- C. 环境恶化问题
- D. 毒品泛滥问题

20. 对下列年代尺提供的信息设计一个主题，最全面、最准确的是

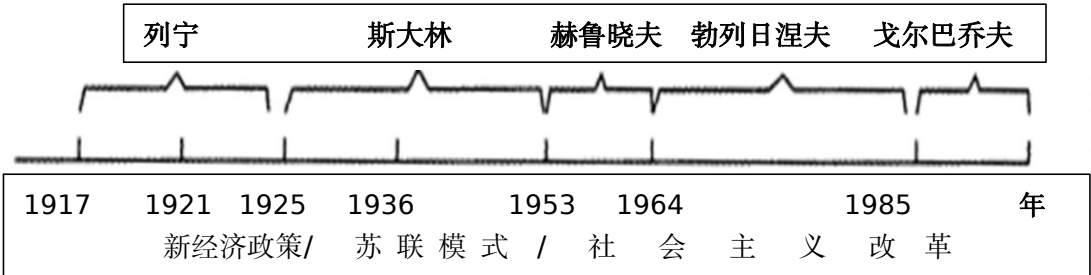


- A. 世界多极化趋势的发展
- B. 凡尔赛-华盛顿体系建立
- C. 美苏主导下的两极格局
- D. 20 世纪世界格局的演变

二、非选择题（第 21 题 10 分；第 22 题 10 分；第 23 题 10 分，共 30 分。请把答案答在答题卡的相应位置。）（请你一定耐心仔细阅读一遍材料，答案也许就在材料中。）

21. 阅读材料，回答问题。（10 分）

材料一 某历史教师在复习苏联专题时，制作的时间轴



（1）根据材料一并结合所学知识，回答新经济政策的实施有何作用？（1 分）苏联模式形成的标志是什么？（1 分）

材料二 在即将过去的这个世纪里,俄罗斯有四分之三的时间是在为共产主义原理而奋斗的标志下生活的。看不到这一点,甚至否定这一时期**不容置疑的成就**就是错误的。然而,如果我们不意识到社会和人民在这一社会实验中付出了那种巨大的代价,那就更是大错而特错了。

——俄罗斯总统普京（1999 年 12 月 30 日）

（2）依据材料二并结合所学知识，指出材料中苏联“不容置疑的成就”有哪些？（列举任意 2 点成就，2 分，例如颁布 1936 年宪法，确立社会主义制度；帮助东欧国家恢复经济等）

材料三 某同学搜集到一些**美国前总统**的演说

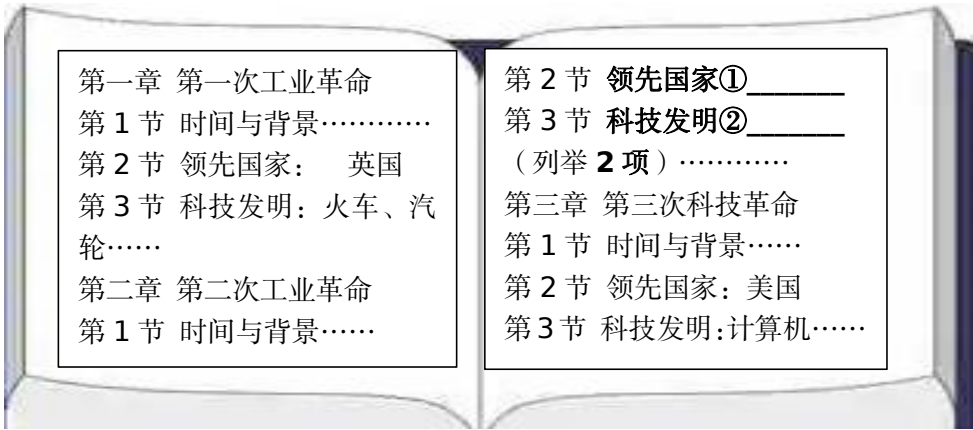
富兰克林·罗斯福： “我们应该恐惧的唯一东西，就是恐惧本身……”	哈里·S·杜鲁门： “我们必须援助那些自由人民，他们正在抵御少数武装力量或者外部压力试图强加给他们的征服。”
-------------------------------------	---

（3）据材料三并结合所学知识，罗斯福和杜鲁门为解决面临恐惧和难题，分别采取的行动有哪些？（4 分）

（4）综合上述材料和问题，你认为影响大国兴衰的主要因素有哪些？（2 分）

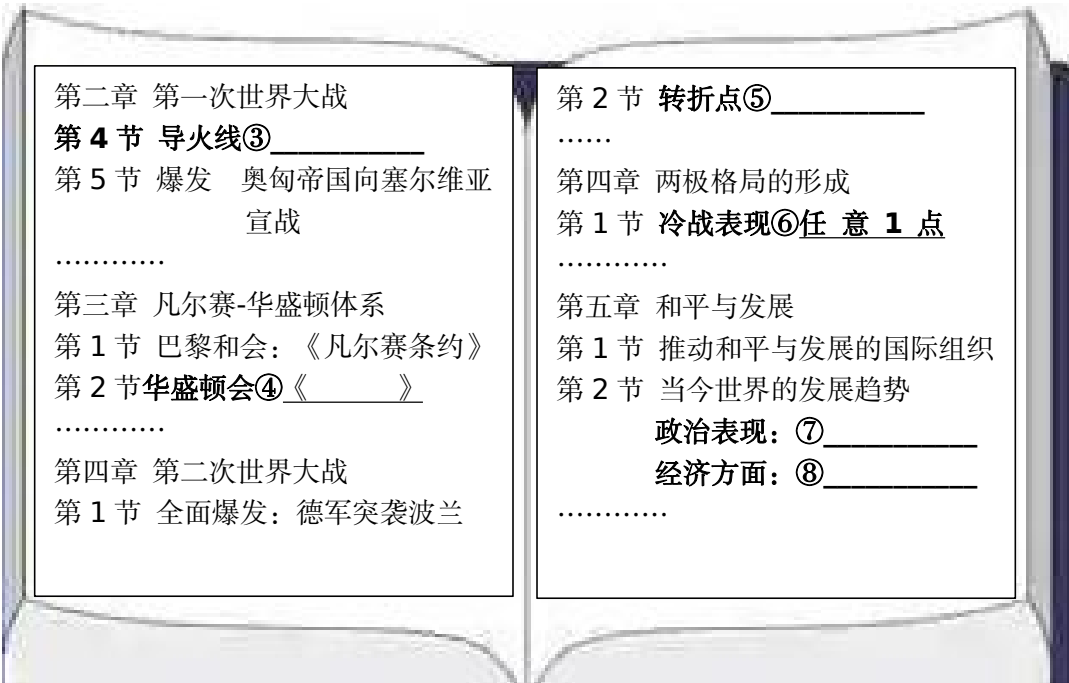
22. 某中学历史研究团队准备编写专题复习手册。结合所学知识，完成目录编写任务（10分）

任务一 工业与科技复习专题



（1）根据所学知识，完成任务一填写空格内容。（3分）请设计一条关于**科技**的宣传标语（1分）

任务2 战争与和平复习专题



（2）根据所学知识，完成任务二填写空格内容。（6分）

23. 阅读下列材料，回答问题。（10分）

材料一 图1 一战前欧洲形势图

图2 一战后欧洲形势图



图1



图2

(1) 根据材料，指出图2与图1相比有哪些变化？（3分）简单分析这些变化出现的原因。（2分）

材料二 图 3 四国分区占领德国示意图

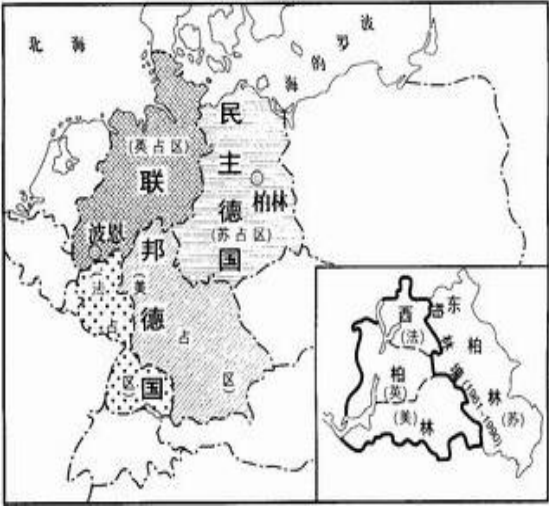


图 3

图 4 欧洲共同体成员国示意图

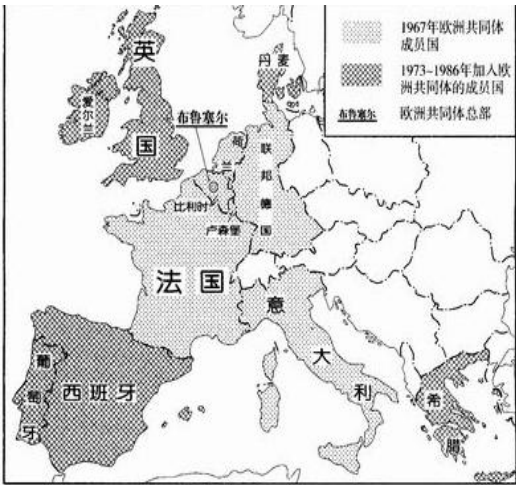


图 4

(2) 结合所学知识, 指出图 3 状况与二战期间哪一国际会议的决定有关? (1 分) 图 4 表明欧洲出现了什么新变化? (1 分) 分析这种变化对欧洲产生的影响 (2 分)

(3) 综合上述材料, 你认为在国际关系中应坚持哪些原则? (1 分)