

2023 年山西省交城县第一次模拟考试试题（卷）

九年级道德与法治

（形式：全开卷 满分：75 分）

题号	一	二	三	四	总分
得分					

第 I 卷 选择题（共 33 分）

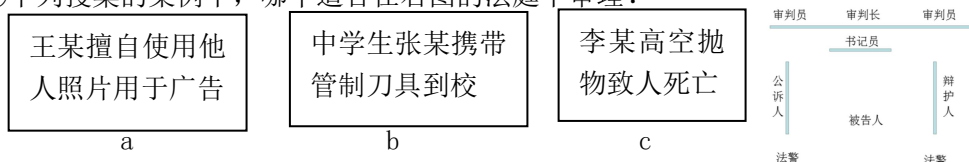
一、选择题（在每小题的四个选项中，只有一项最符合题意，请选出并在答题卡上将该项涂黑。本大题有 11 小题，每小题 3 分，共 33 分）

题号	1	2	3	4	5	6	7	8	9	10	11
选项											

1. 关于党的二十大内容，下列说法正确的是
- A 确立新时代中国特色社会主义思想为党的指导思想
- B 审议党和国家机构改革方案（草案）
- C 总结了党的百年奋斗目标重大成就和历史经验
- D 提出高质量发展是全面建设社会主义现代化国家的首要任务
2. 临近毕业，小峰同学回顾了三年生活中的几个情境，你认为，他需要对哪些情境进行反思？
- 情境 1：进入青春期，小峰认为和别人看法不一样，标新立异就意味着有批判精神
- 情境 2：小峰结识了一个网友，网友多次要求小峰将家庭地址、电话号码等个人信息告知，小峰拒绝了网友的要求
- 情境 3：校运动会上，我报了自己擅长的跳远项目，最后被老师调整到接力跑项目，虽然不是很开心，但坦然接受
- 情境 4：妈妈要求小峰周末有时间多去图书馆看书，小峰不乐意，与妈妈发生口角，把自己关在屋里
- A 情境 1 和情境 2
- B 情境 2 和情境 3
- C 情境 1 和情境 4
- D 情境 3 和情境 4
3. 公民的基本权利和义务是宪法的核心内容。下列行为属于公民行使基本权利的是
- A 小林的妈妈是一名带货主播，及时足额纳税
- B 小丽的爷爷因为丧失劳动能力，享受社会救济
- C 大学生小哲积极报名参加中国人民解放军
- D 中学生小夏发现书店有幅地图有问题，于是向有关部门反映
4. 下面是同学们自主学习时搜集的新闻资料，其中体现法律区别于其他行为规范的最主要特征的是
- A 十三届全国人大常委会第三十八次会议审议通过关于修改对外贸易法的决定
- B 某市市委书记朱某涉嫌严重违法违纪，目前正在接受纪委监委纪律审查和监委监察调查
- C 张某因在机动车道上骑行且未戴头盔，被罚款 20 元
- D 在第九个国家宪法日，各地行政机关开展了多种形式的宪法宣传活动

5. 某班探究小组以“远离违法犯罪”为议题开展探究学习，探究内容如下：

①下列搜集的案例中，哪个适合在右图的法庭中审理？



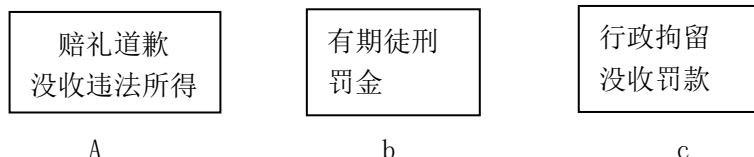
②审理此案件的国家机关是

a: 人民法院

b: 人民检察院

c: 公安局

③下列法律责任中，可适用于①对应的法律责任的是哪一组？



对以上问题的回答，完成正确的一组是

A①—a、②—b、③—c

B①—c、②—a、③—b

C①—b、②—c、③—a

D①—c、②—c、③—b

6. 聚会聊现状

春节假期，小华的爸爸邀请朋友来家中聚会。闲聊中，他们谈起了各自的现状：

王叔叔：我大学毕业后，一直在中国电信上班，前几天还发了年终奖。中国电信作为民营经济，是我国国民经济的主导力量

李叔叔：我经营的饭店资金周转有些困难，准备向银行贷款，我国的银行都是国有企业

张叔叔：我把房子租出去了，一年租金2万，这属于按资本要素参与分配。最近准备在家旁边开个奶茶店

小华爸爸：饭店、奶茶店都是私营经济，国家对其持巩固和发展的态度，在社会主义市场经济中，政府起决定作用。

以上谈话中，你赞成谁的说法？

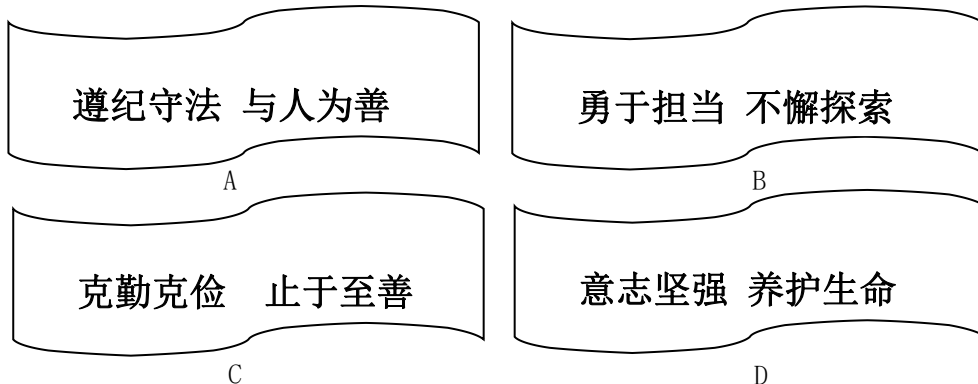
A 王叔叔

B 李叔叔

C 张叔叔

D 小华爸爸

7. 2022年12月4日，被称为“最忙乘组”的神舟十四号乘组人员安全回家。在中国空间站“出差”期间，他们多次进行太空出舱、迎接飞船、对接空间站等活动，并且在此期间，还在中国空间站问天实验舱进行了“天宫课堂”授课。为对他们的卓著功绩给予充分肯定，某班开展“你好，航天员！”寄语活动，下列评价最恰当的是



8. 为增强同学们的文化自信，某校准备开展山西文化主题研学教育活动。以下是四个小组制定的研学计划，其中哪一组的计划完全符合要求？

一组

走进敦煌莫高窟——探访五台山——参观天坛，探寻山西的著名传统文化遗迹

A

二组

参观徐向前元帅纪念馆——八路军总部王家峪旧址——平型关，感受山西的红色文化

B

三组

参观太原卫星发射中心——山西博物馆——刘胡兰纪念馆，弘扬山西的社会主义先进文化

C

四组

相聚云端聆听《十八洞村》脱贫故事、探寻《三体》的创作过程，传承山西人的奋斗精神

D

9. 深圳，40 多年前的渔村已经蜕变成全球瞩目的大都市。无数个第一见证了它的发展：创建中国大陆第一个出口加工区，第一家股份制企业诞生……请你为这段材料选择一个最恰当的标题

- A 改革开放是决定当代中国命运的关键抉择
 - B 共同富裕是社会主义的本质要求
 - C 科学技术是引领发展的第一动力
 - D 全过程人民民主是最广泛、最真实、管用的民主
10. 为增强学生的民族团结意识，某校举办了以“民族团结”为主题的美术作品展活动。右图是其中的一幅参赛作品。欣赏这幅作品让我们由衷感慨

右图是其中的一幅参赛作品。欣赏这幅作品让我们由衷感慨

- A 各民族一律平等，民族区域自治地方享有高度自治权
- B 要制裁一切破坏民族团结、制造民族分裂的行为
- C 各民族共同繁荣，根本保证是实现民族区域自治制度
- D 各民族亲如一家，不断铸造中华民族共同体意识



11. 以下是同学们对一些时政信息的解读，其中解读不正确的是

选项	时政信息	解读
A	十四届全国人大一次会议开幕会于 3 月 5 日在北京人民大会堂举行	人民代表大会制度是我国的根本制度
B	要坚持政府过紧日子，更好节用裕民装满“米袋子”	人民政府坚持以人民为中心的发展思想
C	国家主席习近平出席二十国领导人第十七次峰会，发表题为《共迎时代挑战 共建美好未来》重要讲话	我国积极推动构建人类命运共同体
D	在我国，一切法律、行政法规和地方性法规都不得同宪法相抵触	宪法具有最高的法律效力

第 II 卷 非选择题（共 42 分）

二、简答题（本大题有 4 小题，12 题 5 分，13 题 8 分，14 题 4 分，15 题 6 分，共 23 分）

12. 情境填空（每小题 1 分，共 5 分）

- ①乐乐因考试不理想心情沮丧，和好友观影后感觉心情好多了，乐乐调控情绪的方法是_____。
- ②小李因租赁合同与人发生纠纷，最后双方通过协商解决了纠纷，这种维权方式属于_____。
- ③某村民委员会实行政务公开，其中涉及的事项每季度公布一次，以接受村民的监督。村民委员会的性质是_____。
- ④每逢节假日，总有一些身影，坚守岗位，守护一方平安，他们用实际行动践行了社会主义核心价值观个人层面_____的价值准则。
- ⑤旗帜、足球、球衣、围巾……这些在赛场内外为世界杯营造气氛的相关产品，超过半数来自中国义乌。这说明中国积极顺应_____趋势。

13. 认识最高国家权力机关

某校九年级学生以“认识最高国家权力机关”为议题模拟了一次全国人大会议。133名“全国人大代表”出席会议、6名“全国政协委员”列席会议。下面是小组成员设置的会议议程：

- | |
|---|
| <ul style="list-style-type: none">一、审议政府工作报告二、审议《中华人民共和国 ×× 法（草案）》三、审议全国人民代表大会常务委员会工作报告四、审议国家监察委员会工作报告五、审议最高人民检察院工作报告六、选举和任命国家机关组成人员 |
|---|

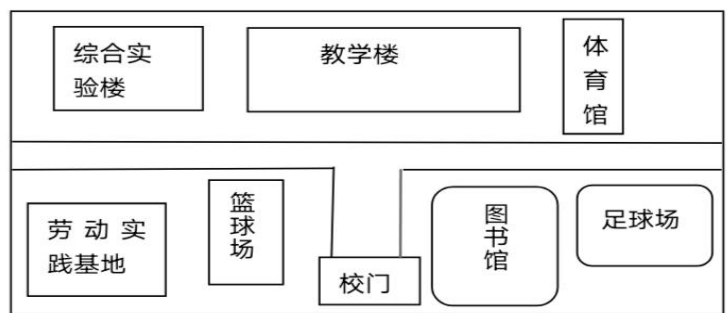
(1)细心的同学发现，该议程中有一项弄错了，请找出来并改正。（2分）

(2)会议议程的第一项和第六项分别体现了全国人大的哪些职权？会议通过了议程中的工作报告、法律草案并选举产生国家机关组成人员，体现了全国人大代表行使了哪些职权？（4分）

(3)参会的“全国人大代表”和“全国政协委员”产生的方式一样吗？为什么？（2分）

14. 校园示意图

某校地处市区内，周围发展有限。学校计划在郊区建一所分校，以缓解目前校区空间狭小的现状。下面是小晨同学为未来分校设计的平面示意图：



(1) 请你找出上面校园平面图的不合理之处，并说明原因。(2分)

(2) 校团委准备在学校劳动实践基地开展一项活动，请你举例并设计相关的考核方案。(2分)

15. 共建和谐社区

下面是初三学生小李用镜头记录的发生在所住小区的一些事：

镜头一：山西省生活垃圾分类实施已有两年多，但调查后发现，小区仍然有不少居民嫌麻烦，没有做垃圾分类。

镜头二：所在小区属于老旧小区，居民加装电梯因为某些住户反对而搁置。

镜头三：有些居民为了方便，将私家车停放在小区消防车道上。

假如你是社区居民委员会工作人员，请你任选两个镜头对其中的人员进行简短劝说。(6分)

三、分析说明题 (7分)

16. 退烧药涨价

在防疫政策优化的大背景下，部分药品的需求量激增，不少地方药品出现涨价情况，“热门”药品价格水涨船高。个别地方某退烧药价格甚至达到1盒100多元，远超某市场数倍。即便这样，这些药品仍处于“售罄”“无货”状态。

对于退烧药乱涨价现象你怎么看？

四、实践探究题（12分）

17.

走近乡村

为贯彻学习党的二十大精神，山西省某中学将利用寒假开展一次项目式实践调研活动，见证新时代的十年，看山西乡村的巨大变化，感受祖国的强盛。

九年级（1）班的几位同学通过商议组建了探究小组，约定了时间并选择距学校不远的小王庄进行调研。下面是他们前往小王庄调研的情境片段，请你参与其中，完成相关任务。

阶段一：

（1）临行前，大家要选一名领队，负责项目的整体工作。大家争先恐后要竞选领队，你认为领队应该有哪些评选标准？（2分）

阶段二：

小王庄依山傍水，环境优美。下面是小组成员在小王庄拍到的实景照片：




乡间柏油路



太阳能路灯



图书阅览活动室



乡村健身地

（2）结合照片信息，谈谈你对眼前景象的感触。（2分）

调查中发现，家家户户都在制作手工“刺绣”。从村委会了解到：刺绣是小王庄的“非遗文化”，这里家家户户都是手艺人，户户都是工厂。村委会成立了刺绣合作社，统一收购，统一销售。在广泛调研市场需求后，他们设计了几款工艺新品，如刺绣手提包、刺绣首饰，刺绣产业越做越大。

（3）请指出小王庄在刺绣产业方面有哪些可复制的经验？（3分）

（4）在总结调研结果时大家发现：种地和刺绣手工艺是小王庄的主要收入来源，收入结构相对单一，小王庄发展遇到了瓶颈。有成员提议：为了小王庄的持续发展，可针对此现状提出建议。你有哪些好点子可供村委会参考？（2分）

阶段三：

（5）完成调研任务后，调研结果作为项目式作业上交学校并参加评比。请在评比会上与大家分享你此次调研走访的收获。（3分）