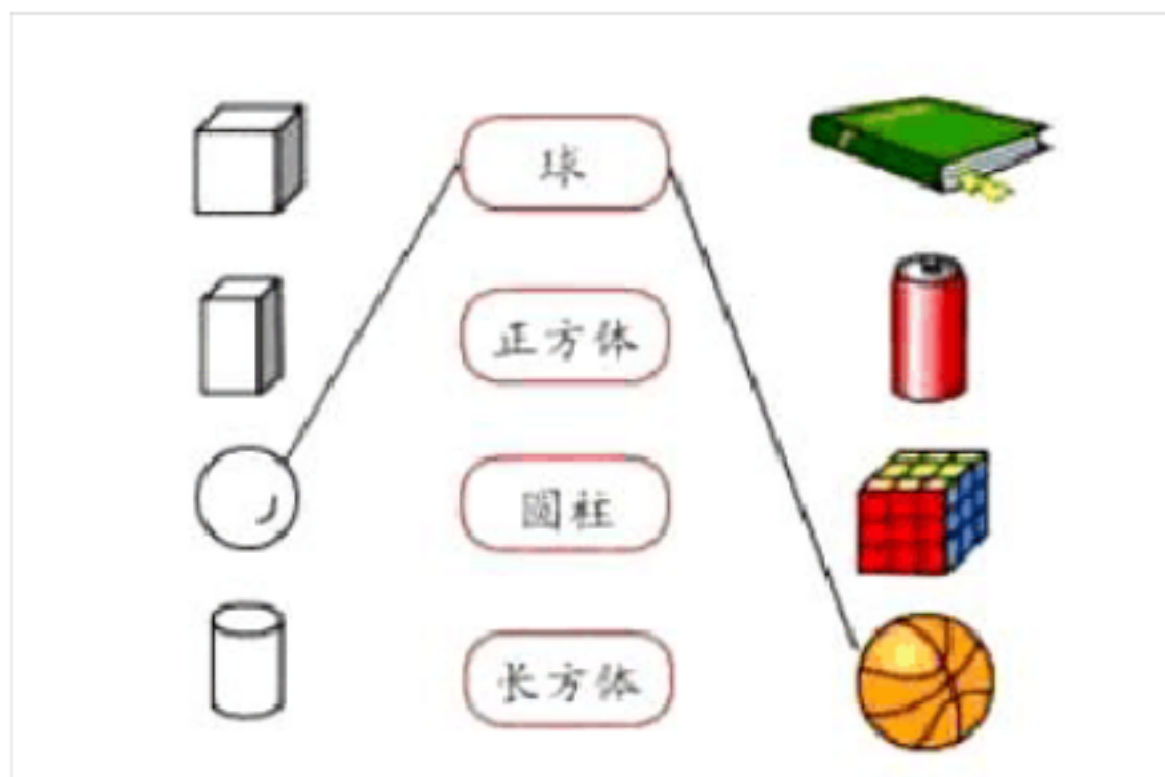


1.4 《给物体分类》同步练习

一、按示例连线题

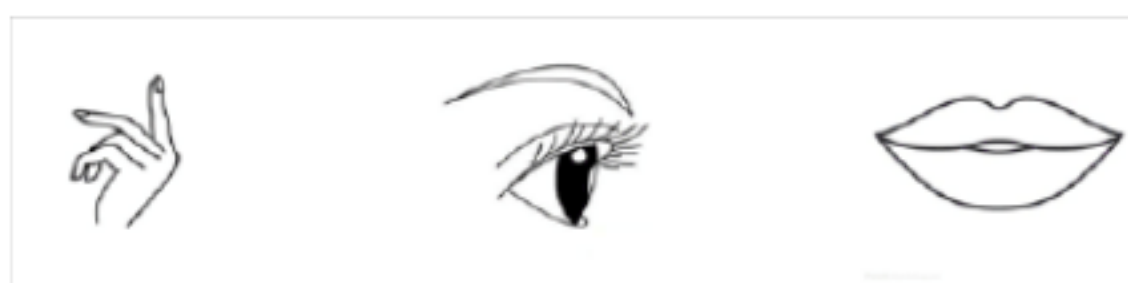


二、判断题，对的打√，错的打×

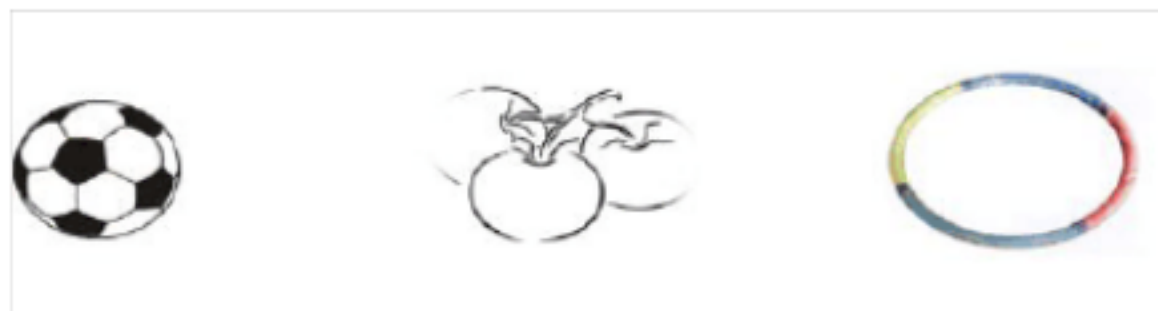
1、如下图所示，市场上的蔬菜是按名称摆放的。（ ）



2、如下图所示，按颜色给物体分类要用到下列器官。（ ）



3、下列三种物体是按照形状分类在一起的。（ ）



4、给物体分类可以同时用两个标准。（ ）

三、选择题，把正确的序号填在（ ）内

1、找出下面的一项不属于物体特征的一项（ ）

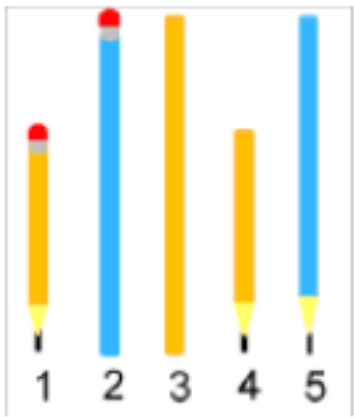
- A. 轻重 B. 大小 C. 产地 D. 颜色

2、给物体分类，下面说法正确的是（ ）

方便查找 节省时间 美观整齐 保护环境

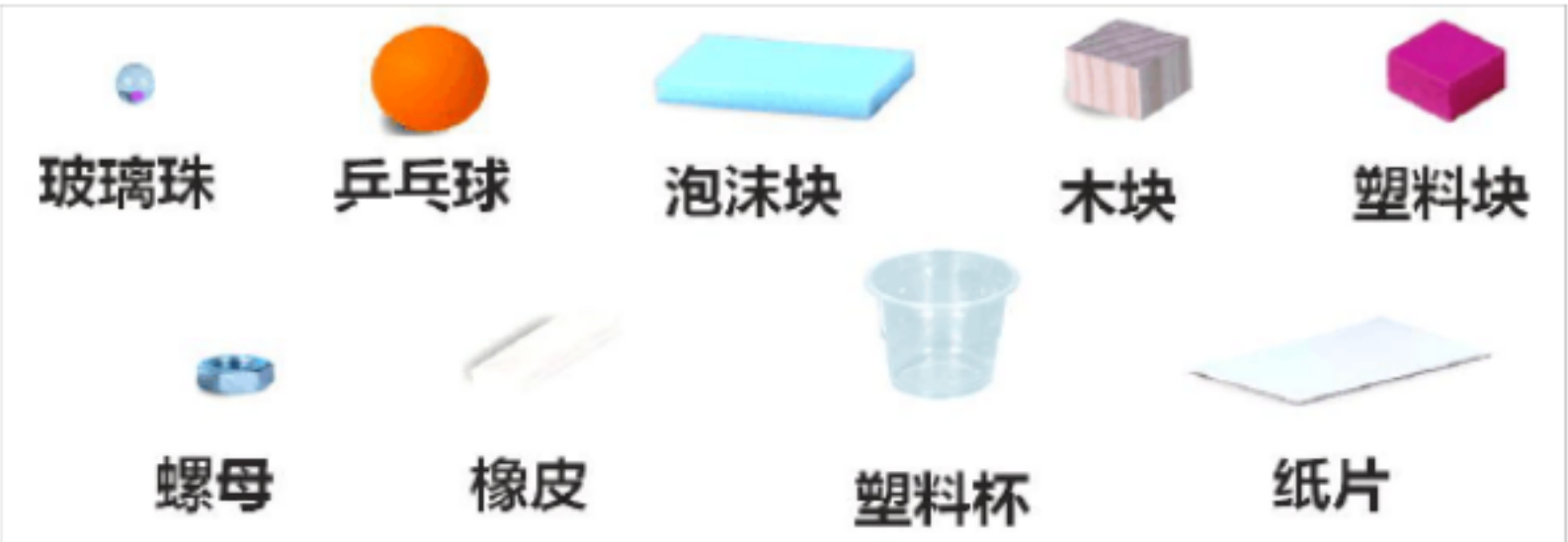
A. B. C. D.

3、根据下图，物体分类不正确的一项（ ）



- A. 带尖的有 1、4、5
- B. 带橡皮的有 1、2
- C. 短的有 1、4、5

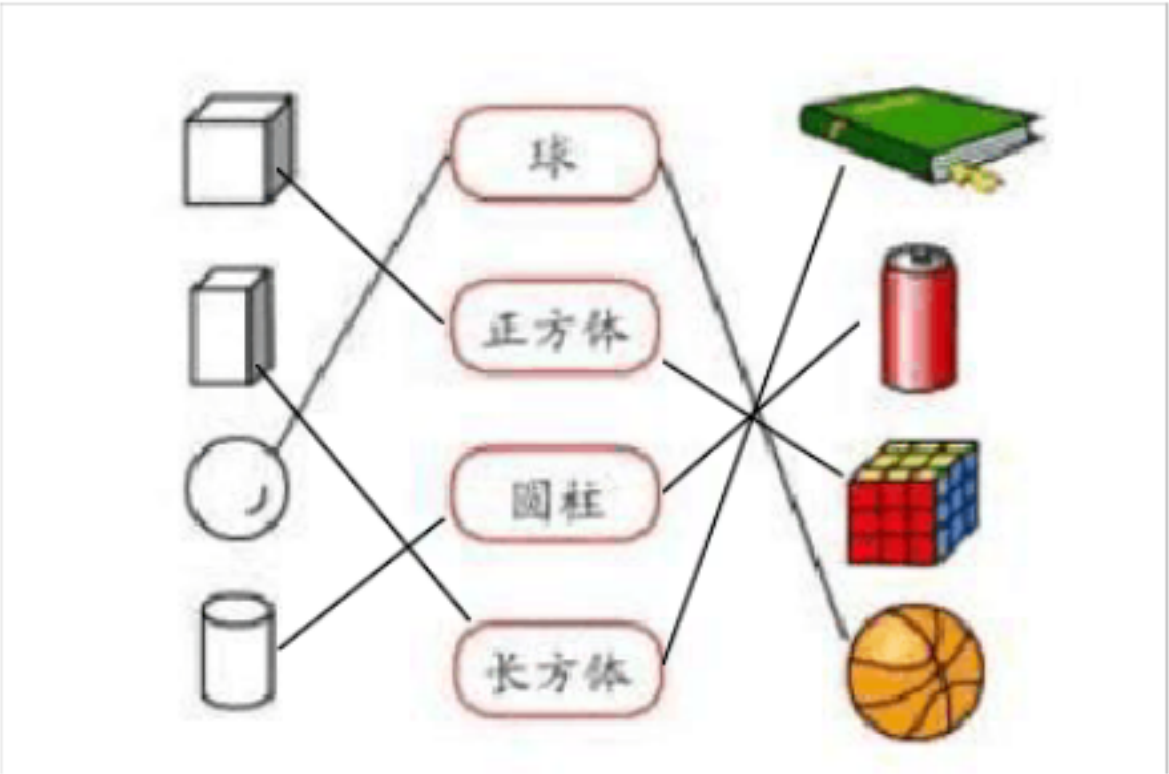
四、探究活动



- 1、按照形状分类，属于球形的一组有 。
- 2、 把这些物品按轻重分类时，小欣认为木块是重的，小洁认为木块是轻的。你认为（ ）
- A. 小欣是对的 B. 小浩是对的 C. 他们认定轻重的标准不同
- 3、按照大小分类，小欣认为木块是大的，她分类的标准可能是认为比 大的都算是大的。

参考答案

一、按示例连线题



二、判断题

1、

2、 ?

3、

4、 ?

教科版

三、选择题

1、 C 2、 D 3、 C

四、探究活动

1、 玻璃珠 乒乓球

2、 C

3、 塑料块