


1.5 《观察一瓶水》同步练习

一、连线题：把水、洗发液和它们各自特点连接起来



乳白色 透明 无色 不透明 会流动 无固定形状

二、判断题，对的打 ，错的打 ？

- 1、辨别水和洗发液时，可以通过品尝的方法。（ ）
- 2、水比洗发液流动得快。（ ）
- 3、木块有固定形状，水没有。（ ）
- 4、水和洗发液都是白色的。（ ）
- 5、洗发液有香味，水没有。（ ）

三、选择题

- 1、了解某一个未知物体特征时，不能采用的的方法是（ ）
A.看一看 B.摸一摸 C.闻一闻 D.尝一尝
- 2、闻起来有气味的是（ ）



A. 水



B.洗发液



C.木块

- 3、摸起来光滑的是（ ）



A. 水



B.洗发液



C.木块


4、正确闻气味的方法是（ ）



四、填表题：水的特征

描述水的特征（班级记录表）		
颜色	有颜色	无颜色
气味	有气味	无气味
是否透明	透明	不透明
软硬	软	硬

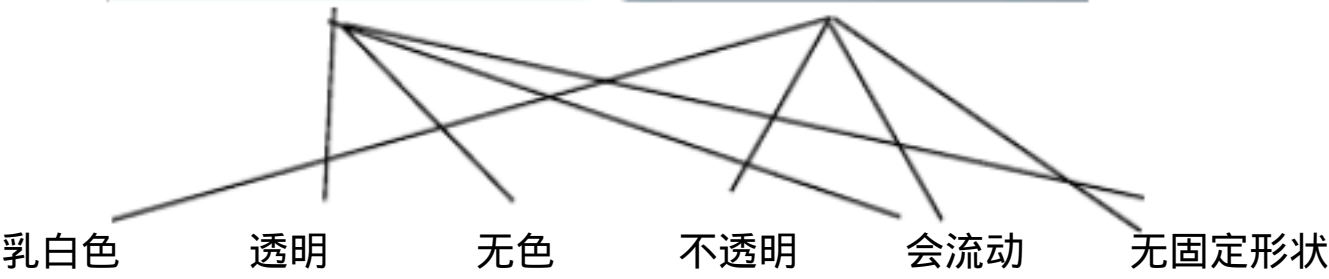

五、探究题：观察水、油和洗发液特征，完成后面的表格。（填写序号）



透明	不透明	会流动	无颜色	无形状

参考答案

一、连线题



二、判断题

1、？ 2、 3、 4、？ 5、

三、选择题

1、D 2、B 3、A 4.B

四、填表题

无颜色 无气味 透明 软

五、探究题

透明	不透明	会流动	无颜色	无形状