

2022-2023学年第一学期教学质量检测

九年级道德与法治试卷

注意事项：

1. 本试卷分试题卷和答题卡两部分，试题卷共6页，两个大题，满分100分，考试时间60分钟。
2. 请直接将答案写在答题卡上，写在试题卷上的答案无效。
3. 答题时，必须使用2B铅笔按要求规范填涂，用0.5毫米的黑色墨水签字笔书写。

一、选择题（24小题，每小题2分，共48分。下列每小题的四个选项中，只有一项是最符合题意的）

1. 40多年来，中国人民坚持改革开放。今天，中国已经成为世界第二大经济体，科技、教育、文化等各项事业蓬勃发展，脱贫攻坚战取得全面胜利，中华民族伟大复兴向前迈出了新的一大步……这说明
A. 改革开放是强国富民之路，是决定当代中国命运的关键抉择
B. 我们已经消除了绝对贫困，实现了人民对美好生活的向往
C. 社会公平正义得到有效维护，为实现同步富裕奠定坚实基础
D. 中国对世界经济增长贡献巨大，成为影响世界最重要的力量
2. 2022年8月28日，中共河南省委“中国这十年·河南”主题新闻发布会在郑州举行。十年来，河南生产总值年平均增长7.1%，居民人均可支配收入从2012年的12772元增长到2021年的26811亿元、实现了翻番，人民群众的获得感、幸福感、安全感显著提升。这表明
①省委省政府坚持以人民为中心的发展思想
②发展的根本目的就是增进民生福祉
③人民对美好生活的向往,就是党的奋斗目标
④发展民生是党和国家的中心工作
A. ①②③ B. ①②④ C. ①③④ D. ②③④

3. 请你为下面框图中的内容概括一个主题

2012年，党的十八大提出实施创新驱动发展战略；
2013年，德国提出“工业4.0”战略；
2014年，印度把“印度制造”列为国家战略；
2015年，美国发布最新版《美国国家创新战略》；
2016年，韩国提出人工智能、无人驾驶技术等九大国家战略项目。

- A. 创新是中华民族最鲜明的民族禀赋
B. 创新已经成为世界主要国家发展战略的重心
C. 对外开放程度已经成为综合国力竞争的决定性因素
D. 创新是改革开放的生命，推动中国走向富强

4. 看神舟十三号载人飞船返回舱、模拟操作空间站机械臂辅助航天员出舱、带上VR眼镜与大熊猫亲密互动……2022年9月15日，以“喜迎二十大，科普向未来”为主题的2022年全国科普日活动在全国各地上演，一系列精彩纷呈的科普活动，把高精尖的科技成果带到公众身边。举办全国科普日活动
A. 是民族振兴、社会进步的基石，我国已建成科技创新强国
B. 说明我国科技创新能力低、科技创新之路任重道远
C. 有助于提高人们的科技认知水平和科学素养
D. 就能培养创新型人才，掌握关键核心技术
5. 每年全国两会期间，全国人大代表、政协委员聚北京，共商国是。一份份议案、提案，直指住房、医疗、教育等群众最为关切的问题，让人们感受到温情暖意。这说明

- ①社会主义民主政治的本质特征是公民当家做主
②我国社会主义民主是维护人民根本利益的最广泛、最真实、最管用的民主
③选举民主是我国社会主义民主政治的特有形式和独特优势
④人民代表大会制度是人民掌握国家政权、行使权力的根本途径

- A. ①② B. ①③ C. ②④ D. ③④

6. 下表中事例与途径对应正确的是

事 例	途 径
①李老师成为市人大代表的候选人	民主选举
②袁大姐参加了市政府召开的水价调整听证会	民主决策
③陈师傅拨打市长热线投诉交警执法未使用执法记录仪	民主协商
④李医生作为市政协委员参加了政协会议并发表意见	民主监督

- A. ①② B. ①④ C. ②③ D. ③④

7. 据统计：2022年1月1日，家庭教育促进法、监察官法、陆地国界法、法律援助法实行；3月1日，医师法实行；5月1日，反有组织犯罪法、新修订的职业教育法实行；6月1日，湿地保护法实行；6月5日，噪声污染防治法实行；8月1日，反垄断法、黑土地保护法、期货和衍生品法实行；12月1日，反电信网络诈骗法实行。不难看出：2022年的一系列立法活动更加贴近国计民生，规定更加精准周密。这

- A. 全面描绘我国法治的蓝图 B. 符合民主基础上善治要求
C. 坚持了法治与德治的统一 D. 有利于夯实我国法治基础

8. 习近平总书记强调，“奉法者强则国强，奉法者弱则国弱。”我们必须把依法治国摆在更加突出的位置，把党和国家工作纳入法治轨道。这是因为

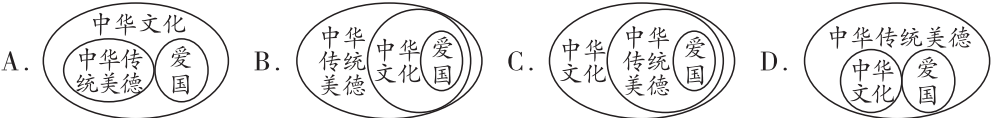
- ①全面依法治国是中国特色社会主义的本质要求
②法治是实现强国富民的基本保障
③走法治道路就能实现中华民族伟大复兴
④法治是现代政治文明的核心

- A. ①②③ B. ①②④ C. ①③④ D. ②③④

9. 《锦绣》舞惊艳亮相兔年春晚。妙丽善舞的舞者用独特的具有现代审美特点的舞蹈语汇，实现了中华优秀传统文化的创造性转化、创新性发展，也点燃了人们对中华悠久文化、厚重历史的热情。对此，说法正确的是

- A. 传统文化民族宝，全面继承很重要
B. 文化创新添活力，与时俱进显自信
C. 只要愿意去创新，就能掀起文化热
D. 世界文化大花园，中华文化最璀璨

10. 在学习中华优秀传统文化时，有些同学对“中华文化”“中华传统美德”“爱国”这三个概念区分不清楚，小豫同学想用图示法帮助同学弄清三者之间的关系。下列图示正确的是



11. 习近平总书记强调，“我们要在全社会大力弘扬和践行社会主义核心价值观，使之像空气一样无处不在、无时不有。”这是因为社会主义核心价值观

- ①是实现中华民族伟大复兴的价值引领
②凝结着全体人民共同的价值追求
③是当代中国人评判是非曲直的价值标准
④是伟大民族精神的核心内容


- A. ①②③ B. ①②④ C. ①③④ D. ②③④

12. 2022年末全国人口，从年龄构成看，60岁及以上人口28004万人，占全国人口的19.8%，其中65岁及以上人口20978万人，占全国人口的14.9%。这表明我国

- A. 总人口增速趋缓 B. 人口众多
C. 大量的人口流动 D. 老龄化加剧

13. 右面漫画反映的道理是

- A. 地球是人类共同的家园
B. 破坏生态环境就是走向自我毁灭
C. 保护动物是公民的义务
D. 我国面临严峻的资源和环境危机



第13题图

14. 1月22日晚8时，2023年海峡两岸春节焰火燃放活动在厦门、金门两地同时举行。两地齐放的璀璨焰火，共同点亮了新年夜空。本次活动主题为“玉兔献祥瑞，两岸共此时”。两岸统一的历史大势不可阻挡。两岸实现统一的有利因素有

- ①香港、澳门回归的实践证明“一国两制”是正确的，具有强大的生命力
②两岸同胞同根同源、同文同种，是命运与共的骨肉兄弟，是血浓于水的一家人
③我国的综合国力、军事实力不断增强
④民族区域自治制度有利于促进两岸统一

- A. ①②③ B. ①②④ C. ①③④ D. ②③④

15. 中国共产党领导中国人民开辟了中国特色社会主义道路，形成了中国特色社会主义理论体系，确立了中国特色社会主义制度，发展了中国特色社会主义文化。这是

- A. 办好中国事情的关键
- B. 解决我国社会主要矛盾的根本途径
- C. 中国自信、民族自信的根本所在
- D. 近代以来中华民族最伟大的梦想

16. 北京时间某日22:30，中国浙江乌镇的一个家庭旅馆正接受来自外国游客的预订。同一时间，坦桑尼亚的一家电视台正热播中国电视剧，世界各地的时装爱好者正收看意大利时装表演直播。从同一时间发生的不同事件可以看出

- A. 跨国旅游广受欢迎
- B. 世界是开放互动的
- C. 中国电视剧风靡全世界
- D. 外来文化引领全球潮流

17. 国家主席习近平在联合国教科文组织总部发表演讲时，用“萝卜青菜，各有所爱”来说明各种文明之间要秉承包容精神，实现文明和谐。下面名言警句和这一寓意最接近的是

- A. 己所不欲，勿施于人
- B. 千里之行，始于足下
- C. 各美其美，美美与共
- D. 淡泊明志，宁静致远

18. “美国没有资格居高临下同中国说话，中国人不吃这一套……”“任何人不能剥夺中国人民追求美好生活的权利”“美国的这个毛病要改一改了！”中国在中美高层战略对话中的这番表态字字铿锵、掷地有声。这说明

- ①矛盾与冲突开始成为时代的主题
- ②大国之间不可能和平共处、共同发展
- ③中国的发展让我们充满自信，充满底气
- ④国与国应在相互尊重的基础上和平共处

- A. ①②
- B. ②③
- C. ②④
- D. ③④

19. 中国电影《流浪地球2》兔年春节震撼上映，与其前作《流浪地球》一样，堪称人类抵抗灾难的史诗篇章，也是构建人类命运共同体的深刻写照。上映五日，国内票房就突破17亿，在国外也是频频满座。构建人类命运共同体

- ①要努力使国家间关系由竞争转向合作
- ②需要各国人民间的相互信任、守望相助和共同担当
- ③要高举和平、发展、合作、共赢旗帜
- ④既要放眼全球，又要心系祖国

- A. ①②③
- B. ①②④
- C. ①③④
- D. ②③④

20. 近年来，关注我国两会的外国媒体、外国记者数量越来越多；用汉语提问的外国记者越来越多；外国记者可以采访到的对象越来越多。这些“多”充分说明

- A. 中国的国际影响力逐渐提升
- B. 中国的发展一枝独秀
- C. 中国的发展面临各种风险与挑战
- D. 中国已成为世界一流强国

21. 世界之变、时代之变、历史之变正以前所未有的方式展开。为应对新型冠状病毒感染、经济复苏乏力等全球挑战，中国应该

- ①加快构建新发展格局
 - ②决定全球规则
 - ③寻求新的经济增长点
 - ④提升发展质量
- A. ①②③
 - B. ①②④
 - C. ①③④
 - D. ②③④

22. 我国北斗卫星团队核心人员平均年龄36岁，量子科学团队平均年龄35岁，酒泉卫星中心载人航天发射团队平均年龄不到30岁，18岁的谷爱凌、17岁的苏翊鸣闪耀冬奥赛场。这体现新时代的中国青年

- ①勇担重担、堪当大任，必须在不平凡的岗位上
- ②生逢盛世、共享机遇，与国家同呼吸、共命运
- ③勤于实践，勇于创新，让青春焕发绚丽的光彩
- ④胸怀世界、不要私利，为人类的发展尽职尽责

- A. ①②
- B. ②③
- C. ②④
- D. ③④

23. 习近平总书记谈到学习时，勉励青年：“既多读有字之书，也多读无字之书。”下面选项不能体现这一主旨的是

- A. 耳闻之不如目见之，目见之不如足践之
- B. 纸上得来终觉浅，绝知此事要躬行
- C. 天与不取，反受其咎；时至不行，反受其殃
- D. 不登高山，不知天之高也；不临深溪，不知地之厚也

24. 随着中考的日益临近，许多班级会在教室醒目位置上设计一个中考倒计时牌。不少学生说，每天看到倒计时牌，真切感受到中考一天天逼近，心理压力很大，倍感焦虑。你应该对这些同学说

- A. 这是激发潜力的有效方式，压力越大，进步越大
- B. 这有利于锻炼心理承受力，保证中考稳定发挥
- C. 每天给自己积极的心理暗示，就能消除考试焦虑
- D. 要正确对待心理压力，善于把压力转化为动力

二、非选择题（4小题，25题10分，26题10分，27题12分，28题20分，共52分）

25.（10分）材料：在城市、在乡镇，摩托车“炸街”、广场舞过于吵闹、房屋装修扰民、商家大喇叭等噪音引发纠纷的事件早已不是新闻。2022年6月5日，我国正式实施新修订的《中华人民共和国噪声污染防治法》，为解决这些事端提供了强有力的法律保障。

对此，有同学认为：彻底治理噪声污染问题，必须坚持厉行法治，但这只是政府及其工作人员的职责，与其他单位和个人无关。请你对此观点进行辨别与分析。

26.（10分）材料一：2022年10月28日，习近平总书记到安阳视察。在察看红旗渠时，习总书记指出，“红旗渠精神和延安精神是一脉相承的，是中华民族不可磨灭的历史记忆，永远震撼人心。”“红旗渠精神永在！”

材料二：红旗渠的成功通水，使得林州的太行山仿佛被注入了灵魂，山因水而秀，水因山而丽。以太行大峡谷为主，依托万泉湖、林虑山大峡谷在林州凝成一片林州绿，形成了旅游业高质量发展的新势能。目前，林州市拥有1个全国特色

小镇、4个省级特色示范镇、14个旅游特色村、120个规模以上旅游村，乡村民宿带动型的乡村旅游逐渐成长为林州乡村振兴的新力量。生态资源依托型的“中国画谷”石板岩小镇每年吸引慕名而来的写生爱好者、艺术生年均渐超200万人次。

结合材料，运用所学知识，思考下列问题：

（1）请你说说，红旗渠精神和中华民族精神的关系。（2分）

（2）新时期为什么要继续弘扬民族精神？（6分）

（3）林州市形成旅游业高质量发展的态势告诉了我们什么道理？（2分）

27.（12分）材料：党的十八大以来，以习近平同志为核心的党中央就民族工作作出一系列重大决策部署，推动我国民族团结进步事业取得了新的历史性成就。习近平总书记一次次到民族地区调研，一次次同各族群众面对面交流。在雪域高原、天山南北，在祖国北疆、西南边陲，都留下了总书记的坚实足迹和深深牵挂。

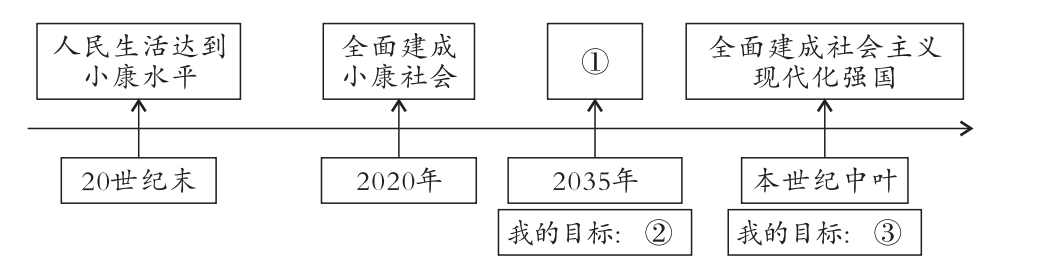
结合材料，运用所学知识，思考下列问题：

（1）为什么要坚定不移地加强和维护民族团结？（6分）

（2）请谈谈我们青少年可以为促进民族团结做些什么。（6分）

28.（20分）材料：2022年10月，中国共产党第二十次全国代表大会在北京召开。习总书记在党的二十大报告中指出：从现在起，中国共产党的中心任务就是团结带领全国各族人民全面建成社会主义现代化强国、实现第二个百年奋斗目标，以中国式现代化全面推进中华民族伟大复兴。

中华民族伟大复兴的中国梦终将在一代代青年的接力奋斗中变为现实。中国梦需要每一个中华儿女怀揣梦想，为之努力奋斗。同学们绘制了“梦想的进程”发展战略时间轴。



（1）请你根据所学知识，将时间轴缺失的内容补充完整。（6分）

（2）请你谈谈怎样实现中国梦。（8分）

（3）为实现中华民族伟大复兴的中国梦，请你从以下三方面谈谈你的具体行动。（6分）

具体行动
有理想：_____
有本领：_____
有担当：_____