

2022-2023学年第一学期教学质量检测

九年级历史试卷

注意事项：

- 1. 本试卷分试题卷和答题卡两部分，试题卷共6页，二个大题，满分100分，考试时间60分钟。
- 2. 请直接将答案写在答题卡上，写在试题卷上的答案无效。
- 3. 答题时，必须使用2B铅笔按要求规范填涂，用0.5毫米的黑色墨水签字笔书写。

题 号	一	二					总 分
		21	22	23	24	25	
分 数							

一、选择题（本大题共20小题，属于单项选择，每小题2分，共40分）

1. 处在大河流域的文明古国都有着自己灿烂的文明。下面大河流域与之相对应的文明中，不正确的是



A. 种姓制度



B. 甲骨文



C.《汉漠拉比法典》



D. 楔形文字

2. 奥运会是世界最大型的运动会。奥运圣火的采集来自于奥运会的西方文明的发源地。这里“西方文明”的发源地是指

A. 古希腊                      B. 西班牙                      C. 古埃及                      D. 意大利

3. 一个政权无论多么强大，都有它走向衰老、死亡的一天。这个强大的政权曾经给东方人民带来了深重的灾难，使他们饱受战乱之苦，但是客观上又使得希腊文明、埃及文明、印度文明得以有相互整合的机会，加快了人类由分散走向整体的进程。“这个强大的政权”指的是

A. 古巴比伦王国    B. 亚历山大帝国    C. 雅典城邦                      D. 波斯帝国

4. 下图所示内容，反映的主题是

公元前3世纪统一了意大利半岛

公元前264—公元前146年进行布匿战争，击败迦太基

公元前2世纪末取得了地中海霸权

- A. 雅典奴隶制城邦的征服与扩张    B. 斯巴达奴隶制城邦的征服与扩张
- C. 罗马共和国的征服与扩张                      D. 罗马帝国的征服与扩张

5. 古希腊先哲们从客观实际出发，俯察人生，对人的价值提出了许多闪耀着人文主义光芒的阐述。其中苏格拉底的主要贡献是

A. 把智慧与美德区分开来                      B. 把哲学讨论重点从自然转移到社会

C. 创立逻辑学                                      D. 使哲学真正成为研究“人”的学问

6. 如图为反映欧洲中世纪某制度的一幅插图，图中一位骑士从他的领主（国王）手中接过一把剑。对该图反映各阶层之间关系的表述正确的是

A. 大小封建主都是国王的直接附庸

B. 小封建主通过服劳役和耕种的方式向国王效忠

C. 大小封建主之间构成领主与附庸的关系

D. 各阶层之间没有严格的等级限制



第6题图

7. 下列梳理的知识，符合哪一地域的社会现象①农业为经济基础②富裕农民、骑士、乡绅集中土地③城市中手工业者和商人成为城市居民④农业和手工业生产逐渐资本主义化

A. 大化改新后的日本                                      B. 地跨三大洲后的阿拉伯帝国

C. 中世纪晚期的西欧                                      D. 东汉后期的中国

8. 《哈姆雷特》人是一件多么了不起的杰作！多么高贵的理性！多么伟大的力量！多么优美的仪表！多么文雅的举动！在行为上多么像一个天使！在智慧上多么像一个天使！人是宇宙的精华！万物的灵长！材料体现的核心思想是？

A. 人文主义    B. 自由平等    C. 神权至上    D. 科学思想

9. 他是拉丁美洲独立运动的领导人之一，被称为南美的“解放者”，今天的玻利维亚共和国就是用他的名字命名的。他是

A. 圣马丁                      B. 玻利瓦尔                      C. 章西女王                      D. 甘地

10. 历史学家使用“城市化的浪潮”“教育的大众化”“人口数量的激增”等来描述19世纪后期

A. 西欧封建社会的演变                                      B. 早期资产阶级革命的爆发

C. 欧洲早期资本主义的萌芽                                      D. 工业化国家的社会巨变

11. 现代塑料工业的迅猛发展，使塑料制品的应用已深入到社会的每个角落，从生产领域到衣食住行，塑料制品无处不在。但人们也发现，塑料垃圾已经悄悄地向我们涌来，严重影响着我们的身体健康和生活环境。这种工业诞生于

A. 戴姆勒的发明                                      B. 诺贝尔的发明

C. 海厄特的发明                                      D. 夏尔多内的发明

- 12.《新编剑桥世界近代史》：“两个学说都发现了变化的原因在于斗争——生存竞争和阶级斗争。”这两个学说的代表人物分别是

A. 但丁、莎士比亚                                      B. 达尔文、马克思

C. 鲍狄埃、贝多芬                                      D. 克伦威尔、林肯

13. 以下选项关联正确的是

A. 达尔文——《战争与和平》                      B. 巴尔扎克——“人间喜剧”

C. 牛顿——《欧也妮·葛朗台》                      D. 贝多芬——万有引力定律

14. 一战后协约国与德国签订了《凡尔赛条约》，这一条约最能损害哪些国家的利益

A. 法国与英国    B. 德国和中国    C. 美国和中国    D. 德国和法国

15. 1929年10月，美国爆发经济危机，危机很快波及整个资本主义国家。但在危机期间，有一个国家却从农业国变成了工业国，综合国力显著增强。这个国家是

A. 苏联                      B. 德国                      C. 日本                      D. 英国

16. 苏联有一个笑话：农夫伊万在河里捉到一条大鱼，高兴地回到家里对老婆说：“看，我们有炸鱼吃了！”老婆说：“没有油啊。”伊万说：“那就煮。”老婆说：“没锅。”伊万说：“那就烤。”老婆说：“没有柴。”伊万气坏了，走到河边把鱼扔了回去。那鱼在水里划了一个半圆，上身出水，举起右鳍激动地高呼：“斯大林万岁！”该笑话反映的是

A. 农民生产积极性受到极大的损害                      B. 个人崇拜达到相当严重的程度

C. 新经济政策恢复自由贸易的后果                      D. 高度集中的经济体制带来的弊端

17. 下列属于一战后亚非拉民族民主运动的是

①纳赛尔领导自由军官组织起义    ②印度民族大起义    ③拉美独立运动

④印度非暴力不合作运动    ⑤埃及华夫脱运动    ⑥墨西哥卡德纳斯改革

A. ①②③                      B. ④⑤⑥                      C. ①③④                      D. ②④⑤

18. 1947年，美国国务卿迪安·艾奇逊针对本国的一项政策解释如下：就像被病菌污染了的一桶苹果，希腊的颠覆会影响伊朗和整个东方……自罗马和迦太基时代后，世界上还没有这样的霸权。这项政策的出台意味着

A. 冷战序幕的拉开                                      B. 冷战的开始

C. 德国的分裂    D. 两极格局的形成

19. 下面是1992年统计的部分跨国公司和国家经济实力对比表，据此可知，跨国公司

公司名称	全球年销售额（单位：10亿美元）	国家	国内生产总值（单位：10亿美元）
通用汽车	132.4	丹麦	123.5
埃克森石油公司	115.7	挪威	112.9
壳牌公司	96.6	波兰	83.8

A. 在经济全球化中扮演重要角色    B. 是国际资本输出的主要来源

C. 是垄断国际贸易的主要经济体    D. 阻碍了欧洲国家的经济发展

20. 1993年欧盟成立时，有12个成员国，后来经过几次扩大，2013年成员国已达28个。这说明

A. 欧盟的国际影响力不断扩大                      B. 欧洲一体化进程已无障碍

C. “一超多强”的局面已经形成                      D. 欧洲实现用一个声音说话



二、非选择题（共5小题，60分）

21.（10分）阅读下列材料，回答问题。

**材料一** 法典共有条文282条，刻在一块巨大的石柱上。法典宣扬“君权神授”。它还规定：奴隶可以买卖，可用来抵债；如果理发师不经奴隶主的许可，擅自把不属于自己的奴隶头上的奴隶标记剃掉，理发师的手指就要被砍掉；奴隶可以被任意杀死，凶手只需赔偿奴隶主的财产损失，无须偿命。

**材料二** 这无疑是罗马法制史上一个不小的成就，可以说，它开创了罗马法制史上的一个新时代。它把向来由贵族和祭司阶层把持的习惯法用人人可见的文字公布出来，使司法执法有明确的文字作依据，在很大程度上限制了贵族官吏的武断和专横。

**材料三** 右图人物是查士丁尼，他曾说：“皇帝的威严、光荣不但依靠兵器，而且须用法律来巩固。这样，无论在战时或平时，总是可以将国家治理得很好”。



- （1）从材料一看，法典主要是为了维护哪个阶级的利益？这部法典在世界文明发展史上具有怎样的地位？（4分）
- （2）材料二中的“它”指的是哪部法律？（2分）
- （3）据材料三，指出查士丁尼颁布法典的目的。综合以上材料谈谈你对法制建设的认识。（4分）

22.（14分）在人类历史长河中，出现了许多叱咤风云的大国，比如二战结束后最富强的美国。美国的发展道路虽然有它自身的特点，但依然有许多地方值得我们借鉴。某校九年级学生围绕美国的崛起这个主题查找资料，进行了系列探究，请你参与。

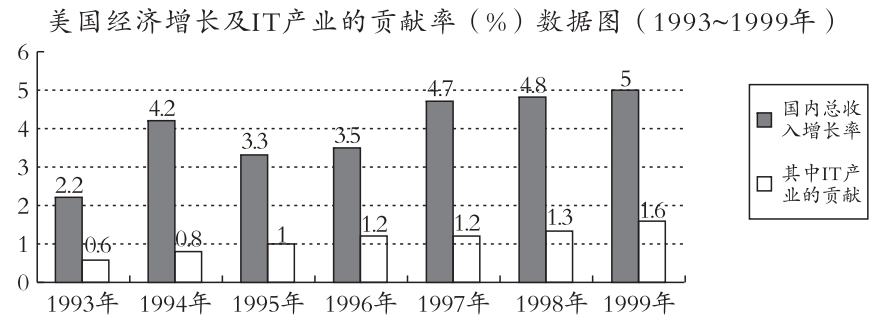
**材料一** 在美洲大陆北部，有一个飘着星条旗的国家……这个国家的出现……演绎了大国兴起的罕见奇迹。

它在欧洲文明的基础上独创性地走出了一条发展之路，将世界第一强国的位置占据了一个多世纪。

——《大国崛起》


**材料二** （在叛乱地区）“为人占有而做奴隶的人们都应在那时(指1863年元旦)及以后永远获得自由”，“合众国政府行政部门，包括陆海军当局，将承认并保障上述人的自由。”

**材料三**




- （1）材料一“这个国家的出现”是通过哪个历史事件真正实现的？（2分）
- （2）材料二出自美国南北战争时期林肯政府颁布的哪一部法令？（2分）
- （3）20世纪30年代，美国面对严重的经济危机，实行罗斯福新政，请结合所学说说罗斯福新政的中心措施和特点。（4分）
- （4）20世纪90年代以来，美国的经济政策和经济结构都和以前有很大不同，人们认为美国进入了新经济时代。据材料三并结合所学知识，说说美国新经济的主要特征。（4分）
- （5）综合上述材料中美国的崛起过程，谈谈对我们实现“强国梦”有哪些启示？（2分）


23.（10分）18—19世纪，蒸汽机引起欧洲生产的革命。英国引领了这一历史发展潮流。



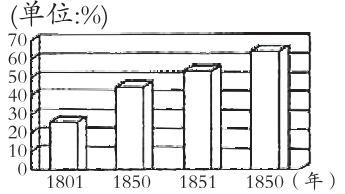
图一 瓦特改进的蒸汽机



图二 19世纪英国城镇人口比重变化图



图三 1850年英国棉纺厂



图四 蒸汽机车

- （1）材料中“欧洲生产的革命”指的是什么？（2分）
- （2）依据上面的四幅图片指出蒸汽机的出现带来了哪些变化。（6分）
- （3）上述内容，给了我们怎样的启示。（2分）

24.（14分）阅读下列材料并回答问题：

**材料一** 英国、德国和美国在世界工业生产中的比重变化表

时间	英国	德国	美国
1870年	32%	13%	23%
1900年	20%	17%	30%
1913年	14%	16%	36%

**材料二** 一战前夕英、法、德、美力量对比表

	英国	法国	德国	美国
19世纪中期工业产量所占位次	1	2	4	3
1913年工业产量所占位次	3	4	2	1
1913年殖民地面积所占位次	1	2	3	4

**材料三** 全世界有60多个国家和地区，20多亿人口卷入战争，参战人员1.1亿，双方死伤0.9亿，直接经济损失40000多亿美元。

项目 国别\年份	煤（百万吨）		铁（万吨）		钢（万吨）	
	1939年	1946年	1939年	1946年	1939年	1946年
英国	235	193.1	811	789	1343	1290
法国	50.2	49.3	738	344	795	441
德国	386.8	105.5	1775	208	2373	356

- （1）由材料一可以看出，1870—1913年主要资本主义国家的经济地位发生了怎样的变化？（2分）这一变化与哪一历史事件密切相关？（2分）
- （2）根据材料二，分析一战爆发的根本原因。（2分）
- （3）分析一战爆发和第二次工业革命的关系。（4分）
- （4）依据材料三并结合所学知识分析，导致1946年工业品产量下降的主要原因是什么？（2分）
- （5）依据材料三结合所学知识，分析这次战争胜利的主要原因。（2分）

25.（12分）观察下面大事年表，请选取两个事件，结合所学知识，写一篇80～120字的小短文。(要求：题目自拟，史实正确，表述完整，逻辑通顺，体现史实之间的联系或比较。)

时间	事件
14—17世纪	欧洲文艺复兴
1492年	哥伦布“发现”美洲
1640年	英国资产阶级革命
1789年	法国大革命爆发
1848年	《共产党宣言》发表
1868年	日本明治维新
1917年	俄国十月革命
1921年	列宁实施新经济政策
1945年	联合国成立
1995年	世界贸易组织成立