

学校:

考号:

班级:

姓名:

xxxxxxxxxxxxxxxx

xxxxxxxxxxxxxxxx

xxxxxxxxxxxxxxxx

xxxxxxxxxxxxxxxx

xxxxxxxxxxxxxxxx

xxxxxxxxxxxxxxxx

xxxxxxxxxxxxxxxx

xxxxxxxxxxxxxxxx

xxxxxxxxxxxxxxxx

xxxxxxxxxxxxxxxx

xxxxxxxxxxxxxxxx

xxxxxxxxxxxxxxxx

xxxxxxxxxxxxxxxx

xxxxxxxxxxxxxxxx

xxxxxxxxxxxxxxxx

xxxxxxxxxxxxxxxx

xxxxxxxxxxxxxxxx

xxxxxxxxxxxxxxxx

xxxxxxxxxxxxxxxx

xxxxxxxxxxxxxxxx

装

订

线

于洪区 2022–2023 学年度上学期期末学业水平测试

九年级历史试卷

历史、道德与法治同场合卷，开卷考试，历史试题满分60分，全场考试时间110分钟。

- 注意事项：
- 1.答卷前，考生务必在答题卡上填写自己的姓名、准考证号。
- 2.选择题与非选择题都必须在答题卡上作答。选择题必须使用 2B 铅笔填涂；非选择题必须用 0.5 毫米黑色字迹的签字笔书写，要求字迹工整、笔迹清楚。
- 3.请按照题号顺序将答案写在答题卡上各题目的答题区域内；超出答题区域书写的答案无效；在草纸上、试卷上答题无效。如需要改动，先划掉原来的答案，然后再写上新的答案，改动的答案也不能超出指定的区域；非选择题不准使用铅笔、圆珠笔和涂改液。
- 4.考生必须保持答题卡的整洁，考试结束，将答题卡交回。

第 I 卷 选择题（30 分）

一、单项选择题（本题 15 小题，每小题 2 分，共 30 分）在每小题列出的四个选项中，只有一项符合题目要求，请将其前面的字母符号填涂在答题卡的指定位置上。

1.两河流域的苏美尔文明、黄河流域的华夏文明、爱琴海的古希腊文明在文明早期都带有不同程度的民主因素。但苏美尔文明和华夏文明最终走向国家集权，古希腊文明孕育出城邦民主。对此解释合理的是（ ）

- A.早期文明发展具有统一性和多样性
- B.地理环境对早期文明的影响有限
- C.海洋文明发展成就领先于大河文明
- D.民主制度只可能孕育于海洋文明

2.将下列对世界产生重大影响的法律文献与其颁布国家相连接，完全正确的是（ ）



① 《汉谟拉比法典》

a.拜占庭帝国



② 《查士丁尼法典》

b.古巴比伦王国



③ 1787 年宪法

c.美国

- A.①—a ②—c ③—b
- B.①—b ②—c ③—a
- C.①—c ②—b ③—a
- D.①—b ②—a ③—c

3.如表所示内容，反映的历史事件是（ ）

实施者	学习对象	性质	影响
孝德天皇	中国隋唐	封建制改革	使日本从奴隶社会过度到封建社会

- A.大化改新
- B.采邑改革
- C.派遣唐使
- D.幕府统治

4.斯塔夫里阿诺斯认为，“文艺复兴不再被认为是与漆黑一团的中世纪相对立的时期，也不是一个断代时期或转折点，而是从中世纪转向近代文明的一个过渡时期。”他意在强调文艺复兴（ ）

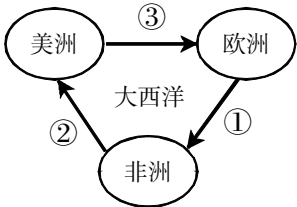
- A.否定了中世纪的文化
- B.推翻了封建专制制度
- C.具有资本主义的性质
- D.阻碍了近代经济发展

5.夏劲、陈茜在《中西两种科学文化背景下的郑和下西洋和地理大发现之比较》一文中写道：哥伦布麦哲伦以自己勇敢的航海探险活动第一次验证了大地是球形的这一科学假说，地平说受到了事实的挑战。破除了人们对基督教神学的迷信，把人们从经院哲学和迷信中解放出来使一些人不再盲从任何所谓的金科玉律的教条与理论。材料旨在表述新航路开辟的（ ）

- A.背景
- B.过程
- C.特点
- D.影响

6.下图是三角贸易示意图，其中②处船上运输的应该是（ ）

- A.廉价商品和枪支弹药
- B.黄金白银
- C.生产原料
- D.黑人奴隶



7.宣言痛斥了英国国王对殖民地的暴政，宣布一切人生而平等，人们有生存、自由和追求幸福等不可转让的权力。宣言同时宣告北美 13 个殖民地脱离英国而独立。这一宣言（ ）

- A.以法律的形式限制了国王的权力
- B.加速了北美殖民地走向独立的进程
- C.沉重打击了当时的封建贵族等级制度
- D.被誉为资产阶级国家第一部成文宪法

8.拿破仑率军五破英、普、奥、俄等国组成的反法联盟，打赢五十余场大型战役，沉重地打击了欧洲各国的封建制度，捍卫了法国大革命的成果，得到了法国人民的默许和资产阶级的支持，这体现了拿破仑统治（ ）

- A.维护了封建秩序
- B.顺应了历史潮流
- C.宣扬了人文主义
- D.增强了军事实力

9. “18 世纪的英国恰好是煤炭价格低廉而人力成本昂贵的国家。在逐利的工厂主看来，推广机器生产可以利用廉价的煤炭替代昂贵的劳动力，从而产生更大的利润。”据此可知工厂主推广机器生产的原因是（ ）

- A.煤炭资源缺乏  
B.劳动力较丰富  
C.追逐更大利润  
D.海外市场广阔

10.下面是近代欧美工人组织建立情况简表。这些工人组织的建立 ( )

时间	工人组织	地 位
1851年	美国“机器工人混合工会”	美国第一个工会联合会
1860年	英国“工会委员会”	由伦敦各业的工会联合组成
1863年	法国“全法工人联合会”	法国第一个全国性的工人组织
1864年	“国际工人协会”	在伦敦成立的第一个国际工人组织
1865年	美国“全国劳工同盟”	美国第一个全国性工会联合会

- A.标志着科学社会主义的诞生      B.反映了资本家对工人的妥协  
C.表明了工人阶级的斗争走向联合      D.广泛吸取了人类优秀的思想成果

11.八里尔银币是西班牙在 16 世纪 70 年代铸造的银币，流通于亚、欧、非、美等大洲。铸币所用的银主要开采于南美洲，大量印第安人在开采中付出了生命。下列对此认识正确的是 ( )

- ①八里尔银币见证全球贸易发展
- ②西班牙对美洲银矿进行了掠夺
- ③银币的材料全部来源于南美洲
- ④银矿开采给美洲人民带来灾难



八里尔银币

- A. ①②③      B. ①②④      C. ①③④      D. ②③④

12.在资本主义国家扩张中，殖民地半殖民地国家人民进行了英勇的抗争，掀起了民族解放运动。请将下面图片反映的史实按时间先后顺序进行排列，正确的一组是（ ）



a.章西女王领导印度民族大起义



b. 来克星顿的枪声



c.玻利瓦尔率军打败西班牙军队

- A.abc                      B.bca                      C.cab                      D.bac

九年级历史试卷第 3 页 (共 8 页)

13.霍布斯鲍姆在《资本的年代》一书中提到日本明治维新时说：“英国模式自然作为铁路、电信、公共建筑和市政工程、纺织工业以及许多商业方面的模范；法国模式用来改革法制、军事；大学归功于美国。”材料所强调的日本明治维新的特点是（ ）

- A.兼收并蓄      B.闭关锁国      C.漫无目标      D.彻底全面

14.两次工业革命在交通领域都取得了重大突破，下列交通工具使用相同动力的是 ( )

- ①1825 年斯蒂芬森设计的火车机车
- ②1903 年莱特兄弟设计的飞机
- ③1913 年福特公司使用流水线生产的汽车

- A. ①②③      B. ①②      C. ②③      D. ①③

15.19 世纪末 20 世纪初的美国进入了“发明的时代”。1860 年至 1890 年，美国国家专利局登记的专利证达 44 万件。美国的经济以前所未有的速度发展，工业产量超过英国、德国成为世界第一。在 19 世纪后半期里，美国工业总产量增长了 12 倍。材料说明 ( )

- A.美国科技始终领先英国  
B.科技发展促进了社会变化  
C.科技进步促进经济发展  
D.美国资产阶级垄断了科技

## 第Ⅱ卷 非选择题 (30 分)

二、读图说史（本题 2 小题，16 题 5 分，17 题 5 分，共 10 分）

16.观看下面两幅图片并阅读相关文字介绍,回答问题。



图一 《权利法案》颁布 300 周年而发行的纪念币



图二 英国议会会场



图三 1701 年通过《王位继承法》

**图一** 1688 年的“光荣革命”推翻复辟的斯图亚特王朝，荷兰执政威廉和玛丽同时登位。威廉三世和玛丽二世于 1689 年召集议会，通过了《权利法案》，《权利法案》规定，国王不经议会许可，不能随意废除法律，也不能停止法律的执行，不得征收捐税。议会还规定，今后任何天主教徒都不能担任英国国王，英国国王也不能与天主教徒结婚。威廉夫妇接受了《权利法案》和议会的要求。《权利法案》为限制王权提供了法律保障。此后，英国议会的权力日益超过国王，君主立宪制逐渐形成。

九年级历史试卷第4页 (共8页)

xxxxxxxxxxxxxxxx

xxxxxxxxxxxxxxxx

xxxxxxxxxxxxxxxx

xxxxxxxxxxxxxxxx

xxxxxxxxxxxxxxxx

xxxxxxxxxxxxxxxx

xxxxxxxxxxxxxxxx

xxxxxxxxxxxxxxxx

xxxxxxxxxxxxxxxx

xxxxxxxxxxxxxxxx

xxxxxxxxxxxxxxxx

xxxxxxxxxxxxxxxx

xxxxxxxxxxxxxxxx

xxxxxxxxxxxxxxxx

xxxxxxxxxxxxxxxx

xxxxxxxxxxxxxxxx

xxxxxxxxxxxxxxxx

xxxxxxxxxxxxxxxx

xxxxxxxxxxxxxxxx

xxxxxxxxxxxxxxxx

xxxxxxxxxxxxxxxx

xxxxxxxxxxxxxxxx

装

订

线


**图二** 为了防止国王排斥议会而独断专行，保证议会能定期召开，议会在 1694 年制订了一个《三年法案》，规定每三年必须召开一次议会，每届议会的任期不得超过三年。它加强了对于王权的限制，使得议会成为限制王权的常设性立法机构。

**图三** 1701 年，英国议会通过《王位继承法》，规定英国国王的王位不能传给天主教徒，英国国王必须加入英国教会；同时，还对国王的其它一些权利作了明确限制。把王位继承用议会立法固定下来。这部法律进一步限制王权，保证资产阶级的自由和权利。

上述一系列法案的实施，使议会权力超过王权，国王“统而不治”的君主立宪制更加不可撼动。

- (1) 根据图片及文字介绍，你能获取哪些历史信息？（写出三点即可，3 分）
- 信息点一：\_\_\_\_\_ 信息点二：\_\_\_\_\_ 信息点三：\_\_\_\_\_
- (2) 根据以上图片及文字介绍，你能得出怎样的历史结论？（2 分）

17. 观看下面图片并阅读相关文字介绍，回答问题。



图一 蒸汽滚筒纸平版印刷机



图二 美国使用的蒸汽拖拉机

**图一** 1785 年，瓦特改进的蒸汽机投入使用，提供了更加便捷的动力。瓦特蒸汽机不仅解决了棉纺织业的机器生产动力问题，还大大推动了其他部门机器的发明和使用。1811 年，移居英国的德国机械师柯尼希和保尔发明了用蒸汽机带动的滚筒纸平版印刷机。该印刷机可每小时印 1000—1200 张，是原来印刷机的 5 倍。1814 年，英国著名的《泰晤士报》首先采用了蒸汽印刷机。19 世纪中期，《泰晤士报》的发行量从 1815 年的每天五千份涨到了五万份左右。1817 年，柯尼希和保尔返回德国，建立了当时世界上第一家蒸汽印刷机制造厂。

**图二** 19 世纪 30 年代，已有人开始研究用蒸汽车辆牵引农机具进行田间作业。1851 年，英国的法拉斯和史密斯首次用蒸汽机实现了农田机械耕作。有人把这看作是农业机械化的开端，但当时他们的办法是把蒸汽机安放在田头，用钢丝绳远远地牵引在田里翻耕的

犁铧。后来随着蒸汽机制造技术的进步，出现了小型化的蒸汽发动机，把它安装在车辆底盘上驱动车轮行驶，使它能够从地头开进田地里直接牵引农机具，这才诞生了拖拉机。1873 年美国帕尔文制成第一台以蒸汽为动力的拖拉机，当时的拖拉机与早期的蒸汽机汽车很相似，但马力更大，行驶速度较慢。

- (1) 根据图片及文字介绍，你能获取哪些历史信息？（写出三点即可，3 分）
- 信息点一：\_\_\_\_\_ 信息点二：\_\_\_\_\_ 信息点三：\_\_\_\_\_
- (2) 根据以上图片及文字介绍，你能得出怎样的历史结论？（2 分）

三、材料解析题（本题 3 小题，18 题 8 分，19 题 5 分，20 小题 7 分，共 20 分。）

18. 阅读下列材料，回答问题。

**材料一** 许多国家在步出中世纪、迈向近代社会时，在国家机构设置、制度建设等方面直接或间接地受到英国的影响，有的国家甚至把英国奉为效法的模范。试看当今世界普遍流行的议会及议会制度、内阁及内阁制度、政党及政党制度以及与之相关的各种政治法律原则，几乎无一不源于英国。

——程汉大《英国政治制度史》摘编

**材料二** 美国的民主实践是一种崭新的尝试。作为英国的殖民地，美国通过革命和协商的方式，形成了一种新型的民主政体……总统制。与英国的议会制相比，美国不仅根除了“君主”“王权”的存在土壤，开启了国家元首的选举模式，而且还确立了“三权分立”的基本原则。

——摘编自孙瑛辉《论民主的多样性及其科学把握》

**材料三** 爆发于 18 世纪末的美国革命和法国革命，都源于同样的启蒙观念，革命之初都曾经相互援助，互相鼓舞，许多法国将军和士兵曾参与了美国革命……美国政治家们也是乐意为法国政体设计出谋划策；都旨在建立一种以公共主权和大多数人的意志为基础的政府。

——摘编自[美]苏珊·邓恩《姊妹革命—法国的闪电与美国的阳光》

- (1) 根据材料一，你能得出什么结论？（2 分）
- (2) 材料二中的“革命”是指哪一事件？（1 分）美国的民主实践“新”在何处？（至少答出两点，2 分）

xxxxxxxxxxxxxxxxxx

xxxxxxxxxxxxxxxxxx

xxxxxxxxxxxxxxxxxx

xxxxxxxxxxxxxxxxxx

xxxxxxxxxxxxxxxxxx

装

xxxxxxxxxxxxxxxxxx

xxxxxxxxxxxxxxxxxx

xxxxxxxxxxxxxxxxxx

订xxxxxxxxxxxxxxxxxx

xxxxxxxxxxxxxxxxxx

xxxxxxxxxxxxxxxxxx

线xxxxxxxxxxxxxxxxxx

xxxxxxxxxxxxxxxxxx

xxxxxxxxxxxxxxxxxx

xxxxxxxxxxxxxxxxxx

xxxxxxxxxxxxxxxxxx

xxxxxxxxxxxxxxxxxx

xxxxxxxxxxxxxxxxxx

xxxxxxxxxxxxxxxxxx

xxxxxxxxxxxxxxxxxx

xxxxxxxxxxxxxxxxxx

xxxxxxxxxxxxxxxxxx

(3) 根据材料三，概括美国和法国革命的相同点。（答出任意一点即可，1 分）

(4) 综合上述材料，总结它们所反映的主题。（2 分）

19.阅读下列材料，回答问题。

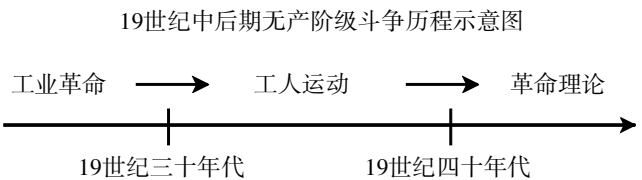
**材料一** 英国享有一个重要的有利条件，即它早已在基础性的采煤工业和炼铁工业中占据领先地位。英国拥有更多可被用作工业革命资金的流动资本，银行业在英国发展得更早、更有效，它为个人和企业提供了共同基金。由于行会瓦解较早，英国获得了充裕的流动劳动力。

——摘编自斯塔夫里阿诺斯《全球通史》

**材料二** 在英国，最初厂房规模小，多以 1771 年阿克莱特在德文特河边建立的水力纺纱厂为样板，通常是一幢 3—4 层的楼房。但到 18 世纪最后十年，工厂已经是新式的多层楼房的大厦，而且一般都建在大城市或者是城镇附近。

——摘编自吕异颖《英国工业革命时期模范工厂研究》

**材料三** 如图所示



(1) 根据材料一并结合所学知识，概括工业革命在英国出现的原因。（至少答出两点，2 分）

(2) 根据材料二 18 世纪英国工厂建筑的变化，并结合所学知识分析工业革命在生产组织形式上带来的变化。（1 分）

(3) 根据材料三，指出示意图中革命理论的创立者。（1 分）结合所学知识举一例该理论指导下的革命实践活动。（1 分）

20.阅读下列材料，回答问题。

**材料一**

法令名称	《关于脱离农奴依附关系的农民一般法令》	《解放黑人奴隶宣言》
颁布时间	1861年3月3日	1862年9月22日
法令条文摘录	农民有权赎买他们所住的房屋，并在获得地主同意后，赎买分配给他们长期使用的土地和其附属地作为私产……因为赎买了土地，他们就摆脱了对地主的义务，成为拥有私产且享有自由的农民。	凡在南方叛乱地区为人占有而做奴隶的人们现在和今后永远获得自由；合众国政府行政部门，包括海陆军当局，将承认并保障这些人的自由，当他们或他们之中的任何人为自己的自由而作任何努力时，不作任何压制他们的行为。

**材料二** （南方叛乱地区）为人占有而做黑奴的人现在和今后永远获得自由；合众国政府将承认并保障这些人的自由。这些人们可参加合众国的军事工作，驻守炮台、阵地、卫戍区域以及其他地区，以及在各种军舰上服役。

——19 世纪 60 年代某文献

**材料三** 南北战争以后，资本主义制度战胜了奴隶制度，代表北部工业资本主义生产的资产阶级战胜了落后的南部种植园奴隶主集团，政权从种植园奴隶主手中转移，为资产阶级所掌握。这种战争的结局及战争中所制定和实施的政策方案，废除了南部的奴隶制，为农业中资本主义发展的“美国式”道路，亦即建设资本主义农场开辟了广阔的前途。

——摘编自《论南北战争对美国农业发展的影响》

**材料四** 1874—1890 年日本工业年均增长率为 12.1%，而英国为 1.7%美国为 5.2%。至 1910 年日本已修运铁路 8600 多公里，对外贸易增长了几十倍。这样，就使日本由原来的一个贫穷落后的封建国家，一变而为富强文明的资本主义国家了。

——陈利今《日本明治维新为什么会成功》

(1) 材料一表格所述内容分别体现了 19 世纪 60 年代俄、美两国人民怎样的时代诉求？（2 分）

(2) 根据材料二文献，概括美国南方叛乱地区的黑人奴隶获得了哪些权利？（2 分）

(3) 根据材料三，指出南北战争使美国发生了哪些变化。（2 分）

(4) 根据材料四并结合所学知识，思考 1874—1890 年日本工业年均增长率远远高于英美等国，是因为明治维新中采取了什么措施？（1 分）