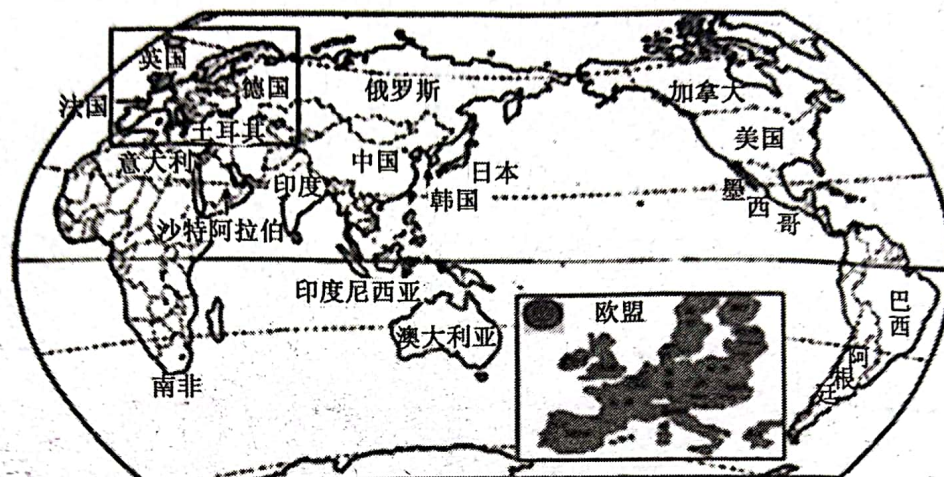


# 2022-2023学年度第一学期期末质量检测

## 九年级地理试题

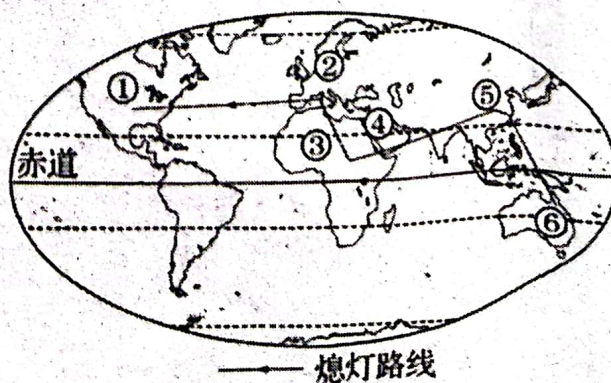
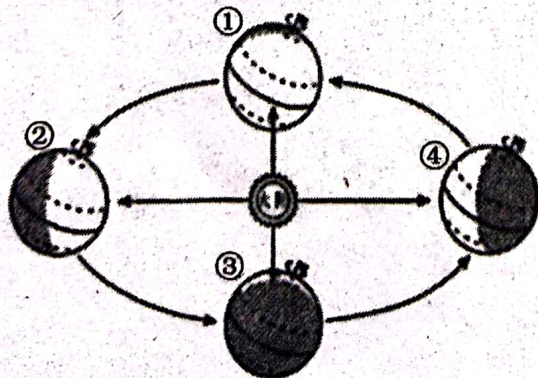
一、选择题(本大题包括 20 小题，每小题 1 分，共 20 分。在每小题给出的四个选项中，只有一项最符合题目要求)

2022 年 11 月 15 日-16 日 G20 峰会在印度尼西亚巴厘岛举行，在疫情和俄乌矛盾的背景之下，此次 G20 峰会无疑是国际关注的热点。如图为 G20 峰会成员国分布示意图，读图完成 1~3 小题。



- 要想查看 G20 成员国所在地区，可以选择  
A. 中国政区图 B. 欧洲西部地图 C. 世界政区图 D. 世界地形图
- G20 成员国  
①主要分布在亚洲、欧洲、美洲 ②均为内陆国  
③主要分布在北半球 ④位于低纬度地区  
A. ①② B. ①③ C. ②④ D. ③④
- G20 特别峰会的召开，说明  
①疫情无国界，应加强全球合作，团结协作应对挑战  
②各国共享抗疫研究成果，共建人类命运共同体  
③等全面消除疫情影响后，再迅速恢复各国间经贸往来  
④各国疫情蔓延程度不同，需“各自为政”、“以邻为壑”  
A. ①② B. ③④ C. ①③ D. ②④

“地球一小时”熄灯活动提倡在当地时间 20:30 熄灭不需要的电灯及耗电产品一小时。2022 年“地球一小时”熄灯接力活动于 3 月 26 日 20:30-21:30 在全球依次展开。读图完成 4~5 小题。





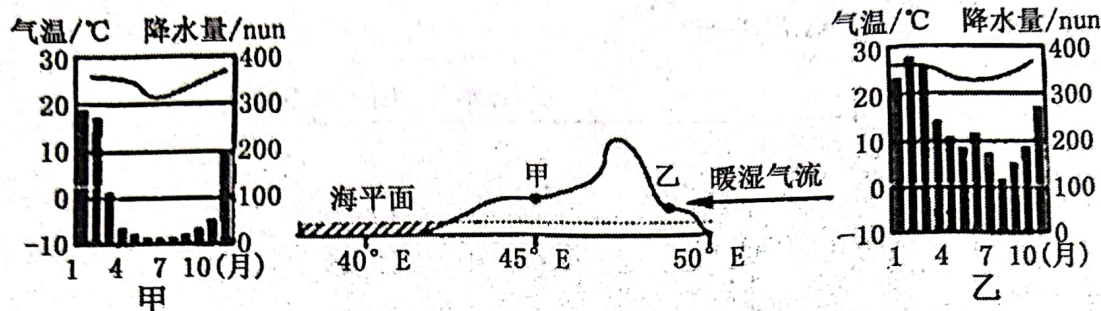
4. 关于这次熄灯接力活动说法正确的是

- A. 2022 年“地球一小时”熄灯接力活动展开时，地球公转到②-③之间
- B. 熄灯顺序的大致方向是自东向西，与地球自转方向一致
- C. “地球一小时”活动进行时，各国会同时熄灯
- D. 亚洲国家比美洲国家更早迎来“熄灯活动”

5. 下列信息表述不正确的是

- A. ①地区居民普遍信仰的宗教发源于④地区
- B. ②和③所在大洲的分界线是巴拿马运河
- C. ⑤地区居民主要为黄色人种
- D. ⑥地区主要通行英语

如图为某岛屿沿 20° 纬线的地形剖面图及甲、乙两地气候资料图。读图完成 6-7 小题。



6. 对于甲、乙两地的叙述，正确的是

- A. 地处南半球
- B. 全年多雨
- C. 气温年较差大
- D. 冬暖夏凉

7. 甲地比乙地降水少，图中所示的主要原因是

- A. 甲处海拔较高
- B. 甲地位于暖湿气流的背风坡
- C. 甲地处内陆
- D. 人类活动的影响

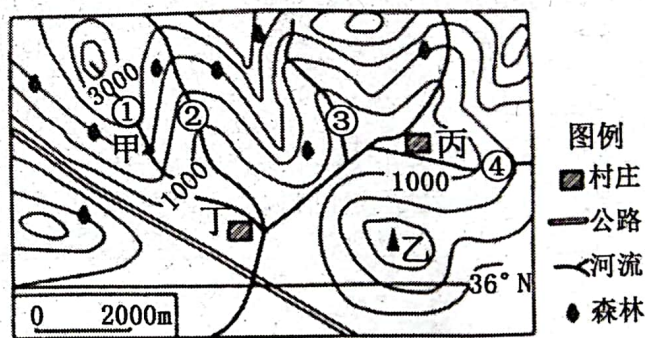
读某地等高线地形图，完成 8-10 小题。

8. 下列判断正确的是

- A. 甲位于山谷
- B. 乙为山顶
- C. 该地为丘陵地区
- D. 甲、乙两地间相对高度大于 500 米

9. 图中标出的几条支流中，有一条实际上是不存在的，其序号是

- A. ①
- B. ②
- C. ③
- D. ④



10. 关于丙、丁两村的比较，正确的是

- A. 丙村交通更为便利
- B. 丙村水源更为丰富
- C. 丁村位于丙村的西南方向
- D. 丙村比丁村海拔低

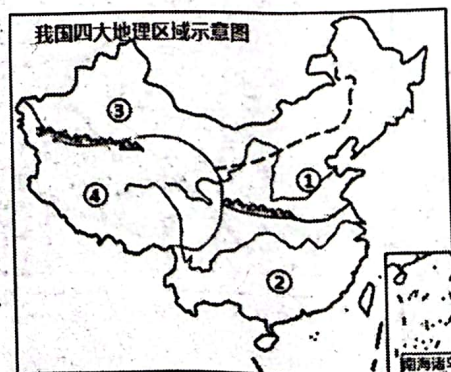
右图是我国四大地理区域图，读图完成 11-12 小题

11. 关于①-④地区的叙述正确的是

- A. ①地区以畜牧业为主
- B. ②地区的耕地以旱地为主
- C. ③地区的水热条件优越
- D. ④地区在河谷发展种植业

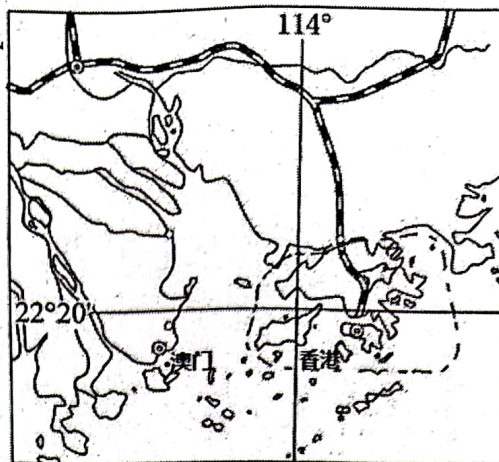
12. 我国自然资源地区分布不均，下列相关叙述正确的是

- A. ①地区矿产资源匮乏
- B. 南水北调工程是将长江流域的水调到华北和西北地区
- C. ③地区的油气资源能彻底解决我国东部的能源短缺
- D. ④地区缺少天然草场





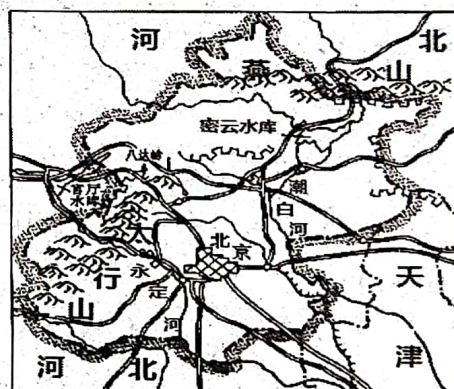
2022年7月1日香港回归祖国25周年。读图完成13-14小题。



13. 比较香港和澳门，关于两地的叙述正确的是
- A. 旅游业不发达
  - B. 香港位于珠江口东侧，北与珠海相连，澳门位于珠江口西侧
  - C. 都是我国的特别行政区
  - D. 两地均为世界金融中心

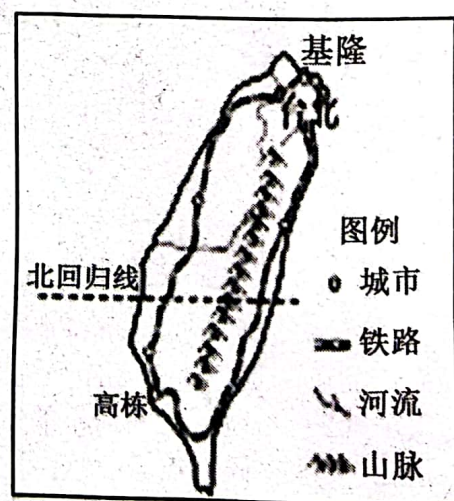
14. 关于港澳与祖国内地联系的叙述，正确的是
- A. 港澳的发展主要靠自身优越的地理位置和丰富的资源
  - B. 在“前店后厂”的合作模式中，内地充分发挥技术和资金的优势
  - C. 香港和澳门与福建省相邻
  - D. 港澳与祖国内地的经济合作是互惠互利、优势互补

2022年北京与张家口联合举办了第24届冬奥会。目前，北京是世界上唯一的“双奥之城”。读图完成15-16小题。



15. 关于北京的描述，正确的是
- A. 有100多个外国大使馆，体现了北京的政治职能
  - B. 位于华北平原南侧，与河北、天津相邻
  - C. 水资源匮乏是城市发展面临的主要问题之一
  - D. 中国最大的海、陆、空交通枢纽

16. 几个同学正在谈论首都北京，其中不正确的是
- A. 小明说：北京的位置大致是  $40^{\circ}\text{N}$ ,  $116^{\circ}\text{E}$
  - B. 小华说：北京的地势特点是东南高，西北低
  - C. 小芳说：四合院体现了北京的历史文化传统
  - D. 小菊说：北京的气候类型属于温带季风气候
- 台湾岛是台湾省的主体，为我国第一大岛。读图完成17-18小题。



17. 关于台湾岛自然地理特征的描述，正确的有
- ①全岛均位于热带 ②地形以山地为主 ③水能资源丰富 ④平原集中分布于东部沿海 ⑤位于火山、地震带上
- A. ①②③ B. ②③④ C. ②③⑤ D. ②④⑤
18. 台湾岛的铁路环岛分布，考虑的因素主要是
- A. 地理位置
  - B. 气候因素
  - C. 地形因素
  - D. 人口分布





中国自然环境复杂多样，区域差异明显。读“新疆维吾尔自治区和海南岛地图”完成19-20小题。



19. 关于两区域自然地理环境特征的叙述，正确的是

A. 海南岛多内流河

B. 海南岛地势中部高四周低

C. 两区域地形均以山地和平原为主

D. 新疆地形分布特征是三盆夹两山

20. 两区域城市分布表述正确的是

A. 沿河分布

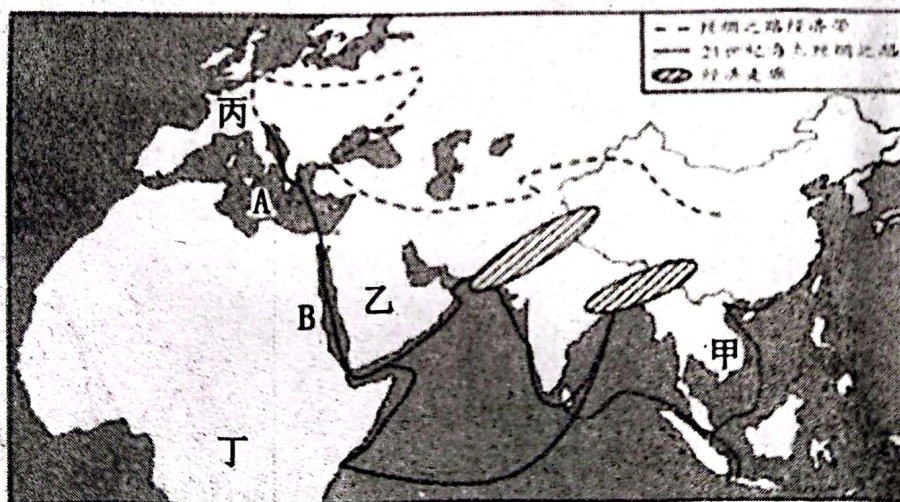
B. 沿海分布

C. 沿铁路线分布

D. 沿山脉走向分布

二、综合题（本大题包括4个小题，共30分）

21. (8分) “一带一路”是“丝绸之路经济带”和“21世纪海上丝绸之路”的简称。“一带一路”贯穿亚欧大陆，东边连接亚太经济圈，西边进入欧洲经济圈。无论是发展经济，改善民生，还是应对危机，沿线国家同我国都有着共同的利益。读世界部分区域图，完成下列问题。



(1) 甲半岛的地形特点是\_\_\_\_，甲地区经过“21世纪海上丝绸之路”运往中国的农产品可能是\_\_\_\_（任写一个即可）

(2) 乙地区主要信奉的宗教为\_\_\_\_，该地区建筑有窗小、墙厚的特点，主要是为适应\_\_\_\_的气候特点。

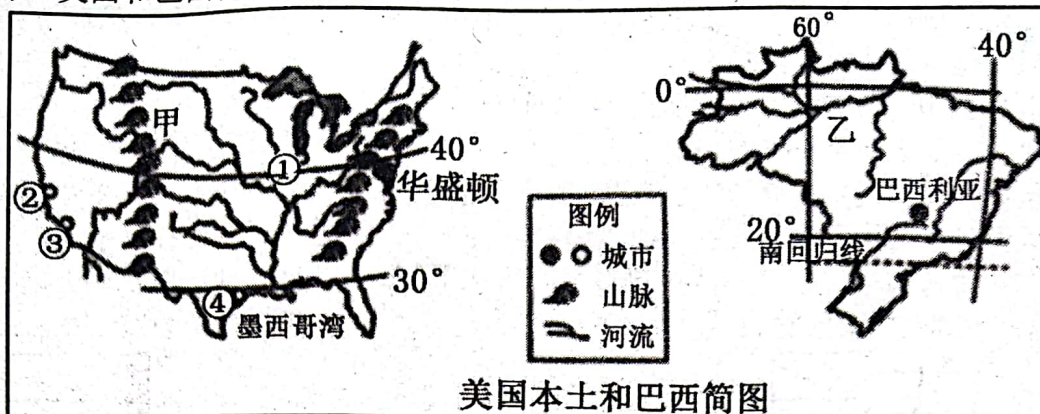
(3) 连通A与B两海域的是\_\_\_\_，它也是亚、非两洲的分界线。

(4) 丙国所在地区畜牧业发达，试从气候方面分析其原因\_\_\_\_。该国旅游业发达，请你列举一处本国著名的旅游景点\_\_\_\_。



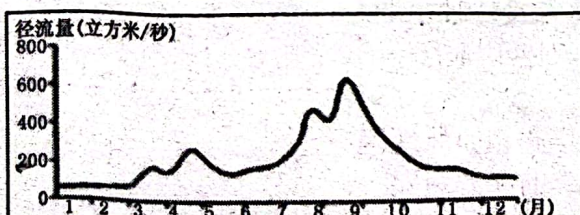


- (5) 丁地区有“热带大陆”之称，其气候分布特点为\_\_\_\_\_
22. (7分) 美国和巴西都是西半球的大国。结合下图，完成下列问题。



- (1) 填写图中地理事物名称。  
山脉：甲 \_\_\_\_\_ 平原：乙 \_\_\_\_\_。
- (2) 美国和巴西共同濒临 \_\_\_\_\_ 洋。美国最大的高新技术产业中心位于图中①②③④地中的 \_\_\_\_\_ (填写数码代号)。
- (3) 有关巴西的说法，正确的是 \_\_\_\_\_。
- A. 平原面积最大的国家                      B. 有大量混血种人  
C. 水资源和森林资源匮乏                  D. 被称为“世界活化石博物馆”
- (4) 据图分析美国中部平原的地势特征 \_\_\_\_\_。
- (5) 美国和巴西都是重要的农产品出口国。美国主要出口玉米、小麦等，而咖啡豆、蔗糖等是巴西重要的出口创汇产品。试从地理位置的角度分析产生这种差异的主要原因 \_\_\_\_\_。

23. (7分) 东北地区和长江三角洲地区；地理环境不同，却都孕育了秀丽山河。结合东北地区和长江三角洲地区图，完成下列问题。



B河径流量季节变化





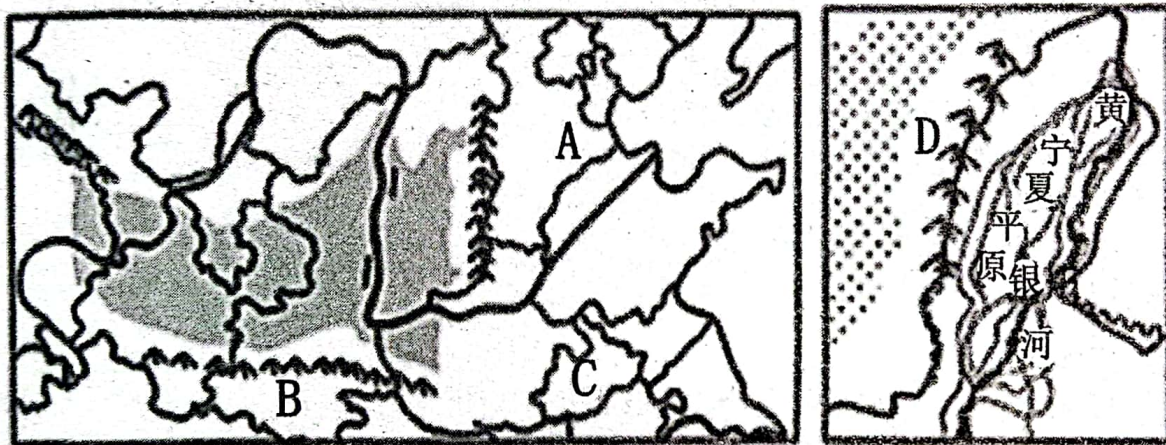
- (1) 人们常用“山环水绕，沃野千里”来形容东北三省的山河大势。其中山脉 A 是\_\_\_\_\_，该山区的主要土地利用类型是\_\_\_\_\_。
- (2) B 河流的径流量季节变化较大，该河流 3-5 月份的径流量明显增多，原因是\_\_\_\_\_。
- (3) 对整个长江三角洲地区的发展起着辐射带动作用的核心城市甲是\_\_\_\_\_；连接北京与该城市的铁路干线①是\_\_\_\_\_线。
- (4) 和甲市相比，辽宁省中南部发展重工业的优势条件是\_\_\_\_\_。
- (5) 两地区都盛产水稻，其共同的气候条件是\_\_\_\_\_。

24. (8 分) 阅读图文材料，完成下列问题

**材料一** “黄土地”亮出绿色“新颜值”，由“浅绿”向“深绿”挺进，据遥感卫星数据显示，2020 年陕西省植被覆盖度 73.29%，较 2000 年增加 16.37%，其中陕北退耕还林区和风沙区的增量最为显著。

**材料二** 宁夏平原地处半干旱地区，自古以来灌溉农业发达，有“塞上江南”之称，所产稻米品质优良。

**材料三** 黄土高原及周边地区图、宁夏平原图



- (1) 写出图中字母代表的地理事物名称。  
地形区：A\_\_\_\_\_ 山脉：B\_\_\_\_\_。
- (2) 黄土高原由“浅绿”向“深绿”挺进的人为原因是\_\_\_\_\_，该措施可有效改善当地\_\_\_\_\_的生态环境问题。黄土高原常见的传统民居是\_\_\_\_\_。
- (3) C 河以南是我国著名的“鱼米之乡”，与该地区相比，宁夏平原稻米品质优良的原因有\_\_\_\_\_（至少答出一点）
- (4) D\_\_\_\_\_（填山脉名称）被称为宁夏平原的“守护神”，该山脉是我国重要的地理分界线，它是\_\_\_\_\_
- A. 季风区和非季风区的分界线      B. 地势第二级阶梯和第三级阶梯分界线  
C. 南方地区和北方地区分界线      D. 黄土高原和青藏高原分界线

