

# 期中达标测试卷

时间:90 分钟 满分:100 分

题 号	一	二	三	四	五	六	七	八	总 分
得 分									

tián kòng

## 一、填 空。(31 分)

- 30 个一是( );10 个十是( )。
- 71 是由( )个十和( )个一组成的。由 5 个十和 6 个一组成的数是( )。
- 按顺序写数。(6 分)
  - (1)  $\overline{\quad\quad\quad}$  49 ( ) 51 ( ) 53 ( ) 55
  - (2)  $\overline{\quad\quad\quad}$  72 ( ) ( ) 69 68 ( ) ( )
- 与 59 相邻的两个数分别是( )和( )。
- 用卡片  $\boxed{3}$ 、 $\boxed{5}$  和  $\boxed{0}$  能摆出四个不同的两位数,它们分别是( )、( )、( )和( )。
- 写出用 4 个“○”表示的两位数。

十位	个位
○	○ ○ ○

( )

十位	个位
○ ○	○ ○

( )

十位	个位
○ ○ ○	○

( )

十位	个位
○ ○ ○ ○	

( )

- 40 再加上( )就和 47 同样多;比 96 少 6 的数是( )。

- 在○里填上“>”“<”或“=”。

$50 \bigcirc 51$

$23 \bigcirc 32$

$71 \bigcirc 17$

$63 \bigcirc 68$

$66 - 6 \bigcirc 60$

$90 \bigcirc 90 + 9$

$42 \bigcirc 40 + 2$

$36 \bigcirc 56 - 50$

xiǎo mì fēng cǎi huā mì lián yi lián  
二、小蜜蜂采花蜜。(连一连)(8分)



$40+8$



$17-9$



9个十和9个一



$13-6$

99

6

48

90

4

8

7

9



$14-8$



$74-70$



比最大的两位数小9



$11-2$

bǐ yì bǐ kàn shéi xiān dào jiā  
三、比一比，看谁先到家。(20分)



$10+8=$

$14-6=$

$80+8=$

$73-70=$

$62-2=$



$35-5=$

$57-50=$

$93-3=$

$17-9=$

$12-8=$



$16-9=$

$30+4=$

$90+7=$

$46-40=$

$11-3=$



$76-70=$

$39-9=$


$12-5=$

$19-9=$

$50+6=$



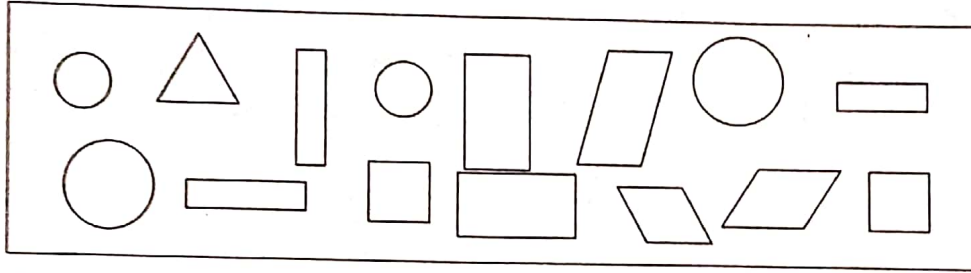
shǔ yì shǔ tián yì tián  
四、数一数，填一填。(5分)



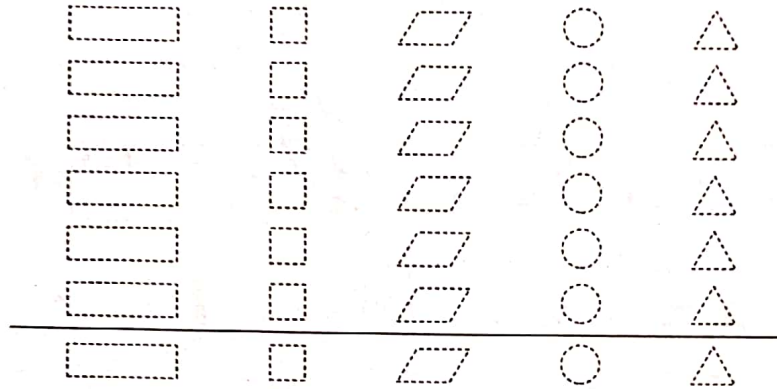
	( )个
	( )个
	( )个
	( )个
	( )个

àn yāo qiú zuò yì zuò

## 五、按要求做一做。(10分)



### 1. 按种类分一分,涂一涂。(5分)



### 2. 填一填。(5分)

形状					
个数					

cāi yì cāi zài hé shì de dá àn xià miàn huà

## 六、猜一猜,在合适的答案下面画“○”。(4分)



我们比灰兔少得多。

白兔

白兔可能有多少只?

8 只	32 只	50 只
<input type="checkbox"/>	<input type="checkbox"/>	<input type="checkbox"/>

我们有35只。



灰兔

黑兔可能有多少只?

65 只	34 只	40 只
<input type="checkbox"/>	<input type="checkbox"/>	<input type="checkbox"/>

我们比灰兔多一些。

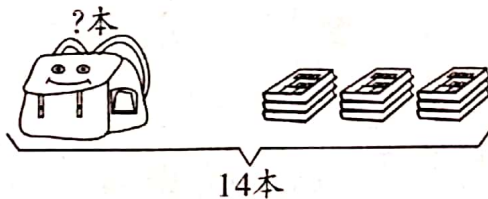


黑兔

kàn tú liè shì jì suàn

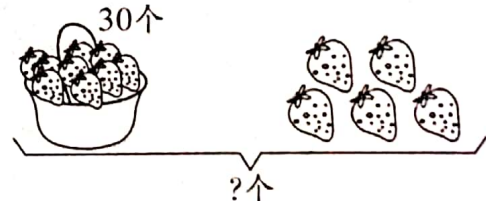
## 七、看图列式计算。(6分)

1.



$$\square \bigcirc \square = \square (\text{本})$$

2.



$$\square \bigcirc \square = \square (\text{个})$$

## 八、解决问题。(16分)

1.



白兔有7只,黑兔有多少只?(4分)

2.



已经栽了多少棵树?(4分)

3. 买衣服。(8分)



88元



?元



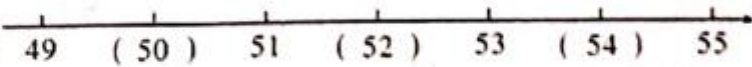
?元

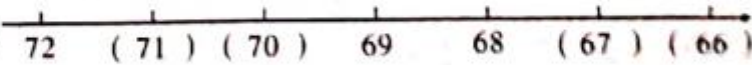
(1) 一条裙子比一件上衣贵8元,一件上衣多少元?(4分)

(2) 一条裤子比一件上衣贵5元,一条裤子多少元?(4分)

## 期中达标测试卷

一、1. 30 100 2. 7 1 56

3. (1) 

(2) 

4. 58 60 5. 35 30 53 50

6. 13 22 31 40 7. 7 90

8. < < > < = < = >

二、略

三、18 3 8 60 88 30 8 7 4 90 7 6

34 8 97 6 10 30 56 7

四、3 6 3 4 4

五、1. 略 2. 5 2 3 4 1

六、8 只○ 40 只○

七、1.  $14 - 9 = 5$  2.  $30 + 5 = 35$

八、1.  $16 - 7 = 9$ (只)

2.  $86 - 6 = 80$ (棵)

3. (1)  $88 - 8 = 80$ (元)

(2)  $80 + 5 = 85$ (元)