

装

订

线

学校:

# 2018—2019学年度下学期 小学一年级数学练习题 (中段)

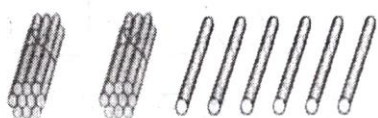
(P2—51页)

## 一、口算。(10分)

$60+9=$	$15-8=$	$12+6=$	$73-3=$
$96-90=$	$30+4=$	$12-9=$	$20+8=$
$70+5=$	$16-8=$	$15+4=$	$48-40=$
$17-9=$	$50+9=$	$67-7=$	$10+8=$
$12+6=$	$34-4=$	$20+5=$	$13-6=$

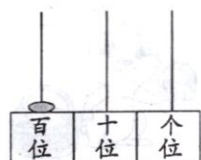
## 二、填空。(第1、7小题各3分,其余每小题2分,共22分)

1. 看图写数,读数。



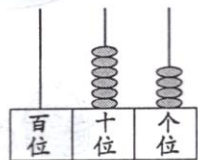
写作: ( )

读作: ( )



写作: ( )

读作: ( )



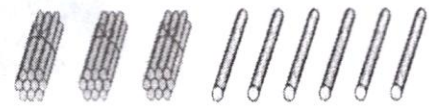
写作: ( )

读作: ( )

2. 数一数,填一填。



( ) 个十和 ( ) 个一,  
合起来是 ( )。



( ) 个十和 ( ) 个一,  
合起来是 ( )。

3. 按要求写数,并比较大小。

(1) 写出两个个位上是6的两位数,并比较大小: ( )  $\bigcirc$  ( )。

(2) 写出两个十位上是8的两位数,并比较大小: ( )  $\bigcirc$  ( )。

4. 由9个一与5个十组成的数是 ( ); 73里面有 ( ) 个十与 ( ) 个一。

5. 与89相邻的两个数是 ( ) 和 ( ); 99添上1是 ( ) 个十,也就是 ( )。

6. 用7、8、15写出一道加法算式和一道减法算式。

$$\square + \square = \square$$

$$\square - \square = \square$$

7. 在下面的  $\bigcirc$  里填上“>”、“<”或“=”。

2个十  $\bigcirc$  9个一

$13-8$   $\bigcirc$  5

$62-60$   $\bigcirc$  20

100  $\bigcirc$  10个十

$40+9$   $\bigcirc$  50

$27-7$   $\bigcirc$  12

8. 在3、7、9三个数中,任意选两个组成两位数,最大的是 ( ),最小的是 ( )。

9. 有85个乒乓球,每10个装一袋,可以装满 ( ) 袋,还剩 ( ) 个。

10. 树上有18个苹果,小猴摘了5个,小兔摘了9个。树上还有 ( ) 个。

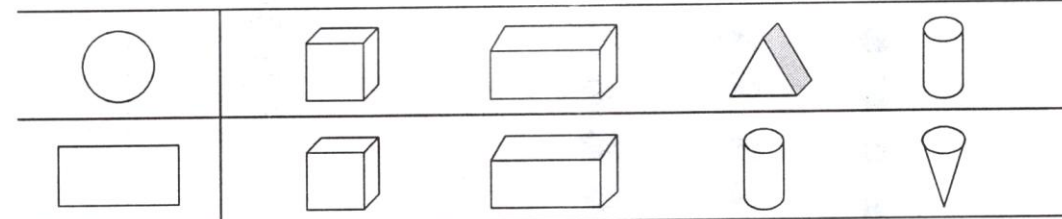
## 三、认识图形。(10分)

1. 数一数,填一填。(5分)

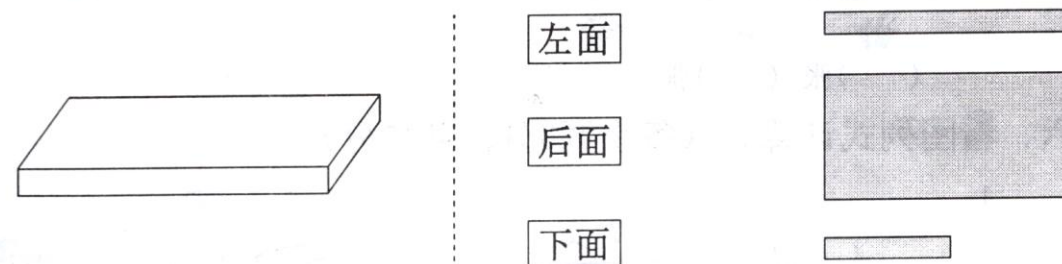


	( ) 个
	( ) 个
	( ) 个
	( ) 个
	( ) 个

2. 用哪个物体可以画出左边的图形?请把它圈起来。(2分)



3. 右边的图形是长方体的哪个面?用线连起来。(3分)



## 四、计算。(15分)

1. 在下面的  $\square$  里填上合适的数。(6分)

$$20 + \square = 26$$

$$14 - \square = 6$$

$$13 - \square < 8$$

$$\square - 9 = 50$$

$$8 + \square = 98$$

$$\square + 5 > 12$$

2. 直接写得数。(9分)

$$6+8+3=$$

$$17-8+80=$$

$$64-60+9=$$

$$19-5-8=$$

$$28-20+50=$$

$$3+4+30=$$

$$11-2+70=$$

$$60-20+8=$$

$$7+6-8=$$

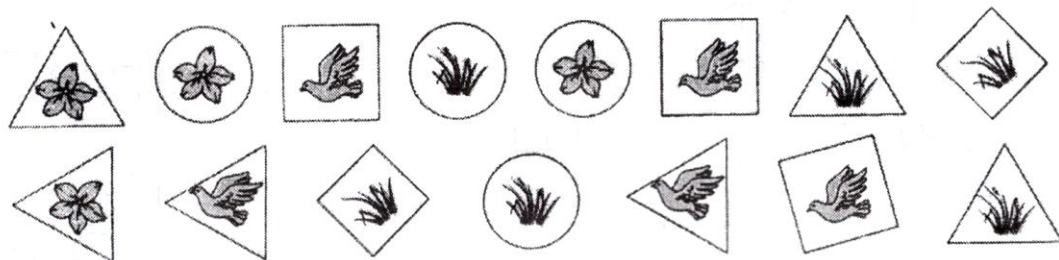


# 五、分类与整理。(6分)

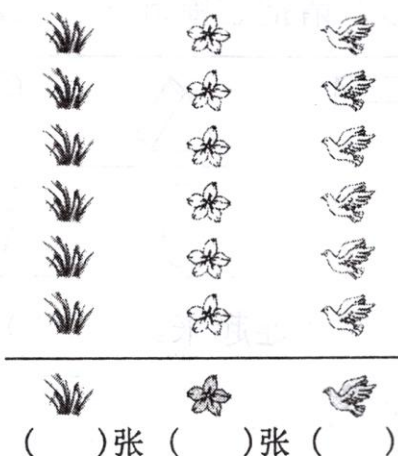
1. 把会飞的动物涂上你喜欢的颜色。(3分)



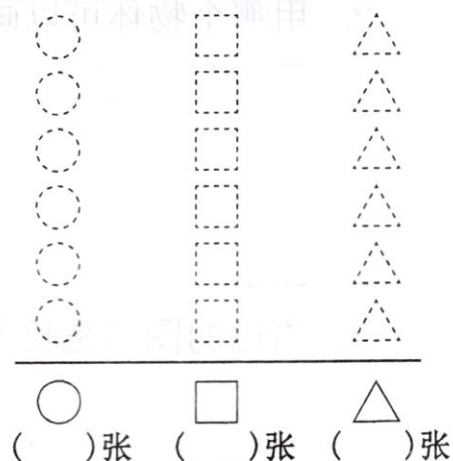
2. 给卡片分类。(3分)



(1) 按卡片上事物的不同分一分，在下面涂一涂，填一填。

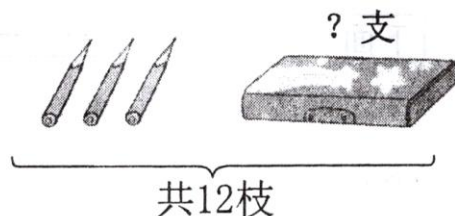


(2) 按卡片的形状分一分，在下面涂一涂，填一填。



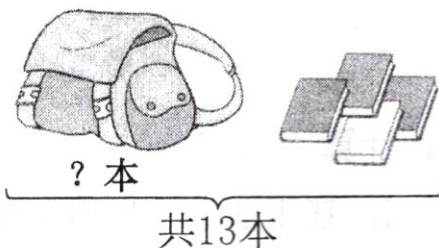
# 六、看图列式计算。(每小题3分，共12分)

1.



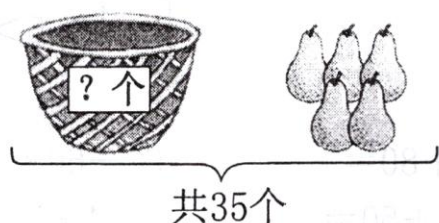
$$\square \bigcirc \square = \square \text{ (枝)}$$

2.



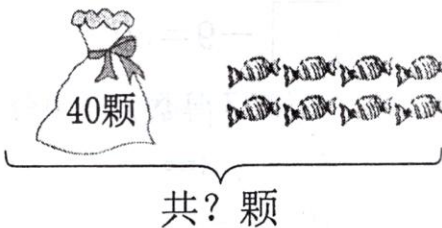
$$\square \bigcirc \square = \square \text{ (本)}$$

3.



$$\square \bigcirc \square = \square \text{ (个)}$$

4.



$$\square \bigcirc \square = \square \text{ (颗)}$$

# 七、我会解决问题。(每小题5分，共25分)

1. 猜一猜，在你认为合适的答案下面画“√”。



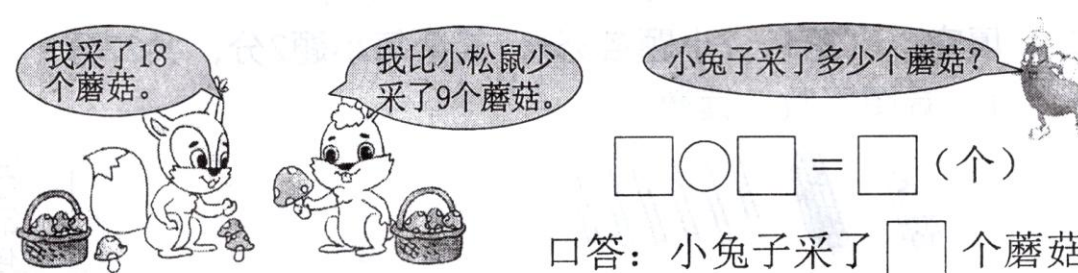
(1) 小猪可能有多少头?

95头	76头	65头
<input type="checkbox"/>	<input type="checkbox"/>	<input type="checkbox"/>

(2) 小羊可能有多少只?

72只	60只	24只
<input type="checkbox"/>	<input type="checkbox"/>	<input type="checkbox"/>

2.




口答：小兔子采了□个蘑菇。

3.



口答：一共有□人。

4.



口答：还差□瓶水。

5.



口答：借走了□个。