

2020-2021 学年度下学期阶段教学质量调查 一年级数学试题

时间 40 分钟 分值：100☆

题号	一	二	三	四	五	六	总分
得分							

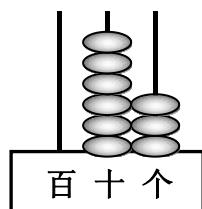
2021 年 4 月

一、看谁算得对。(20☆)

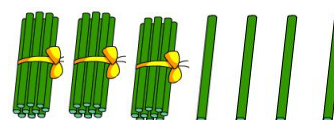
$13 - 7 =$	$12 - 4 =$	$11 - 5 =$	$16 - 8 =$
$6 + 70 =$	$9 + 7 =$	$15 - 6 =$	$69 - 60 =$
$24 - 20 =$	$14 - 3 =$	$5 + 9 =$	$12 - 5 =$
$58 - 50 =$	$79 - 7 =$	$13 - 9 =$	$9 + 3 - 6 =$
$5 + 8 =$	$16 - 9 =$	$65 - 5 =$	$17 - 6 - 8 =$

二、填一填。(29☆)

1.



() 个十和 () 个一
合起来是 ()。



() 里面有 () 个十
和 () 个一。

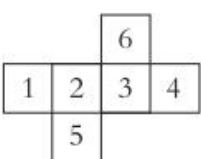

2. 90 里面有 () 个十，10 个十是 ()。

77 是由 () 个十和 () 个一组成的。

3. 有一个两位数，个位上是 3，十位上是最大的一位数，这个数是
()。

4. 55 是 () 位数, () 位上的 5 表示 5 个十。

5. 与 80 相邻的两个数是 () 和 ()。

6. 用  折成一个  数字“6”的对面是“()”。

7. 估一估, 在得数是六十多的算式后面画“√”。

$45+20 \square$

$45+2 \square$

$63-20 \square$

$63-2 \square$

8. 按规律填数。

55		65	70	
----	--	----	----	--

	40		60	
--	----	--	----	--

9. 在○里填上“>”、“<”或“=”。

$13-6 \bigcirc 5$

$70 \bigcirc 87-7$

$14-5 \bigcirc 17-8$

$78 \bigcirc 69$

$99 \bigcirc 100$

$89 \bigcirc 98$

三、数一数, 填一填。(5☆)

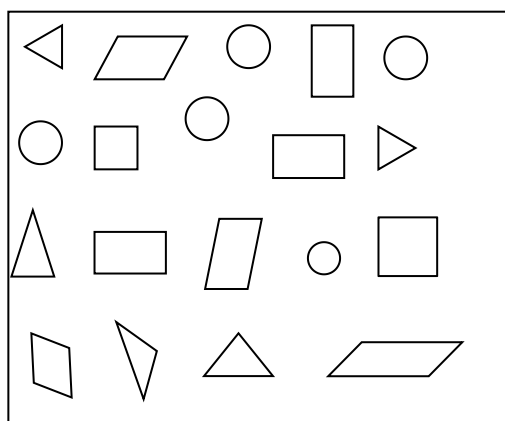







图 形					
个 数					

四、选择正确答案的序号填在括号里。(10☆)

1. 红球有 58 个, 比黄球多得多, 黄球可能有 ()。

A.18 个

B.78 个

C.48 个

2. 一个两位数，十位和个位上的数字相同，但比 70 大，这个数可能是（ ）。

A.98

B.88

C.66

3. 明明今年 8 岁，爸爸比妈妈大 3 岁，妈妈比爸爸小（ ）岁。

A. 8

B.3

C.11

4. 用两个同样的（ ）可以拼成一个平行四边形。

A.长方形

B.正方形

C.三角形

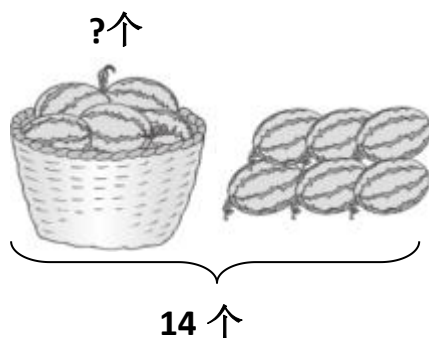
5. 从 7、3、6 这三个数中选择两个数，组成的最大两位数是（ ）。

A. 67

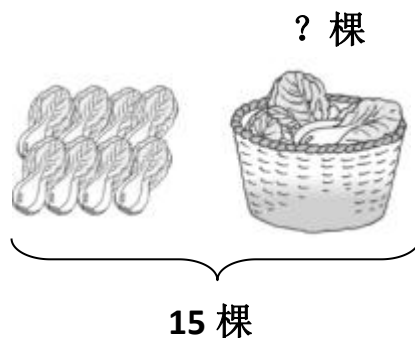
B.76

C.99

五、看图列算式。（8☆）



$$\square \bigcirc \square = \square$$



$$\square \bigcirc \square = \square$$

六、解决问题。（共 28☆。第 1—4 题每题 5☆，第 5 题 8☆）

1. 豆豆家有 65 个珠子，10 个穿一串，能穿几串？

2.

我投了 16 个球，
投进 9 个。



有几个球没进？

$$\square \bigcirc \square = \square \quad (\quad)$$

3. 一共要栽 12 棵树，同学们已经栽了 7 棵。

还要栽多少棵？



$$\square \bigcirc \square = \square \quad (\quad)$$

4.



还剩下 60 本书。

借走 9 本。



一共有多少本书？

$$\square \bigcirc \square = \square \quad (\quad)$$

5.



我跳了 17 下。



我才跳了 8 下。

(1) 小猪比小兔少跳了多少下？

$$\square \bigcirc \square = \square \quad (\quad)$$

(2) 你还能提出其他数学问题并解答吗？