

# 瑞金市 2021 年春小学一年级数学期中质量监测题

(范围: 课本 P1-51)

班级: \_\_\_\_\_ 姓名: \_\_\_\_\_ 书写(5分) \_\_\_\_\_ 成绩: \_\_\_\_\_



同学们, 这个学期快过一半了, 前面已学的知识是遗忘了还是记牢了, 赶快拿起手中的笔, 挑战一下吧!

## 一、我会计算。(共 15 分)

$12-6=$	$14-8=$	$2+91=$	$15-5=$	$9-9+3=$
$59-9=$	$9+8=$	$50+8=$	$10+40=$	$39-9+8=$
$73-3=$	$64-60=$	$13-4=$	$13+4=$	$57-50-5=$

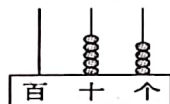
## 二、我会填空。(每空 1 分, 共 28 分)

### 1. 看图写数、读数。



写作: \_\_\_\_\_

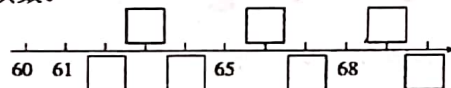
读作: \_\_\_\_\_



写作: \_\_\_\_\_

读作: \_\_\_\_\_

### 2. 按顺序填数。



3. 70 前面的一个数是( ), 后面的一个数是( )。

4. 59 里面有( )个十和( )个一, 再添上 1 个十是( )。

5. 个位上是 5 的两位数中, 最大的是( ), 最小的是( )。

6. 在○里填上“>”、“<”或“=”。

$47-20$  ○  $25$      $69$  ○  $7+62$      $24-10$  ○  $9+6$      $99$  ○  $100$

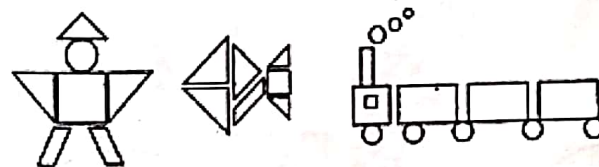
7. 在( )里填上合适的数。

$58-( )=50$      $34=( )+4$      $( )+( )=86$      $79<( )$

8. 长方形、正方形、平行四边形都有( )条边。

## 三、我会数一数, 填一填。(共 8 分)

下图中, 一共有( )个 □, ( )个 □, ( )个 ○, ( )个 △。



## 四、我会选一选, 在你认为合适的答案下面打“√”。(共 6 分)

1. 的价格比 便宜一些, 书包可能是多少元?



65 元




? 元

40 元	60 元	65 元

2. 苹果有 46 个, 脐橙的个数比苹果多得多。脐橙可能有多少个?

18 个	50 个	96 个

五、我会分类整理(填序号)。(12分)




六、用4个○可以表示哪些不同的数?(5分)

十位	个位	组成的数

七、我会解决问题。(10+5+5+6=21分)

1. 看图列式计算。



2. 兔妈妈原来有77个胡萝卜,被小兔子搬走了70个,还剩多少个?

3. 幼儿园小朋友在吹气球,吹了16个红气球,9个黄气球。再吹几个黄气球就和红气球同样多?

4.



把这些草莓都装进纸箱里,装得下吗?

八、快乐思维(+10分)

小猴要爬上6米高的大树,可是他每爬上4米后,又会掉下2米,小猴第几次才能爬上树顶?