

# 2020--2021 学年第二学期期中考试

## 一年级数学试卷

满分: 100 分 考试时间: 60 分钟

题号	一	二	三	四	五	六	卷面分 2 分	总分
得分								



同学们, 这个学期快过一半了, 前面已学的知识是遗忘了还是记牢了, 赶快拿起手中的笔, 挑战一下吧!

### 一、我会计算。(共 16 分)

$12 - 6 =$

$2 + 91 =$

$15 - 5 =$

$9 - 9 + 3 =$

$59 - 9 =$

$9 + 8 =$

$50 + 8 =$

$39 - 9 + 8 =$

$30 + 5 =$

$75 - 70 =$

$20 + 5 =$

$15 - 6 + 2 =$

$73 - 3 =$

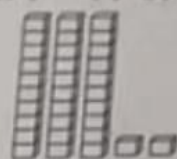
$64 - 60 =$

$13 - 4 =$

$57 - 50 - 5 =$

### 二、我会填空。(每空 1 分, 共 24 分)

#### 1. 写一写, 读一读。



写作: ( )      写作: ( )      写作: ( )

读作: ( )      读作: ( )      读作: ( )

2. 70 前面的一个数是 ( ), 后面的一个数是 ( )。

3. 59 里面有 ( ) 个十和 ( ) 个一, 再添上 1 个一是 ( ), 再添上 1 个十是 ( )。

4. 个位上是 5 的两位数中, 最大的是 ( ), 最小的是 ( )。

5. 在 ○ 里填上 “>”、“<” 或 “=”。

$47 - 20 \bigcirc 25$

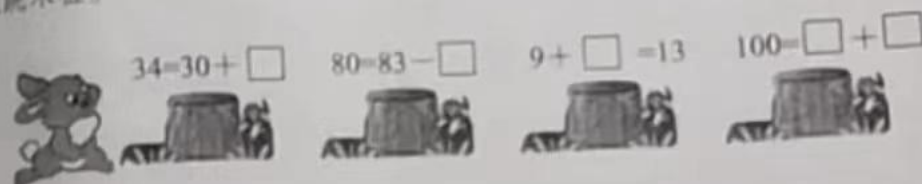
$69 \bigcirc 7 + 62$

$24 - 10 \bigcirc 9 + 6$

$99 \bigcirc 100$

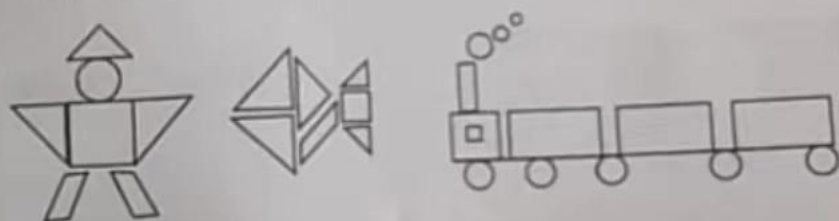
6.长方形、正方形、平行四边形都有( )条边。

7.跳木桩。



三、我会数一数，填一填。(共8分)

下图中，一共有( )个□，( )个□，( )个○，  
( )个△。



四、我会选一选。(共10分)

1. 80 里面有( )个一。

- ① 8    ② 80    ③ 10

2. 大于 50 小于 60 的数可能是( )。

- ① 65    ② 55    ③ 45

3. 最大的两位数是( )。

- ① 10    ② 99    ③ 100

4. 十位和个位上数字相同的两位数有( )个。

- ① 8    ② 9    ③ 10

5. 苹果有 46 个，脐橙的个数比苹果多得多。脐橙可能有( )个。

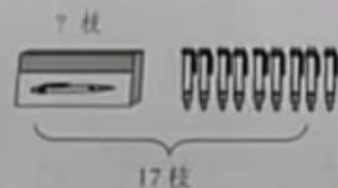
- ① 18    ② 50    ③ 96

五、用3个○可以表示哪些不同的数？（4分）

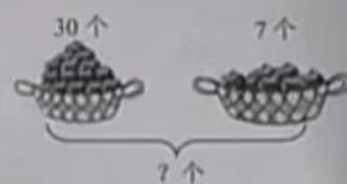
十位	个位	组成的数

六、我会解决问题。（共36分）

1. 看图列算式。（8分）



$$\square \bigcirc \square = \square \text{ (枝)}$$




$$\square \bigcirc \square = \square \text{ (个)}$$






















2. 兔妈妈原来有77个胡萝卜，被小兔子搬走了70个，还剩多少个？（5分）

3. 幼儿园小朋友在吹气球，吹了16个红气球，9个黄气球。再吹几个黄气球就和红气球同样多？（5分）






















4.整理卡片。(6+6=12分)



(1) 按动物的种类分一分，  
在下面涂一涂，填一填。

		
		
		
		
		
		
		
( )张	( )张	( )张

(2) 按卡片的形状分一分，  
在下面涂一涂，填一填。

		
		
		
		
		
		
		
( )张	( )张	( )张

5.每个学生分4块，可以分给多少个学生？

最少再加几块够再分一个学生？

(圈一圈，画一画) (6分)



挑战自我。(10分)

1.公路一边有10棵大树，每两棵大树中间放一张长椅子。一共可以放( )张长椅子。

2.拼一个大正方形至少需要( )个相同的小正方形。