

小学数学一年级期中优化练习题

一、口算。

$9 + 7 =$	$27 - 7 =$	$2 + 30 =$	$58 - 50 =$
$18 - 8 =$	$14 - 9 =$	$13 - 6 =$	$30 + 6 =$
$4 + 9 =$	$11 - 5 =$	$8 + 5 =$	$12 - 5 =$
$75 - 5 =$	$12 - 8 =$	$15 - 6 =$	$3 + 8 =$
$60 + 8 =$	$28 - 20 =$	$48 - 8 =$	$11 - 7 =$

二、填空。

1. 数一数，填一填。



() 个十和 () 个一

合起来是 ()。



() 个十和 () 个一

合起来是 ()。

2. 与 59 相邻的两个数是 () 和 ()；99 添上 1 是 () 个十，也就是 ()。

3. 用 6、9、15 写出一道加法算式和一道减法算式。

$\square \bigcirc \square = \square$

$\square \bigcirc \square = \square$

4. 用 3 个 ● 能摆出 () 个不同的数，分别是 ()。

5. 折一折，用 做一个 ，“1”的对面是“()”，“6”的对面是“()”。

6. 在○里填上“>”、“<”或“=”。

$56 \bigcirc 65$

$14 - 8 \bigcirc 7$

$5 \text{ 个十} \bigcirc 9 \text{ 个一}$

$2 + 20 \bigcirc 21$

$17 - 8 \bigcirc 16 - 7$

$10 \text{ 个十} \bigcirc 100 \text{ 个一}$


7. 48 个 ，每 10 个装一筒，能装满 () 筒，还剩 () 个。

8. 原来有 19 根萝卜，小兔子吃了 8 根，兔妈妈吃了 5 根，还剩 () 根萝卜。


9. 猜猜李阿姨抢了多少元微信红包？画“√”。

陈叔叔抢了多少元微信红包？画“△”。

8 元	17 元	21 元	60 元



三、认识图形。



1. 数一数，填一填。

图形					
个数					

2 () 最多，() 和 () 同样多。

四、计算

1. 在□填上合适的数。

$\square + 30 = 38$

$\square - 7 = 60$

$\square - 5 > 7$

$12 - \square = 7$

$4 + \square = 84$

$6 + \square < 15$

2. 直接写得数。

$17 - 9 + 60 =$

$40 + 9 - 9 =$

$14 - 9 + 8 =$

$94 - 90 + 8 =$

$16 - 8 + 20 =$


$27 - 20 + 6 =$

五、分类与整理。

1. 请把车子涂上颜色。



2. 分一分，填一填。



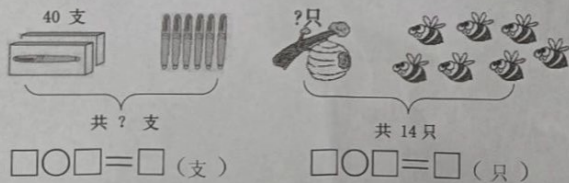
(1) 按卡片上面的事物不同分一分，填一填。

张数			

(2) 按卡片的形状分一分，在下面涂一涂、填一填。

			Δ () 张
			\square () 张
			\bigcirc () 张

六、看图列式。



七、解决问题。

1. 他们带了多少瓶矿泉水?

$$\square \bigcirc \square = \square \text{ ()}$$

口答: 他们带了 \square 瓶矿泉水。

2. 学校举行一分钟跳绳比赛, 苗苗跳了 87 下, 东东跳了多少下?

$$\square \bigcirc \square = \square \text{ ()}$$

口答: 东东跳了 \square 下。

3. 一共要种 12 棵树,

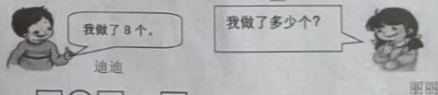
我们已经种了 7 棵。

还要种多少棵树?

$$\square \bigcirc \square = \square \text{ ()}$$

口答: 还要种 \square 棵树。

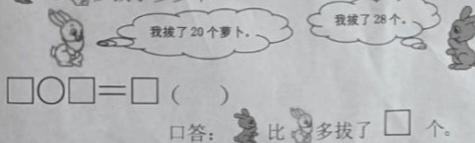
4. 迪迪和丽丽一共做了 17 个。



$$\square \bigcirc \square = \square \text{ ()}$$

口答: 丽丽做了 \square 个。

5. 比 多拔了多少个?



$$\square \bigcirc \square = \square \text{ ()}$$

口答: 比 多拔了 \square 个。