

一年级数学（下册）期中复习 (2023.04)

(学完 1-4 单元用)

姓名: _____

一、我会算。

$15+4=$

$18-6=$

$9+7=$

$11-8=$

$3+9=$

$14-7=$

$12+8=$

$15-9=$

$13-8=$

$5+6=$

$17-10=$

$14+4=$

$7+3+5=$

$16-7-3=$

$6+6-3=$

二、我会填。

1. 与 99 相邻的两个数是()和()。

2. 5 个十是(), 100 里面有()个十。

3. 88 是两位数, 左边的“8”在()位上, 表示()个(), 右边的“8”在()位上, 表示()个()。

4. 按要求把数填到相应的框里。

31 26 65 73 46 39 63 56 93

个位上是 3 的数

个位上是 6 的数

十位上是 3 的数

5. 在□里填上合适的数, 在○里填上“>”“<”或“=”。

$17 < \square$

$91 > \square$

$13+7=10+\square$

$56 \bigcirc 65$

$15-8 \bigcirc 16-9$

$5 \text{ 个十和 } 3 \text{ 个一 } \bigcirc 35$

6. 从 7, 1, 3 这三个数中任选两个数, 组成最大的两位数是(), 组成最小的两位数是()。

7. 爷爷家的门牌号是一个两位数, 十位上的数字比 8 大, 个位上的数字比 1 小。爷爷家的门牌号是()。

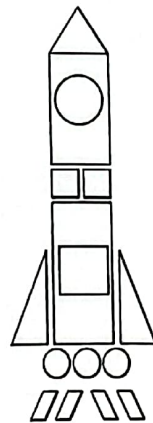
8. 数一数，填一填。

□ 有 () 个;

□ 有 () 个;


△ 有 () 个;

○ 有 () 个。



三、看一看，想一想，连一连。

1. 下面这些照片分别是谁拍的?




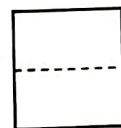
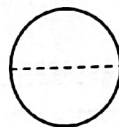
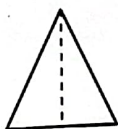

小文

小明

小东

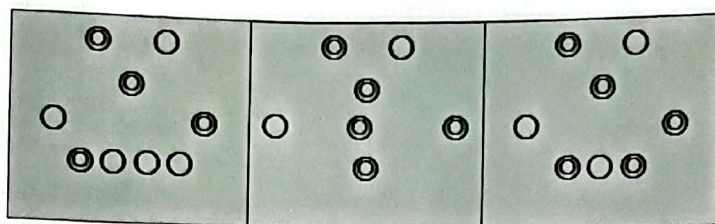
张老师

2. 下面的图形按虚线折起来是什么样子?



四、我会画。

1. 用○表示1，用◎表示10，在比50小的数的下面画“√”。





2. 在你认为合适的答案下面画“○”。

这个杯子里
有30个松
果。



这个杯子里
的松果大约
有多少个？

35 个	90 个	58 个
<input type="checkbox"/>	<input type="checkbox"/>	<input type="checkbox"/>

3.  和  各吃了多少只害虫？在正确答案下面画“△”。


我吃了32只
害虫。





我吃的害虫比
你多得多。



我吃的害虫比
你少一些。



	38	76	28
	<input type="checkbox"/>	<input type="checkbox"/>	<input type="checkbox"/>
	<input type="checkbox"/>	<input type="checkbox"/>	<input type="checkbox"/>

五、我会解决问题。

1. 一共回收了 14 个瓶子。



$$\square \bigcirc \square = \square \text{ (个)}$$

2. 小动物运动会。



(1) 小猴队和小狗队一共有多少人?

$$\square \bigcirc \square = \square \text{ (人)}$$

(2) 小猴队比小兔队少多少人?

$$\square \bigcirc \square = \square \text{ (人)}$$

(3) 小狗队再添几个人就和小兔队人数一样多?

$$\square \bigcirc \square = \square \text{ (人)}$$

(4) 请再提出一个数学问题，并解答。

问题: _____

$$\square \bigcirc \square = \square \text{ (人)}$$