

2019 年春南安市小学数学一年级期中试卷


成绩 _____

一、我会算。(13 分)

$$\begin{array}{cccccc} 12-9 = & 9+9 = & 8+7 = & 15-6 = & 10+9 = \\ 16-8 = & 11-4 = & 13-5 = & 6+5 = & 17-7 = \\ () + 8 = 14 & 19 - () = 10 & () - 0 = 16 \end{array}$$

二、我会填一填。(27 分)

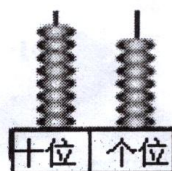
1. 看图填数。



()



()



()

2. 找规律填一填。



76		72	70	
----	--	----	----	--

25			40	45
----	--	--	----	----

3. 64 的“6”在 () 位, 表示 () 个 (), “4”在 () 位, 表示 () 个 ()。 10 个十是 ()。

4. 个位是 6, 十位是 3 的两位数是 (), 再添 () 个一是 40。

5. 60 和 66 之间一共有 () 个数。

6. 和 90 相邻的两个数是 () 和 ()。

7. 最大的两位数是 (), 它比 100 少 ()。

8. 做早操时, 贝贝前面有 6 人, 后面有 4 人, 这一排一共有 () 人。

9. 在 ○ 里填上 “>” “<” 或 “=”。

$19 \bigcirc 91$

$15-7 \bigcirc 9$

$17-8 \bigcirc 6+3$

$100 \bigcirc 64$

$43 \text{ 个一} \bigcirc 4 \text{ 个十}$

$5+7 \bigcirc 20-7$

三、我会选。(10 分)

1. 一副七巧板中包含 () 种图形。

A. 3 B. 4 C. 5 D. 7


2. $6 + \square < 15$, \square 里最大能填 ()。

A. 10 B. 9 C. 8 D. 7

3. 从小到大数, 在 88 的前面第四个数是 ()。

A. 87 B. 86 C. 85 D. 84

4.



小东 1 分钟可能跳了 () 下。

A. 34 B. 68 C. 89 D. 98

5. 一个两位数, 个位上的数比十位上的数大 4, 这个数可能是 ()。

A. 25 B. 26 C. 51 D. 62

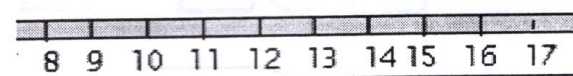
四、我会画一画, 算一算。(8 分)

1. 圈一圈, 算一算。




$6+9 = \square \text{ (根)}$

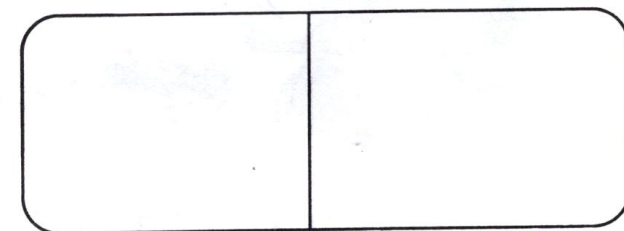
2. 画一画, 算一算。




3. 再添多少就是 100 根? 请画一画。



4. 请用两种不同的方式表示 34。



五、仔细观察，它们分别看到的是什么？连一连。（6分）




六、找一找，填一填。（8分）

图中有（ ）个

有（ ）个

有（ ）个

有（ ）个



七、解决生活问题。（28分）

1. 筐里有几个？

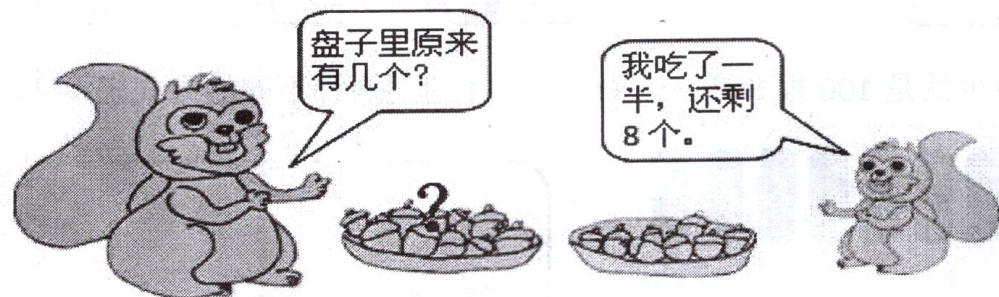


一共有 17 个皮球。



$$\square \bigcirc \square = \square ()$$

2.




$$\square \bigcirc \square = \square ()$$

3.



淘气可能折几朵（画√）		
18 朵	65 朵	85 朵
<input type="checkbox"/>	<input type="checkbox"/>	<input type="checkbox"/>

4.



(1) 小天和小乐一共剪了几个？

$$\square \bigcirc \square = \square ()$$

(2) 小乐再剪几个就和小美同样多？

$$\square \bigcirc \square = \square ()$$

5.



书 18 元



铅笔盒 9 元



跳绳 8 元

(1) 一根跳绳比一本书便宜多少钱？

$$\square \bigcirc \square = \square ()$$

(2) $8+9=\square$ (元) 解决的是什么数学问题？

(3) 请你再提出一个问题，并解答。

八、附加题：（20分）

①用 7、2、3 可以组成（ ）个两位数，其中最大的两位数是（ ），最小的两位数是（ ）。

②有 15 个同学参观科技馆，男生有 8 人，已经进去了 6 人，还有（ ）人没进去？