


期中素质测评试卷(二)


(总分:100分 时间:60分钟)

题号	一	二	三	四	五	六	七	八	九	附加题	总分
得分											

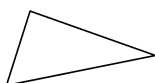
一、写出下面各图形的名称。(5分)




()



()



()



()



()

二、想一想,填一填。(14分)

- 45 读作(四十五),三十九写作()。
- 最小的两位数与最大的一位数的和是()。
- 最小的三位数是()。
- 89 前面的一个数是(),后面的一个数是()。
- 78 里面有()个十和()个一。
- 一个三位数,百位上是1,其他数位上是0,这个数是()。
- 76 后面的数是(),前面的数是()。
- 一个两位数,十位上是4,个位上是7,这个数是()。
- 70 前面的第三个数是(),后面的第五个数是()。

三、小狗送信。(连一连)(4分)



$$\begin{array}{c} \square\square\square\square\square \\ 11-9 \\ \square\square\square\square\square \end{array}$$



$$\begin{array}{c} \square\square\square\square\square \\ 13-9 \\ \square\square\square\square\square \end{array}$$



$$\begin{array}{c} \square\square\square\square\square \\ 17-9 \\ \square\square\square\square\square \end{array}$$

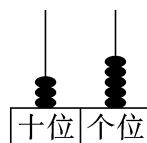
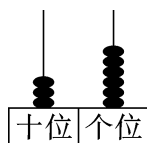
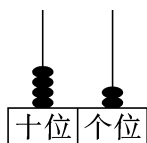
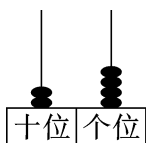


$$\begin{array}{c} \square\square\square\square\square \\ 18-9 \\ \square\square\square\square\square \end{array}$$



四、按要求完成下面各题。(20 分)

1. 写一写,比一比。(6 分)



() ○ () () ○ ()

2. 把下面各数按从小到大的顺序排一排。(6 分)

47 30 23 65 81 92

_____ < _____ < _____ < _____ < _____

3. 选一选。(填序号)(8 分)

①多一些 ②少一些 ③多得多 ④少得多

(1) 98 比 21()。

(2) 69 比 72()。

(3) 20 比 64()。

(4) 84 比 76()。

五、猜一猜。(10 分)

1. 小兔拔萝卜。(5 分)



小黑兔可能拔了多少个 ? (画“√”)

25 个	50 个	78 个

2. 一年级合唱队有 26 人。(5 分)



美术组的人数比合唱队的少一些。

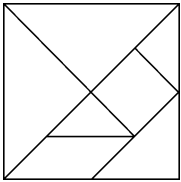



科技组的人数比合唱队的少得多。

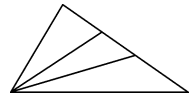
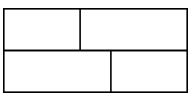
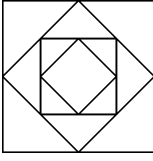


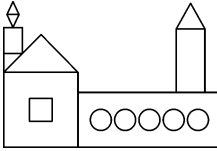
美术组可能有多少人? (画“√”) 科技组可能有多少人? (画“○”)

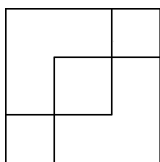
8 人	18 人	42 人

六、数一数,填一填。(20 分)

1.  一副七巧板是由()个 、()
个  和 1 个  拼成的。

2.  () 个三角形。  () 个长方形。  () 个正方形。

3.  左图有() 个长方形,有() 个正方形,
有() 个三角形,有() 个圆。

4.  上图中有() 个正方形。

七、右边三幅图分别是谁看到的呢? 请你连一连。(6 分)


















八、下面两幅图中,是小强看到的画“○”,是小红看到的画“√”。(4 分)


 小红 小强

九、生活中的数学。(17分)

1.  原来有14条鱼,  我吃了9条。 (5分)

现在还剩多少条鱼?

2. 体育小组原来有13名同学,后来有5名同学转到了绘画小组。(6分)

体育小组现在有多少名同学?



3. 12个同学排成一行,小亮的左边有6个同学,小亮的右边有几个同学?(6分)

附加题。(10分)

用

6

4

7

 三张数字卡片可以组成哪些两位数? 请全部写出来, 并按从大到小的顺序排列。