

西师版 2020 年春素质教育质量期中监测卷

一年级 数学

(考试时间 90 分钟，满分 100 分)

题号	一	二	三	四	五	六	总分
得分							

一、我会口算。(10 分)

24+4=79-70=64+12=25-12+43=

45-5=74-52=95-23=62+13-31=

二、我会笔算(16 分)

36+41=97-65=62+7=98-30=

34+51-61=88-46+31=

三、我会填。(12 分)

- 1、与 79 相邻的两个数是( )和( )。
- 2、99 的前面一个数是( )，后面一个数是( )。
- 3、在 24、96、2、13、54、75、66、100 这些数中，一位数有( )，

两位数有( )。三位数有( )。最大的数是( )，最小的数是( )。

- 4、最小的一位数与最大的两位数之和是( )。
- 最大的两位数与最大的一位数之差是( )。

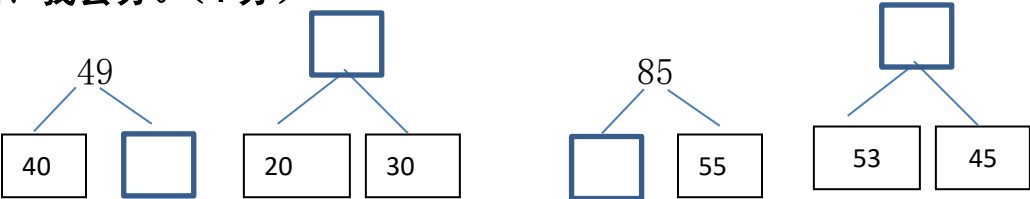
- 5、比 23 大 6 的数是( )，比 98 小 16 的数是( )。
- 85 比 43 多( )，46 比 98 少( )。

四、在○里填上“>”“<”或“=”。(10 分)

52○4181○85100○8021○7

35+12○54100○36+42-5021○86-50

五、我会分。(4 分)



六、我会比较。在○里填上“+”或“-”。(6 分)

45○20=6598○35=6386○25=61

36=14○2250=76○2656○43=13

七、在( )里填上合适的数。(6 分)

12+( )=3947-( )=2453+( )=78

45=( )+2348=( )-2059=99-( )

八、我会找规律填空。(4 分)

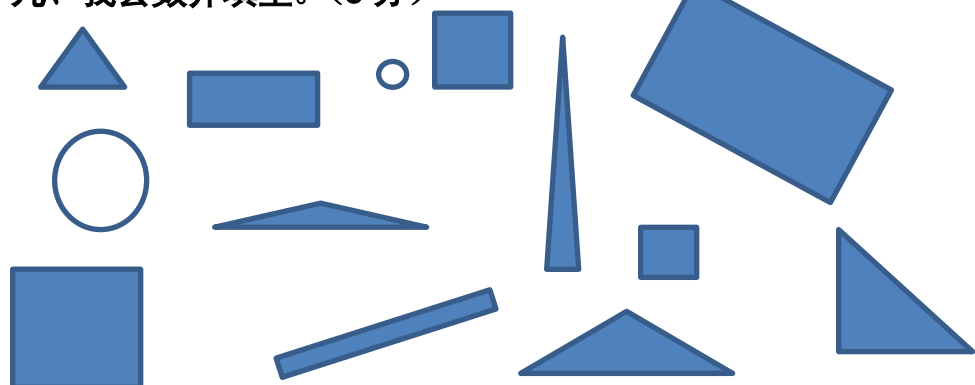
- 1、34、36、38、( )、( )、( )。

2、 80、75、70、( )、( )、( )。

3、  ( ) ( ) ( )

4、  ( ) ( ) ( )

### 九、我会数并填空。(8分)



正方形有( )个 长方形有( )个

圆有( )个 三角形有( )个

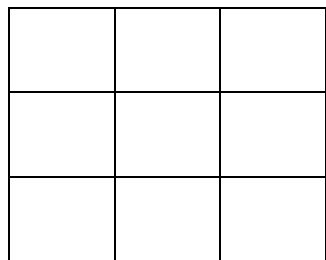
(1) ( ) 最多, ( ) 最少。

(2) 最少的比最多的少( )个。



(3) 最少的和最多的共有( )个。

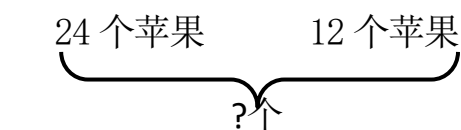
### 十、我会找位置。(8分)



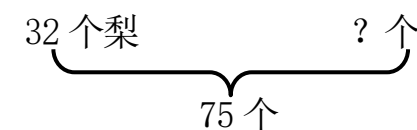
1、 在正中间画一个圆。2、在圆的上面画一个三角形。

3、在圆的下面画一个长方形。4、在长方形的右边画一个正方形。。

### 十一、看图列式计算。(4分)



$$\square \bigcirc \square = \square$$



$$\square \bigcirc \square = \square$$

### 十二、解决问题。(12分)

1、 爸爸带了65元钱去买米,付给阿姨50元,还剩多少钱?

2、一年级去植树,一班植了35棵,二班植了41棵,两个班共植树多少棵?

3、一本故事书,小红看了67页,小林看了64页,小林比小红少看几页?

4、小方和小明一起跳绳,小方跳了52下,小明比小方多跳7下,小明跳了多少下?