

期中检测题(一)(B卷)(西师版)

(时间:60分钟 总分:100分)

一、计算

1. 口算。(10分)

$16 - 5 =$

$33 + 20 =$

$17 - 6 =$

$13 - 5 =$

$30 + 50 =$

$60 + 20 =$

$40 + 50 =$

$60 - 40 =$

$45 + 20 =$

$35 + 30 =$

$23 + 20 =$

$42 + 3 =$

$87 - 50 =$

$45 - 4 =$

$58 - 20 =$

$48 - 7 =$

$56 - 50 =$

$95 - 40 =$

$66 - 20 =$

$78 - 20 =$

2. 用竖式计算。(16分)

$52 + 17 =$

$56 + 33 =$

$76 - 23 =$

$86 - 42 =$

$44 + 53 =$

$35 + 44 =$

$77 - 54 =$

$89 - 56 =$

二、填空。(14分)

1. 4个十和5个一合成的数是(),读作()。

2. 个位上数是6,十位上是3的数是(),再加上3个十是()。

3. 比59大1的数是(),比它小1的数是()。

4. 与78相邻的两个数是()和()。

5. 68里面的“6”在()位上,表示()。68里面的“8”在()位上,表示()。

6. 比39大,比45小的数有()。

7. 49后面连续的三个数是()、()、()。

8. 62比30多(),比45多11的数是(),比78少20的数是(),89比46多()。

9. 39前面的第三个数是(),后面的一个数是()。21加上()与69-20的和同样多。

10. 按规律填数。

5 10 () () () 30 ()

三、看图填空。(3分)

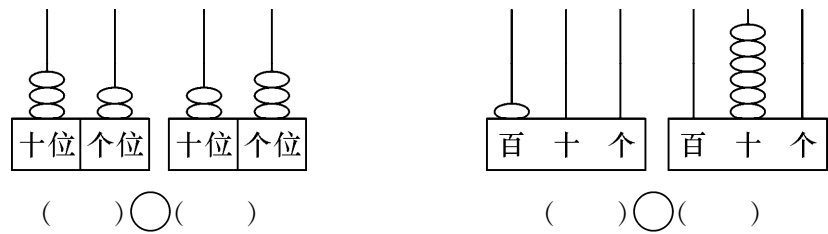


1. 小狗的左边是(),右边是()。

2. 公鸡在()的左边,在()的右边。
3. 熊猫的左边有()只小动物,右边有()只小动物。

四、按要求完成下列各题。(11 分)

1. 填一填,比一比。(2 分)




2. 在○里填上 >、< 或 =。(3 分)

$76 - 50$ ○ 30 $38 + 20$ ○ 56 $78 - 30$ ○ $50 + 8$
 $75 - 5$ ○ $15 + 10$ $45 + 7$ ○ $7 + 45$ $27 - 6$ ○ $58 - 40$

3. 猜一猜。(3 分)



五、在你认为合适的答案下面画“√”。(4 分)



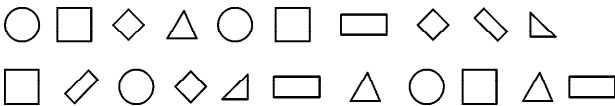
大猴子可能摘了多少个桃子?

96	42	35

(2) 明明做了 90 道口算, 兰兰做的比他少得多, 兰兰可能做了多少道?

52 道	80 道	100 道

六、数一数,填一填。(6 分)



1. 数一数。

○	□	△	△
() 个	() 个	() 个	() 个

2. () 最多, () 最少, () 和 () 同样多。□比△多 () 个,○比□少 () 个。

七、理解题意,列式计算。(20 分)

1. 小军做了 20 个,小华做了 37 个,小华比小军多做多少个?

2. 小红做了 48 面,送给幼儿园小朋友一些后,还剩 8 面,送走了多少面?

3.



46元



13元



2元



12元

(1) 一个书包和一本字典一共多少元钱?

(2) 一个书包比一个球拍贵多少元钱?

4. 学校原来有 42 个篮球,又买来 31 个,现在有多少个篮球?

5. 妈妈买了 65 块巧克力,水果糖比巧克力少 12 块,水果糖有多少块?

八. 踢毽子。(10 分)

娟娟	秀秀	英英
33 下	45 下	34 下

1. 娟娟和英英一共踢多少下?

2. 秀秀比娟娟多踢多少下?

3. 你还能提出什么数学问题? 并解答。

九、找规律填数字。(6 分)

1. 5、10、()、()、25、30。
2. 12、14、()、18、()、()、24。
3. 33、36、()、()、45、()、()。