

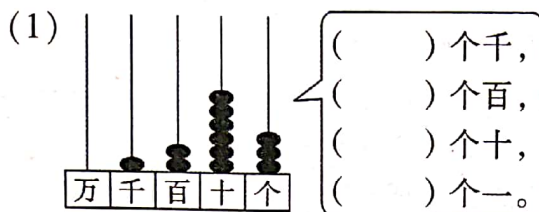
## 二年级数学

rèn zhēn shěn tí tián yì tián

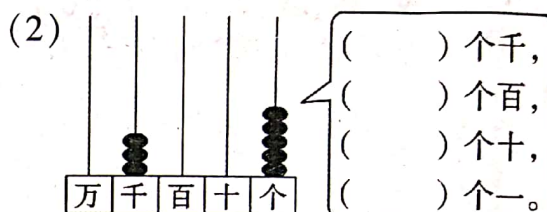
一、认真审题,填一填。(29)

kàn yì kàn tián yì tián

1. 看一看,填一填。



读作: \_\_\_\_\_



读作: \_\_\_\_\_

2. 2 米 = ( ) 分米

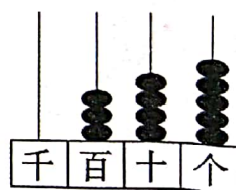
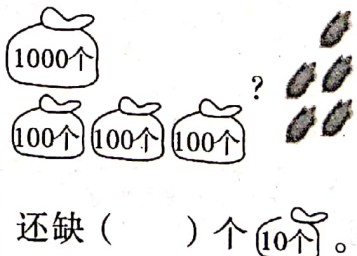
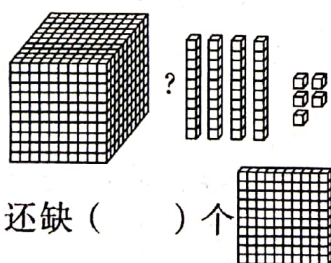
6000 米 = ( ) 千米

10 毫米 = ( ) 厘米

9 分米 = ( ) 厘米

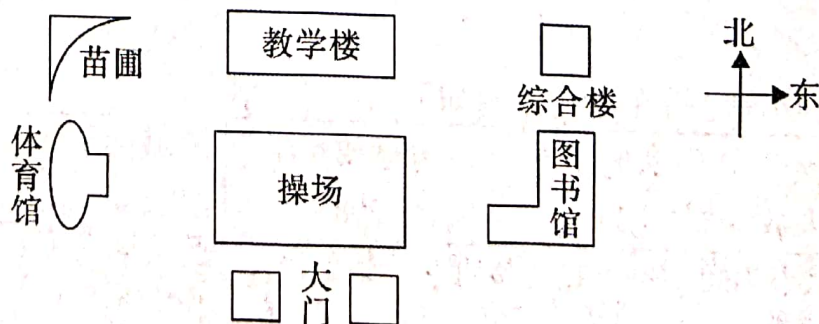
gēn jù

tián yì tián

3. 根据  $1345 = 1000 + 300 + 40 + 5$ , 填一填。

yáng guāng xué xiào de píng miàn tú rú xià

4. 阳光学校的平面图如下。



(1) 教学楼在操场的( )面, 体育馆在操场的( )面。

(2) 教学楼的西南方向是( ), 东南方向是( )。

(3) ( )在体育馆的北面, ( )在体育馆的东南方向。



zài lǐ tián shàng hé shì de shù  
5. 在  里填上合适的数。

$5 \square 3 < 521$

$804 > \square 02$

$82 \square 1 > 8277$

$1560 < 15 \square 0$

$1630 < 1 \square 30$

$9999 > \square 888$

zǐ xì biàn rèn xuǎn yì xuǎn  
二、仔细辨认，选一选。(将正确答案的序号填在括号里) (10)

1. 下面三个数中，最接近 800 的数是( )。

① 763

② 798

③ 810

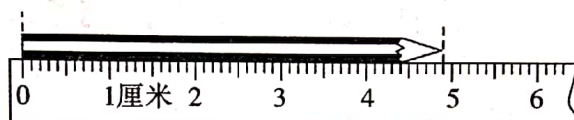
2.  $\bigcirc \div 6 = 4 \cdots \triangle$ , 余数最大是( )。

① 6

② 5

③ 3

3. 铅笔长( )。



① 5 厘米

② 48 毫米

③ 4 厘米 9 毫米

4. 5647 中的“6”表示( )。

① 6 个百

② 6 个十

③ 6 个千

5. 最大的三位数添上 1 是( )。

① 100

② 1000

③ 10000

xì xīn kàn tí suàn yì suàn  
三、细心看题，算一算。

suàn yì suàn lián yì lián  
1. 算一算，连一连。(6)

$23 \div 7$

$49 \div 8$

$35 \div 4$

$36 \div 7$

$14 \div 3$

$58 \div 9$

余数是1

余数是2

余数是3

余数是4

shù xué yī yuàn  
2. 数学医院。(对的画“√”，错的画“×”，并改正) (4)

诊断室

$$\begin{array}{r} 6 \\ 5 \overline{) 37} \\ \underline{30} \\ 7 \end{array}$$

( )

诊断室

诊断室

$$\begin{array}{r} 9 \\ 7 \overline{) 60} \\ \underline{63} \\ 3 \end{array}$$

( )

诊断室



kàn tú liè shì bìng jì suàn (4)



$$\square \div \square = \square \text{ (支)} \cdots \cdots \square \text{ (支)}$$

$$\square \div \square = \square \text{ (份)} \cdots \cdots \square \text{ (支)}$$

tú biǎo shì jiè zuò yì zuò  
四、图表世界，做一做。

lián yì lián

1. 连一连。(4分)



长约2



高约7



高约7



厚约5

米

分米

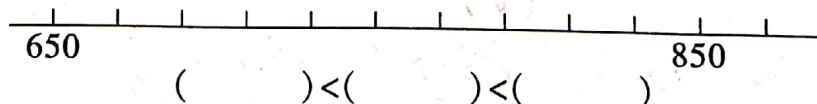
毫米

厘米

zài xià miàn de zhí xiàn shàng fēn bié biāo chū

de dà zhì wèi zhì

2. 在下面的直线上分别标出725、800、675的大致位置，  
bǐng bǐ jiào tā men de dà xiǎo  
并比较它们的大小。(4)



( ) < ( ) < ( )

shù zì zhǎo jiā tián yì tián

3. 数字找家，填一填。(5)

4 说：“我在1的西面。”

5 说：“我在9的南面。”

3 说：“我在2的西南方向。”

6 说：“我在2的西北方向。”

7 说：“我在1的东北方向。”

yòng xīn zuò yì zuò

4. 用心做一做。

9		
	1	2
		8



桃树有4850棵。

梨树比桃树少一些。

杏树比桃树少得多。

苹果树比桃树多一些。





(1) 苹果树有多少棵? 在合适答案前面的 ☐ 里画“√”。

☐ 4700 棵

☐ 4900 棵

☐ 8000 棵

(4)

(2) 四种果树中,最多的是( )树,最少的是( )树。

(3) 桃树和杏树比,下面哪种说法是正确的? 在正确答案前面的 ☐ 里画“√”。

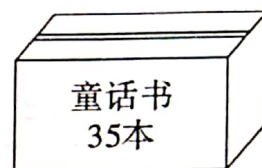
☐ 桃树比杏树多一些。

☐ 桃树比杏树多得多。

lián xì shí jì jiě yì jiě

## 五、联系实际,解一解。(30)

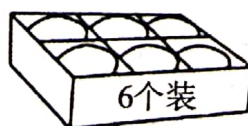
1. (1) 平均分给 9 个同学,每人分几本? 还剩几本?



(2) 每名同学分 6 本,可以分给几人? 还剩几本?

2. 猴王将 54 根香蕉分给小猴,每只小猴分 7 根,最多能分给几只小猴?

3. 鸡蛋中有人类所需要的蛋白质,每天适当补充蛋白质能提高免疫力。早餐时每位同学发 1 个鸡蛋,至少需要几盒鸡蛋?



二(1)班有 40 位同学,1 盒有 6 个鸡蛋。



4. 某城区小学去年的学生人数如下表:

学校	实验小学	外国语小学	城南小学	城北小学
学生人数	2016	2985	987	1018

(1) 每个小学的学生人数各接近几千人?

实验小学约( )人

外国语小学约( )人

城南小学约( )人

城北小学约( )人

(2) 把这 4 个小学的学生人数按从大到小的顺序排列起来。

( ) > ( ) > ( ) > ( )

