

红塔区小学 2022--2023 学年下学期期中核心素养小练习

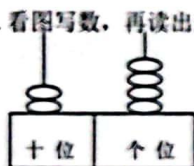
一年级数学

(90 分钟完卷 满分 100 分)

题号	一	二	三	四	五	六	总分	等级
得分								

一、我会填。(每空 1 分, 共 25 分)

1. 看图写数, 再读出来。



写作: ()

读作: ()



写作: ()

读作: ()

2. 52 是一个 () 位数, 5 在 () 位上, 表示 () 个 ()。

3. 70 里面有 () 个十, 与它相邻的数是 () 和 ()。

4. 一个一个地数, 80 前面的第二个数是 ()。

5. 找规律填空。

	60		80			58		62	64		
--	----	--	----	--	--	----	--	----	----	--	--

6. 妈妈包了 57 个饺子, 每 10 个盛一盘, 可以盛满 () 盘, 还剩 () 个。

8. 用四个○摆在

十位	个位



可以摆出: ()、()、()、

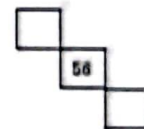
()、() 这 5 个不同的数。

二、我是小法官。(对的打“√”, 错的打“×”。每题 1 分, 共 5 分)

- 33 中两个“3”的意义相同, 都表示 3 个一。 ()
- 86 前面连续的 3 个数是 87、88、89。 ()
- 89 加上 1 是 9 个十。 ()
- 比 80 少一些, 比 20 多得多的数可能是 72。 ()
- 两个三角形一定能拼成一个长方形。 ()

三、我会选。把正确的序号填在括号里。(每题 2 分, 共 10 分)

- 80 前面的第 3 个数是 ()。
① 82 ② 78 ③ 77 ④ 81
- 拼一个长方形至少需要 () 根同样长的小棒。
① 4 ② 6 ③ 8 ④ 10
- 80 前面的第 3 个数是 ()。
① 78 ② 77 ③ 82 ④ 81
- 用 () 个 , 可以拼一个 。
① 8 ② 12 ③ 10
- 右图是百数表中的一部分, 56 右下角是 ()。
① 47 ② 57 ③ 67



四、我是计算小能手 (22 分)

1. 口算。(10 分)

$$\begin{array}{lllll}
 19-8= & 12+5= & 13-8= & 15-7= & 12-4+20= \\
 17-5= & 56-6= & 9+8= & 88-80= & 9-3+20=
 \end{array}$$

2. 在 ○ 里填上 “>”、“<” 或 “=” 号。(每题 1 分, 共 6 分)

$$13-9 \bigcirc 6 \quad 40+5 \bigcirc 50 \quad 20+30 \bigcirc 30+20$$

$$58-8 \bigcirc 50 \quad 17-9 \bigcirc 17 \quad 80-40 \bigcirc 10+30$$

3. 在 () 填上合适的数。(6 分)

$$9 + () = 12 \quad 16 - () = 9 \quad () - 3 = 50$$

$$18 = 5 + () \quad 45 = 40 + () \quad 80 = () - 9$$

五、我会操作。(每空 1 分)

1. 分一分。(每空 1 分)



(1) 按卡片上的图案分。

(2) 还可以怎样分?

种类	蝴蝶	鸡
张数		

张数			

2. 张阿姨抢了多少元微信红包画 “○”, 李叔叔抢了多少元微信红包画 “△”。

(共 4 分)

我昨天抢了 30 元的微信红包。

我比王伯伯抢得多得多。

王伯伯

我比王伯伯抢得少一些。

李叔叔

5 元	27 元	31 元	60 元

张阿姨

六、解决问题我最棒。(每题 5 分。共 25 分)

1. 丽丽买了 15 支铅笔, 乐乐买了 7 支铅笔, 乐乐买的铅笔比丽丽少多少支?

$$\square \bigcirc \square = \square ()$$

答: 乐乐买的铅笔比丽丽少 _____。

2. 书架上原来有 36 本书, 红红借走 11 本, 亮亮借走 8 本, 他们一共借走了多少本?

$$\square \bigcirc \square = \square ()$$

答: 他们一共借走了 _____。

3. 一(1)班有 43 人, 一(2)班有 40 人, 每人一顶帽子, 现在有 80 顶帽子, 够吗?

$$\square \bigcirc \square = \square ()$$

答: 现在有 80 顶帽子, _____ (够, 不够)。

4. 储蓄罐里再放入 6 元, 就有 86 元了, 储蓄罐里原来有多少元?

$$\square \bigcirc \square = \square ()$$

答: 他们一共借走了 _____。

5. 小华看一本故事书, 每天看 30 页, 看了 3 天正好看完, 这本故事书一共有多少页?

$$\square \bigcirc \square \bigcirc \square = \square ()$$

答: 这本故事书一共有 _____ 页。