

# 2023 春一年级数学课堂练习

(命题人: 王剑梅 审核人: 夏丹平)

2023.4

等级\_\_\_\_\_

亲爱的小朋友们, 不知不觉半个学期已经结束, 相信通过这段时间的学习, 你一定有很多的收获, 下面就好好展示自己吧!

## 一、细心算, 你一定能算得对又快。(23 分)

### 1. 口算。(15 分)

$21+7=$

$46-6=$

$24+50=$

$68-4=$

$22+5=$

$11+8=$

$13-6=$

$8+30=$

$5+12=$

$56-6=$

$2+87=$

$20+43=$

$87-10=$

$49-9=$

$38+20=$

### 2. 竖式计算 (8 分)

$27+50=$

$39-21=$

$79-6=$

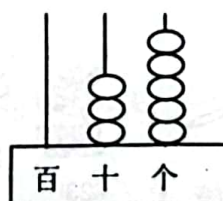
$36+52=$

## 二、认真想, 你就能填正确。(每空 1 分, 共 39 分)

### 1. 看图写数。



( ) 个十和 ( ) 个一  
合起来是 ( )。



( ) 里面有 ( ) 个十  
和 ( ) 个一。

### 2. 按规律写数。

18		22	24		
----	--	----	----	--	--

	30		20		10
--	----	--	----	--	----

3. 49 比 ( ) 大 1, 比 ( ) 小 1。

90 是 ( ) 个十; 再添上 ( ) 个十是 100。



扫描全能王 创建

4. 计数器上从右边起, 第一位是( )位, 第二位是( )位, 百位在第( )位,。

5. 一个数, 十位上是7, 个位上是5, 这个数是( ), 与它相邻的两个数是( )和( )。

6. 从小到大写出3个十位上是6的两位数: ( ), ( ), ( ), 你写出的数中最大的是( )。

7. 在○里填上“<”“>”或“=”。

$29 \bigcirc 36$

$100 \bigcirc 99$

$76+12 \bigcirc 66+22$

$23 \bigcirc 16$

$35+22 \bigcirc 22+35$

$37+12 \bigcirc 37-12$

8. 在29、44、10、35、91这些数中, 最大的数是( ), 最小的数是( ), 最接近30的数是( ), 双数有( )个。

9. 拼一个正方形至少要用( )根同样长的小棒, 拼一个长方形至少要用( )根同样长的小棒。

10. 一本童话故事, 林林第一天看了10页, 第二天看了9页, 第三天他要从( )页开始看起。

三、比一比, 选出正确答案(在你认为合适的答案的□中画“√”)。(4分)

1. 估一估, 在得数是四十多的算式后面画“√”。

$48-8 \square$

$21+16 \square$

$38+4 \square$

$59-20 \square$

2. 下面哪种说法可以表示56?

$5 \text{ 个一和 } 6 \text{ 个十 } \square$

$6 \text{ 个十和 } 5 \text{ 个一 } \square$

$6 \text{ 个一和 } 5 \text{ 个十 } \square$

3. 王老师带着一(3)班的35位学生去春游, 坐哪辆车比较合适?

$35 \text{ 座 } \square$

$40 \text{ 座 } \square$

$45 \text{ 座 } \square$



4.

我拍了22下。

小芳

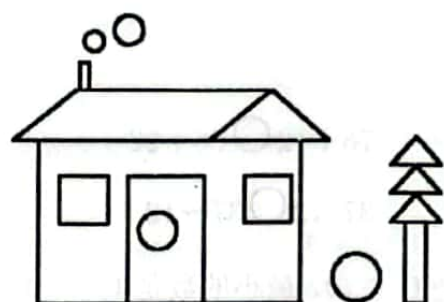
我比你拍的多得多

小明

小明可能拍了多少下？

20下	60下	35下

四、数一数，填一填。(每空1分，共4分)




左图中有( )个圆，

有( )个正方形，

有( )个三角形，





有( )个长方形。

五、想一想，画一画(在下面的方格图上画一个正方形和一个三角形)。(6分)



六、看一看，算一算。(第1、2、3、4每题4分，第5题8分，共24分)

1. 填表。

				
原有	34个	( )个	28个	27本
卖出	10个	5个	8个	( )本
还剩	( )个	14个	( )个	5本



扫描全能王 创建



2. 松鼠妈妈摘了 35 个松果，



还剩 20 个。

$$\square \bigcirc \square = \square ( )$$

3. 车上原有 24 人，下车 11 人，又上车 15 人。




现在车上有多少人?

$$\square \bigcirc \square \bigcirc \square = \square ( )$$

4. 小明看一本故事书，昨天看了 12 页，今天和昨天看的同样多，小明两天一共看多少页?

$$\square \bigcirc \square = \square ( )$$

5.



(1) 淘气第一次套中了企鹅，第二次套中了小猫，两次一共得了多少分?

$$\square \bigcirc \square = \square ( )$$

(2) 笑笑也套中了两次，笑笑最少能得多少分?

$$\square \bigcirc \square = \square ( )$$

朋友们，恭喜你已经答完所有题目，赶快检查吧!

