

# 2023 年初中学业水平考试（中考）模拟 历史试题（三）

注意事项：

1. 本试卷分为选择题和非选择题两部分，共 50 分，考试时间为 60 分钟。
2. 选择题答案用 2B 铅笔填涂在答题卡上，非选择题答案用 0.5 毫米黑色墨水签字笔书写在答题卡指定区域内。

## 选择题部分（共 20 分）


一、选择题：本大题包括 20 个小题，每小题 1 分。共 20 分。

1. 战国时期，各家学派的学者在齐国稷下学宫，自由讲学，著书立说。作为稷下学者论文集的《管子》，属于道家黄老学派的著作。但其中的《任法》篇也说“法者，天下之至道也”“所谓仁义礼乐者，皆出于法”。这表明

- A. 道家奉行以法治国思想
- B. 齐国私人讲学风气兴盛
- C. 战国思想流派彼此融合
- D. 儒法学派受到民众推崇

2. 下图中东汉末年和盛唐以后的人口数都出现剧烈下降，主要原因是

- A. 频繁战乱
- B. 北人南迁
- C. 自然灾害
- D. 统治残酷



3. 王导是琅琊郡临沂县人，他曾上书说：“教化万民的根本在于正人伦，正人伦的关键措施在于兴办学校。学校兴办起来了，人们才得以明晓五教之礼，……成教化，定风俗，没有比这更重要的事了。”司马睿览奏后，听从了王导的建议。该上书反映了

- A. 王导主张健全法制
- B. 东晋王朝重视发展教育
- C. 东晋朝廷重文轻武
- D. 司马睿善于向平民纳谏

4. 唐政府推行开明、兼容的文化政策，不断吸收亚洲、欧洲以至非洲的优秀文明成果，欧洲东罗马的医术、杂技也传入中国；亚洲、欧洲以至非洲的一些国家也不断学习唐朝，日本的“遣唐使”把唐朝的先进制度等传回日本。这体现了

- A. 日本文明是唐朝文明的延续
- B. 唐朝文明是人类文明的源头
- C. 不同文明之间的交流与互鉴
- D. 古代世界区域文明异彩纷呈

5. 唐代繁荣的陆路东西贸易，由于“安史之乱”以后唐的政治势力退出内陆亚洲而陷于衰落。南宋建立后，国家的政治、经济重心南移，海外贸易成为南宋对外物质交往的主要途径。材料的主旨是

- A. 贸易路线的变化
- B. 陆路贸易的阻断
- C. 海外贸易的兴盛
- D. 经济重心的南移



6. 清代诗人黄遵宪《番客篇》中写道：“国初海禁严，立意比驱鳄。借端累无辜，此事实大错。”对“大错”的理解最为深刻的是
- A. 正常的海外贸易被完全禁止                      B. 妨碍了国人对海外市场的开拓
- C. 隔绝了海峡两岸的正常往来                      D. 自我封闭使中国落后于世界潮流
7. “如果认为维新是要从顶端而不是从基础上开始的话，在这一张变法的清单上是挑剔不出什么毛病的。条条都很健全，条条都打中一个显著的弊端，并且条条都是可以付诸实施的；但是这种以上谕变法的整套结构就是一个倒置的金字塔。”这是一位外国人对近代中国某次运动的评价，他想要表达的是
- A. 自上而下的改革方式无可挑剔                      B. 洋务派的措施健全可行
- C. 戊戌变法没有广泛的社会基础                      D. 辛亥革命缺乏思想动员
8. 1920年7月，一些日本议员针对五四运动以来中国留日学生问题，在向国会提出的《关于中华民国留日学生之质询书》中说：“来日之中华民国留学生们归国之后，多成为排日论者……对此现状，政府将采何种方针？”由以上材料可见，五四运动
- A. 遭到了北洋政府的镇压                      B. 激发了留日学生的爱国情感
- C. 受到了日本政府的抵制                      D. 引发了留日学生的归国浪潮
9. 下列对古田会议的表述中，属于历史解释的是
- A. 1929年，红四军党的第九次代表大会在福建省上杭县古田召开
- B. 人民军队永远不变的军魂是指中国共产党对军队的绝对领导
- C. 会议确立了思想建党，政治建军的原则
- D. 会议选举毛泽东为红四军前敌委员会书记
10. 下面是我国民政部2014年公布的首批300名著名抗日英烈与英雄群体情况统计表。据此表可知，抗日战争的基本特点是

群体类别	八路军	新四军	东北抗日联军	党政工作人员	国民革命军陆军	外籍抗日烈士	其他抗日群体和个人
占总数的比例	32%	9%	7%	10%	29%	0.02%	12.98%

- A. 持久战                      B. 大兵团作战
- C. 游击战                      D. 全民族抗战
11. 下表是1932年社会局统计的北平市各类车辆数量（单位：辆）。这反映出近代交通工具

类别	自行车	人力车	马车	汽车	摩托车	骡马大车
数量	64100	42900	300	2200	40	9400

- A. 呈现出新旧并存的特征                      B. 受到新式教育发展的影响
- C. 体现出自由平等的风尚                      D. 变化首先出现在沿海地区



12. 右侧图片是我国 20 世纪 50 年代经济领域重大变革的一个场景。这一变革的作用是

- A. 建立了社会主义公有制
- B. 实现了社会主义工业化
- C. 保卫了广大中国人民和平生活
- D. 确立了社会主义市场经济体制



1954 年，商户鸿茂兴公私合营改造后，举行挂牌仪式。

13. 1991 年 3 月，中共中央确定在上海和深圳试点实行部分股份制公司股票上市。这表明

- A. 社会主义市场经济体制已经建立
- B. 经济体制改革进一步深化
- C. 全方位多层次对外开放格局形成
- D. 可持续发展战略全面落实

14. 俄乌冲突伊始，我国外交部发表声明：希望当事方通过谈判和平解决问题。中国这一立场是基于

- A. 对国际事务的主导地位
- B. 对国际规则的决定权力
- C. 对国际局势的完全掌控
- D. 独立自主的和平外交政策

15. 苏格拉底曾评价雅典民主制度“用豆子抓阄的办法来选举国家的领导人，是将社会的命运置于缺乏真知灼见的人们手中……”这反映苏格拉底

- A. 认识到雅典民主制度的弊端
- B. 主张实行元首制度
- C. 认识到雅典民主具有全民性
- D. 主张实行元老院制

16. 以下大事年表的名称应是

时间	1640 年	1688 年	1787 年	1789 年	1804 年
事件	英国议会重新召开	英国发生“光荣革命”	美国宪法制定	巴黎人民攻占巴士底狱	《拿破仑法典》颁布

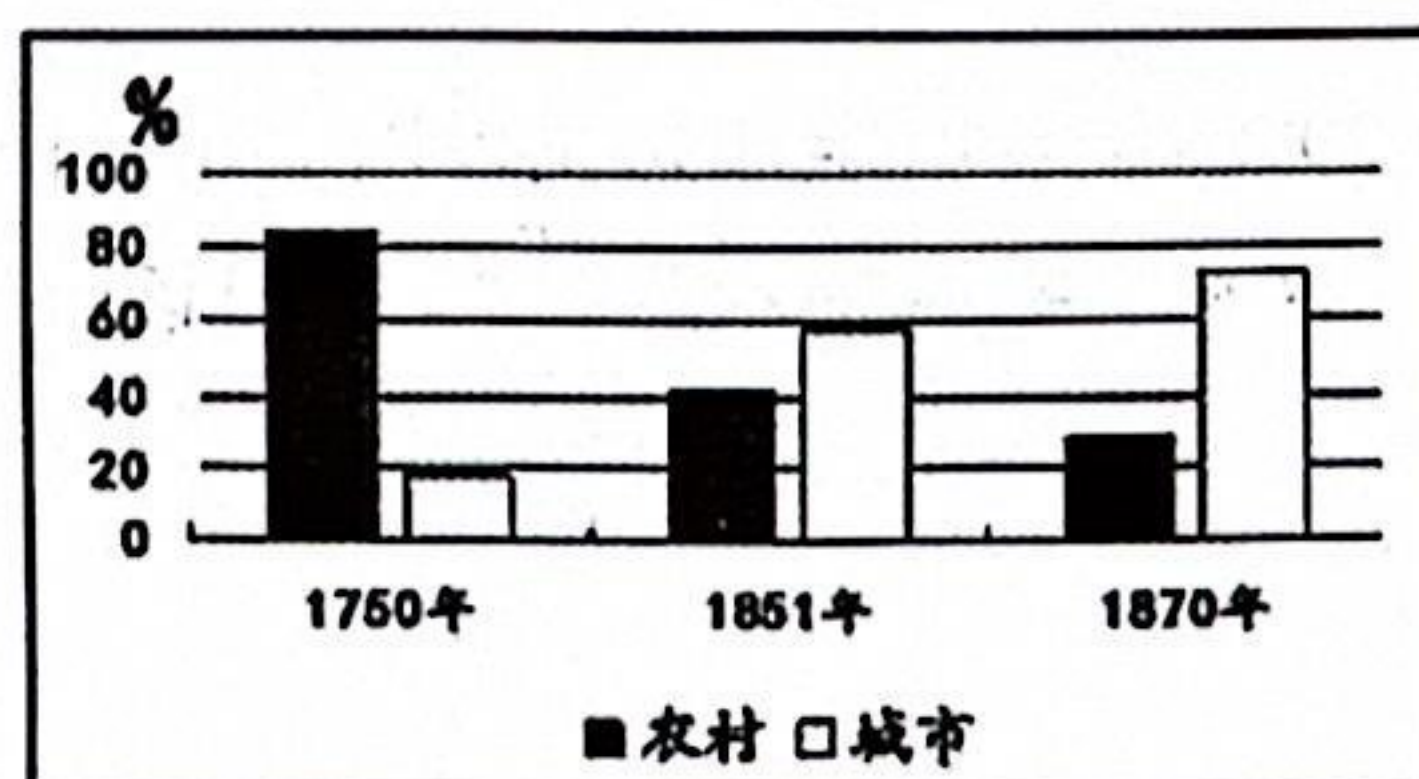
- A. 封建时代的欧洲
- B. 君主立宪制逐渐形成
- C. 资本主义制度的初步确立
- D. 殖民地人民的反抗斗争

17. 19 世纪初，俄国地主不但任意虐待农奴，而且还可以像买卖牛马一样买卖农奴；美国黑奴成为南方种植园中的主要劳动力，黑奴是奴隶主的私有财产。这表明俄国和美国在资本主义经济发展过程中面临的相同问题是缺乏

- A. 资本原始积累
- B. 生产技术
- C. 自由的劳动力
- D. 海外市场

18. 右图为英国 1750—1870 年农村人口与城市人口比例变化示意图。从图中可知英国

- A. 农村人口呈上升趋势
- B. 城市人口居世界首位
- C. 城市数量不断增加
- D. 城市化不断推进





19. “世界厌倦了流血，它在寻找解脱苦难的方法。我为印度独特的方式而骄傲，它教会世人如何摆脱暴力引起的混乱。”材料中“独特的方式”是指
- A. 暴力革命  
B. 农民起义  
C. 改革创新  
D. 非暴力不合作
20. 新华社报道称：“俄乌冲突升级后，美国及其盟友对俄罗斯发起极限制裁，把世界经济政治化、工具化、武器化，对国际粮食价格、能源价格造成巨大冲击，令全球供应链“梗阻”越发严重，给艰难复苏中世界经济设置更多障碍。”由此可得出
- A. 美国势力强于俄罗斯  
B. 经济全球化受到冲击  
C. 两极格局还在延续  
D. 政治多极化趋势加强

## 非选择题部分（共 30 分）

二、非选择题：本大题共 3 个小题，21 题 9 分；22 题 12 分；23 题 9 分；共 30 分。

21. (9 分) 中国是一个统一的多民族国家，一部中国史，就是各民族共同缔造、发展、巩固统一的伟大祖国的历史。阅读材料，回答问题。

### 【制度的创立与发展】

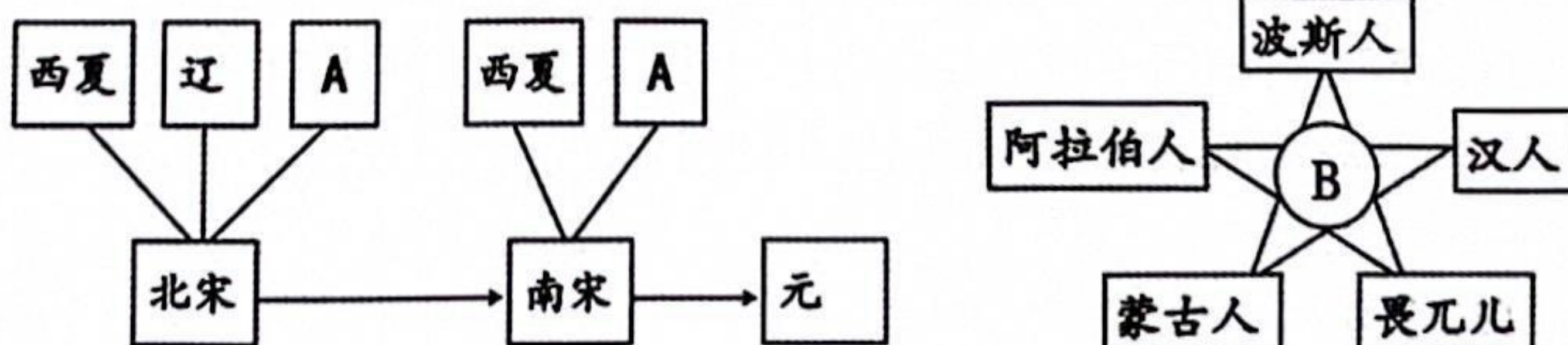
材料一 中国作为一个多民族的统一大国……几千年来的政治制度，也是这个多民族的千年古国得以始终维持统一的重要原因。

——张岂之《中国历史十五讲

- (1) 材料一中“几千年来的政治制度”是指什么制度？在地方行政制度上，秦朝和元朝分别有何创新？（3 分）

### 【民族的碰撞与交融】

材料二



- (2) 请结合所学知识完善以上示意图，分别写出 A 代表的政权名称、B 代表的民族名称。据两幅示意图，指出该阶段的历史发展趋势。（3 分）



【版图的奠定与巩固】

材料三 毛泽东说康熙皇帝的头一个伟大贡献是打下了今天我们国家所拥有的这块领土，我们今天继承的这大块版图基本上是康熙皇帝时牢固地确定了的。

——摘自《毛泽东这样学习历史这样评点历史》

(3) 结合所学知识，举出康熙皇帝时期的两例史实证明材料三的观点。（2分）

材料四 1988年，费孝通提出：中华民族是包括中国境内56个民族的民族实体，56个民族已结合成相互依存的、统一而不能分割的整体……1995年，白寿彝在《关于“统一的多民族国家”的几点体会》一文中提出：在统一的发展过程中，“多”不是削弱了“一”，而是丰富了“一”，各民族都有他自己的特点，都有他们对历史上的贡献，都有可能对历史上作更多的贡献。

——摘编自陈永亮《关于“统一的多民族国家”与国家治理的思考》

(4) 综合上述材料并结合所学，谈谈你对统一多民族国家发展历程的认识。（1分）

22. (12分) 中国共产党第十九届六中全会通过了《中共中央关于党的百年奋斗重大成就和历史经验的决议》（以下简称《决议》）。

材料一 《决议》对党的百年奋斗历程的四个历史时期进行了总结，每个时期的奋斗都有标志性的特点。

时期	新民主主义革命时期	社会主义革命和建设时期	改革开放和社会主义现代化建设新时期	中国特色社会主义新时代
特点	浴血奋战 百折不挠	自力更生 发愤图强	解放思想 锐意进取	自信自强 守正创新
史实	A	B	C	④构建人类命运共同体

(1) 将下列史实填入相应位置。（2分，写序号）

- ①大庆油田建成                  ②深圳经济特区设立                  ③红军长征

材料二 中国共产党的十九届六中全会审议通过的《中共中央关于党的百年奋斗重大成就和历史经验的决议》，全面总结了中国共产党的百年奋斗历程，凝练了党取得伟大成就的十条宝贵历史经验。即坚持党的领导、坚持人民至上、坚持理论创新、坚持独立自主、坚持中国道路、坚持胸怀天下，坚持开拓创新、坚持敢于斗争、坚持统一战线、坚持自我革命。

……中共中央党校教授韩庆祥指出，在十条历史经验中，坚持党的领导、坚持人民至



上、坚持理论创新、坚持中国道路等更具有总体性，能统领其他历史经验。

——摘编自何成刚《党的百年奋斗经验与中学历史教学》

(2) 请从“更具有总体性”的四条历史经验中任选一条，结合中国近现代史的有关史实予以论证。(10分)

要求：①观点明确；②史论结合；③条理清楚。

23. (9分) 大国关系的变化影响着国际格局的变动。阅读下列材料，结合所学知识回答问题。

材料一 明治维新期间，中日两国采用近代条约的方式，建立邦交关系，在英美支持下，日本以中韩邻国的沉沦为代价，由新型的资本主义国家，嬗变为主导东亚的帝国主义强国……二战后，无论是冷战敌对，还是邦交正常化乃至冷战后，中日关系的演进均与世界形势关联密切，构成东亚国际格局中最重要的双边关系。

——宋成有《16世纪以来西方冲击下日本的嬗变与东亚国际格局》

(1) 根据材料一划线部分的时间提示，简述中日关系的演变。(3分)

材料二 二战后美苏关系发生了重大的变化，美苏之间的战略目标、战略构想和战略利益形成了根本冲突，以美苏为首的东西方两大集团之间在政治、军事、经济、文化等领域形成了全面的对峙和对抗。

——王斯德《世界通史》

(2) 根据材料二，列举二战后美苏为首的两大集团“对峙和对抗”的表现。(3分)

材料三 美国对华关系的两面性在新中国成立后仍然存在。表现在20世纪50—70年代的20多年中，美国采取孤立、封锁、遏制中国的政策，对中国实行冷战甚至热战。但在20世纪70年代以后，由于中美双方的共同努力，美国同中国改善和发展关系、寻求合作，同时也奉行制约和防范中国的政策。

——熊志勇《百年中美关系》

(3) 如何理解材料三中“美国对华关系的两面性”？(2分)

(4) 综上所述，归纳影响大国关系变化的主要因素。(1分)