

《历史》试卷


注意事项:

1. 本试卷共 6 页, 分为选择题和非选择题, 满分 50 分, 考试时间 50 分钟。
2. 开卷考试。可在阅参考资料, 但应独立答题, 禁止交流资料。
3. 本试卷上不要答题, 请按答题卡上注意事项的要求直接把答案填写在答题卡上。答在试卷上的答案无效。

第 I 部分 选择题 (每小题 1 分, 共 20 分)

下列每小题列出的四个选项, 只有一项是最符合题目要求的。请将正确选项的英文字母代号填在每小题后的括号内并转涂到答题卡相应位置。

1. “天地之中”是中国时代跨度最长、建筑种类最多、文化内涵最丰富的古代建筑群。郑州地铁的标志“中”, 左右两侧蕴含着以现代艺术手法表现的殷商青铜器饕餮纹元素。中国银行的标志采用中国古钱与“中”字为基本型。因此, 这一组图片的主题最合适的是 ()



天地之中

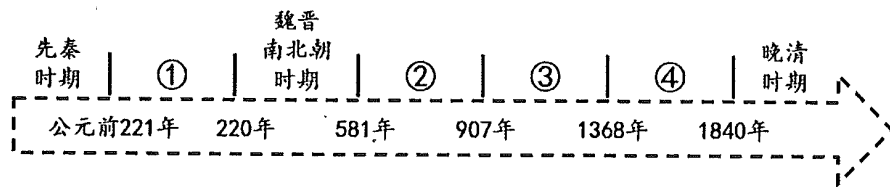


郑州地铁标志




中国银行标志

- A. 中国之根在中原 B. 位居天地中央之国 C. 现代的中庸之道 D. 传统文化的新传承
2. 对于民众, 他吸收了其老师荀子的“性本恶”理论, 认为民众的本性是“恶劳而好逸”, 要以法来约束民众, 施刑于民, 才可“禁奸于未萌”。下列属于他的观点的是 ()
- A. “兼爱”“非攻” B. “无为而治” C. “仁政”治国 D. 以法治国
3. 时空观念是在特定的时间和空间联系中对事物进行观察、分析的意识和思维方式。阅读下面的中国古代时间轴, 关于朝代及其阶段特征表述准确的是 ()



- A. ①处是秦汉时期, 大一统国家的建立和巩固
 - B. ②处是宋元时期, 民族交融发展和社会变化
 - C. ③处是隋唐时期, 民族政权并与民族交融
 - D. ④处是明清时期, 封建社会繁荣与对外开放
4. 隋朝开通的大运河, 有力地加强了南北经济文化联系; 唐朝继承和发展了隋朝的建设成果, 这一主干交通构成了“奉长安文化为中心, 仰东南财赋以存立”的唐王朝生命线。这反映了隋唐时期 ()

- A. 人工运河的修建技术领先世界
B. 水路运输成为主要交通
C. 对经济重心南移产生重大影响
D. 交通建设促进国家统一
5. 宋代城市街道的两边可开设店铺。由于店铺开设越来越多，有的店铺要扩大营业面积，连通衢大街也要侵占，以至到宋徽宗时官府不得不征收“侵街房廊钱”。此现象可以说明（ ）
A. 坊市界限彻底打破
B. 农村经济不断凋敝
C. 城市商业日益繁盛
D. 经济重心南移完成
6. 《世界文明史》记载“元代戏曲的地位提高，成为一种主要的艺术形式，部分原因是科举中止，使才子们无法求取功名，转而在以往不屑一顾的这种群众喜闻乐见的文娱形式上下功夫。”材料意在说明元代戏曲兴盛的主要原因是（ ）
A. 国家政策的影响
B. 商品经济的发展
C. 元朝的行省制度
D. 科举考试的需要
7. “中国人对海洋的探索从来没有停止过。汉唐时期，海上丝绸之路已经形成；到元朝，海上贸易空前活跃，它们为明代早期的对外交流奠定了基础，最终产生了世界航海史上更璀璨的奇迹。”材料中的“奇迹”指的是（ ）
A. 张骞通西域
B. 玄奘西游
C. 郑和下西洋
D. 鉴真东渡
8. 在中国活字印刷技术的影响下，欧洲人古腾堡探索发明出机械铅活字印刷技术。近年以来，经过“留洋升级”后的印刷术又“反哺”中国。材料说明（ ）
A. 欧洲科技发明始终领先世界
B. 人类文明在交流互鉴中进步
C. 世界各国是彼此孤立发展的
D. 古腾堡最早发明活字印刷术
9. 蒋廷黻在《中国近代史》中指出，在道光时代的人眼中，协定关税是方便省事的办法，而且新的税则平均到 5%，比旧日的自主关税还要略微高一点，所以他们扬扬得意，以为是他们外交的成功。材料实质上说明了（ ）
A. 清政府尚缺少国家主权意识
B. 道光时清政府外交成就颇丰
C. 清政府更重视现实国家利益
D. 协定关税比自主关税更合理
10. 某学校历史兴趣小组要出一期黑板报，他们围绕某一主题搜集到了下列图片。你认为他们围绕的主题是（ ）



- A. 抗争——中国人民摆脱外来侵略
B. 探索——寻求强国御侮之道
C. 屈辱——步步走向殖民地的深渊
D. 复兴——中华民族崛起之路
11. 陈独秀曾指出：“情况的发展表明，统一战线是有缺点的……我们决定劝说全体党员加入国民党。从这时起，我们党的政治主张有了重大的改变。……以后我们开始更多地注意到中国社会当前形势，并参加了当前的运动。”当前的运动是（ ）
A. 国民革命运动
B. 五四运动
C. 新文化运动
D. 京汉铁路工人大罢工

12. 1912 年到 1919 年, 中国新建的厂矿企业达 470 多家, 投资近 1 亿元, 加上原有企业的扩建, 新增资本达到 1.3 亿元以上, 相当于之前 50 年的投资总额。这可以用来说明 ()
- A. 洋务运动开启了中国近代化的历程 B. 辛亥革命促进了中国民族工业发展
C. 帝国主义经济势力加大对华侵略 D. 国民党官僚资本出现后急剧扩张
13. 1992 年, 国家物价局大幅度放开定价管理权限, 将此前由国家控制价格的 737 种物资目录, 减少到 89 种。此外, 还取消了原油、钢材等 10 多种计划外生产资料的统一限价。这表明 ()
- A. 计划经济进一步强化 B. 社会主义改造完成
C. 对外开放取得新成就 D. 经济体制改革深化
14. 体育外交也是一个国家外交活动中的重要组成部分。新中国 1963 年参加了在雅加达举行的新兴力量运动会, 1965 年参加了在金边举行的亚洲新兴力量运动会等, 积极开展与亚非拉独立国家的体育交流活动, 这些活动 ()
- A. 有利于改善当时中国外交环境 B. 有利于改善中美外交关系
C. 有利于“求同存异”方针的提出 D. 有利于和平共处五项原则的提出
15. 《罗马民法大全》强调: 没有东西比皇帝陛下更高贵和更神圣。皇帝敕令具有法律的效力。奴隶和隶农必须无条件地服从主人, 服从“命运”的安排, 对逃亡的奴隶和隶农必须严加惩治。这表明罗马法 ()
- A. 是阶级统治的工具 B. 是追求社会公平的体现
C. 有利于社会秩序的稳定 D. 适应了经济发展的要求
16. 在西欧, 庄园为领主提供面粉、蔬菜等, 也为领主提供衣物, 庄园有铁匠、金银匠、鞋匠等各类工匠, 可以制造不同的物品, 是一个农业和手工业相结合的单位, 很少需要对外交换。材料主要反映的是西欧庄园 ()
- A. 具有自给自足的特征 B. 以农业为主
C. 是独立的政治单位 D. 领主特权受到限制
17. 《人权宣言》指出: “在权利方面, 人生来是而且始终是自由平等的……法律是公众意志的表现, 在法律面前, 所有的公民都是平等的……财产权是神圣不可侵犯的。”其历史进步性在于 ()
- A. 揭露了剥削的残酷性 B. 宣告了民族国家独立
C. 保证了英国政局稳定 D. 否定了封建等级制度
18. “人类文明的发展常常有惊人的巧合。在近现代世界大舞台上, 最早在西方成长为现代工业化国家的, 是亚欧大陆西北端的岛国英吉利; 与此相对应, 最先在东方追随西方世界走向现代化道路、迅速成为发达工业国家的, 则是亚欧大陆东北端的岛国日本。”下列选项属于两个岛国“走向现代化”共同原因的是 ()
- A. 进行了资产阶级革命 B. 走上了资本主义道路
C. 进行了资产阶级改革 D. 走上了军国主义道路
19. 美国“新政”一改此前政府的有限权力, 从制度上实现了国家职能与政府角色的重大转变——政府有权介入经济体, 直接干预民众生活, 成为经济发展的重要参与者。这表明 ()
- A. “新政”增强了美国政府的职能 B. “新政”使人民成为国家的主人
C. “新政”消除了经济危机的影响 D. “新政”借鉴苏联计划经济体制

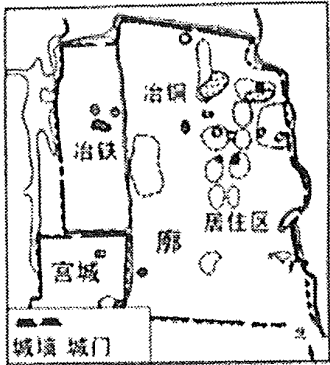
20. 它所表达的思想不仅渗透到自然科学的各个领域,而且引起了整个人类思想的巨大革命,在世界历史进程中有着广泛和深远的影响。“它”是 ()

- A. 《英雄交响曲》 B. 《物种起源》 C. 《复活》 D. 《向日葵》

第II部分 非选择题（共5小题，30分）

21. （6分）阅读下列材料，回答问题。

材料一：公元前5000年起，随着农业及手工业的进步，中国出现了一些城市的雏形。东周时期，由于技术发展，铁器出现，城市发展进入新阶段。目前考古发现的西周城址有56个，而东周城址有192个，其中齐国都城临淄最有代表性。西周时期，临淄的建设以宫城为中心，主要体现行政与军事防御功能。东周时期，临淄还营建了廓（外城），进行文化、娱乐等活动，城市的工商业功能凸显。



东周时期齐国临淄平面图

材料二：10世纪以来的西欧，随着重犁普及和三圃制的推广，耕地与人口都有较大增长，处处可以遇见渴望到远方碰碰运气的年轻小伙、找钱赚的冒险者。国王或领主授权建立更多的市集，甚至授予城市自治特权。它们大多以修道院或教堂为中心。某些宗教节日，如礼拜日或圣徒日，也会成为市场日。随着十字军东征，地中海贸易重新开通，威尼斯、热那亚等许多商埠在东征途中发展起来，但绝大多数城市人口都在千人以下。

——据皮雷纳《中世纪的城市》等

- (1) 依据材料一，概括从西周到东周时期城市发展的表现，并说出城市产生和发展的共同原因。（3分）
- (2) 根据材料二，归纳西欧中世纪城市兴起的因素。（2分）
- (3) 根据材料一、二并结合所学知识，谈谈你对城市发展的认识。（1分）

22. （6分）阅读下列材料，回答问题。

材料一：

中国近代大事记（部分）

1861 年	曾国藩创办安庆内军械所
1895 年	康有为等发起公车上书
1898 年	光绪下诏实行变法
1905 年	中国同盟会成立
1912 年	中华民国成立

材料二：维新党的计划太轻率了，每一个步骤都需要一位强者的勇气，而他们面对的对手众多，皇帝的方向是正确的，但是……他们把足够九年吃的东西，不顾它的胃量和消化能力，在三个月之内都堵塞给它吃了。

——摘编自马士《中华帝国对外关系史》

材料三：变政难，移风易俗更难。而革新政治又是与风俗的改良紧密联系在一起的。1912年孙中山说，风俗、民智等种种之事业，均需改良进步，中国始能与世界竞争。

——摘编自陈旭麓《近代中国社会的新陈代谢》

- (1) 据材料一并结合所学知识，说说中国近代化探索中的重大事件有哪些相同之处。(2分)
- (2) 据材料二，简要指出戊戌变法失败的原因。(2分)
- (3) 据材料三并结合所学知识，举例说明当时的中国发生了什么样的风俗变化。(2分)

23. (6分) 阅读材料，完成下列问题。

材料一：在英国的城市化过程中，制造业和矿业城市发展速度最快，如曼彻斯特。而一些传统老城因为与工业革命疏远而发展缓慢。英国开始工业革命后，由于能提供更多的就业机会，外来移民逐渐增多。19世纪30年代曼彻斯特1/5的人口是爱尔兰人。1860年，城市化向高层次迈进时，其他国家的实业界人物、高科技人员开始涌入英国，集中在大城市。

——摘编自陈爱君《第一次工业革命与英国城市化》

材料二：18世纪下半叶到19世纪初英国工人工资和生活费指数

	1769 - 1778	1779 - 1788	1789 - 1798	1799 - 1808	1809 - 1818
工资	81	86	94	114	114
生活费	72	85	97	137	159

材料三：随着工业化和城市化的迅速发展，日本在二十世纪60年代中期到70年代中期完成了汽车普及化。到1992年7月，日本各类汽车的总拥有台数已达到6000万台，不但导致空气污染，而且交通拥堵日趋严重。

- (1) 依据材料一，指出英国城市化迅速发展的关键因素，并概括英国城市化的特点。(3分)
- (2) 依据材料二，说出18世纪下半叶到19世纪初英国工人阶级的生存状况。(1分)
- (3) 综合上述材料结合所学知识，谈谈我们应该如何消除城市化发展的消极影响。(2分)

24. (6分) 阅读下列材料，回答问题。

材料一：在这场最具破坏性的战争结束后的六年内，欧洲仍然是一片废墟，大多数的建筑都被毁坏了，运输和通信中断。中断了好几年的国际贸易不可能立即恢复，这既是因为欧洲国家无力支付进口物资所需的费用，也是由于曾经的殖民地国家在战争中已变得相当自给自足，它们对于欧洲出口物资的需求大幅下降。……仍有一些工厂在继续运转之中，欧洲人也没有忘记经济繁荣年代时的管理技能，它们还得到了美国数十亿美元的援助。至1947年底，西欧的重建开始了。

——摘编自霍华德·斯波德克《全球通史》

材料二：



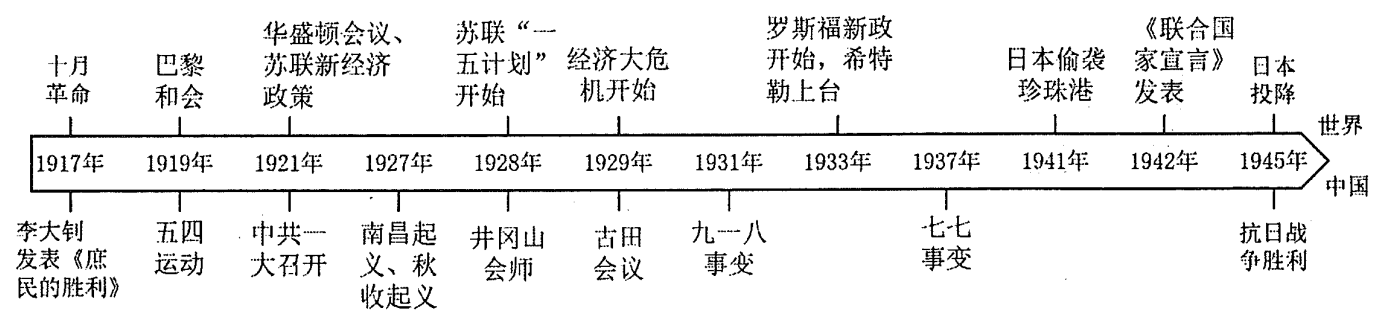
1970 年，联邦德国总理勃兰特在华沙犹太人遇害者纪念碑前下跪

材料三：西欧国家通过联合自强，摆脱了恶性竞争、自相残杀的怪圈；从煤钢联营到欧洲联盟的创建，摸索和逐步构建了欧洲一体化这一欧洲国家经济、政治和安全等全面协调合作的、崭新的国家联盟体制机制，实现了区域共同治理这一独一无二创新的政治经济模式。

——摘编自伍贻康《“德国问题”与欧洲一体化的兴衰》

- (1) 据材料一，分析西欧战后重建面临的问题和有利的因素。(3 分)
- (2) 据材料二和材料三，指出战后西欧国家为了发展都做出了哪些努力。(2 分)
- (3) 综上，谈谈你获取的历史智慧或启示。(1 分)

25. (6 分) 观察下面年代尺，请分别选取年代尺所示中外事件各一例，结合所学知识，写一篇 80—120 字的小短文。(要求：题目自拟，史实正确，语句通顺，表述完整，体现事件之间的联系性)



2022—2023 学年第二学期九年级模拟测评

《历史》答案

一、选择题

1-5: DDACC

6-10: ACBAB

11-15: ABDAA

16-20: ADBAB

二、非选择题

21. (1) 表现: 城市数量增加, 城市布局更复杂, 城市功能更多样等。(每点 1 分, 共 2 分, 答 2 点即可, 答材料外的观点不给分) 共同原因: 生产水平的提高(生产力发展)推动了城市的发展。(1 分)

(2) 因素: 生产力发展; 人口增长; 统治者授权; 宗教影响; 商业复兴。(每点 1 分, 共 2 分, 答 2 点即可, 答材料外的观点不给分)

(3) 认识: 城市是生产力发展到一定程度的产物; 城市发展有赖于商贸往来与社会安定; 城市发展有利于提升政府财政收入与人民生活水平; 城市发展对国家治理水平提出进一步的要求。(1 分, 言之有理即可)

22. (1) 都是中国人救亡图存的探索; 都发生在中国面临严重的民族危机的时期; 都主张学习西方; 都体现了近代化; 都促进了资本主义的发展。(2 分, 答出其中任意两点即可, 符合题意的其他答案也可)

(2) 顽固派的势力过于强大; 维新派缺乏强有力的领导; 维新派急于求成。(2 分, 答出其中任意两点即可, 符合题意的其他答案也可)

(3) 剪辫易服、废止缠足、废除跪拜礼、倡导女权、使用新历法等。(2 分, 答出其中任意两点即可, 符合题意的其他答案也可)

23. (1) 关键因素: 工业革命的开展。(1 分)

特点: 制造业和矿业城市迅速发展; 一些传统老城发展缓慢; 外来移民增多, 人口增长快; 吸引其他国家的高层次人才涌入英国大城市。(每点 1 分, 共 2 分, 答 2 点即可, 答材料外的观点不给分)

(2) 状况: 工人的工资收入增长速度低于生活费的增长速度, 工人相对更加贫困。(1 分, 意思对即可)

(3) 做好城市规划, 合理引导人口流动, 实现各地区均衡发展; 加强城市建设, 避免人口过度集中和交通堵塞; 控制工业污染, 加强环境保护; 发展科技教育事业, 提高人民的文明素质等等。(每点 1 分, 至少 2 点, 共 2 分, 其他言之成理的也可给分)

24. (1) 问题: 基础设施损毁; 国际贸易中断; 曾经的殖民地对欧洲宗主国的依赖减弱。(2 分, 答出其中任意两点即可, 其他符合题意的答案也可) 有利条件: 原有的工业基础; 美国的经济援助。(1 分答出其中任意一点即可)

(2) 对历史进行忏悔; 走上联合自强道路, 探索区域合作模式。(2 分, 符合题意即可)

(3) 正视历史教训, 加强国际合作。(1 分, 言之有理即可)

25. 【评分说明】要求: 题目自拟, 史实正确, 语句通顺, 表述完整, 体现事件之间的联系性。

给分要点: 自拟题目(1 分), 史实正确(中外史实)(2 分), 语句通顺(1 分), 表述完整(1 分), 体现历史发展趋势(1 分)。

【参考范文】题目: 中国共产党的成立

论述: 1917 年, 俄国爆发十月革命, 建立起第一个社会主义国家, 开辟了人类历史的新纪元。1921 年中国共产党在上海召开第一次全国代表大会, 标志着中国共产党诞生, 中国革命的面貌焕然一新。十月革命后, 马克思主义传入中国并同中国工人运动相结合, 成为中国共产党诞生的思想条件。