

历史试题

亲爱的同学,伴随着考试的开始,你又走到了一个新的人生驿站。请你在答题之前,一定要仔细阅读以下说明:

- 1.试题共 8 页,满分 100 分,考试时间 70 分钟。
 - 2.将姓名、考场号、考号、座号填写在试题和答题卡指定的位置。
 - 3.试题答案全部写在答题卡上,完全按照答题卡中的“注意事项”答题。
 - 4.考试结束,答题卡和试题一并交回。
- 愿你放飞思维,充分发挥,争取交一份圆满答卷。

第 I 卷 (选择题 共 50 分)

一、单选题(本大题共 25 小题,共 50.0 分)

1.如表两则资料可用来说明()

地点:云南元谋县

出土文物:炭屑和烧骨化石

史证价值:元谋人已经知道使用火

地点:北京周口店龙骨山上

出土文物:头盖骨、牙齿化石

史证价值:北京人前额低平、眉骨粗大……

- A. 元谋人和北京人都会保存火种
 - B. 化石是研究人类起源的主要证据
 - C. 中国是原始人类的唯一起源地
 - D. 元谋人和北京人体貌具有相似性
- 2.分封制也称封建制,即狭义的“封建”,由共主或中央王朝给王室成员、贵族和功臣分封领地,属于政治制度范畴。下列与西周分封制没有内在联系的是()
- A. “周公立七十一国”
 - B. 山东素称“齐鲁大地”
 - C. “良才善用,能者居之”
 - D. “封建亲戚,以蕃屏周”
- 3.春秋战国时期是我国从奴隶社会向封建社会过渡的大变革时期。下列不属于这一时期社会变化的是()
- A. 甲骨文开始用于记事
 - B. 周王室衰微,诸侯争霸
 - C. 铁农具和牛耕的使用
 - D. 诸子百家,思想大争鸣
- 4.“中国”一词在传统中有三种主要涵义:第一是地理意义的中国……二是政治意义的中国……第三是文化意义的中国……在古代,能称为“中国”的政权,就必需占据中原和践行华夏文化,才能真正地成为“中国之主”。下面哪个史实说明这一结论()
- A. 孙权派卫温到达夷州
 - B. 西汉张骞通西域
 - C. 唐太宗被北方各族称为“天可汗”
 - D. 北魏孝文帝改革
- 5.运用史料,需要秉持多源互证的原则。唐诗“大师慈育契圆空,远迈传灯照海东。度物草筹盈石空,散流佛戒绍遗踪。化毕分身归净国,娑婆谁复为验龙!”可以佐证()
- A. 玄奘西行天竺
 - B. 鉴真东渡日本
 - C. 遣唐使来中国
 - D. 文成公主入藏



6.“这种考试制度十分公正,因此,即使是国家中最贫穷的人,也只能说,如果他命运不济,那是‘天意’如此,他的同胞们并没有设置任何不公正的障碍来阻挠他的提升。”材料赞扬了“这种考试制度”()

- A. 巧言善辩,登入仕途
B. 分科考试,以德取才
C. 品评人才,注重门第
D. 公平公正,平等竞争

7.著名史学家陈寅恪认为:“华夏民族之文化,历数千载之演进,造极于赵宋之世。”可作为其观点依据的有()

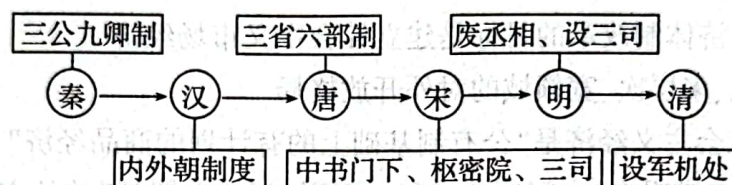
①蔡伦改进造纸术 ②毕昇发明活字印刷术 ③指南针应用于航海 ④《红楼梦》的问世。

- A. ①②③ B. ②③ C. ①②③④ D. ②③④

8.《史记·货殖列传》记载“楚越之地,地广人希(稀),饭稻羹鱼,或火耕而水耨无集聚而多贫”。但在汉以后的三国两晋南北朝时期江南地区得到了开发。下列不属于这一时期江南地区得以开发的因素的是()

- A. 江南地区自然条件优越
B. 北方人的南迁
C. 江南地区社会比较安定
D. 经济重心的南移

9.中国古代行政改革通过内部体制的调整进行权力的重新配置。如图内容反映出的主要趋势是()




- A. 实行分权制衡
B. 监察制度完善
C. 中央集权加强
D. 君主专制强化

10.下边为近代中国某历史事件的一些信息,由此推断该事件是()

一、工业文明外力冲击下社会矛盾的产物
二、基督教文明与中华本土文明相融合为特点
三、以反清革命作为斗争目标……

- A. 义和团运动 B. 辛亥革命 C. 戊戌变法 D. 太平天国运动

11.如图是中国近代历史发展进程中的几个重大历史事件发生的时段,关于每个时段的说法,正确的是()



- A. 中国被迫割地、赔款、通商、允许外国设厂
B. 圆明园被毁、中国北方大片领土被沙俄侵占
C. 邓世昌殉国、北洋舰队覆灭、日军攻占北京
D. 义和团被剿、清政府与八国签订《辛丑条约》

12.“毛泽东从欧洲借来的不是机器、宗教…….他借助于技术和灵活性,对症下药,使一位病人膏肓的病人——中国起死回生。”下列最能体现毛泽东“灵活性”的是()

- A. 发动了武昌起义
B. 领导了南昌起义
C. 发动了秋收起义
D. 建立了井冈山根据地



13.1949年10月1日,中华人民共和国成立.当时一些报刊评论说,“中国人民站起来了”.

这句的含义之一()

A.新民主主义革命已经完成

B.国民党在大陆的势力被彻底清除

C.人民掌握了国家权力

D.人民代表大会制度确立

14.20世纪50年代中期,民族资本家荣毅仁说:“对于我,失去的是我个人的一些剥削所得……得到的却是一个人人富裕、繁荣强盛的社会主义国家。”他说这句话的时代背景是()

A.中华人民共和国的成立

B.土地改革的完成

C.三大改造的进行

D.“一五计划”的进行

15.1992年被人们称为中国改革开放进程标志性的分水岭。“如果说此前中国一直在隧道中探索,1992年应该说人们终于看到了隧道口的光亮。”作出这一判断的主要依据是()

A.作出实行“改革开放”的伟大历史性决策

B.确立我国经济体制改革的目标是建立社会主义市场经济

C.确立全方位、多层次、宽领域的对外开放格局

D.确立我国社会主义经济是“公有制基础上的有计划的商品经济”

16.新中国的外交充满艰辛,也闪耀着智慧。下列“闪耀着智慧”的外交成就按时间先后依次排序正确的是()

①和平共处五项原则的提出

②中美关系走向正常化

③中国恢复在联合国的合法席位

④“求同存异”方针的提出

A.②①④③

B.③④②①

C.④①③②

D.①④③②

17.2023年农历出现了“闰二月”现象,闰月是为了协调回归年与农历年之间的时间差所采用的方法。而在公历中,为了弥补历法天数与地球实际公转周期的时间差,则采取每四年增加一天,即闰年的办法进行调整。公历中“四年一闰”的规则最早出现在()

A.古埃及

B.古巴比伦

C.古罗马

D.古希腊

18.某校九年级学生开展“寻迹古代世界文明”活动,其中符合历史事实的是()

A.沿尼罗河而行,了解种姓制度,领略万里长城的壮美

B.在两河流域驻足,看汉谟拉比石柱,欣赏古巴比伦城遗址

C.在黄河南岸观光,了解象形文字,感受古代印度的风采

D.参观罗马历史博物馆,了解楔形文字,感叹海洋文明的魅力

19.下列关于中古世界的亚洲和欧洲历史的叙述,其中不符合史实的是()

A.穆罕默德创立伊斯兰教,推动了阿拉伯半岛的统一

B.大化改新使日本发展成为一个中央集权的封建国家

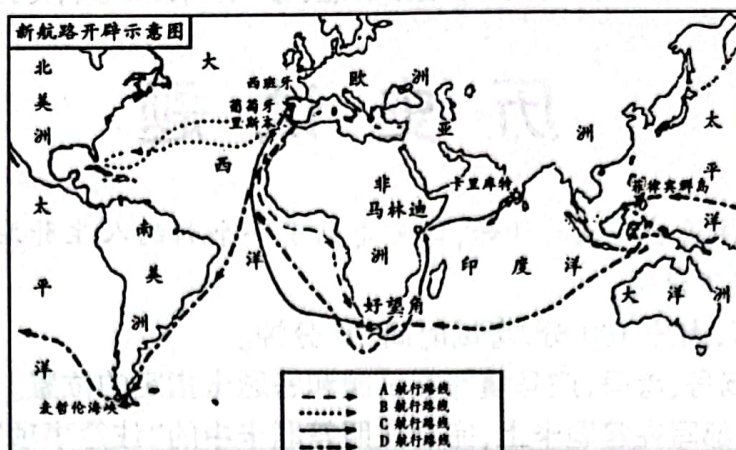
C.查理曼编纂了《查士丁尼法典》,奠定了欧洲民法基础

D.大学的兴起被认为是欧洲中世纪教育“最美好的花朵”

历史模拟试题(三)(共8页)第3页



20. 如图所示航行路线属于麦哲伦船队的是()



- A. A 航行路线 B. B 航行路线 C. C 航行路线 D. D 航行路线

21. 明治初年,“欧美文明冲击着日本休眠状态中的风俗,滔滔而来”,“世道之变,令人又惊又喜”,“学制发布,火车飞驰,不用‘飞脚’也能收到书信”,“‘旧弊’成了最使人难堪的骂人话”。据此可知,当时日本()

- A. 坚决抵制欧美文明冲击 B. 社会保守观念已基本消除
C. 积极推行文明开化政策 D. 殖产兴业取得显著的成就

22. 从 1933 年罗斯福上任到 1941 年,美国通过并执行的对内对外政策法案共 775 种,对内政策法案主要包括在金融信贷业、农业、工业、救济工作等方面的整顿措施。这反映了美国()

- A. 经济开始缓慢复苏 B. 新政对资本主义世界的影响深远
C. 就业人数逐步增加 D. 采用国家干预手段扭转经济形势

23. 世界上没有永远的朋友,也没有永远的敌人,只有永恒的利益。这是大国关系的真实写照,20 世纪 40 年代至 20 世纪 50 年代,下列哪些国家之间关系的演变印证了上述言论()

- ①美国和苏联 ②美国和日本 ③美国和法国 ④美国和英国

- A. ①② B. ②③ C. ③④ D. ①③

24. 有观点认为:“21 世纪全球将出现‘大国群体体系’:美国支配下的北美、一体化的欧洲、日本和中国居突出地位的东亚、印度称雄的南亚、横跨北非和中东的新月形地带,其中北美、欧洲、东亚三大群体将起决定性作用。”对此理解正确的是()

- A. 世界多极化趋势日趋明显 B. 大国群体体系消除了各国矛盾
C. 国际政治新秩序已经建立 D. 世界政治格局出现新三足鼎立

25. 新华社报道:“俄乌冲突升级后,美国及其盟友对俄罗斯发起制裁,把世界经济政治化、工具化、武器化,对国际粮食价格、能源价格造成巨大冲击,令全球供应链‘梗阻’越发严重,给艰难复苏中的世界经济设置更多障碍。”据此可知()

- A. 霸权主义与强权政治依然存在
B. 冷战思维依然影响着国际安全
C. 经济全球化受到了冲击和阻碍
D. 政治多极化趋势在不断加强



第Ⅱ卷 (非选择题 共50分)

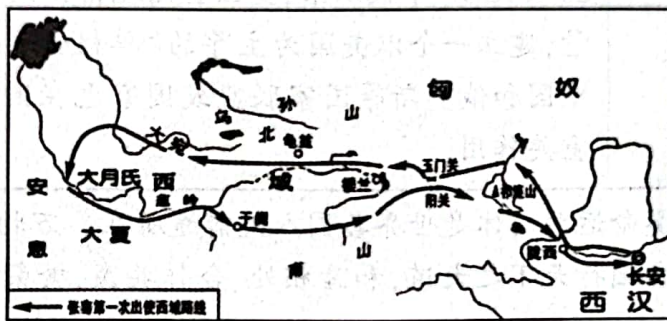
二、填空题(本大题共 5 小题,共 10.0 分)

26. 明朝, _____ 带领军队, 在东南沿海扫平为祸多年的倭患, 成为民族英雄。1839 年, _____ 领导的虎门销烟, 显示了中华民族反对外来侵略的坚强意志。
27. 东晋书法家王羲之被誉为“书圣”, 其代表作《_____》被誉为“天下第一行书”。_____ 的画落笔雄健, 风格奔放, 史称“画圣”, 其代表作为《送子天王图》。
28. 中国共产党在开辟中国特色社会主义道路的过程中, 形成了中国特色社会主义理论体系, 该阶段第一个理论成果是 _____, 最新理论成果是 _____。
29. 瓦特是 19 世纪中期英国著名的发明家, 他最大的功绩是 _____; 马克思最大的功绩是创立了无产阶级的科学理论——_____。
30. _____ 年, 巴拿马人民从美国手中收回巴拿马运河的主权。_____ 年, 非洲有 17 个国家获得独立, 这一年被称为“非洲年”。

三、材料解析题(本大题共 5 小题,每题 8 分,共 40.0 分)

- 31.阅读材料,完成下列要求。

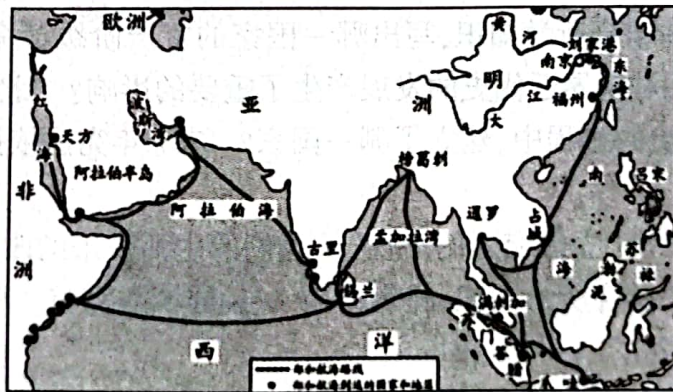
材料一



张骞出使西域路线示意图

——摘自人民教育出版社《中国历史·七年级上册》

材料二



郑和下西洋路线图

——摘自人民教育出版社《中国历史·七年级下册》

材料三 随着国门的洞开,西方资本主义文化汹涌而来,侵蚀、冲刷、撞击、溃决着中华传统文化的堤岸……有些中国人走出国门,到海外学习。鸦片战争以后,留学生日渐增多……20世纪初,伴随着科举制度的废除,出现了出国留学热。1901年的留日学生为280名,1903年就达到1242名,1905年增至8000名。1910年,留美学生达到500多人。

——摘编自王玉德《中华文明史稿》

- (1)据材料一和所学知识写出张骞第一次出使西域的时间、出发地？张骞通西域后，西



汉王朝加强了对西域的经营,公元前60年,西汉政府设置什么作为管理西域的最高长官,它的设置有什么意义?

(2)据材料一、二,指出其反映历史现象的共同之处。结合时代背景,说明二者的共同作用。

(3)据材料三并结合所学知识,简述“走出国门”的历史启示。

32.近代日本两次侵华给中华民族带来了深重灾难。如今的中日关系能否正常发展已成为维系东亚、太平洋地区和平与安全的中中之重。阅读下列材料,回答后面问题。

材料一甲午战争是一个命运转折点。随着北洋舰队的全军覆没,中国腐朽之极的封建制度走到了它的尽头。

——《人民日报:从甲午战争的废墟上崛起》

材料二 无论“日本军队此后如何在东北寻衅,我方应予不抵抗,力避冲突。”

——蒋介石给张学良密电

材料三 2014年2月27日下午,十二届全国人大常委会第七次会议经表决通过了两个决定,将9月3日确定为中国人民抗日战争胜利纪念日,将12月13日设立为南京大屠杀死难者国家公祭日,悼念惨遭日本侵略者杀戮的死难同胞。

——摘编自新华网

材料四 日本右翼势力美化侵略战争,为军国主义招魂的活动一直没有停止过,应引起中国人民的高度警惕。日本曾接连发生右翼分子篡改中学历史教科书和内阁成员参拜供奉有甲级战犯牌位的靖国神社的事件。

——华东师大版《中国历史》“课外学史”

(1)材料一中甲午战争中国战败的根本原因是什么?

(2)材料二中当时中国发生了什么重大事变?这一事件产生了怎样的影响?蒋介石对这一事变持什么态度?

(3)根据材料三并结合所学知识,指出我国设立“南京大屠杀死难者国家公祭日”的重大意义。

(4)结合材料四,日本右翼势力不断发表伤害中国乃至亚洲人民感情的言论,你认为我们应该如何正确对待中日关系?

33.阅读如图图片,回答问题。





图1 南昌起义总指挥所

图2 井冈山革命根据地

图3 (1929年-1933年)农村革命根据地



图4 1945.9.3《新华日报》刊登的毛泽东题词




图5 1949.9毛泽东《七律》



- (1)图 1 事件在中国共产党历史上有何重大意义?
- (2)从图 1 到图 2,中国共产党领导的革命运动中心发生了怎样的变化? 分析出现这种变化的原因? 结合图 3 和所学,到 30 年代初,形成了怎样的局面?
- (3)图 4 局面出现的决定性因素? 说明图 5 反映的历史事件的重大意义。
- (4)综合上述材料并结合学习实践,说明获取史料、学习历史的方法有哪些?

34.阅读材料,回答问题。

世界近代史大事记(部分)

时间	事件
1640-1688 年	英国资产阶级革命
18 世纪中期到 19 世纪中期	工业革命
1775-1783 年	美国 <u> A </u> 。
1789-1794 年	法国大革命
18 世纪末 19 世纪初	拉丁美洲民族独立运动
1848 年	《共产党宣言》发表
1857 年	印度民族大起义
1861 年	俄国农奴制改革
	美国内战爆发
1864 年	第一国际成立
1868 年	日本 <u> B </u> 开始
19 世纪 60-70 年代	第二次工业革命开始
1871 年	巴黎公社革命爆发

——据吴于廑、齐世荣主编《世界史》编制

- (1)请把大事年表补充完整。
- (2)阅读以上材料和所学知识,举出英国资产阶级革命、法国大革命、美国内战分别颁布了什么重要文献?
- (3)世界近代历史发展的基本线索有哪些?(三条线索)

35.请仔细阅读下列材料回答问题;

材料一 17、18 世纪,资产阶级革命的时代来临。在欧洲……资产阶级开始掌握政权。北美的英属殖民地人民……

——部编版《世界历史》九年级

材料二 人类历史上先后发生了两次工业革命,在这两次工业革命中一系列新交通工具的发明,使人类从平面交通时代迅速步入水、陆、空立体交通时代。立体交通的出



现,拓展了人类生活的空间范围,极大地影响了人们的生活方式。

——摘编自《普通高中课程标准实验教科书教师教学用书历史必修第三册》

材料三 20 世纪以来世界格局的三次演变

国际格局 或趋势	史实
“ A ”	巴黎和会、华盛顿会议
两极格局	1949 年,美、英、法等 12 国成立“ B ”;1955 年,苏联同 7 个东欧社会主义国家成立华沙条约组织。两大集团全面冷战对峙。
多极化 趋势	20 世纪 90 年代以来,美国企图凭借强大的经济、军事和科技力量,建立一个以美国为主导的“单极世界”。但是,欧盟、日本、中国和俄罗斯等国家联盟或国家也在国际和地区事务中发挥重要作用。

材料四 构建人类命运共同体是世界各国人民前途所在。万物并育而不相害,道并行而不相悖。只有各国行天下之大道,和睦相处、合作共赢,繁荣才能持久,安全才有保障。

——习近平《高举中国特色社会主义伟大旗帜,为全面建设社会主义现代化国家而团结奋斗》(2022 年 10 月 16 日)

- (1) 阅读材料一并结合所学知识,写出哪一国家的资产阶级革命为资本主义制度的确立开辟了道路,并对世界近代史的发展产生了重要的影响?“北美的英属殖民地人民”在反抗英当局统治的过程中,建立了哪一国家?1787 年宪法依据什么原则设计了一个联邦制共和国?
- (2) 从材料二中找出“立体交通的出现”给我们的生活带来的改变。
- (3) 阅读材料三并结合所学知识,将表格内 A、B 处填写完整。引发当今世界局部冲突的重要根源是什么?
- (4) 材料四中,在建立国际新秩序中,中国提出了什么方案?谈谈你的认识。



历史参考答案及评分说明

一、选择题(本大题共 25 小题,共 50.0 分)

1.B 2.C 3.A 4.D 5.B 6.D 7.B 8.D 9.D 10.D 11.B 12.D 13.C 14.C
15.B 16.D 17.C 18.B 19.C 20.D 21.C 22.D 23.A 24.A 25.C

二、填空题(本大题共 5 小题,共 10.0 分)

26.戚继光 林则徐 27.兰亭集序 吴道子
28.邓小平理论 习近平新时代中国特色社会主义思想
29.改良蒸汽机 马克思主义
30.1999 1960

三、材料题(本大题共 5 小题,每题 8 分,共 40.0 分)

- 31.(1)时间:公元前 138 年(1 分);出发地:长安(1 分)。设置:西域都护(1 分);意义:标志着西域正式归属中央政权(1 分)。
(2)共同之处:政府支持;主动交流;官方组织(1 分)。共同作用:开拓了交通线;促进了中外交流;展现了大国风度(1 分)。
(3)启示:坚持主动走出国门;要符合国家的需要;要体现时代的要求(2 分)。
- 32.(1)清朝经济、政治制度落后,统治阶级愚昧腐朽。(答出符合题意的任意一点即可得 2 分)
(2)九一八事变(1 分);中国人民局部抗战开始(1 分);不抵抗(1 分)。
(3)意义:确立南京大屠杀死难者国家公祭日,可让后人牢记历史,从苦难的痛感中倍加珍视和平,不断推进中日两国人民的友好关系。(言之有理即可得 2 分)
(4)正确对待:希望日本政府正确认识 and 对待历史问题;以史为鉴,面向未来,加强合作交流,共同维护亚太地区安全(1 分)。
- 33.(1)打响了武装反抗国民党反动统治的第一枪,是中共独立领导革命战争、创建人民军队和武装夺取政权的开端(1 分)。
(2)从城市转向农村(1 分);敌强我弱(1 分);形成工农武装割据局面(1 分)
(3)图 4:中国共产党在抗战中起到了中流砥柱的作用(1 分);图 5:渡江战役胜利(解放南京),结束了国民党在大陆的统治(1 分)。
(4)方法:运用地图、查阅文献(新闻图片)、实地参观、时事报道等(任一点 2 分)。
- 34.(1)A:独立战争(1 分);B:明治维新(1 分)。
(2)《权利法案》、《人权宣言》、《宅地法》或《解放黑人奴隶宣言》(3 分)。
(3)资本主义的产生与发展;社会主义运动的兴起;殖民地半殖民地人民的反抗斗争。(有相近意思亦可)(3 分)
- 35.(1)英国(1 分);美利坚合众国(美国)(1 分);分权制衡(1 分)。
(2)拓展了人类生活的空间范围,极大地影响了人们的生活方式(1 分)。
(3)A 凡尔赛-华盛顿体系(1 分);B 北约(1 分);霸权主义、强权政治(1 分)。
(4)构建人类命运共同体;展现了中国智慧大国担当。(任一点 1 分)

