

三年级数学（下册）期中复习

(2023.04)

(学完 1-3 单元用)

姓名: _____

一、我会算得又对又快。

1. 直接写出得数。

$60 \times 30 =$

$25 \times 40 =$

$500 \div 5 =$

$0 \div 97 =$

$42 \times 20 =$

$30 \times 18 =$

$4800 \div 8 =$

$560 \div 8 =$

2. 用竖式计算，带☆号的要验算。

$18 \times 74 =$

$61 \times 25 =$

$563 \div 4 =$

$\star 429 \div 7 =$

验算:

3. 递等式计算。

$435 - 78 \div 3$

$440 \div (4 \times 2)$

$624 \div 8 \div 2$

二、我会按要求填空。

1. $\square 85 \div 5$ ，如果商是三位数，那么 \square 里最小可以填 ()；如果商是两位数，

\square 里最大可以填 ()。

2. 在 \bigcirc 里填上 “ $>$ ” “ $<$ ” 或 “ $=$ ”。

$840 \div 4 \bigcirc 804 \div 4$

$104 \div 8 \bigcirc 104 \times 8$


$160 \times 2 \bigcirc 16 \times 20$

$357 \div 7 \bigcirc 568 \div 8$

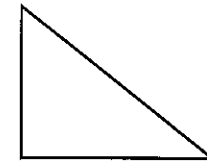
3. 要使 $6\square 3 \div 2$ 商的中间有 0， \square 可以填 ()。

4. 笑笑沿着长 50 米的泳道游了 2 个来回，一共游了 () 米。

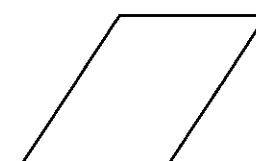
5. 下面哪些图形是轴对称图形？是的在 () 里画 “ \checkmark ”，不是的画 “ \times ”。



()



()




()

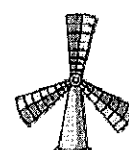


()


6. 下面物体的运动是平移的在 () 里画 “ \triangle ”，是旋转的画 “ \bigcirc ”。




()



()



()



()

三、我会选一选。

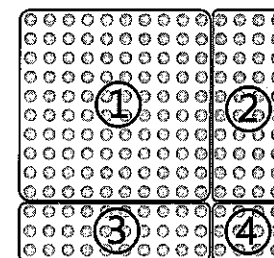
1. 最小的两位数与最大的两位数的积是 ()。

A. 9900

B. 990

C. 99

2. 淘气用自己的方法计算了 14×13 ，如右下图所示。他发现这样计算出的结果 112 与正确结果不一致。结合左下图想一想，他出错是因为没有计算点子图中的 ()。



$$\begin{aligned} 10 \times 10 &= 100 \\ 4 \times 3 &= 12 \\ 100 + 12 &= 112 \end{aligned}$$

A. ②

B. ③

C. ②和③

3. 下面算式中，积比 600 大的是 ()。

A. 19×29

B. 21×25

C. 21×31

4. 张老师把 92 粒凤仙花种子平均分给 4 个小组。笑笑用竖式记录了每个小组分得多少粒种子的计算过程，如右图所示。虚线框内的计算过程表示 ()。


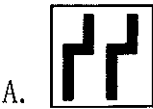
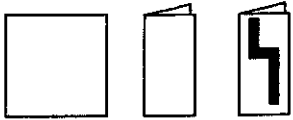
A. 每个小组分到 2 粒种子，分掉了 8 粒，还剩 1 粒

B. 每个小组分到 2 粒种子，分掉了 80 粒，还剩 10 粒

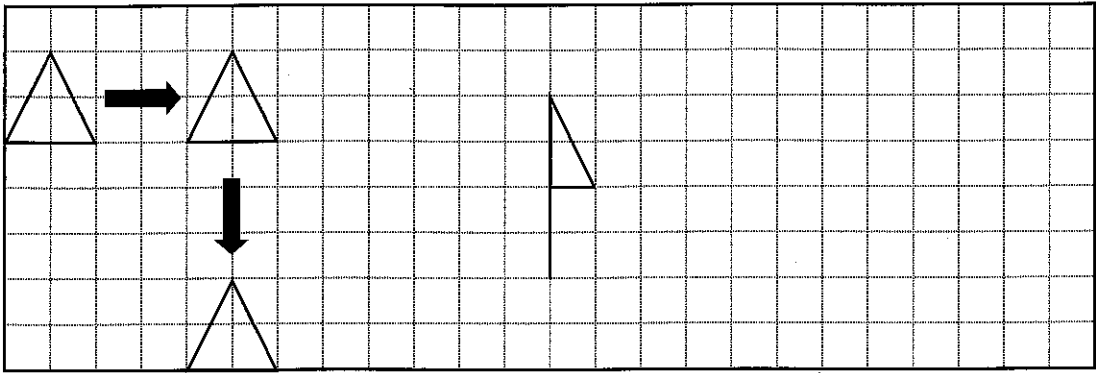
C. 每个小组分到 20 粒种子，分掉了 80 粒，还剩 10 粒

$$\begin{array}{r} 23 \\ 4 \overline{) 92} \\ \underline{8} \\ 12 \\ \underline{12} \\ 0 \end{array}$$

5. 如右图，将一张纸对折，然后剪去图中涂色部分，展开后是图形（ ）。



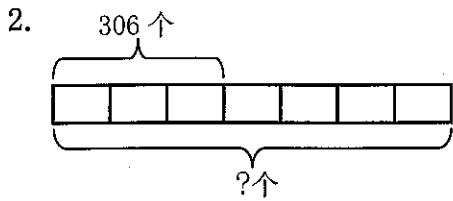
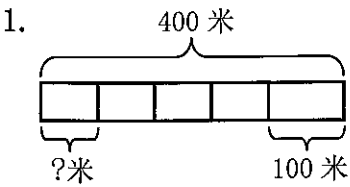
四、我会操作。



1. 先向_____平移了_____格，又向_____平移了_____格。

2. 画出小旗向右平移 5 格后的图形。

五、我会看图列综合算式，不计算。



综合算式：_____

综合算式：_____

六、我能解决问题。

1. 中国高铁是一张亮丽的国家名片，我国成功建设了世界上最现代化的铁路网和最发达的高铁网，高铁里程世界第一，是唯一高铁成网运行的国家。一高铁列车 3 时行驶了 894 千米，平均每时行驶多少千米？

2. 阳光小学有 499 名学生一起去看电影，能全部坐下吗？

电影院每排 23 个座位，一共 25 排。



3. 蛋糕店有 204 块小蛋糕，已经卖出了 79 块，剩下的 5 块装成一袋，可以装几袋？

4. 李老师买了 3 包跳绳，每包 3 根，共花了 108 元，平均每根跳绳多少元？

5. 李阿姨步行从家到公园，去时每分走 72 米，用了 11 分，回来时用了 9 分，回来时李阿姨平均每分走多少米？