

2022 - 2023 学年度第二学期期中学情调研

一年级数学(北师大版)


注意事项:

1. 本试卷共 4 页, 满分 100 分, 考试时间 60 分钟;
2. 答卷前, 请将姓名、班级等信息填写到相应位置。

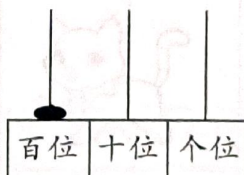
题号	一	二	三	四	五	六	总分	等级
得分								

一、我会填(每空 1 分, 共 29 分)

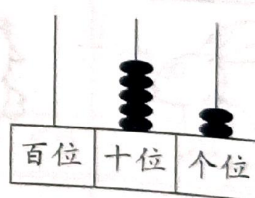
1. (1) () 个十和() 个一是 48。
(2) 69 前面一个数是(), 后面一个数是()。
2. 看图写数。



()



()



()

3.

87

65

100

78

97

(1) 上面的数中, 最大的是(), 最小的是()。

(2) 上面的数中, 比 80 小得多的数是(), 最接近 80 的数是()。

4. 一个数从右边起第一位是()位, 第二位是()位, 第三位是()位。

5. 写出三个十位上是 5 的两位数: (), (), ()。

6. 小飞有 12 个苹果,爸爸有 5 个苹果,小飞比爸爸多()个苹果。

7. 比 17 少 9 的数是();比 7 多 8 的数是()。

8. 按规律填数。

(1) 2、4、6、()、()、()。

(2) 40、35、30、()、()、()。

9. 三角形有()条边,正方形有()条边,长方形有()条边。

二、我会选 (每小题 2 分,共 8 分)

1. 最大的两位数与最小的三位数相差()

A. 1

B. 2

C. 10

2. 下面的图()不是长方形



A




B



C

3. 小鸭子看到的是()



A



B



C

4. 有一头小猪,小明站在它的前面,则小明看到的是()



A



B



C

三、我会算 (18 分)

1. 直接写出得数。(10 分)

$12 - 3 =$

$15 - 7 =$

$8 + 8 =$

$11 - 5 =$

$11 - 2 =$

$17 - 2 =$

$7 + 9 =$

$14 - 5 =$

$13 - 8 =$

$6 + 7 =$

2. 在○里填上“>”、“<”或“=”。(8分)

$13 + 2 \bigcirc 17$

$13 - 9 \bigcirc 6$

$13 + 4 \bigcirc 17$

$8 + 4 \bigcirc 11$

$14 - 7 \bigcirc 8$


$6 + 5 \bigcirc 20$

$17 - 9 \bigcirc 8$

$12 + 7 \bigcirc 19$

四、我会认(9分)

1. 小芳可能写了多少个字? 在合适的答案下面画“√”。(3分)



89 个	46 个	40 个

2. 下面的图分别是谁看到的? 连一连。(6分)



丽丽

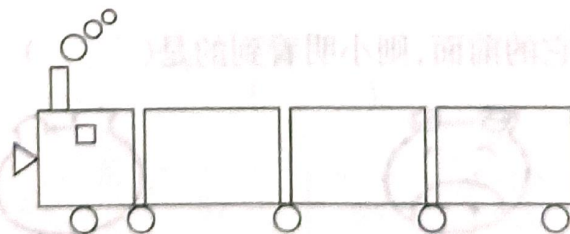






芳芳



明明

五、我会数(8分)



	
() 个	() 个
	
() 个	() 个

六、我会做 (28 分)

1. 2022 年新冠肺炎疫情期间,小明买了 18 个口罩,小红买了 9 个口罩,小明比小红多买多少个口罩? (5 分)

$$\square \bigcirc \square = \square \text{ (个)}$$

答:小明比小红多买 _____ 个口罩。

2. 有 5 个小朋友去浇水,一共要浇 13 行,已经浇了 4 行,还剩多少行没浇? (5 分)

$$\square \bigcirc \square = \square \text{ (行)}$$




答:还剩 _____ 行没浇。

3. 停车场开走了 6 辆小轿车,现在还剩 9 辆,原来一共有多少辆? (5 分)

$$\square \bigcirc \square = \square \text{ (辆)}$$

答:原来一共有 _____ 辆。

4.

		
11 只	6 只	4 只

- (1) 小兔子比小猫多多少只? (5 分)

$$\square \bigcirc \square = \square \text{ (只)}$$

答:小兔子比小猫多 _____ 只。

- (2) 请你再提出一个数学问题并解答。 (8 分)

$$\square \bigcirc \square = \square \text{ (只)}$$