

2022-2023 学年度第二学期期中素质教育测评试卷

一年级数学

寄语：亲爱的同学，请认真答题，先易后难，做完认真检查，祝你考出好成绩！

考试时间：60 分钟 满分 100 分，包括 5 分卷面分

题号	一	二	三	四	五	六	七	卷面分 5 分	总分
得分									

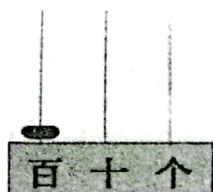
注意事项：

1. 答题前填写好自己的姓名、班级、考号等信息。
2. 保持卷面整洁规范。

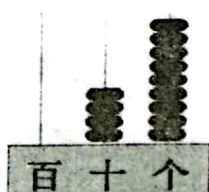
一、填空题 (28 分)

1. 从右边起，第一位是_____位，第二位是_____位，百位是第_____位。

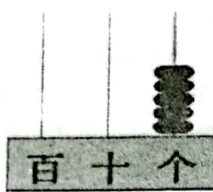
2. 写一写。



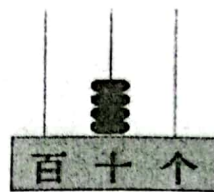
()



()



()

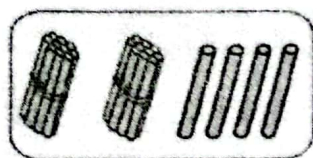


()


3. 口算 $26+3$ 时，先算_____，再算_____。

口算 $63-40$ 时，先算_____，再算_____。

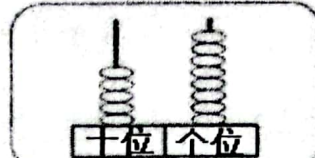
4. 看图写数。



()



()



()

5. 3 个十和 9 个一组成_____。

6. 选一选，填一填。




①上 ②下 ③左 ④右

□在○的_____面，△在□的_____面，■在●的_____面，

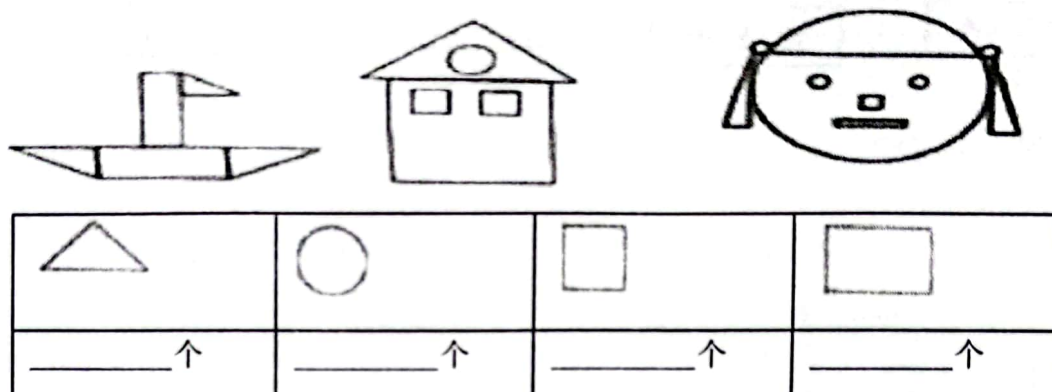
□在☆的_____面，●的_____面是□，_____面是▲。

7. 看图回答



()角 = ()元 ()角

8. 数一数，填一填。



二、判断题 (5 分)

- 88 中的两个“8”表示的意义相同。()
- 6 个十和 2 个一组成 26。()
- $23 + () < 29$, () 里最大能填 5。()
- 一个加数是 25, 另一个加数也是 24, 和是 59。()
- 有 56 个人要在会议室开会, 已经放了 40 把椅子, 还差 26 把椅子。()

三、单选题 (5 分)

- $37 - 6 = ()$
A. 11 B. 21 C. 31 D. 41
- 这两幅图中, 一共有 () 长方形。
A. 1 个 B. 2 个 C. 3 个



- 在 45, 9, 80, 26, 78, 65, 77, 36 这些数中, 比 40 大且比 80 小的数有 () 个。
A. 5 B. 4 C. 3

4. 冬冬有 21 张蝶币, 丽丽的蝶币比冬冬多得多, 丽丽可能有 () 张蝶币。

A. 15

B. 25

C. 85

5. 下列说法不正确的是 ()

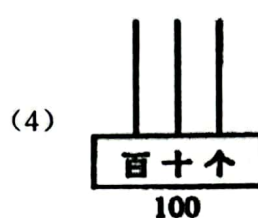
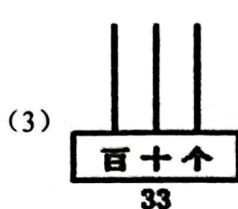
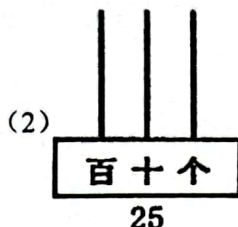
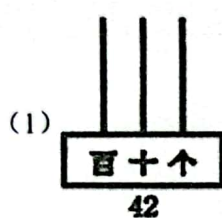
A. 10 个十是 100

B. 100 里面有 100 个一

C. 100 比 9 个十多 1

四、作图题 (8 分)

1. 看数画珠子。



五、计算题 (21 分)

1. 直接写出得数。(5 分)

$17+50=$

$57-30=$

$70+3=$

$11-8=$

$26+22=$

$99-98=$

$30+50=$

$22+7=$

$45+4=$

$75-15=$

2. 门诊数字。(4 分)

$$\begin{array}{r} 48 \\ -21 \\ \hline 69 \end{array}$$

改正:

$$\begin{array}{r} 24 \\ +3 \\ \hline 54 \end{array}$$

改正:

3. 竖式计算 (12 分)

$87-25=$

$43+36=$

$67-25=$

$33+44=$

$75-53=$

$53+46=$

六、应用题 (28 分)

1. 一本书姐姐已经看了 52 页, 还有 24 页没看, 这本书一共有多少页? (4 分)

2. 看图列式计算.



(1) 两只小猴一共要走了多少个花生? (3 分) $\square \bigcirc \square = \square$ ()




(2) 还剩多少个花生? (3 分) $\square \bigcirc \square = \square$ ()

3. 小商店.



(1) ③比②多多少元? (4 分) $\square \bigcirc \square = \square$ ()

(2) ④比①少多少元? (4 分) $\square \bigcirc \square = \square$ ()

(3) 小军付了 1 张  和 1 张  , 找回 2 张  , 他买了什么? 请你先算算, 再圈一圈。 (4 分)

(4) 莉莉买了其中的两件商品, 她最多要付多少元? 最少要付多少元? (6 分)

最多: $\square \bigcirc \square = \square$ ()

最少: $\square \bigcirc \square = \square$ ()

七. 附加题 (10 分)

根据下面的算式求出 ★ 和 ○ 各表示什么?

$$\star + \bigcirc = 60$$

$$\star + \bigcirc + \bigcirc = 70$$

$$\star = (\quad)$$

$$\bigcirc = (\quad)$$