

2023 年中考第三次模拟考试

历史(开卷)

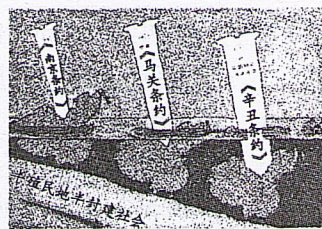
(试题卷)

注意事项:

1. 历史试卷满分 70 分,历史、道德与法治的考试时间共 120 分钟。
2. 本试卷包括“试题卷”和“答题卷”两部分,“试题卷”共 4 页,“答题卷”共 2 页。请务必在“答题卷”上答题,在“试题卷”上答题无效。
3. 答题过程中可以参考教科书和其他资料。请独立思考,诚信答题。

一、单项选择(本大题共 15 小题,每小题 2 分,共 30 分)

1. 《汉书·艺文志》在描述诸子百家“其言相殊,辟犹水火”后,不忘加上一句“相灭亦相生”。这说明
A. 道家学派借鉴了儒家的教育思想
B. 各学派之间相互影响、取长补短
C. 各学派思想一致,政治观点不同
D. 墨家学说对其他学派有深刻影响
2. 汉朝许慎在《说文解字序》中提出研究汉字形体的“六书”的理论,并举出了 12 个字为例证,其中绝大多数都见诸甲骨文。这说明
A. 汉朝就出现了甲骨文的研究
B. 汉朝时期汉字形体得到了发展
C. 甲骨文是中国已发现最早的文字
D. 甲骨文奠定了汉字发展的基础
3. 754 年唐朝扬州龙兴寺的高僧鉴真和尚到达日本首都奈良时,安宿王作为天皇的代表在罗城门门外等候欢迎。日本佛教领袖道培和其他五十多名高僧也相继拜谒鉴真。材料表明
A. 佛教文化促使中日友好交往
B. 中日开始了正式的外交关系
C. 佛教通过鉴真传播到日本国
D. 仅仅日本政界认同鉴真地位
4. 据史书记载,“开元初,从驾宫人骑马者皆着胡帽,靓妆露面,无复障蔽。士庶之家,又相仿效,帷帽之制,绝不行用”。这反映了
A. 民族间交往的密切
B. 国家政治的清明
C. 社会风气的开放
D. 手工业经济的繁荣
5. 下图是一位同学在研究性学习中绘制的一幅漫画。据此漫画判断,这位同学的研究课题最有可能是
A. 中国近代化的探索
B. 新民主主义革命的兴起
C. 中国近代反侵略的潮流
D. 工业文明对近代中国的冲击
6. 1912 年 11 月,政府邀请各地工商代表来北京参加全国临时工商会议。会议内容包括制定经济法规;改变垄断政策,许民自由经营;裁免厘税,改良税则;提倡国货,仿制洋货等等。此次会议的召开



- A. 促使近代“实业救国”思潮兴起 B. 推动了民族资本主义的初步发展
C. 反映了北洋政府振兴实业的意识 D. 表明南京国民政府鼓励发展实业
7. 斯大林对我国的“一五”计划提出了一些原则性的建议。他认为,计划草案里考虑的五年中工业年平均增长 20% 的速度是勉强的,建议降到 15% 或 14%。从中可以得知
A. 苏联帮助我国进行工业建设 B. 苏联不信任中国工业发展速度
C. 我国与苏联关系一直非常友好 D. 我国工业发展速度受苏联限制
8. 有关档案资料记载:“我们在亚非会议中总的方针应该是争取扩大世界和平统一战线,促进民族独立运动,并为建立和加强我国同若干亚非国家的事务和外交关系创造条件。”由此可知,我国参加亚非会议的主要目的是
A. 促进亚非各国团结,为我国创造和平的国际环境
B. 提出“求同存异”的方针
C. 倡导和平共处五项原则,指导亚非各国的外交活动
D. 庆祝我国恢复在联合国的合法席位
9. “《一千零一夜》中人物数量众多,各有特点。但无一例外的是,所有正面人物都具有‘顺从’之美。”据此可知
A. 《一千零一夜》是阿拉伯文学的瑰宝 B. 阿拉伯文明深深打上了伊斯兰教的烙印
C. 阿拉伯文化吸收了大量外来文化 D. 阿拉伯人创造了独特的阿拉伯文化
10. 在租地农场,土地所有者出租土地,有的提供一部分经营资本;租地农场主承租土地,提供种子、牲畜、农具和其余资本,使用雇佣工人来耕种土地。这说明租地农场
A. 是独立的自给自足的经济政治单位 B. 进一步提高了劳动的生产效率
C. 推动农业生产组织资本主义化 D. 使封建土地所有制经济得到了强化
11. 有学者指出:“英国用‘光荣革命’的非暴力手段建立了一种新的政治制度……新制度营造出一种宽松、自由和开放的环境……否则,就难以想象英国社会如何能够在 18、19 世纪和平地实现现代化。”该学者肯定英国
A. 革命中没有出现暴力斗争 B. 革命对于推动工业革命的作用
C. 革命确立了“王在法下”的基本原则 D. 革命后建立了资产阶级共和国
12. 奥地利检察官这样指控第一国际:“它在各国政府的眼皮底下,完全秘密地发展成为和各国并存的第二国家权力、第二政府,它形成了一个危险的、令人担心的竞争对手。”这段材料表明第一国际
A. 为建立工人阶级的新型政权而斗争 B. 推动了欧洲工人运动的普遍发展
C. 主要以秘密的方式进行活动 D. 推动了马克思主义的产生
13. “该国近年改变旧制……改习西洋兵法,仿造铁路火车,添置电报,开煤矿,并多派学生赴西国学习器艺……其势日涨,其志不小。故敢称雄东土,藐视中国,有窥犯台湾之举。”1874 年李鸿章这份奏折反映的是
A. 洋务运动的背景和内容 B. 明治维新的原因
C. 日本发动甲午战争 D. 明治维新使日本产生侵略中国的野心

14. 如图是第一次世界大战期间俄国的一幅海报(海报译文:这些妇女也在尽微薄之力,学习制造军火),反映了妇女们走进工厂,代替男人们维持战争工业。这表明



- A. 妇女地位显著提高
- B. 战争减少就业机会
- C. 民用工业受到影响
- D. 战争波及更多民众

15. 据统计,在联合国安理会表决会上,苏联一百余次动用否决权,以至于1957~1985年间担任苏联外长的格罗米柯得了个“不先生(Mr. No)”的美称。而此期间美国也投过几十次反对票。这反映出当时国际关系的特征是

- A. 美苏两极对峙
- B. 美苏军事对抗激烈
- C. 多极化趋势加强
- D. 地区冲突不断

二、辨析改错(8分)

16. 教育推动社会发展。辨别下列史实的正误,在“答题卷”该题前的括号内正确的打“√”;错误的打“×”,并加以改正。

- (1)春秋时期,孔子创办私学,主张“有教无类”,促进了教育在民间的发展。
- (2)西汉时期,汉武帝在洛阳兴办太学,培养统治阶级需要的儒学人才。
- (3)隋朝创立的科举制度在唐朝得到了完善,唐玄宗统治时期大力发展科举制,创立殿试制度,扩大了统治基础。
- (4)百日维新期间,清政府创办京师同文馆,后改名为北京大学,成为新文化运动期间的主要阵地之一。

三、材料解析(本大题共2小题,每小题10分,共20分)

17. 阅读材料,完成下列要求。

材料一

“青年时代,孙中山先生(1866~1925年)目睹山河破碎、生灵涂炭,誓言‘亟拯斯民于水火,切扶大厦之将倾’,高扬反对封建专制统治的旗帜,毅然投身民主革命事业。”

——摘自习近平在纪念孙中山先生诞辰150周年大会上的讲话

- (1)根据材料一,指出青年时代孙中山先生目睹“山河破碎”的具体表现有哪些。为“亟拯斯民于水火,切扶大厦之将倾”,孙中山付出了哪些努力?(4分)

材料二

1920年10月31日,苏俄外交人民委员齐契林致函孙中山,表示坚信中国人民“将会走上与帝国主义的世界性压迫进行斗争的道路”,希望建立贸易关系和相互友好合作。随后,孙中山与苏俄越走越近,思想上也完成了以“英美为师”到“以俄为师”的转变。在著名的《孙越宣言》中,两国达成了反对世界列强进行民族压迫等一系列的共识。

——摘自陈天翔《论孙中山民族主义的变化及对中华民族的构建》

- (2)根据材料二,指出孙中山思想发生了怎样的转变。结合所学知识,分析导致他思想发生转变的背景。(6分)

18. 阅读材料,完成下列要求。

材料一




图1 《人权宣言》




图2 《拿破仑法典》书影

(1)材料一中两幅图片反映的内容,在法国历史上分别产生了怎样的作用?(4分)

材料二

启蒙思想家们在人文主义者的基础上进一步从理论上证明专制制度的不合理,要求建立一个以“理性”为基础的社会。他们用政治自由对抗专制暴政,用“天赋人权”的口号来反对“君权神授”的观点,用“人人在法律面前平等”来反对贵族的等级特权,进而建立新的政权……在很多方面,启蒙运动的遗产对欧洲和欧裔美洲社会产生了旷日持久的影响。

(2)材料一中两幅图片反映的内容与材料二分别有什么联系?如何理解“启蒙运动的遗产对欧洲和欧裔美洲社会产生了旷日持久的影响”?(6分)

四、活动与探究(12分)

19. 阅读材料,完成下列探究活动。

材料

序号	时间	地点
①	1927年8月	南昌
②	1927年10月	井冈山
③	1935年1月	遵义
④	1936年12月	西安
⑤	1945年8月	重庆
⑥	1949年4月	南京

(1)上述表格中时间和地点所发生的重大历史事件记录了中国共产党走过的革命历程。以下词语概括了其中一些历史事件的重大意义,请你找出对应事件的序号。(4分)

开辟新路:_____。(1分) 生死攸关:_____。(1分)

扭转时局:_____。(1分) 钟山风雨:_____。(1分)

(2)阅读表格材料,根据表格中时间和地点所发生的重大历史事件,结合所学知识,自拟一个你想论述的观点,加以阐释。(要求观点正确,史实准确,论证充分,表述清晰)(8分)

2023 年中考第三次模拟考试

历史参考答案

一、(每小题 2 分,共 30 分)

1~5:BDACD 6~10:CAABC 11~15:BBDDA

二、(8 分)

16. (1)✓

(2)× 洛阳 长安

(3)× 唐玄宗 武则天

(4)× 京师同文馆 京师大学堂

三、(每小题 10 分,共 20 分)

17. (1)具体表现:日本发动甲午中日战争、签订《马关条约》割占台湾与澎湖列岛、1900 年八国联军发动侵华战争、签订《辛丑条约》,中国完全沦为半殖民地半封建社会。(任答两点得 2 分)努力:建立兴中会、同盟会;提出三民主义;进行辛亥革命,推翻清朝统治,建立中华民国;颁布《中华民国临时约法》。(任答两点得 2 分)

(2)转变:以“英美为师”到“以俄为师”。(2 分)背景:俄国十月革命胜利的成功经验;新生的苏俄政权提出对孙中山的支持;北洋军阀的腐朽统治;孙中山捍卫民主共和斗争的失败。(任答两点得 4 分)

18. (1)《人权宣言》是法国大革命的纲领性文件,否定了封建专制和封建等级制度。《拿破仑法典》巩固了法国大革命的成果,确立了资本主义社会的立法规范。(4 分)

(2)《人权宣言》体现并宣扬了启蒙思想。《拿破仑法典》用法律的形式实践并发展了启蒙思想。(4 分)启蒙运动促进了当时社会的思想解放,推动了欧美资产阶级革命发生,进而推动了欧洲由封建社会向资本主义社会转型。(2 分)

四、(12 分)

19. (1)② ③ ④ ⑥ (4 分)

(2)示例:

中国共产党作出的英明决策引导中国革命走向胜利

1927 年,从大革命失败的教训中,中国共产党开始认识到独立掌握革命武装力量的重要性,8 月 1 日,中国共产党发动南昌起义,打响了武装反抗国民党反动派的第一枪。1927 年,中共领导秋收起义,起义受挫后决定上井冈山,创建了井冈山革命根据地,走上了农村包围城市,武装夺取政权的中国特色的革命道路。长征初期,受“左”的错误领导,红军损失惨重。1935 年 1 月,遵义会议召开,结束了“左”的错误,开始确立以毛泽东为主要代表的马克思主义正确路线在中共中央的领导地位,在极其危急的情况下,挽救了党,挽救了红军,挽救了中国革命,是中国共产党历史上一个生死攸关的转折点。1936 年 12 月,西安事变爆发,中国共产党从全民族的利益出发,决定和平解决西安事变,联蒋抗日。西安事变的和平解决,从此十年内战基本停止,抗日民族统一战线初步形成。1945 年 8 月,为了尽一切可能争取和平,毛泽东亲赴重庆,与国民党进行和平谈判,签订了“双十协定”,为中国实现民主统一、和平建国带来了一线曙光。1949 年 4 月,中国共产党发动渡江战役,占领南京,结束了国民党在大陆的统治。

综上所述,中国共产党始终把民族利益和人民的利益放在首位,作出英明的决策,领导中国人民不断走向了革命的胜利。(8 分)