

# 2023 年春学期初中学生第三次阶段性评价

## 九年级历史试卷

说明：1. 本试卷共 6 页，考试用时 60 分钟，满分 50 分。

2. 答题前，考生务必将本人的姓名，考试号填写在答题纸相应的位置。

### 第一部分 选择题

#### 一、单项选择（每小题 1 分，共 24 分）


1. 夏、商、西周时期，华夏各部族的始祖神话大相径庭，自春秋以来，各诸侯国、各部族间“诸夏共祖”和“五帝同源”说成为主流。这反映出春秋时期

- A. 国家统一趋势加强
- B. 出现了大规模的民族交融
- C. 王室衰微，诸侯争霸
- D. 百家争鸣，文化繁荣


2. 北京冬奥会火炬纹样中蕴含着“道法自然，天人合一”的思想。与之相通的是

- A. 道家
- B. 儒家
- C. 法家
- D. 墨家

3. 考证文物是研究历史的重要手段。如图所示两枚钱币的考证中我们能够获取正确的信息是



秦惠王开始铸造，秦始皇全国推广



公元前 118 年，汉武帝开始铸造并推广

- A. 铜钱是秦汉时唯一货币
  - B. 青铜业发展到鼎盛时期
  - C. 秦汉时期商业快速发展
  - D. 统治者加强经济上控制
4. 元朝开始实行的行省制度，人为的造成犬牙交错和以北制南的局面，从而使行省失去割据称雄的地理条件，这一举措
- A. 有利于加强中央集权
  - B. 促进了边疆经济发展
  - C. 改变了南北经济格局
  - D. 抑制了民族融合趋向
5. 《清史稿·圣祖本纪》中记载了这样一件事：“（康熙）二十三年甲子春正月……罗刹踞雅克萨、尼布潮（楚）二城，断其贸易，萨布素以兵临之。”该事件指的是
- A. 郑成功收复台湾
  - B. 抗击沙皇俄国的侵略
  - C. 土尔扈特部回归
  - D. 平定大、小和卓的叛乱
6. 围绕社会治理问题，古代帝王在制度上不断推陈出新。观察如表，空格处最恰当的是

皇帝	汉武帝刘彻	隋炀帝杨广	元世祖忽必烈	▲
措施	推恩令	科举制	行省制	废除丞相制度

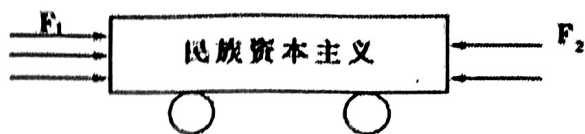
- A. 唐玄宗李隆基
- B. 明太祖朱元璋
- C. 雍正帝胤禛
- D. 乾隆帝弘历

7. 有学者在论述鸦片战争给中国带来的影响时，引用了马克思、恩格斯的评论“鸦片没有起催眠作用，反而起了惊醒作用”，同时指出“中国已处于社会变革的前夕”。该学者认为鸦片战争

- A. 瓦解了传统的自然经济
- B. 推动了中国社会变革
- C. 改变了中国的传统观念
- D. 开启了中国近代化进程

8.如图反映了一战期间我国民族资本主义的发展情况，图中的F1为动力，F2为阻力。属于F1的是


- A. 南京国民政府实行一系列奖励实业的措施
- B. 洋务运动的推动
- C. 帝国主义国家的大力支持
- D. 官僚资本的大力支持



9.1912年5月孙中山《在广州岭南学堂的演说》里提到：“医术救人，所济有限，其他慈善亦然……政治之势力，可为大善，亦能为大恶，吾国人民之艰苦皆不良之政府为之。”材料要表达的观点是

- A. 从医病救人到医国的转变
- B. 袁世凯窃取了革命的胜利果实
- C. 民主共和的理想已经实现
- D. 继续革命以建立真正民主政府

10.观察下列三幅图片，从图片中你可以归纳得出的信息是

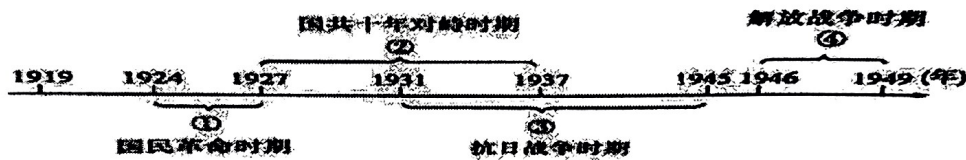


北京高师被捕学生回校 曹汝霖等免职令和拒签和约的报道

- A. 巴黎和会外交失败引发五四运动
- B. 五四运动中心由北京转移到上海
- C. 广大青年学生是五四运动的主力
- D. 五四运动直接目标基本得到实现


11.下图为中国新民主主义革命的时间轴。其中打响了武装反抗国民党反动统治第一枪的事件是在以下哪一阶段

- A. ①
- B. ②
- C. ③
- D. ④



12.右图为中国人民解放军第三野战军颁发的证书。证书边框四角分别印有“渡江光荣”四字，内文竖印“渡江船工光荣证”七个楷体红色大字。这张“证书”说明

- A. 解放军粉碎国民党军队的重点进攻
- B. 解放军对国民党军队进行战略反攻
- C. 中国人民解放军兵种不全装备落后
- D. 解放战争得到了人民群众大力支持



13.1940年毛泽东在《新民主主义论》中指出：第一步，改变这个殖民地、半殖民地、半封建的社会形态，使之变成一个独立的民主主义的社会。第二步，使革命向前发展，建立一个社会主义的社会。这里的“第一步”和“第二步”实现的标志分别是

- A. 渡江战役、新中国成立
- B. 五四运动、新中国成立
- C. 新中国成立、三大改造完成
- D. 五四运动、三大改造完成

14.“废除地主阶级封建剥削的土地所有制，实行农民的土地所有制，借以解放农村生产力，发展农业生产，为新中国的工业化开辟道路。”为此，中央人民政府

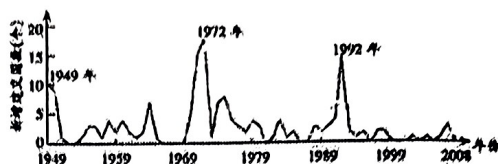
- A. 在全国分批进行土地改革
- B. 开展农业合作化运动
- C. 开始实施第一个五年计划
- D. 实施家庭联产承包责任制

15.制度是关系党和国家事业发展的根本性、全局性、稳定性、长期性问题。1954年《中华人民共和国宪法》第一次确定了



- A. 多党合作和政治协商制度  
B. 人民代表大会制度  
C. 社会主义市场经济体制  
D. 民主共和制

16. 下图是 1949--2008 年中国与外国建交情况曲线图。图中显示了新中国成立后外交史上出现过三次建交高潮。三次建交高峰出现的根本原因是



- A. 对外开放政策的实行  
B. 中国综合国力增强  
C. 建立社会主义市场经济体制  
D. 坚持独立自主的和平外交政策

17. 下列标题与“大河流域—人类文明的摇篮”这一主题不切合的是

- A. 金字塔的国度  
B. 奴隶制民主政治的高峰  
C. 种姓制度的产生  
D. 第一部较为完整的成文法典

18. 德国哲学家黑格尔说：“在有教养的欧洲人心中，提到古希腊，就会涌起一种家园之感。”这是因为

- A. 古希腊思想家开创了哲学  
B. 古希腊文化在文艺复兴中得到了重生  
C. 古希腊是西方文明的发源地  
D. 古希腊文化遗产保存得完好无损

19. 1689 年《权利法案》基本上是重申英国人“自古就有的权利”，比如议会必须定期召开，征税权属于议会等。从表面看似没什么新意，但事实上却是政体制度上的一次革命。材料中的“革命”指的是

- A. 实行三权分立原则  
B. 确立君主立宪制  
C. 建立联邦制共和国  
D. 英国资产阶级革命

20. 人民群众是历史的创造者，历史上第一次创立人民实现自身解放的思想体系，并指引人民改造世界的革命文献是

- A. 《独立宣言》  
B. 《人权宣言》  
C. 《共产党宣言》  
D. 《解放黑人奴隶宣言》

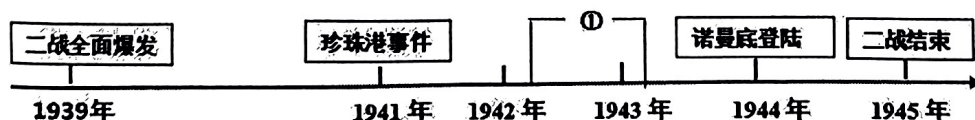
21. 1861 年美国颁布《反联邦脱离法》，林肯曾经就此比喻道：“为保全生命，往往不得不把手截掉，但绝不会为了保全手脚而葬送生命，这是愚蠢的。”他所说的保全生命指的是

- A. 实现国家独立  
B. 解放黑人奴隶  
C. 争夺世界霸权  
D. 维护国家统一

22. 日本曾以“日本精神、中国知识”为口号，挑选中国文化中适合自己的某些内容。后来，日本又以“东方道德、西方技艺”为口号，向西方借用了它所盼望的东西。下列事件与上述观点相符的是

- ①推行“大化改新” ②建立幕府统治 ③形成武士集团 ④进行“明治维新”  
A. ①②  
B. ②③  
C. ①④  
D. ③④

23. 忆战争之害，明战争之程，启战争之思。示意图①处应该填写



- A. 德国突袭苏联  
B. 斯大林格勒保卫战  
C. 莫斯科保卫战  
D. 雅尔塔会议

24. 北约成立之初有 12 个成员国，冷战期间经历了三轮扩大，苏联解体后不断向中东欧扩展，目前拥有 30 个成员国。以上材料可折射出

- A. 欧洲实现经济一体化  
B. 美国对欧洲的军事影响力在增大  
C. 美苏冷战进一步加剧  
D. 世界政治多极化的格局已经形成

## 第二部分 非选择题

### 二、材料解析（本大题共3题，26分）


25. （9分）种子不仅指植物的胚胎，而且也象征着生命的力量和未来的希望。阅读材料，回答问题。

#### 【生命的种子】


材料一



图一



图二



图三 《宋代耕获图》

④ 根据所学知识回答，想象一下图一和图二中的远古居民最可能分别以什么为主食？图三中的农民选择哪种种子会获得更高的产量？（2分）

#### 【进步的种子】

材料二 洋务运动对于近代中国有着深远的影响，虽说它没能让北洋舰队在黄海上击沉日本海军吉野号，但至少让更多的人相信“师夷长技以制夷”的可能和希望。洋务运动的更大的历史意义是播下了种子，播下了需要打开国门改革和学习的新思维。

（2）根据材料二并结合所学知识，举例说明洋务派如何“师夷长技”？后来先进的中国人是如何践行这种“学习的新思维”的。（2分）

#### 【革命的种子】

材料三 中国红色政权首先发生和能够长期存在的地方，是在一九二六和一九二七两年资产阶级民主革命过程中工农兵士群众曾经大大起来过的地方，例如湖南、广东、湖北、江西等省。这些省的许多地方，曾经有过广大的工会和农民协会组织，有过工农阶级对地主豪绅阶级和资产阶级的许多经济的政治的斗争。

——节选自毛泽东《中国的红色政权为什么能够存在？》

（3）材料三中“一九二六和一九二七两年资产阶级民主革命”主要指哪场革命斗争？结合材料概括“中国的红色政权存在”的原因。（2分）

#### 【希望的种子】

材料四 春天播下希望的种子，夏天捧起丰收的欢乐。丰收岂止是稻麦金黄、硕果垂枝、牛羊满坡……党的十一届三中全会确立了以经济建设为重心的制度后，中国顺着这条路走来，越走越年轻，越走越有活力。


——《新闻周刊》

（4）根据材料四并结合所学知识回答，列出一个观点，并列举相关史实阐释说明。（3分）




26. (8分) 在漫长的人类历史发展的长河中, 东西方文明相互交流、相互激荡、共同发展。东西方文明的交流、借鉴既是推动社会文明进步的动力, 也是保持世界文化多样化的内在要求。阅读材料, 回答问题。

【时代之物】材料一 走近时代之物见证劳动的价值



图一 古罗马高架饮水桥

该城市供水系统是由2万多块石堆砌而成, 石块间没有任何水泥等灰浆物质粘合, 现在仍能坚固完好, 令人叹为观止。为城市提供生产、生活用水, 还起到防洪泄洪的作用。




二 京杭大运河

大运河是中国古代劳动人民创造的一项伟大的水利工程, 是世界上最长的运河, 也是世界上开凿最早、规模最大的运河。发挥了南北交通枢纽的作用, 促进了经济的发展。

(1) 根据材料一指出这两个古代东西方伟大工程分别发挥了怎样的作用? (2分)

【时代之窗】材料二 推开时代之窗见证文明交往



图三 15世纪新航路开辟哥伦布的帆船



图四 15世纪明朝郑和下西洋的宝船

(2) 结合所学知识回答, 这两艘船只得以远洋航行共同的技术条件是什么? 这两幅图片所描述的事件, 你更欣赏哪一件, 请说明理由。(2分)

【时代之变】材料三 感受时代之变推动社会发展

明治维新是日本从封建社会向资本主义社会转变的资产阶级改革运动, 在“富国强兵、殖产兴业、文明开化”的口号下, 日本全面学习西方, 加速走上了资本主义道路, 摆脱了民族危机, 成为亚洲强国。

戊戌变法是倡导学习西方, 一场资产阶级改良运动。在“变法图强”的口号下, 中国开始了近代史上一次重要的政治改革和思想启蒙运动, 促进中国近代社会的进步, 但同时由于顽固派的强大, 戊戌变法以失败结束。

(3) 明治维新和戊戌变法被称为“同途不同归”, 根据材料三指出, 中日两国“同途”和“不同归”的理解。(2分)

【时代之声】材料四 倾听时代之声彰显思想智慧

文艺复兴是指发生在14世纪到16世纪的一场反映新兴资产阶级要求的欧洲思想文化运动, 是西欧近代三大思想解放运动之一。

新文化运动是20世纪初中国一些知识分子发起的反对封建主义的思想解放运动, 被称为“中国的文艺复兴运动”。

(4) 结合所学知识指出两个文本框中的历史事件共同之处? (1分)

(5) 结合上述材料, 请你谈谈东西方文明交流、借鉴的作用。(1分)

27. (9分) “危机”一词拆开, “危”代表危险, “机”代表机会, 合在一起就有了“祸兮, 福之所倚”的意思。阅读材料, 回答问题

**【统治危机】**

材料一 克里米亚战争中俄国战败, 导致俄国国际地位下降, 充分暴露了农奴制的弊端, 社会矛盾空前尖锐, 一场革命即将爆发……, 为了应付危机, 沙皇亚历山大二世进行了一场改革, 使俄国避免了革命的发生, ……

—— 《大国崛起》

(1) 根据材料一并结合所学知识回答, “一场改革”指的是什么历史事件? 请根据所学知识把“使俄国避免了革命的发生, ……”中“……”内容补全? (2分)

**【经济危机】**

材料二 1929年—1933年的经济危机, 导致美国工业产量下降超过40%, 贸易额减少70%, 大量企业破产, 银行倒闭, 失业人口巨增, 波及了整个资本主义世界……新政增强了美国政府的宏观调控能力, 恢复了美国人民的信心, 对资本主义世界产生了深远的影响。

—— 部编版九下《世界历史》

(2) 根据材料二概括经济危机的特点。根据材料回答, 应对危机的新政对国家经济发展有怎样的借鉴意义? (2分)

**【战争危机】**

材料三 1939年9月1日, 德国闪击波兰, 英德对德宣战, 人类史上规模最大的战争爆发了……战后成立了联合国, 1948年自成立以来为近130个国家提供军队或警力维和, 有效的阻止了战争的爆发或扩大。

—— 《环球时报》

(3) 根据材料三并结合与所学知识写出成立联合国的宗旨。 (1分)

**【环境危机】**

材料四 2021年2月23日, 第五届联合国环境大会在肯尼亚首都内罗毕闭幕。在全球环境恶化的背景下, 与会代表呼吁各国政府采纳专家建议, 构建绿色低碳发展蓝图……中国大力发展低碳交通, 通过改革整合试点智能电动汽车充电网络, 减少二楼二氧化碳排放, 有效改善了城市交通环境。

(4) 根据所学知识指出, 全球环境恶化的表现有哪些? 根据材料四回答, 我国构建绿色低碳发展蓝图的有效措施是什么? (2分)

(5) 仿照以上材料, 试试也写出一例历史事件所对应“危”和“机”。 (2分)

## 2023 年春学期初中学生第三次阶段性评价 九年级历史试卷答案

1-5 BADAB 6-10 BBADD 11-15 BDCAB 16-20 BBCBC 21-24 DCBB

25. 9 分 (1) 粟 (错别字不给分) 水稻 (每个 0.5 分共 1 分) 占城稻 (1 分)  
(2) 兴办军事工业、民用工业;兴办新式学堂派遣留学生;兴办新式陆海军。(1 分)  
学制度——百日维新、辛亥革命 学思想——新文化运动 (1 分)  
(3) 北伐战争 (1 分) 工农群众的支持或已有的革命斗争经验 (1 分)  
(4) 例: 观点一: 改革开放推动中国经济的发展  
观点二: 必须坚持改革开放以经济建设为中心  
观点三: 必须走中国特色社会主义道路  
观点四: 建立社会主义市场经济体制  
史实: 略 (观点 1 分 史实 1 分 意义或影响 1 分)

26. 8 分 (1) 为城市提供生产、生活用水、还起到防洪泄洪的作用。(1 分)  
发挥了南北交通枢纽的作用, 促进了经济的发展。(1 分)  
(2) 指南针、罗盘技术 (1 分)  
图三 理由: 发现了美洲新大陆, 将美洲纳入了世界历史的发展进程当中。  
图四 理由: 加强了同亚非地区的友好往来, 开创了西太平洋到印度洋之间的海上交通线, 为人类航海事业做出了伟大贡献。(1 分)  
(3) 同途: ①都是资产阶级领导的改革(改良)运动②都是学习西方 (1 分)  
不同归: 明治维新使日本走上了资本主义道路, 摆脱了民族危机, 成为亚洲强国。  
戊戌变法由于顽固派的强大, 以失败结束。(1 分)  
(4) 都是反封建、体现资产阶级要求、思想解放运动。(1 分)  
(5) 东西方文明的交流、借鉴既是推动社会文明进步的动力, 也是保持世界文化多样化的内在要求 (1 分)

27. 9 分 (1) 1861 年俄国农奴制改革 (1 分) 使俄国走上了发展资本主义的道路 (1 分)  
(2) 时间长 范围广 破坏性大 (1 分)  
加强政府对经济的宏观调控能力; 根据时代发展和国情及时对国家政策进行调整; 要积极的应对危机 (任意一点) (1 分)  
(3) 维持国际和平及安全 (1 分)  
(4) ①排放了大量二氧化碳, 引发了温室效应②导致全球气候变暖、冰川融合、海平面上升③臭氧层被破坏, 直接威胁人类生存…… (答案合理即给分) (1 分)  
发展低碳交通, 通过改革整合试点智能电动汽车充电网络, 减少二楼二氧化碳排放, 有效改善了城市交通环境。(1 分)  
(5) 例 1: 危: 独立后的美国, 南北方不同经济类型的发展, 加剧了南北矛盾, 国家面临分裂的危险 (1 分)  
机: 通过南北战争, 美国维护了国家统一, 废除了黑人奴隶制, 清除了资本主义发展最大的障碍, 为以后经济的迅速发展创造了条件。(1 分) (观点正确, 言之有理即给分)  
例 2: 危: 战时共产主义政策引起了人民的不满, 社会矛盾激化。(1 分)  
机: 列宁实施新经济政策, 巩固了新生政权, 恢复了经济。