

四川省自贡市初 2023 届毕业生学业考试

综合素质（二）历史

综合素质（二）由道德与法治、历史两个学科组成，总分 80 分，道德与法治、历史学科各 40 分，考试时间 90 分钟。学科试题卷分第 I 卷（选择题）和第 II 卷（非选择题）两部分。考试结束后，将本试题卷和答题卡一并交回。

注意事项：

1. 答题前，考生务必将自己的姓名、考号用 0.5 毫米的黑色签字笔填写在答题卡上。
2. 选择题使用 2B 铅笔填涂在答题卡对应题目标号的位置上，非选择题用 0.5 毫米黑色签字笔书写在答题卡的对应框内，超出答题区域书写的答案无效；在草稿纸、试题卷上答题无效。

第 I 卷（选择题 共 18 分）

在每小题给出的四个选项中，只有一项是符合题目要求的，每小题 1 分。


1. 央视《国宝大会》（第二季）“舟楫千里”节目介绍：隋炀帝开了许多新的河道，连接了原有的自然和人工河道，开通了一条北到涿郡、南到余杭的最主要的交通大动脉。该“大动脉”指
A. 都江堰 B. 赵州桥 C. 大运河 D. 长城
2. 博物馆见证历史风华。某博物馆计划推出唐代专题展览，根据下面展出的三幅图片，反映的历史信息是



文成公主塑像



《步辇图》（局部）



唐蕃会盟碑局部拓片

- A. 民族交融 B. 对外交流 C. 经济繁盛 D. 多彩艺术

3. 据陈元靓《事林广记》记载，某朝“万里车书新一统”，开创了中央王朝与蒙古、中亚、西藏等地区关系的新局面，是我国历史上第一个由北方游牧民族所建立的真正意义上
的大一统王朝。材料描述的王朝是

- A. 唐朝

B. 北宋
- C. 元朝

D. 清朝

4. 对联蕴含历史信息。右图对联称赞了一位打败占据台湾 38 年西方侵略者的民族英雄，台湾同胞尊称他为“开台圣王”。“开台圣王”指

- A. 戚继光

B. 郑成功
- C. 林则徐

D. 邓世昌



5. 史学界将 1840—1949 年中国近代史定义为半殖民地半封建社会的历史。鸦片战争是中国近代史的开端，使中国面临“数千年未有之大变局”。“大变局”的含义指

- A. 开始沦为半殖民地半封建社会

B. 半殖民地化程度进一步加深
- C. 把中国推向半殖民地化的深渊

D. 完全陷入半殖民地半封建社会

6. 《马关条约》签订后，中国出现了新的民族危机，激发了新的民族觉醒。以康、梁为首的新兴民族资产阶级把向西方学习推进到一个新的高度（见表 1）。“新的高度”体现的是

人物	主要活动
康有为	发起“公车上书”，组织保国会
梁启超	《中外纪闻》《时务报》主笔
严 复	翻译《天演论》，主持《国闻报》

表 1

- A. 宣传维新启蒙思想

B. 推动民主共和传播
- C. 高举民主与科学大旗

D. 促进马克思主义传播

7. 《两岸新编中国近代史》（民国卷）指出：辛亥革命绝非简单的旧式革命，它有现代化的成分，终结了千年不变的王朝轮回，开创了顺应潮流的共和时代，铸造的是千年壮举。其中，“千年壮举”指

- A. 冲击旧制，思想启蒙

B. 推翻帝制，建立共和
- C. 提倡科学，反对愚昧

D. 拒绝签字，维护主权

8. 1936 年西安事变发生后，各派针对时局发表自己的看法，中国共产党从民族大义出发，旗帜鲜明地提出了自己的主张。当时，中共的态度是

- A. 扰乱形势，积极救蒋


B. 讨伐张杨，震慑中共
- C. 扩大事态，挑起内战

D. 和平解决，联蒋抗日

9. 在自贡市某校举办的“讲好家乡历史人物故事”征文比赛中，某同学搜集了如下材料，据此推断他的征文题目为



照片



证书



纪念品

- A. 《北伐建奇功，秋收总指挥——卢德铭》
- B. 《烽火长征路，遵义洒热血——邓萍》
- C. 《走进千年盐都，寻找盐的味道——抗日献金》
- D. 《537.7 高地！——听太公讲那抗美援朝的事》

10. 1956 年 7 月 13 日，在长春一汽崭新的总装线上，装配出了第一辆解放牌汽车。之后，新中国汽车制造业取得巨大成就（见表 2）。这主要得益于

项目 年份	汽车总数	解放牌汽车（整车）	吉斯 150 型汽车（仿苏）
1955	61		61
1956	1654	1225	429
1957	7904	6227	1

表 2

- A. 第一个五年计划
- B. 改革开放
- C. “三步走”战略
- D. 西部大开发

11. 据统计，1979 年秋，小岗村全队共收粮食 13.2 万多斤，相当于 1966 年到 1970 年 5 年产量的总和；向国家出售粮食 2.99 万斤，是任务的 10 倍；人均收入由上年的 22 元上升到 400 元，“讨饭庄”一跃为“冒尖庄”。小岗村成为“冒尖庄”的主要原因

- A. 人民公社化运动
- B. 三大改造
- C. 家庭联产承包责任制
- D. 国有企业改革

12. 中华人民共和国成立后，根据国际形势的变化，我国外交战略的发展演变，经历了四个阶段。下列属于 20 世纪 70 年代外交战略所取得的重要成就

- A. 提出和平共处五项原则
- B. 促成印度支那问题得以解决
- C. 恢复在联合国的合法席位
- D. 成立亚洲基础设施投资银行

13. 它为现代英国政治制度的形成打下基础,确立了议会至上的原则,对近代世界政治制度的发展产生了重要影响,是英国“宪政”的奠基性文件之一。材料中的“它”指

- A. 《大宪章》
- B. 《权利法案》
- C. 《独立宣言》
- D. 1787 年美国宪法

14. 第一次和第二次工业革命是衔接并交错在一起的,19 世纪 70 年代兴起的第二次工业革命,企业加大资助基础研究和应用研究,科学盈利的真正神秘性在工业中的成长孕育达到了一定程度。材料表明,第二次工业革命的显著特点

- A. 范围广规模大进展快
- B. 推动了人类历史发展
- C. 改变了人们生活方式
- D. 科技与生产紧密结合

15. 1861 年 3 月 3 日(俄历 2 月 19 日),沙皇亚历山大二世签署了改革宣言。从法令内容上看,农奴在获得解放的同时可以得到一块份地。改革最终使 2100 万农奴获得了解放,促使社会各方面出现了新的气象。这反映了俄国

- A. 推行文化教育
- B. 废除农奴制
- C. 加强中央集权
- D. 向西方学习



16. 《列宁全集》(第四十二卷)指出:在农业和工业之间,除了交换,除了商业,就不可能有别的经济联系,三四年来我们稍稍学会了实行急剧的转变。为此,1921 年苏俄政府实行“急剧的转变”表现为

- A. 实行战时共产主义政策
- B. 实施新经济政策
- C. 开始苏联第一个五年计划
- D. 采取计划经济体制

17. 《国际关系史》(第七卷)指出:1947 年 3 月,“杜鲁门主义”宣称,不论直接侵略或间接侵略威胁了和平,都与美国的安全有关,美国都有权进行干涉,且没有“地理界线”。这反映了美国对外政策的实质

- A. 控制欧洲
- B. 干涉亚洲
- C. 独霸美洲
- D. 称霸世界

18. 20 世纪八九十年代以来,世界经济全球化趋势加强,为了促进国际投资和国际贸易迅速增长,1995 年 1 月 1 日,世界贸易组织正式成立。其成员国的关税普遍降低,贸易壁垒减少。这表明世界贸易组织的宗旨

- A. 加快欧洲一体化进程
- B. 维护国际和平与安全
- C. 促进全球贸易的发展
- D. 构建人类命运共同体

第Ⅱ卷（非选择题 共22分）

19. 某历史兴趣小组以“国防近（现）代化”为主题开展探究活动，设计了以下任务，请你参与。（16分）

任务一【自主梳理——早期军事近代化】

材料一 19世纪60—90年代，面对内忧外患，一批握有实权的清朝官员，力争恢复旧秩序，主张引进、仿造西方的武器和学习西方的科技，创办近代企业，推行军事现代化。

——摘编自白寿彝《中国通史》


人物	时间	主要活动	口号
曾国藩	1861年	安庆内军械所	▲
▲	1865年	江南制造总局	
左宗棠	1866年	福州船政局附设船政学堂	
张之洞	1887年	广东水师学堂	

（1）请完善表格“▲”内容，（4分）根据材料一并结合所学知识，指出洋务派“推行军事现代化”的主要举措。（2分）


任务二【情境再现——人民军队新型化】

材料二 大革命失败后，中共中央依据“找着新的道路”的要求，先后领导了南昌起义、秋收起义等武装起义，古田会议解决了军队建设的一系列基本问题，铸造了人民军队的军魂。

——摘编自《中国近现代史纲要（2018年版）》



南昌起义朱德手枪实物



三湾改编旧址



井冈山纪念馆



古田会议决议案

（2）根据材料二并结合所学知识，概括中国共产党在大革命失败后，为创建新型人民军队所做的成功探索。（选取两幅及以上图片，简要说明，5分）

任务三【成果汇报——钢铁长城筑国防】

材料三



新中国成立后，人民政府十分重视科学技术工作，发出“向科学进军”的号召，钱学森、钱三强、邓稼先等科学家“干惊天动地事，做隐姓埋名人”，全党、全国各族人民自力更生、艰苦奋斗，战胜各种困难，在国防建设上取得了举世瞩目的成就。

——摘编自《中国共产党的九十年》

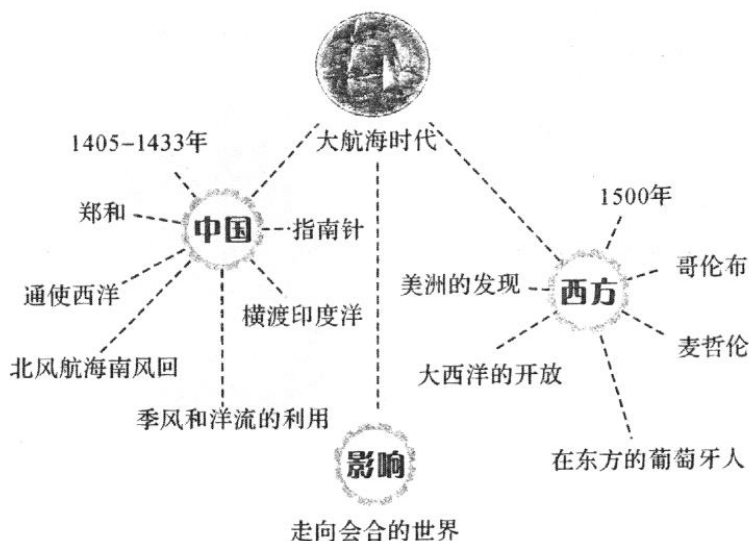
(3) 根据材料三并结合所学知识，分析指出新中国在国防建设上取得成就的主要原因。

(3分) 综合上述探究活动，谈谈你对国防近(现)代化建设的认识。(2分)

20. 阅读材料，回答问题。(6分)

15—18世纪，由于各种现实动机与航海技术的不断进步，亚洲和欧洲的航海家发起了大规模的航海活动，近年来学术界将这现象称为“大航海时代”。

——摘编自许倬云《历史大脉络》



——依据金九鹏《中国古代的造船和航海》等绘制

根据材料和所学知识，围绕“大航海时代”，试拟一主题，并加以说明。(选取两个及以上信息，中外关联，主题明确，表达成文，言之有理)