

【 】2023 年
6 月 14 日 16: 00 前

重庆市 2023 年初中学业水平考试 地理试题

(本卷共两个大题, 满分 50 分, 与生物学科共用 90 分钟)

注意事项:

1. 试题的答案书写在答题卡上, 不得在试题卷上直接作答。
2. 作答前认真阅读答题卡上的注意事项。
3. 考试结束, 由监考人员将试题卷和答题卡一并收回。

第 I 卷 选择题

一、**选择题** (本大题有 25 个小题, 每小题 1 分, 共计 25 分。每小题给出的四个选项中, 只有一项最符合题目要求, 请将其选出, 并填涂在答题卡上。)

四川省地处长江上游, 自然环境优越, 物产丰富。读图 1, 完成 1~3 题。

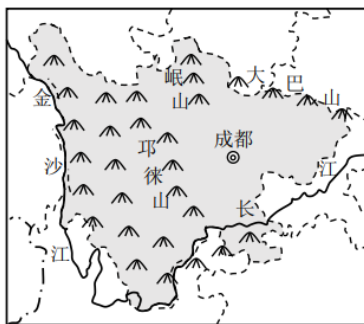


图 1 四川省简图

1. 该省的简称是

- A. 川 B. 沪 C. 黔 D. 闽

2. 该省代表性的珍稀动物是

- A.  B.  C.  D. 

3. 成都市地处

- A. 黄土高原 B. 东北平原 C. 华北平原 D. 四川盆地

埃及自然环境独特，历史文化悠久，是四大文明古国之一。读图 2 和图 3，完成 4~6 题。

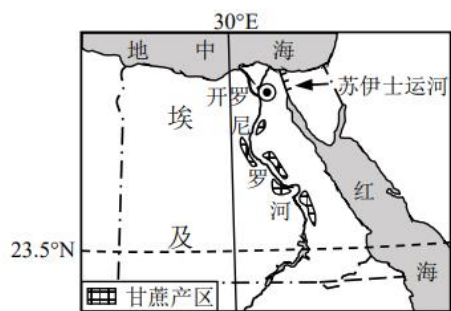


图 2 埃及甘蔗主产区分布



图 3 埃及著名古建筑

4. 开罗位于
A. 亚洲 B. 非洲 C. 北美洲 D. 南美洲
5. 埃及甘蔗主产区分布在
A. 红海沿岸 B. 地中海沿岸 C. 尼罗河沿岸 D. 西部沙漠
6. 图 3 著名古建筑是
A. 吴哥窟 B. 泰姬陵 C. 卢浮宫 D. 金字塔

密西西比河干流流经平原地区，是美国内河运输大动脉。读图 4，完成 7~8 题。

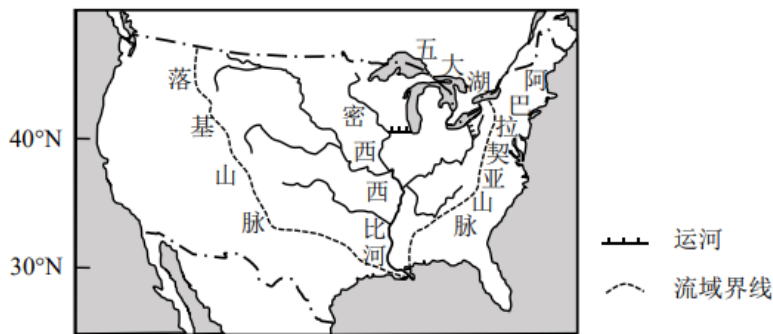


图 4 美国密西西比河水系

7. 受地形影响，密西西比河干流
A. 水流平缓 B. 水量很小 C. 无结冰期 D. 运输量小
8. 连接密西西比河与五大湖的水上航道是
A. 公路 B. 铁路 C. 桥梁 D. 运河

2023 年 4 月初，法国总统马克龙到访中国，开启两国合作的新篇章。读图 5 和图 6，完成 9~10 题。

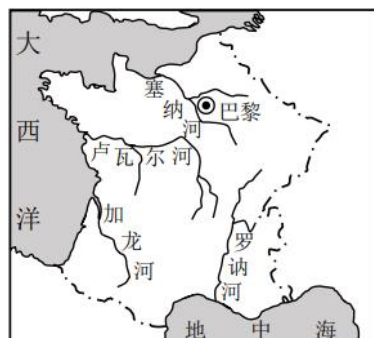


图 5 法国简图



图 6 法国本土人种示例

9. 法国地处欧洲西部，该国的本土人种是
 A. 白色人种 B. 黑色人种 C. 黄色人种 D. 混血人种
10. 图 5 中流入地中海的河流是
 A. 塞纳河 B. 卢瓦尔河 C. 罗讷河 D. 加龙河

2023 年 2 月 6 日，土耳其连续发生 2 次 7.8 级强烈地震，造成大量人员伤亡。中国派出多支救援队万里驰援，展现负责任的大国担当。读图 7，完成 11~13 题。

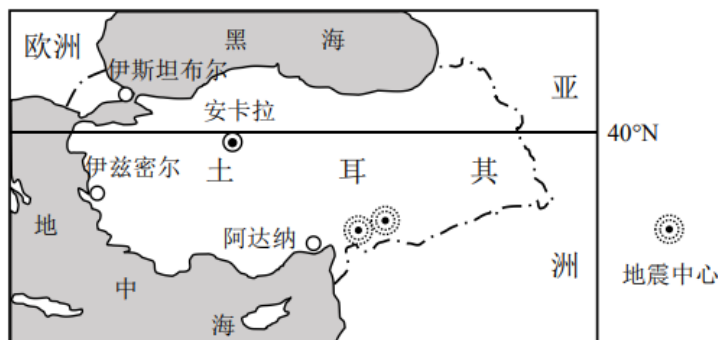


图 7 土耳其地震位置示意

11. 最早受到地震影响的都市是
 A. 安卡拉 B. 阿达纳 C. 伊兹密尔 D. 伊斯坦布尔
12. 土耳其地震人员伤亡数量大的主要原因是
 A. 震级强烈 B. 无人救援 C. 破坏性弱 D. 远离陆地
13. 中国救援队前往土耳其，飞机飞行的大致方向是
 A. 向东 B. 向南 C. 向西 D. 向北

在新时代振兴东北进程中，鞍山钢铁集团创新发展，成为中国桥梁钢生产的引领者，助力国家实现“桥梁强国”梦想。读图 8，完成 14~16 题。

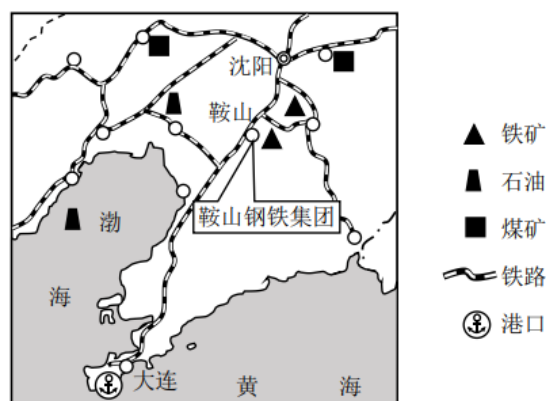


图 8 辽中南地区

14. 鞍山钢铁集团发展依托的本地优势资源是
 A. 金矿 B. 石油 C. 煤炭 D. 铁矿
15. 鞍山钢铁集团为国家建设“桥梁强国”提供大量
 A. 钢材 B. 水源 C. 土地 D. 植物
16. 与沈阳相比，大连独有的交通方式是
 A. 铁路 B. 公路 C. 海运 D. 河运

我国今年已发生多次大范围沙尘天气，风沙危害严重。读图 9，完成 17~19 题。

17. 我国的沙尘天气多出现在

- A. 春季
- B. 夏季
- C. 秋季
- D. 冬季

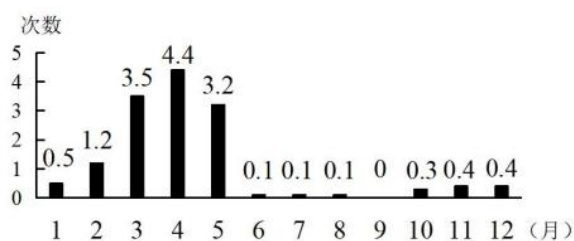


图 9 近 22 年我国沙尘天气平均次数统计

18. 最容易引发沙尘天气的是

- A. 浓雾
- B. 大风
- C. 暴雨
- D. 大雪

19. 为减少沙尘天气发生，人们应该

- A. 过度放牧
- B. 围湖造田
- C. 植树种草
- D. 毁林开荒

截至 2023 年 3 月，我国非可再生资源发电装机容量首次降到 50% 以下，清洁能源供应比例不断上升。读图 10，完成 20~22 题。

20. 下列属于利用可再生资源的是

- A. 煤炭发电
- B. 汽油发电
- C. 柴油发电
- D. 水力发电

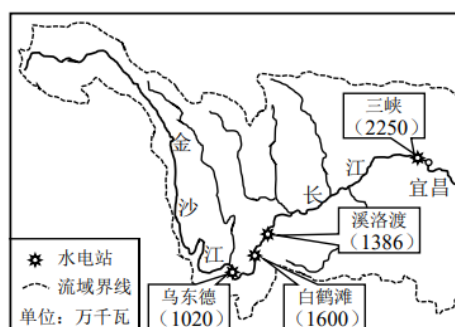


图 10 长江上游主要水电站及装机容量

21. 长江上游装机容量最大的水电站是

- A. 乌东德
- B. 三峡
- C. 白鹤滩
- D. 溪洛渡

22. 长江上游水能资源丰富，在地形方面的原因是

- A. 气温高
- B. 落差大
- C. 植被密
- D. 人口多

读图 11，完成 23~25 题。

23. 春分日，当③地迎来日出时，④地正值

- A. 日出
- B. 正午
- C. 日落
- D. 夜晚

24. ②地位于

- A. 东半球 北半球
- B. 东半球 南半球
- C. 西半球 北半球
- D. 西半球 南半球

25. ①地位于③地的

- A. 东北方
- B. 东南方
- C. 西北方
- D. 西南方

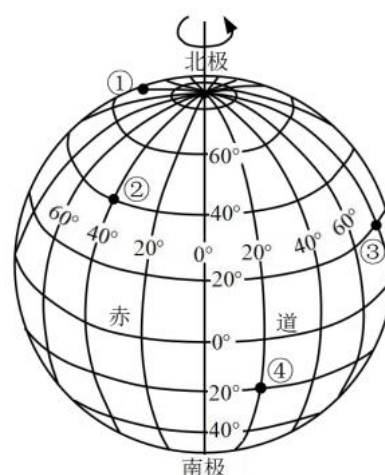


图 11 经纬网

第 II 卷 非选择题

二、综合题 (25 分)

26. 重庆是一个多山的城市,被称为“山城”,又因多雾被称为“雾都”。读图 12~14,完成下列各题。(5 分)



图 12 重庆朝天门

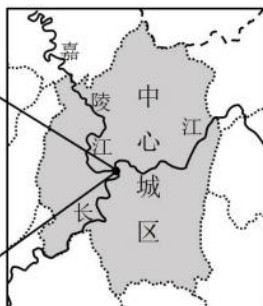


图 13 重庆中心城区位置



图 14 重庆特色民居

- (1) 朝天门位于_____江与_____江交汇处。
- (2) 图 14 中依山而建的特色民居是_____。
- (3) 请从水汽来源和地形两方面,说明重庆多雾的原因。

27. 2023 年 4 月,日本政府不顾多数国家反对,决定执行福岛核电站污染水排海计划,这将会给全球环境带来破坏。读图 15,完成下列各题。(5 分)



图 15 福岛核电站位置示意

- (1) 福岛核电站濒临_____洋,曾经为日本提供大量_____ (填“电能”或“风能”)。排放的核电站污染水将首先污染_____ (填“海洋渔业”或“海底矿产”)资源。
- (2) 日本国内矿产资源贫乏,工业原料和燃料主要依赖_____ (填“进口”或“出口”),采用的主要运输方式是_____运输。

28. 粤港澳大湾区是我国开放程度最高、经济活力最强的区域之一。读图 16-18,完成下列各题。(5 分)

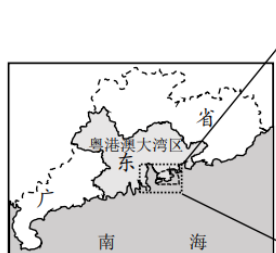


图 16 粤港澳大湾区位置示意

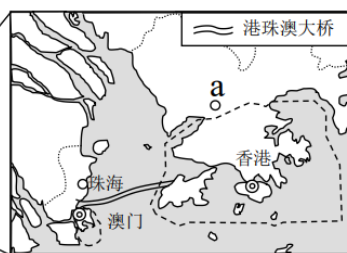


图 17 港珠澳大桥位置示意

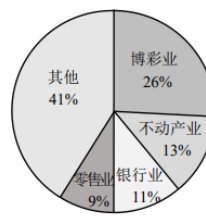


图 18 澳门产业构成 (2021 年)

- (1) 粤港澳大湾区包含_____个特别行政区。
- (2) 港珠澳大桥缩短了_____与珠海和澳门的通行时间。图 18 所示澳门经济的支柱是_____业。
- (3) 与香港相邻的经济特区 a 是_____市，它是我国对外开放的桥头堡，其_____（填“高新技术”或“畜牧”）产业发达。

29. 2023 年清明节前后，台湾马英九先生来大陆祭祖、交流，体现两岸同胞都是中国人，有共同的血脉、文化和历史。读图 19 和图 20，完成下列各题。（5 分）



图 19 台湾省简图

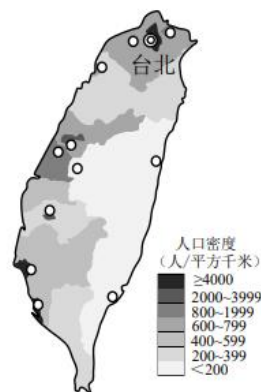


图 20 台湾岛人口和城市分布

- (1) 台湾岛是我国第_____大岛。北回归线横穿台湾岛中南部，表明台湾岛地处亚热带和_____带地区，热量充足，物产丰富，被誉为祖国的“宝岛”。
- (2) 图 20 所示台湾岛的人口和城市主要分布在_____（填“东部”或“西部”）。
- (3) 台湾居民主要是_____族，祖籍地多为_____省，与大陆人民同宗同祖。

30. 马六甲海峡是当今世界最繁忙的海峡之一，被称为“海上生命线”。读图 21 和图 22，完成下列各题。（5 分）

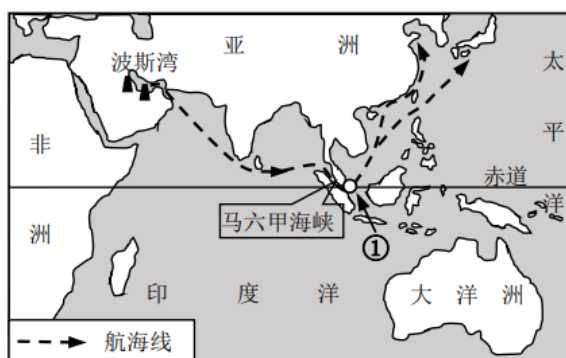


图 21 马六甲海峡位置示意

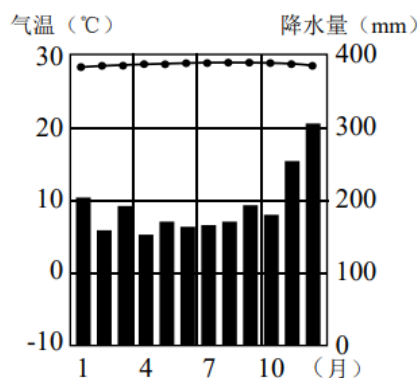


图 22 ①地各月气温和降水量

- (1) 被称为“花园城市”的国家①是_____；该国环境优美，吸引了世界各地游客前去观光，说明其_____业发达。
- (2) ①地的气候特征是_____，形成的自然景观是_____。
- (3) 图 21 中沿航海线运输的主要资源是_____。