

道德与法治和历史试题

道德与法治试题(共40分)

一、单项选择题:共16题,每题1分,共16分。每题只有一个选项最符合题意。

1. “止于至善”是一种“虽不能至,然心向往之”的实践过程。行走在这条路上,需要我们

①与朋友坦诚相待,毫无保留 ②舍弃物质追求,养护精神

③从点滴小事做起,积少成多 ④汲取榜样力量,见贤思齐

A. ①② B. ①④ C. ②③ D. ③④

2. 右图《时间去哪儿了》启示我们要

A. 科学规划,合理安排学习时间

B. 互帮互助,掌握各种学习方法

C. 多花时间,培养浓厚的学习兴趣

D. 分清主次,重要的事情都要先做



3. 针对晓楠的烦恼,你的建议是

A. 传播网络正能量

B. 学会“信息节食”

C. 遵守网络法律规定

D. 学会辨析网络信息

晓楠日记

2023年4月16日 周日 晴

今天本打算花半小时上网看新闻,不知不觉半天过去了。

结果,没时间写作业,约好的篮球赛也忘记了,好烦啊!

4. 某社区倡导邻里缔结“窗帘”约定,如果早晨老人家里窗帘迟迟没有拉开,自愿结对的邻居要敲门询问,没有得到回应则要及时通知社区工作人员。该约定旨在

A. 提升居民对社区工作的认同度

B. 消除基层治理风险

C. 打造邻里和谐互助的社区文化

D. 划定居民权利界限

5. 在长江下游某市花木鱼虫市场,有市民购买包括巴西龟在内的一些外来物种用于放生。该市拟出台规定规范放生行为,对此出现了争议。下列选项中,能作为支持者论据的是



反对者:“放生”是爱心行为,不应被规范。

支持者:“放生”有潜在危险,应该被规范。



①放生行为可能造成外来物种入侵

②放生行为可以增加长江物种多样性

③规范放生行为有利于维护长江的生态安全

④规范放生行为限制了个人自由行使放生权利

A. ①③

B. ①④

C. ②③

D. ②④

6. 作为国家的根本法,宪法所规定的内容是国家生活中带有全局性、根本性的问题。下列选项中属于该法所规定的是

①民事责任的承担方式

②国家机构的设置及职权

③刑事责任年龄的规定

④公民的基本权利和义务

A. ①②

B. ①③

C. ②④

D. ③④

7. 法律要求做的必须去做。下列选项中,属于我们“必须去做”的是

①获得劳动报酬

②选举人大代表

③爱护公共财产

④遵守交通规则

A. ①②

B. ①④

C. ②③

D. ③④

8. 好友发朋友圈:公交车上设置老弱病残孕专座,这符合平等的要求吗?你会留言

A. 符合,这是法律赋予的特权

B. 符合,不同情况可以差别对待

C. 不符合,法律面前人人平等

D. 不符合,同等情况要同等对待

9. 《我和我的祖国》这首歌给我们的启迪是

- ①只有国家好,大家才会好
 - ②国家利益关系国家生存与发展
 - ③国家利益符合每一个人的利益需求
 - ④要心怀爱国之情,坚持国家利益至上
- A. ①② B. ①④ C. ②③ D. ③④

3 4 3 2 1 7 | 6. 5. | 1 1 3 5 4. 3 | 2. 2. | 4 5 4 3 2 1 |

1.我和我的祖国,一刻也不能分割,无论我走到哪里,都流出一首赞歌。我歌唱每一座高山,我歌唱每一条河流。袅袅炊烟,小小村落,路旁那棵老树,只要我眼里有您,眼里就有您,眼里就有您,眼里就有您。

2.我的祖国和我,像海和浪花一朵,浪是那海的赤子,海是那浪的依托。每当大海在微笑,每当大海在微笑,每当大海在微笑,每当大海在微笑。

10. 创新是一种生活方式,它不只是从无到有的创造发明,还可以是对已有成果的改进和完善。以下属于创新的是

- ①小红跟着妈妈学习做八宝饭
 - ②小新用经典老歌编排出民族舞
 - ③小亮用饮料瓶做成手工艺品
 - ④小飞每天坚持做 50 个仰卧起坐
- A. ①③ B. ①④ C. ②③ D. ②④

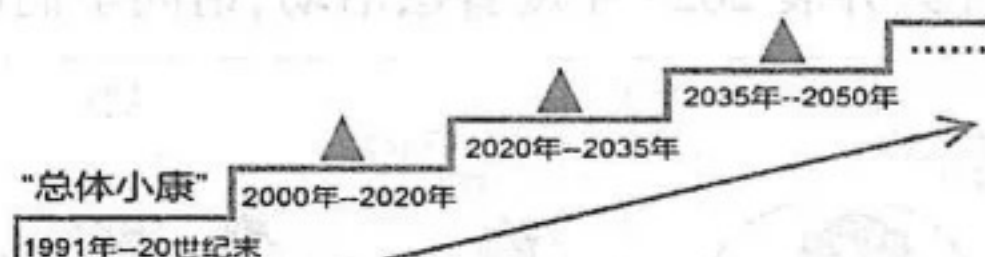
11. 《中华人民共和国非物质文化遗产法》第四条规定:“保护非物质文化遗产,应当注重其真实性、整体性和传承性,有利于增强中华民族的文化认同,有利于维护国家统一和民族团结,有利于促进社会和谐和可持续发展。”该规定强调了

- ①保护非物质文化遗产的要求
 - ②非物质文化遗产是中华文化的精髓
 - ③保护非物质文化遗产的意义
 - ④非物质文化遗产是民族精神的核心
- A. ①③ B. ①④ C. ②③ D. ②④

12. 某校举办“中国人·中国梦”演讲比赛,小涵同学收集了一些关键词,并按照图片中的时间节点进行排序,正确的是

关键词:

- ①基本实现现代化
- ②“全面小康”
- ③全面建成社会主义现代化强国



- A. ①②③ B. ②①③ C. ②③① D. ③②①

13. 全国两会期间,全国人大代表、政协委员齐聚北京,共商国是。一份份议案、提案,直指住房、医疗、教育等广大群众最为关切的问题,这说明在我国

- A. 民主监督能增强公民的政治参与意识
- B. 人民代表大会制度是一项基本政治制度
- C. 人大与政协等国家机关在工作中相互配合
- D. 人民是社会主义民主政治建设的直接受益者

14. 小明笔记本上摘录了一段有关我国国情的学习材料,其学习主题最有可能是

- A. 关心共同命运
- B. 共享发展机遇
- C. 贡献中国智慧
- D. 积极谋求发展

面对百年未有之大变局,中国要:①把提升发展质量放在首位;②积极寻求新的经济增长点;③以更加开放的态度积极参与全球规则制定;④加快构建以国内大循环为主体、国内国际双循环相互促进的新发展格局。

15. 截至 2022 年底,中国企业在“一带一路”沿线国家建设的境外经贸合作区累计投资达 571.3 亿美元,为当地创造了 42.1 万个就业岗位。这说明中国坚持

- A. 做全球经济增长的贡献者
- B. 做全球分工的安排者
- C. 做国际政治新秩序的维护者
- D. 做世界和平的建设者


16. “尊重世界文明多样性,以文明交流超越文明隔阂、文明互鉴超越文明冲突、文明共存超越文明优越”。以下新闻内容符合这一理念的是

- ①“中俄数学中心”开创的合作模式助推国际科技合作新格局
- ②要依靠自己力量端稳“饭碗”必须提升我国种业自主创新能力
- ③“中国复眼”项目二期工程将实现千万公里以外的小行星探测
- ④中国驻美使馆在“国际茶日”诚邀美国各界人士共享茶香雅韵

- A. ①② B. ①④ C. ②③ D. ③④

二、非选择题:共2题,每题12分,共24分。

17. 新时代十年,党中央坚持把人民健康放在优先发展的战略位置,“生命与健康”问题备受关注。

坚持生命至上	我国政府积极落实党中央精神,始终坚持“人民至上,生命至上”,全面推进健康中国建设。国家卫健委印发《健康中国行动2023年工作要点》,其中包括依托12355青少年服务平台,持续开展生命教育、自护教育等健康守护行动。
提升生命高度	提升生命高度可以增添战胜困难的勇气;尽职尽责行为能让人体验到成就感、幸福感。连云港守岛卫士王继才夫妇,能吃苦,肯奋斗,有担当。只因国家安全重如山,重任在肩不畏难。 
增强生命韧性	面对挫折,会焦虑、难过,这很正常。但如同光秃秃的树干会长出新芽,断尾的壁虎会长出新尾巴,人的生命也蕴含一定的承受力、自我调节和自我修复能力。我们需要发掘自己的生命力量,增强生命的韧性。

(1) 党和政府坚持“人民至上,生命至上”的理论依据是什么?(4分)

(2) “因为有生命高度而不惧困难”的人物还有很多,请你再推荐一例,并说明推荐理由。(4分)

(3) “发掘自己的生命力量,增强生命的韧性”,小华认为这要靠自己,小东认为必须借助外力。请你对他们的观点加以评析。(4分)

18. 连云港某社区开展2023年度普法活动,请同学们以志愿者身份参与其中。

图1



图2



图3



图4



法律库:《中华人民共和国治安管理处罚法》《中华人民共和国个人信息保护法》
《中华人民共和国义务教育法》《中华人民共和国刑法》《中华人民共和国民法典》

(1) 上述宣传栏中图1、图2、图3案例,分别适用“法律库”中的哪部法律?(4分)

(2) 针对图4中的违法行为,请根据职责分工写出对应的国家机关。(4分)

公安机关:立案侦查



A: 提起公诉



B: 依法审判

(3) 本次普法活动聘请你当志愿讲解员,你要做哪些准备工作?(至少两个角度,4分)

历史试题(共60分)

三、选择题:在下列每题的四个选项中,选出最符合题意的一项。(第19-28题,每题1分;第29-35题,每题2分。共24分)

19. 一位导游在介绍某遗址时提到的关键词有:约70万—20万年、保存火种、打制粗糙石器。该遗址可能是

- A. 元谋人遗址 B. 北京人遗址 C. 山顶洞人遗址 D. 河姆渡人遗址

20. 下列能体现孔子政治主张的是

- A. 无为而治 B. 为政以德 C. 民贵君轻 D. 以法治国

21. 与右侧知识卡片信息直接相关的历史人物及著作是

- A. 司马迁《史记》
- B. 王羲之《兰亭集序》
- C. 顾恺之《洛神赋图》
- D. 司马光《资治通鉴》

知识卡片
著作内容:记述了从传说中的黄帝到汉武帝时约 3000 年的史事。
著作地位:史家之绝唱,无韵之离骚。

22. 《全球通史》谈到:“宋朝时期值得注意的是发生了一场名副其实的商业革命,对整个欧亚大陆有重大意义。”文中“商业革命”指

- A. 瓦子等娱乐场所出现
- B. 工商业市镇兴起
- C. 流通领域出现了纸币
- D. 手工业工场涌现

23. 学者李治安评价道:“它体现了中央集权与地方分权的主辅结合,明显优于单纯的中央集权或单纯的地方分权。”他评价的是

- A. 分封制
- B. 郡县制
- C. 节度使
- D. 行省制

24. 下表为中国历史上的民族英雄,其中表述正确的选项是

选项	历史时期	英雄人物	英雄事迹
A	元朝中期	戚继光	荡除中国东南沿海倭寇
B	明朝初期	郑成功	从葡萄牙手中收复台湾
C	甲午中日战争	邓世昌	率致远舰官兵杀敌殉国
D	八国联军侵华战争	左宗棠	抗击日本侵略血洒疆场

25. 1948 年 11 月 16 日,毛泽东致电总前委:“此战胜利,不但长江以北局面大定,即全国局面亦可基本上解决。”“此战”为

- A. 辽沈战役
- B. 淮海战役
- C. 平津战役
- D. 渡江战役

26. 下列世界古代文明成果,属于图 1 所示文明地区的人们所创造的是

- A. 金字塔
- B. 《汉谟拉比法典》
- C. 罗马大竞技场
- D. 帕特农神庙

27. “昨天,1941 年 12 月 7 日,一个遗臭万年的日子,美利坚合众国遭到了日本海空军部队突然和蓄谋的进攻。”这一“进攻”

- A. 标志着二战已全面爆发
- B. 扭转了苏德战场形势
- C. 促使二战达到最大规模
- D. 开辟了欧洲第二战场

28. 历史解释是对史实的认识或评判。下列选项属于历史解释的是

- A. 元朝在西藏地区设置宣政院,在澎湖岛设置了澎湖巡检司
- B. 清朝前期册封达赖和班禅、设置驻藏大臣来管理西藏事务
- C. 康熙皇帝三次率军亲征,平定蒙古族准噶尔部噶尔丹叛乱
- D. 元明清时期经略边疆的举措巩固和发展了统一多民族国家

29. 《复兴之路》解说词中提到:“20 世纪的大幕拉开了,紫禁城依然巍峨庄严,但太和殿前却留下了中国在 20 世纪的第一年所遭受的国耻。”

关于这一“国耻”表述正确的是

- A. 开始丧失完整独立主权
- B. 沙俄占领北方大片领土
- C. 北洋舰队至此全军覆没
- D. 被迫签订了《辛丑条约》

30. 从晚清到民国,伴随着外来文化的冲击和社会政局的更替,中国的经济、社会生活、教育文化事业等各个方面都发生了巨大变化。下列叙述能佐证这一观点的是

- A. 甲午战败后,张謇创办大生纱厂,带动了国人走上“实业救国”的道路
- B. 戊戌变法后,剪辫、易服和废止缠足等革除社会陋俗的法令被陆续颁布
- C. 1872 年在上海创办的《大公报》,是近代中国存在时间最长的中文报纸
- D. 1905 年,清政府创办京师大学堂,存在约 1300 年的科举制至此寿终正寝



图 1

31. 图2为1938年5月某报刊上发表的一幅漫画,该漫画表明
- A. 东北抗日联军开展游击战争 B. 八路军在平型关伏击日军
C. 中国军队同仇敌忾消灭日寇 D. 第三次长沙会战获得胜利
32. 法国史学家米西勒认为:“14世纪到16世纪欧洲封建社会末期是‘人’和‘世界’被发现的时代。”这两个“发现”
- A. 复兴了古代希腊罗马文化 B. 促使世界开始连为一个整体
C. 促进了早期资本主义发展 D. 导致资产阶级革命时代来临
33. 19世纪60年代,美国、俄国和日本为了解决国内面临的严重危机,各自采取了不同的应对方式,其产生的共同作用是



图2

- A. 实现了民族独立 B. 走上了侵略扩张道路
C. 摆脱了殖民统治 D. 增强了资本主义力量
34. 20世纪六七十年代,巴拿马不断爆发群众性的反美运动,要求收回运河区主权。1999年底,巴拿马收回了运河区的全部主权。这一结果
- A. 提高了亚非国家和地区的民族自信 B. 鼓舞了拉美人民维护国家主权的斗争
C. 标志着非洲国家摆脱殖民主义枷锁 D. 表明国际政治经济新秩序的最终确立
35. “让世界经济的大海退回到一个一个孤立的小湖泊、小河流,是不可能的,也是不符合历史潮流的。”这一演讲针对的是
- A. 霸权主义的恶劣行径 B. 恐怖主义的日渐抬头
C. 逆经济全球化的行为 D. 全球生态平衡的破坏

四、非选择题:本大题共3小题,每小题12分,共36分。

36. (12分)某中学以“探寻丝绸之路”为主题开展跨学科主题学习活动,请你参与这次活动,完成下列要求。

材料一



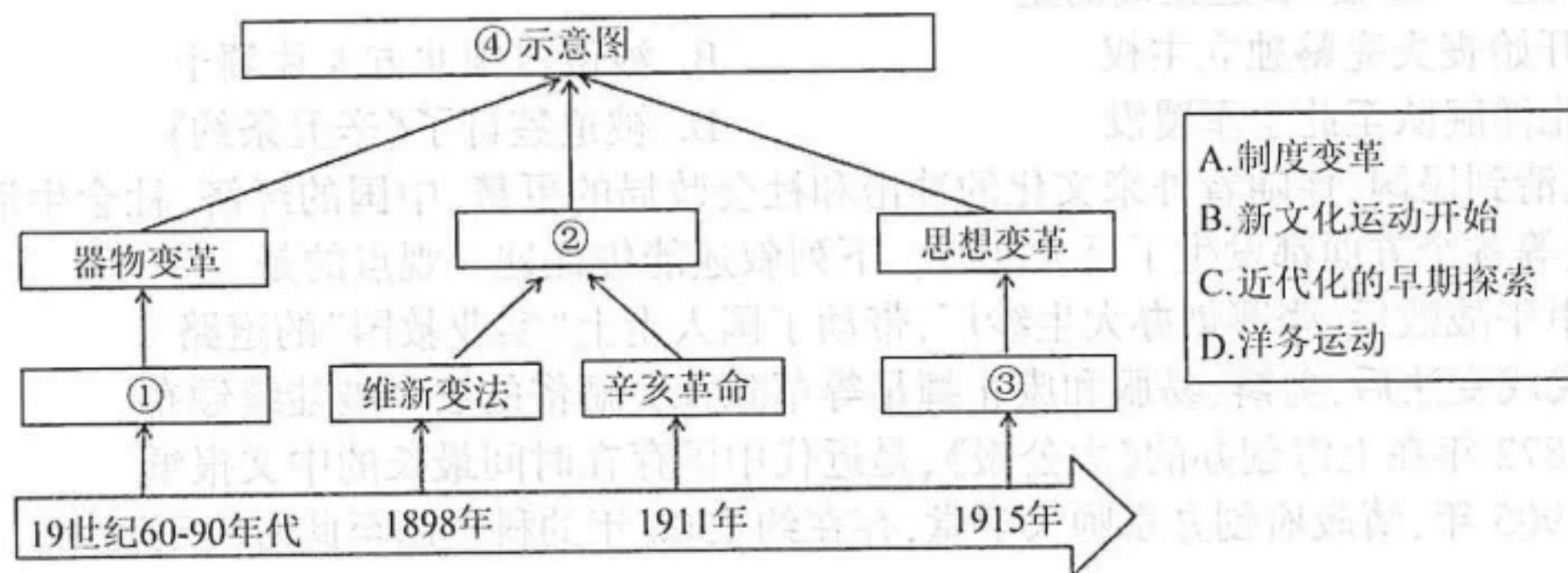
汉代海上航路示意图

材料二 依据收集的材料,我们得出以下结论:①唐朝的商业十分繁荣,出现了一些繁华的大都市;②唐朝时期,民族之间的交融进一步发展;③唐朝时,中外文化交流频繁;④唐朝时期的社会风气比较开放。

——乙组探究唐朝“丝绸之路”后的结论

- (1)材料一为甲组收集的材料,请逐条归纳材料中的历史信息,并根据这些信息概括当时的发展特点。(6分)
- (2)结合所学知识,请你写出材料二中结论的史实依据。(4分)
- (3)据上述两组的研究和结论并结合所学知识,你对连云港的未来,有哪些期盼?(2分)
37. (12分)阅读材料,完成下列要求。

材料一



材料二 中国作为一个历史悠久的文明古国,近代以前综合国力一直居世界前列。但西方国家完成第一次工业革命后,对政治、经济等发展模式仍处于落后状态的中国发起侵略战争。在西方坚船利炮的压迫下,中国逐步开启了现代化进程,从被动型现代化(清朝末期现代化的开启)到自主型现代化(民国时期局部现代化的形成),最后到全面型现代化(新中国成立以来中国式现代化的发展),实现了现代化道路上的不断飞跃。其中,全面型现代化大致可划分为三个大的发展阶段:1949—1978 年的奠基时期;1978—2012 年的快速发展时期;2012 年至今的走向成熟时期。

——摘编自杨耕《东方的崛起·关于中国式现代化的哲学反思》

(1)据材料一,选填方框①②③④的内容,并结合材料二,概括这一示意图反映的时代特征。(6 分)

(2)据材料二并结合所学知识,构建“1978—2012 年快速发展时期”的知识结构并分析这一时期取得成就的原因。(6 分)

38. (12 分)阅读下表,完成下列要求。

世界近现代史大事年表(部分)

时间	事件
18 世纪中期—19 世纪中期	工业革命
1848 年	《共产党宣言》发表
1917 年	俄国十月革命
1921 年	中国共产党成立
1936 年	苏联新宪法公布
1945 年	中国共产党第七次全国代表大会召开,大会确立毛泽东思想为党的指导思想
1949 年	中华人民共和国成立
1956 年	三大改造基本完成,社会主义基本制度建立
1991 年	苏联解体
2017 年	中国共产党第十九次全国代表大会召开,大会确立习近平新时代中国特色社会主义思想为党的指导思想

——据中国社会科学院《世界历史·社会主义国家政治制度》制作

- (1)据上表,指出标志着马克思主义诞生、苏联模式形成的历史事件。(4 分)
- (2)选择上表中至少两个相互关联的事件,提炼成一个观点,并结合所学知识加以论述。(8 分。要求:观点正确,史论结合,条理清楚)