

九年级历史试卷

注意事项:所有答案必须填写到答题卡相应的位置上

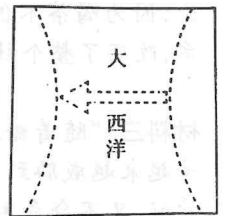
一、选择题(每小题只有一个答案是正确的,请将正确答案涂在答题卡上,每小题2分,共60分)

1. 古代人类在不同地区创造了不同文明。在东亚有中华文明,南亚次大陆有古印度文明,西亚地区有古巴比伦文明,北非有古埃及文明,欧洲有古希腊罗马文明等。这反映了古代文明
- A. 既交流互鉴,又继承创新 B. 依靠大河和海洋,发展农业
C. 相互学习,多元一体化 D. 独立发展,形成多元发展格局
2. 古希腊喜剧《公民大会妇女》中虚构了一个故事情节:雅典的妇女们偷偷穿上了丈夫的衣服,戴上假胡须,女扮男装出席公民大会,投票透过法律夺取了政权,把男性从城邦中驱逐出去。此虚构情节反映了
- A. 雅典妇女歧视严重,就业困难 B. 妇女和成年男性矛盾尖锐
C. 男女地位不平等,妇女无权参政 D. 民主氛围浓厚,公民意志自由
3. 人类法制传统源远流长,有关《汉谟拉比法典》和《十二铜表法》的说法,正确的是
- A. 都产生于中世纪的欧洲 B. 都是成文法典
C. 都刻在黑色的玄武岩石上 D. 都使用楔形文字
4. 在古代罗马,当双方在商品交易中产生摩擦、冲突时,一方不能凭借其经济实力对另一方产生支配权,在财富上处于弱势一方则可寻求法律保护。这表明,古代罗马
- A. 注重法律维护社会公平 B. 贫富差距越来越严重
C. 受中国式杀富济贫思想影响 D. 法律体系清晰完备
5. 随着亚历山大帝国建立,大量希腊手工匠师、商人、冒险家涌入东方,他们在亚非的许多城市从事商业经营,一个由印度到尼罗河的广大贸易区由此建立。材料反映了亚历山大帝国的建立
- A. 扩大的帝国的统治范围 B. 促进了希腊文化在东方的传播
C. 加强了东西方经济的交流 D. 推动了希腊手工业的发展
6. 在中世纪的欧洲,封君封臣制的建立需要履行特定的仪式,在封臣的效忠词里除了强调封臣的职责与义务外,还提及如果得不到封君的保护,可以自行离开封君。这表明封君与封臣的关系
- A. 具有一定的契约性 B. 以封君为绝对核心
C. 没有严格的等级制约 D. 以封臣为绝对核心
7. 下图是漫画《劳动中的农奴》。农奴不是自由人,人身属于领主,世代相承。农奴从事的劳动是
- A. 义务耕种庄园的共用地 B. 独立耕作自己的自营地
C. 义务耕种领主的自营地 D. 有偿耕种庄园的林地、荒地
8. 《中世纪大学和现代大学》记载:“在大多数中世纪大学里,神学都是最不受欢迎的学科,原因是人们认为神学太理论化了。在医、法、神三个高级学院里,民法通常最受欢迎,教会法紧随其后,然后是医学。”材料可以表明
- A. 大学有教育自主权等自治权利 B. 课程设置反映经济和社会发展的要求
C. 中世纪人们摆脱了神学的束缚 D. 教会不支持大学的课程设置



劳动中的农奴

9. 大化改新把部民转为公民,将土地收归国有,分给公民耕作,农民负责一定的租庸调,地位有所改善,百姓大悦,提高了生产积极性。由此可见,大化改新
- A. 促进了土地的私有买卖 B. 建立了中央集权制度
C. 推动了日本经济的发展 D. 促进了生产工具革新
10. 中国古代的商鞅变法,法兰克王国的封君封臣制改革和日本的大化改新,它们的相同之处在于
- A. 都是自上而下的封建性质的改革 B. 都实行有条件的土地分封
C. 都是阶级矛盾尖锐的背景下进行改革 D. 都把土地分给农民耕种
11. 有历史学者谈及中世纪欧洲时说:“城市兴起的过程中,我们第一次在欧洲历史上写了‘平民的传记’,一个新的社会集团出现了。”这个“新的社会集团”出现说明当时
- A. 庄园经济盛行 B. 封建专制统治的加强
C. 欧洲出现了无产阶级 D. 欧洲的社会结构开始改变
12. 这一时期,人们重新开始将目光从天国看到人间,将人类自身的本来面目还给了自身,将人的现实性、独立的主体地位和作用,以及丰富的个性发掘出来。材料反映了这一时期
- A. 思想文化领域繁荣 B. 出现人文主义,思想获得解放
C. 自然科学成就巨大 D. 构建了资本主义社会的蓝图
13. 李时珍为撰写《本草纲目》行走四方,在1552至1578年游走采写的过程中,发现了长江中下游地区种植的玉米,当时记载为“种者甚罕。”中国引进种植玉米,这说明了
- A. 新航路的开辟促进物种的交流 B. 文艺复兴解放了中国人的思想
C. 殖民扩张推动资本原始积累 D. 工业革命推动世界市场的形成
14. 下面是1492年开辟的一条新航路示意图,有关此次航行的说法正确的是
- A. 发现了美洲新大陆 B. 第一次完成了环球航行
C. 到达了印度西海岸 D. 开通了绕道非洲南端通往东方的航路
15. 在1660—1684年的24年中,英国议会只通过了533个议案,而在1689—1702年的13年间,议会共通过809个议案。出现这一变化的主要原因是
- A. 文艺复兴提高了议员的文化水平 B. 工业革命巩固了资产阶级的地位
C. 三权分立扩大了议会的立法权 D. 《权利法案》扩大了议会的权力
16. 近代英国对于国王的存废,经历了“反抗国王、处死国王、请回国王、进口国王”的过程,最终英国国王一直保留至今。其中,“进口国王”指的是
- A. 查理一世被送上断头台 B. 光荣革命取得了成功
C. 《权利法案》的通过 D. 斯图亚特王朝的复辟
17. 英国用和平妥协的方式实现了制度的变革,建立君主立宪制;北美的独立是采用民族战争的形式扫清资本主义发展的障碍;法国是用不断革命的方式推进政治民主化。这说明
- A. 现代制度建立必须通过暴力的革命 B. 国家近代化道路的选择取决于具体的国情
C. 英法美资产阶级革命是反封建的先驱 D. 英国资产阶级革命兼具首创性和妥协性



18. 下表是英国在北美颁布的税法,此表旨在说明

时间	法案	主要内容
1660年	《航海条例》	规定北美殖民地所有的输入和输出商品都要使用英国船只运输,一切物品只能运销英国
1765年	《印花税法》	所有的印刷品、商业单据、法律证件等都要缴纳印花税
1773年	《茶税法》	减少茶叶税,但给予英国东印度公司直接向北美人卖茶的权利

- A. 英国政府竭力压制北美经济的发展
B. 英国政府加强和北美地区的贸易往来
C. 英国政府放松对北美经济的压制
D. 英国政府在北美实行和本土相同的经济政策
19. 下图是法国大革命前夕等级制度情况简表,此表可以用于研究

等级	人员组成	人口	纳税	特权	土地
第一等级	教士	12万	不纳税	征收什一税	占有全国耕地的10%
第二等级	贵族	35万	不纳税	享有特权	占有全国耕地的25%
第三等级	资产阶级、农民、工人和市民	2600万	纳税	无	农民占35% 资产阶级占30%

- A. 法国大革命的历史背景
B. 工业革命对法国的影响
C. 拿破仑上台称帝的背景
D. 拿破仑帝国垮台的原因
20. 1843年,英国议会通过了炉灶排放烟尘的法案;1847年,议会通过《河道法令》;1848年政府颁布《公共卫生法》。与这些法令出台相关的是
- A. 人文主义思想的兴起
B. 工业革命的迅速发展
C. 化学工业的蓬勃发展
D. 启蒙思想的广泛传播
21. 1871年爆发的巴黎公社革命被认为是无产阶级建立政权的伟大尝试,而不是社会主义革命,最重要的原因是
- A. 没有实现无产阶级专政
B. 没有建立公有制的经济基础
C. 没有提出自由平等的口号
D. 没有科学社会主义理论的指导
22. 下图是李华同学在学习世界史时做的一页笔记,请判断,他学习的主题是
- A. 无产阶级革命和社会主义道路
B. 资本主义制度的初步确立
C. 无产阶级建立政权的伟大尝试
D. 马克思主义的诞生和实践
23. 该史料可用于研究

我绝不放弃我的章西,谁敢占领我的章西,绝没有好下场。

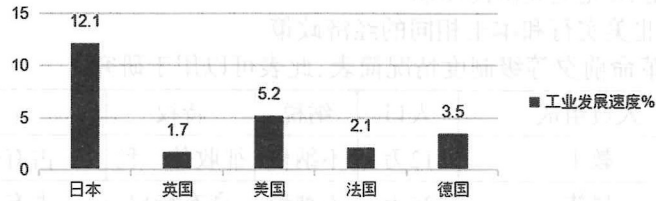
——章西女王

在没有打碎西班牙强加在我们身上的枷锁以前,我的手将不停地打击敌人,我的心将不会平静。

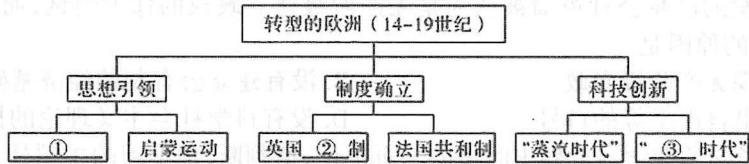
——玻利瓦尔

- A. 第一次世界大战和战后初期的世界
B. 殖民地人民的反抗斗争
C. 第二次工业革命
D. 美国独立战争
24. 俄国近代场矿企业如雨后春笋般地发展起来,到1725年,俄国已建立起240多个近代工场,工场内部已有了较细的分工,而且有不少工场的规模是比较大的,该情况的出现主要反映了
- A. 彼得一世改革开启了俄国近代化进程
B. 彼得一世改革使俄国军事实力大增
C. 农奴制改革是俄国历史重要的转折点
D. 农奴制改革促进了资本主义迅速发展

25. 在南北战争前,美国人称自己首先是某个“state”的人,然后才是“American”;战后,则首先称自己是“American”,然后才说来自某个“state”。这说明南北战争
- A. 增强了美国国家认同感
B. 加速了美国经济的发展
C. 实现了美国真正的独立
D. 废除了黑人奴隶制
26. 改革能否成功影响一国命运,日本在7世纪中叶和19世纪中叶分别进行的两场改革都促进了国家发展。这两场改革的相同点是
- A. 削弱幕府统治,加强天皇权力
B. 学习他国经验加速社会转型
C. 保留封建残余和军国主义势力
D. 立足国情发展资本主义经济
27. 下表是“1874—1890年日、英、美、法、德五国工业发展速度对比”,对此解读准确的是



- A. 美国已经取代英国成为新的世界霸主
B. 美德经济发展快速后来居上超越英法
C. 英法两国在第二次工业革命中发展迅猛
D. 明治维新促使日本资本主义快速发展
28. “在这里,文明创造了自己的奇迹,而文明人则几乎又变成野蛮人……从这条污浊的排水管中,排出人类工业的最大一股潮流去滋润全世界;从这条肮脏的下水道中,流淌出纯金。在这里,人类的发展成就既是最完备的,又是最野蛮的。”材料意为
- A. 工业化使人回归野蛮
B. 工业化缩小了贫富差距
C. 工业化既有利又有弊
D. 工业化加剧了阶级矛盾
29. 王维维在学习世界历史时,遇到了如下思维导图。你认为导图中①、②、③空白处填写正确的是



- A. ①文艺复兴运动②君主立宪③信息
B. ①文艺复兴运动②民主共和③电气
C. ①文艺复兴运动②民主共和③信息
D. ①文艺复兴运动②君主立宪③电气
30. “19世纪末,当人们开始换种眼光看待世界时,科学解释以雄辩的事实大声质问《圣经》的真实性,上帝创世论更多地成了故事般的讲述。”出现上述现象是因为
- A. 爱因斯坦提出了相对论
B. 达尔文提出了生物进化论
C. 欧洲社会相信神创论
D. 欧洲社会坚持物种不变论
31. 文化是人类在原始自然界基础上所创造的一切,是人民的精神家园,阅读材料,回答问题 (13分)

材料一:



(1)材料一所示雕塑的名称是? 请为其作一个简单的介绍。(3分)

材料二:罗马共和国时期产生的法律统称为公民法。它是专门适用于罗马公民的法律,也是早期罗马法的主要内容。随着商品经济的发展和外来人口的增多,各种新的社会矛盾日益凸显。于是共和国后期形成了适用于罗马公民与外来人以及外来人与外来人之间关系的万民法。

——百度百科

(2)罗马共和国时期的公民法是?请举一例(1分)根据材料结合所学知识分析,影响罗马法发展变化的因素有哪些?(3分)

材料三:古希腊和古罗马这两大文明是西方文明的摇篮,是世界文化史上两座永恒的丰碑,是西方人所津津乐道的光辉时代。勤劳的古希腊和罗马人民用他们的智慧给我们创造了一个个令人叹为观止的杰作,留给我们一个无论是文明史还是文化史上难以超越的高度。

——肖远旭《古希腊罗马文化对世界的影响》

(3)结合相关史实,说明“古希腊古罗马文明是西方文明之源”。(6分)

32. 人类学家马歇尔·萨林斯就曾说过,在所有味觉中,人类对甜味最敏感喜欢,需求量最大,其对历史的影响也就格外微妙。阅读材料,回答问题。(14分)

材料一:“直至15世纪前,欧洲糖的产量偏低,另一方面,食糖代表着‘享乐’、‘糜烂’,在欧洲仍牵起不少道德争议……”。

材料二:“当英国工人喝了第一杯加糖的红茶,其历史意义甚至足以和发明蒸汽机相提并论,因为喝茶不但改变了饮食习惯、消费方式、工作意义,更改变了生产、贸易和消费的关系,改变了整个社会和经济的基础”。

——李军、王秀清主编《历史视角中的“三农”》

材料三:“随着糖在各种食品中的应用和人们对糖的过量食用……肥胖症、高血压、糖尿病等越来越威胁到人们的健康和正常生活……人们迫切的需要一种既能满足自己对甜味的爱好,又不会危害健康的新型甜味剂。在这种情况下,功能糖应运而生”。

——摘自“凤凰网”杨海军文章

(1)根据材料一并结合所学知识,分析15世纪前的欧洲“食糖代表着‘享乐’、‘糜烂’”原因?(2分)

(2)从“食糖代表着‘享乐’、‘糜烂’”到英国工人“红茶加糖”,这种习俗转变的原因是什么?请从政治、经济、思想等方面说明。(6分)

(3)材料二中作者认为英国工人喝加糖红茶的习俗“其历史意义甚至足以和发明蒸汽机相提并论”,你同意这一观点吗?请简要说明理由。(4分)

(4)材料三中“功能糖应运而生”的社会原因有哪些?(2分)

33. 纵观世界风云,一场场变革顺应时代的呼唤,构成了一曲曲历史的交响,推动着社会发展与进步。阅读下列材料,回答问题:(13分)

【思想先声】

大抵在初期,它(文艺复兴)的倾向是偏于复古的;后来到了盛极将衰的时期,却又见老树根上,到处产生新芽儿了。

——陈衡哲《西洋史》

正如国王路易十六所说:是伏尔泰灭亡了法国。当然,灭亡的不是法国,只是专制制度。

——王斯德主编,李宏图等著《世界通史》

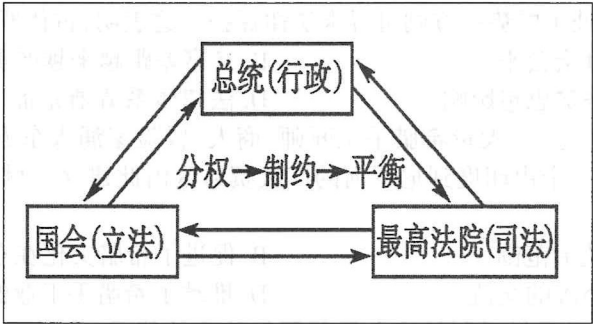


时代的两颗巨星

(1)由所学知识分别指出材料中“老树根”和“新芽儿”的具体含义。伏尔泰是什么运动的代表人物?(3分)

(2)图中所示的“两颗巨星”共同创立了哪一科学理论?在此理论影响下,19世纪六七十年代的国际工人运动蓬勃发展,试举一例说明之。(2分)

【制度先河】



(3)上图所示出自于哪一文件?请简要评价一下该文件。(4分)

【科技先锋】

在19世纪后期,落后于英国和法国技术的美国技术,突然获得大发展,并以电灯、打字机、电话以及三样革命性进展——电、汽车和飞机——改变了世界。

——《美国世纪》

(4)材料中的“汽车和飞机”的发动机是什么?这次“革命性进展”对国际格局产生了什么样的影响?(4分)